



Baraem alain Private School / Baniyas

للفصل الدراسي الثاني 2019 / 2020 م

الشعبة /.....

اسم الطالب :

مذكرة مراجعة للصف السادس

أولاً قارة آسيا :

السؤال الأول :

المساحة	
دوائر العرض	
عدد دوائر العرض التي تمتد عليها	

التضاريس في قارة آسيا :

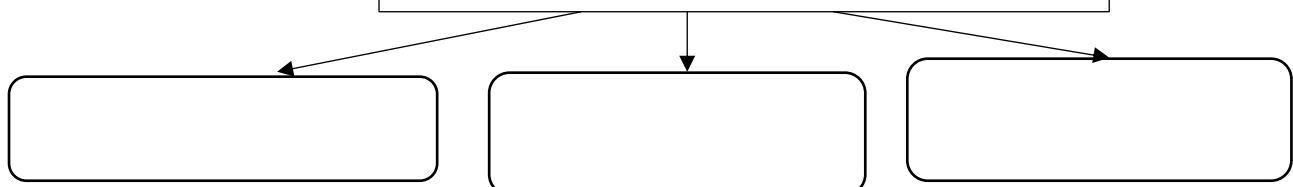
الجزال	السهول الساحلية	الصحارى	الهضاب
هيمالايا			الدكن
	البحر المتوسط		
		صحراء ثار	

السؤال الثاني : قارن بين اقليم البحر المتوسط والاقليم الإستوائي:

المناخ	البحر المتوسط	الإستوائي
موسم الأمطار		
دول يسود فيها		
نوع النبات الطبيعي		

السؤال الثالث : أكمل المخطط الذهني : ماالعوامل المؤثرة في مناخ والنبات الطبيعي قارة آسيا؟

العوامل المؤثرة في المناخ والنبات الطبيعي



السؤال الرابع : ما أهم خصائص قارة آسيا ؟.

- 1 2
3 4

السؤال الخامس : فسر كل من التالي :

1/ تنوع الأقاليم المناخية والنباتية في قارة آسيا؟

أ ب/.....

2/ نمو الغابات الكثيفة في مناطق الإقليم الإستوائي ؟.

أ ب/.....

3/ ضعف التجارة بين دول قارة آسيا ؟

أ ب

السؤال السادس : استكملي الجدول

العوامل المؤثرة في توزيع السكان في قارة آسيا	
العوامل الطبيعية	العوامل البشرية

المحاصيل الزراعية في قارة آسيا	
المحاصيل	الدولة المنتجة
القمح	
المطاط الطبيعي	

أهم الصادرات والواردات في قارة آسيا	
المصادر	الواردات

السؤال السابع : اكتب المصطلح أو المفهوم أمام التعريف المناسب

شبة الجزيرة	الإقليم	آسيا	السهول الفيضية	الكثافة العامة	الكشوف الجغرافية
-------------	---------	------	----------------	----------------	------------------

م	التعريف	المفهوم أو المصطلح
1	الأرض المشمسة ذات الجو المعتدل الجميل	
2	رقعة من الأرض تتسم بخصائص معينة تميزها عن غيرها من الأقاليم	
3	احدى اشكال السطح الجغرافية تحاط بالماء من ثلاث جهات	
4	محاولات الدول الأوربية لإستكشاف مناطق جديدة رغبة في التوسع واستغلال ثرواتها الإقتصادية	
5	المجموع الكلي للسكان مقسوماً على مساحة الدولة أو القارة	
6	تكونت فعل الفيضانات الأنهار كدجلة والفرات والسند	

السؤال الثامن : أقرأ النص التالي ثم أجب :

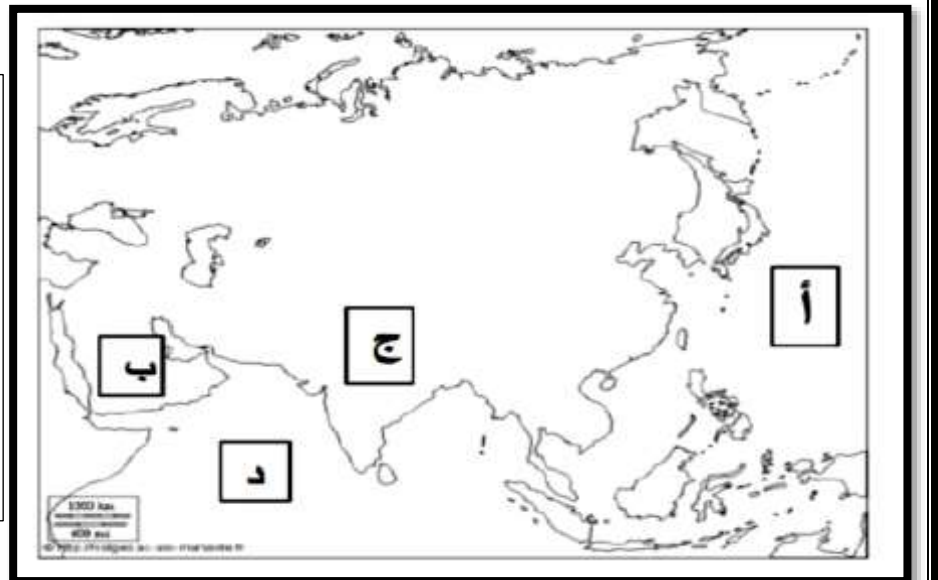
" إن القضية الفلسطينية هي قضيتنا . ومعاناة الشعب الفلسطيني هي معاناتنا "

صاحب السمو الشيخ خليفة بن زايد حفظه الله

في ضوء العبارة السابقة : وضح مظاهر دعم الإمارات للقضية الفلسطينية ؟.

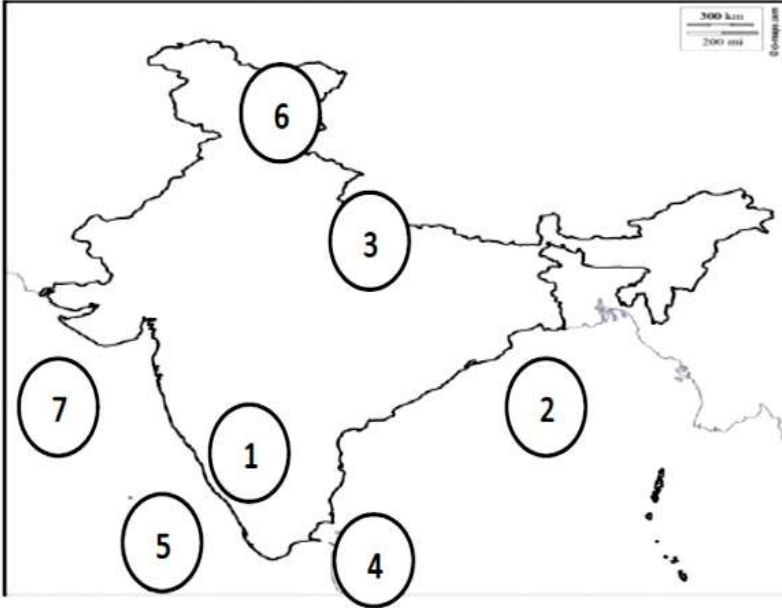
-
-
-
-

السؤال التاسع : لاحظ خريطة قارة آسيا و اكتب مدلولات الحرف



- أ- مسطح مائي
- ب- هضبة
- ج- هضبة
- د - مسطح مائي

1- أمامك خريطة آسيا حدد عليها مايلي :



- 1- هضبة الدكن
- 2- خليج البنغال
- 3- الجبال الشمالية
- 4- جزيرة سري لانكا
- 5- المحيط الهندي
- 6- جبال الهمالايا
- 7- بحر العرب

2- اختر الإجابة الصحيحة مما بين القوسين :

- 1- دولة آسيوية تقع شمال المحيط الهندي (الهند - اليمن - كينيا)
- 2- تعد الهمالايا حاجزاً طبيعياً للرياح (الموسمية - الباردة - للأعاصير)
- 3- أول زيارة للمغفور له الشيخ زايد رحمه الله للهند عام (1973 - 1974 - 1975)
- 4- من أشهر المعالم الأثرية في الهند (المتحف الوطني - تاج محل - معبد الكرنك)
- 5- خضعت الهند للإستعمار البريطاني ما يقرب من (70 - 80 - 100)
- 6- الدولة التي تحد الهند من الشمال الغربي (باكستان - السعودية - بنجلادش)
- 7- تعتمد الزراعة في الهند على (المياه الجوفية - الأمطار الموسمية - الأنهار)
- 8- تمثل الصناعة (18% - 19% - 20%) من حجم الناتج المحلي للهند
- 9- تمتد الهند بين دائرتي عرض (8 و 37 - 37 و 80 - 73 و 8)
- 10- استقلت الهند عن بريطانيا عام (1947 - 1948 - 1949)
- 11- تشمل سهول الهند الشمالية مدينتي (كلكتا و مومباي - دلهي و كارلا - كلكتا و دلهي)
- 12- يحتل الاقتصاد الهندي المركز (الثامن - التاسع - العاشر) عالمياً
- 13- نسبة سكان الهند بالنسبة للعالم (15% - 16% - 17%)

3- اذكر سبب لكل مما يلي :

- 1- سقوط الأمطار صيفاً على الهند : بسبب الرياح الجنوبية الغربية القادمة من المحيط
- 2- انتشار الزراعة في الهند : توافر مياه الأمطار و الأنهار – التربة الخصبة (البركانية)
- 3- تنوع الأنشطة الاقتصادية في الهند : اتساع المساحة – تنوع مواد الخام و الموارد الاقتصادية
- 4- الانفجار السكاني في الهند : الزواج المبكر – ارتفاع نسبة الفقر
- 5- تنوع المحاصيل الزراعية في الهند : تنوع المناخ – اتساع المساحة
- 6- تعاني الهند من انخفاض دخل الفرد : زيادة عدد السكان مقارنة بالموارد
- 7- استخدام الحيوانات في تنشيط السياحة بالهند : للجذب السياحي

4- اكمل الجدول التالي بما يناسبه:

وارادات الهند	النفط – الآلات – الأسمدة الكيماوية
صادرات الهند	المنسوجات – الأحجار الكريمة -تقنيات البرمجة – المنتجات الكيماوية
صناعات الهند	الملابس – الأواني – السيارات – السجاد -الأسمدة الكيماوية
المحاصيل الزراعية الهند	الجوت - القطن – القمح – الحبوب الغذائية

5- اكتب ما تدل العبارات التالية :

- 1-المحصول الثاني في الهند ويستخدم في صناعة الخيش و الأكياس و الحبال (الجوت).
- 2- جبال تمثل حاجزاً طبيعياً بين الهند و الصين (الهيمالايا)
- 3- تشغل معظم مساحة الهند وتتحدر من الغرب للشرق و من الجنوب للشمال (هضبة الدكن)
- 4- تقع جنوب الهيمالايا و تتميز بإستواء السطح و الإزدحام و الزراعة (السهول الوسطى الهندوستان)

6- سجل حقيقة واحدة عن كل ممايلي:

- 1-العلاقات الإماراتية الهندية :تنوع الاستثمارات – تركيز الاستثمارات في مجالات البناء و الطاقة .
- 2-تحتل الهند المركز الثاني عالمياً من حيث عدد السكان :يمثل سكانها 17% من سكان العالم
- 3- الهند واحدة من أسرع الاقتصادات العالمية نمواً :تحتل المركز العاشر عالمياً

7- اختر المفاهيم الصحيحة مما بين القوسين و ضعها في المكان المناسب :

(الشرق الأقصى - الشرق الأوسط - الناتج المحلي - دخل الفرد - الأنشطة البشرية - الانفجار السكاني)

المفهوم	التعريف
الدخل الفردي	1-إجمالي ما يحصل عليه الفرد من عمله
الشرق الأقصى	2-يطلق على دول شرق آسيا
الأنشطة البشرية	3- كل ما يقوم به الفرد لتطوير ظروف حياته
الناتج المحلي	4-مؤشر اقتصادي لإجمالي السلع و الخدمات للدولة
الانفجار السكاني	5- زيادة كبيرة في السكان مقارنة بالموارد الاقتصادية
الشرق الأوسط	6- منطقة جغرافية تشمل دول غرب آسيا و مصر

8- ضع دائرة حول الإجابة الغير منسجمة مع ذكر السبب :

1-الهميليا - الدكن - الجبال الشمالية - الجوت :

الكلمة: **الجوت** السبب: **أشهر المحاصيل الزراعية في الهند**

2- النفط الخام - المنسوجات - الآلات - الأسمدة :

الكلمة: **النفط** السبب: **واردات الهند**

3- الماعز - الأرز - القمح - الذرة:

الكلمة: **الماعز** السبب: **الثروة الحيوانية في الهند**

4- الماعز - الأبقار - النمر - الإبل :

الكلمة: **النمر** السبب: **ليس من الثروة الحيوانية في الهند**

5- النفط - الغاز الطبيعي - الفحم - الاستثمار :

الكلمة: **الاستثمار** السبب: **مجالات التطور الاقتصادي في الهند**