

السؤال 1: حوّل الإجابة الصحيحة:

(1) معظم الأرض مغطاة ب :

(أ) اليابسة (ب) الماء (ج) الأشجار

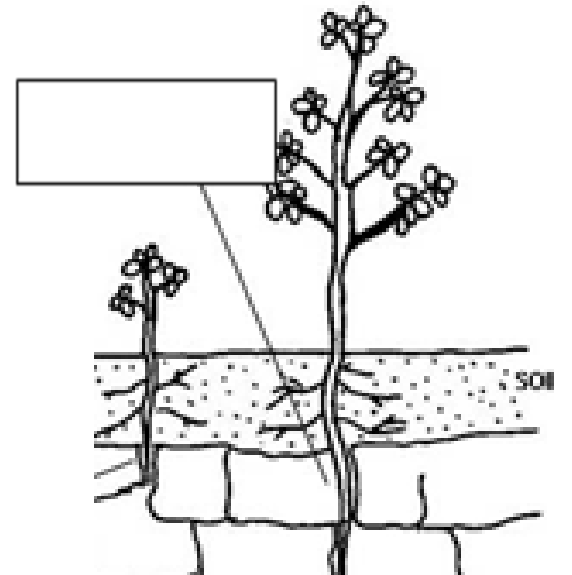
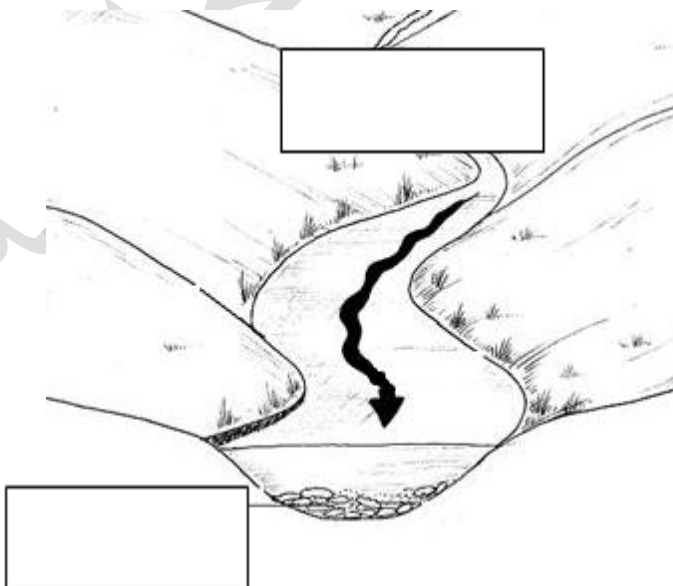
(2) أرض مرتفعة تحيط بها المياه من كل الاتجاهات :

(أ) الجبل (ب) الوادي (ج) الجزيرة

(3) تشكل اليابسة ما نسبته _____ من سطح الأرض:

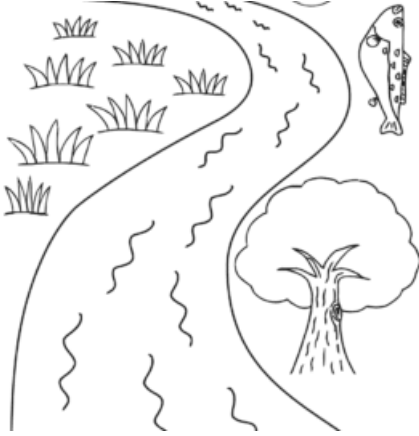
(أ) $\frac{3}{4}$ (ب) $\frac{1}{4}$ (ج) $\frac{1}{2}$

السؤال 2: اكتب المفردة في المكان الصحيح: (التجوية - التعرية - الترسيب)




السؤال 3: صل الكلمة بالصورة الصحيحة:

ماء عذب



ماء مالح



بالذّين نحيا ... بالعلم نزهر

