



نماذج تدريبية

منتصف الفصل الدراسي الأول

مادة : العلوم العامة

..... : اسم الطالب

..... : الفصل

السؤال الأول :

اختر الإجابة الصحيحة بوضع علامة (X) داخل المربع:-

1

ما الحاجة التي يحتاجها الإنسان ليعيش في الصورة ؟



A يتنفس

B يتغذى

C يتحرك

2

الصورة التي أمامك توضح خاصية من خصائص الكائنات الحية ما هي ؟




A الحركة

B النمو

C التنفس

3

أي من الآتي من الأشياء غير الحية ؟



A



B



C

4

ما المرحلة التي توضحها الصورة التالية من دورة حياة الإنسان ؟



A طفل

B مرأهق

C شاب

5

أي من الكائنات الحية ينمو الجنين داخل البيضة ؟

A قطة

B سمكة

C بقرة

6

ما المرحلة التي تختلف فيها دورة حياة السمكة ودورة حياة القطة ؟

A البالغ

B الصغير


C البيضة

السؤال الثاني :

صل ما في العمود (1) بما يناسبه من العمود (2).

العمود (2)

العمود (1)



1- ما الصورة التي توضح أن الكائن الحي يتحرك.

2- ما الصورة التي توضح نبات بالغ

3- الكائن الحي الذي تنمو صغاره داخل أجسام أمهاتها قبل أن تولد .

السؤال الثالث :

ضع علامة (√) أمام العبارة الصحيحة و علامة (x) أمام العبارة الخطأ.

- 1- الجمل من الكائنات الحية التي تتكاثر عن طريق الولادة . ()
- 2- الطائرة من الأشياء غير الحية . ()
- 3- تنمو صغار الدجاجة داخل أجسام أمهاتها قبل أن تولد . ()

السؤال الرابع :

أجب عن الأسئلة التالية:

أ. جميع الكائنات الحية تتكاثر اكتب اسم كائن حي يتكاثر عن طريق البيض.

ب. بعض الكائنات حية و بعض الكائنات غير حية اكتب مثالا لكائن غير حي .

ج. دورة حياة بعض الكائنات الحية بيضة ,حيوان صغير , حيوان بالغ اكتب اسم أحد هذه الكائنات .

نموذج (2)

السؤال الأول : اختر الإجابة الصحيحة بوضع علامة (x) داخل المربع :-

ما الحاجة التي يحتاجها الإنسان ليعيش في الصورة ؟

1



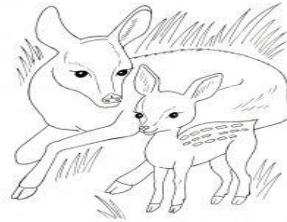
A يتنفس

B يتغذى

C يتحرك

الصورة التي أمامك توضح خاصية من خصائص الكائنات الحية ما هي ؟

2




A الحركة

B التكاثر

C التنفس

أي من الآتي من الأشياء غير الحية ؟

3



A



B



صفحة من 6 9

C

4

ما المرحلة التي توضحها الصورة التالية من دورة حياة الإنسان ؟



A طفل

B مرأهق

C شاب

5

أي من الكائنات الحية ينمو الجنين داخل أجسام أمهاتها قبل أن تولد ؟

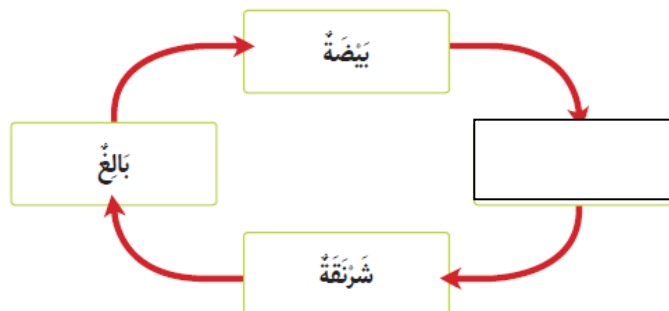
A الصقر.

B الفيل .

C البطة .

6

ما المرحلة الناقصة من دورة حياة الفراشة ؟



A البالغ

B اليرقة

C البيضة

السؤال الثاني :

صل ما في العمود (1) بما يناسبه من العمود (2).


العمود (1)

1- ما الصورة التي توضح أن الكائن الحي ينمو.

2- ما الصورة التي توضح شتلة .

3- الكائن الحي الذي تنمو صغاره داخل البيضة

العمود (2)



السؤال الثالث :

7

ضع علامة (✓) أمام العبارة الصحيحة و علامة (x) أمام العبارة الخطأ.

1- الحصان من الكائنات الحية التي تتكاثر عن طريق الولادة . ()

2- السيارة من الأشياء غير الحية . ()

3- تنمو صغار الحمامة في أول مراحل داخل أجسام أمهاتها . ()

أجب عن الأسئلة التالية:

أ. جميع الكائنات الحية تتكاثر اكتب اسم كائن حي يتكاثر عن طريق البيض.

ب. بعض الكائنات حية و بعض الكائنات غير حية اكتب مثالا لكائن غير حي .

ج. دورة حياة بعض الكائنات الحية حيوان حديث الولادة ,حيوان صغير , حيوان بالغ اكتب اسم أحد هذه الكائنات .
