

# علوم : أول

## نهاية ف 1



41-40 هـ & 20-19 م

خطط رفع كفاءة الطلاب

اختر الإجابة الصحيحة بوضع علامة ( X ) داخل المربع :-

1

ما الحاجة التي يحتاجها الإنسان ليعيش في الصورة ؟



A يتغذى

B يتحرك

C يتنفس

2

الصورة التي أمامك توضح خاصية من خصائص الكائنات الحية ما هي ؟



A الحركة

B التكاثر

C التنفس

3

أي من الآتي من الأشياء غير الحية ؟



A



B



C

4

ما المرحلة التي توضحها الصورة التالية من دورة حياة الإنسان ؟



A طفل حديث الولادة

B مرأهق

C شاب

5

أي من الكائنات الحية ينمو الجنين داخل البيضة ؟

A فيل.

B حمامة.

C المها .

6

ما اسم المرحلة التي توضحها الصورة التالية من دورة حياة الفراشة ؟



A شرنقة

B حيوان بالغ

C يرقة

## نموذج ( 1 )

ما نوع الحركة التي يتحركها الولد ؟

7



يمشي

A

يجري


B

يقفز

C

أي من الأشياء الآتية يتحرك بمساعدة المحرك ؟

8



A



B



C

ما نوع الحركة على المسار المقابل ؟

9



في مسار مستقيم

A

في مسار منحنى

B

في مسار متعرج

C

نموذج ( 1 )

أي من الأشياء الآتية مصنوع من الورق ؟

10



A



B



C

أي من الأشياء الآتية ملمسه خشن ؟

11



A



B






C

صل ما في العمود (1) بما يناسبه من العمود (2).

العمود (2)

العمود (1)

-



1- ما الصورة التي توضح أن الكائن الحي يتغذى.

2- الصورة التي توضح أن من خصائص الكائنات الحية التكاثر .

3- ما الصورة التي توضح مرحلة الشتلة في دورة حياة النبات.

4- الكائن الحي الذي تنمو صغاره داخل أجسام أمهاتها قبل أن تولد .

(ب)

صل ما في العمود (1) بما يناسبه من العمود (2).

العمود (2)

العمود (1)

-



1- الصورة التي توضح الحركة عن طريق القفز.

2- من الأشياء التي تتحرك عن طريق الدحرجة

3- من الأشياء التي تصنع من الخشب.

4- من الأشياء التي ملمسها لين .

ضع علامة ( √ ) أمام العبارة الصحيحة و علامة ( x ) أمام العبارة الخطأ.

- 1- الدجاجة من الكائنات الحية التي تتكاثر عن طريق البيض . ( )
- 2- الكرسي من الأشياء غير الحية . ( )
- 3- دورة حياة الضب :بيضة-ضب صغير – ضب بالغ . ( )
- 4- البادرة مرحلة من مراحل دورة حياة الفراشة . ( )
- 5- يتحرك الصقر و السمك بطريقة متشابهة . ( )
- 6- السفينة تحتاج إلى محرك كي تتحرك . ( )
- 7- يستخدم الزجاج في صناعة لعب الأطفال . ( )
- 8- يصنع خرطوم المياه من المعدن . ( )



أجب عن الأسئلة التالية:

أ. جميع الكائنات الحية تتكاثر اكتب اسم كائن حي يتكاثر عن طريق البيض .

---

ب. اكتب اسم أحد الأشياء التي لا تتحرك من تلقاء نفسها.

---

ج. بعض الأشياء ملمسها و قاسي و بعضها ملمسها لين اكتب اسم أحد المواد التي ملمسها قاسي .

---

اختر الإجابة الصحيحة بوضع علامة (X) داخل المربع:-

1

ما الحاجة التي يحتاجها الإنسان ليعيش في الصورة ؟



A يتنفس

B يتحرك

C يتنفس

2

الصورة التي أمامك توضح خاصية من خصائص الكائنات الحية ما هي ؟



A الحركة

B النمو


C التكاثر

3

أي من الآتي من الأشياء غير الحية ؟



A



B



C

نموذج (2)

4

ما المرحلة التي توضحها الصورة التالية من دورة حياة الإنسان ؟



A طفل

B مرأهق

C شاب

5

أي من الكائنات الحية ينمو الجنين داخل البيضة ؟

A الحصان.

B البطة

C النمر .

6

ما اسم المرحلة التي توضحها الصورة التالية من دورة حياة الفراشة ؟



A شرنقة

B حيوان بالغ

C يرقة

## نموذج ( 2 )

ما نوع الحركة التي يتحركها الشاب في هذه ؟

7




A يجري

B يمشي

C يقفز

أي من الأشياء الآتية يتحرك بمساعدة المحرك ؟

8



A



B



C

ما نوع المسار الذي يتحرك فيه القطار على هذا الطريق ؟

9



A في مسار مستقيم

B في مسار متعرج

C في مسار منحنى

نموذج (2)

أي من الأشياء الآتية مصنوع من المعدن ؟

10



A



B



C

أي من الأشياء الآتية ملمسه قاس ؟

11



A



B



C

صل ما في العمود (1) بما يناسبه من العمود (2).

العمود (2)

العمود (1)

-



1- ما الصورة التي توضح أن الكائن الحي يتحرك.

2- الصورة التي توضح أن من خصائص الكائنات الحية التكاثر .

3- ما الصورة التي توضح مرحلة البذرة في دورة حياة النبات.

4- الكائن الحي الذي تنمو صغاره داخل أجسام أمهاتها قبل أن تولد .

(ب)

صل ما في العمود (1) بما يناسبه من العمود (2).

العمود (2)

العمود (1)

-



1- الصورة التي توضح الحركة للأمام.

2- من الأشياء التي تحتاج مساعدة كي تتحرك.

3- من الأشياء التي تصنع من الطين.

4- من الأشياء التي ملمسها خشن .

السؤال الثالث :

ضع علامة (√) أمام العبارة الصحيحة و علامة (x) أمام العبارة الخطأ.

- 1- الفيل من الكائنات الحية التي تتكاثر عن طريق الولادة . ( )
- 2- الكرة من الأشياء غير الحية . ( )
- 3- دورة حياة السمكة :بيضة-سمكة صغير – سمكة بالغة . ( )
- 4- اليرقة مرحلة من مراحل دورة حياة النبات . ( )
- 5- الصقر من الأشياء التي تتحرك من تلقاء نفسها . ( )
- 6- المنطاد لا يحتاج إلى محرك كي يتحرك . ( )
- 7- حاسة اللمس تساعدني في التمييز بين الخشن و الناعم . ( )
- 8- تصنع القفازات من مادة مرنة مثل الخشب . ( )



السؤال الرابع :

أجب عن الأسئلة التالية:

أ. جميع الكائنات الحية تتكاثر اكتب اسم كائن حي يتكاثر عن طريق البيض .

---

ب. اكتب اسم أحد الأشياء التي لا تتحرك من تلقاء نفسها .

---

ج. بعض الأشياء ملمسها وقاسي و بعضها ملمسها لين اكتب اسم أحد المواد التي ملمسها قاسي .

---