


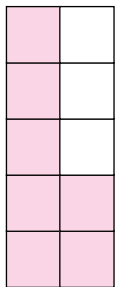
العددان  
7,6


أعد العددين 7,6  
وأسميها، وأميزها.





كم عصفوراً في السماء ؟  
ألون المربعات بحسب  
عدد العصافير.




ألون المربعات بحسب عدد 



أمثل عدد العصافير مستعملاً 



أعد الأشياء في الصورة.

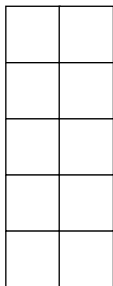



أتعرف الأشياء في الصورة.

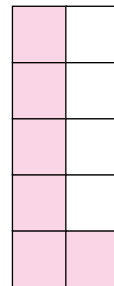

ألون المربعات بحسب عدد العصافير في كل صورة


أتحقق من فهمي

2




1






4


3


أرسم أشكالاً بحسب عدد المربعات الملونة.


6

5


8

7


أرسم أشكالاً بحسب عدد المربعات الملونة.

10

9




○ ○ ○ ○ ○ ○

11



12

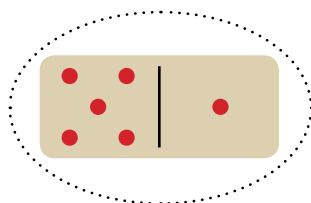
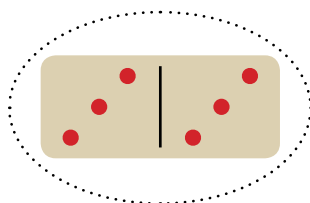


13



14

15



16



17



18

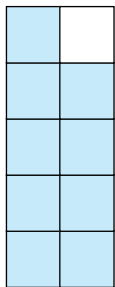


العددان  
9,8


أعد العددين 9,8  
وأسميها، وأميزها.

كم لعبة في الخزانة ؟  
ألون المربعات بحسب  
عدد الألعاب.




ألون المربعات بحسب عدد



أمثل عدد الدببة مستعملًا ●




أعد الدببة في الصورة.



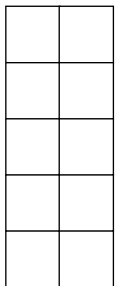
اتعرف الأشياء في الصورة.

ألون المربعات بحسب عدد الدببة في كل صورة

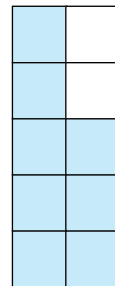
أتحقق من فهمي



2

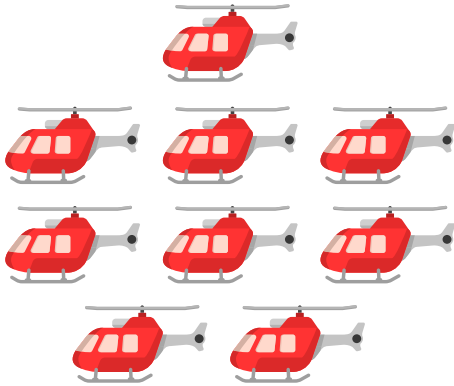


1






4





3





أرسم أشكالاً بحسب عدد المربعات الملونة.


6


5




8

7

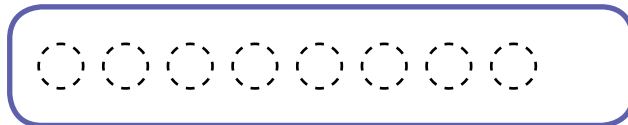

أرسم أشكالاً بحسب عدد المربعات الملونة.

10

9



11




12



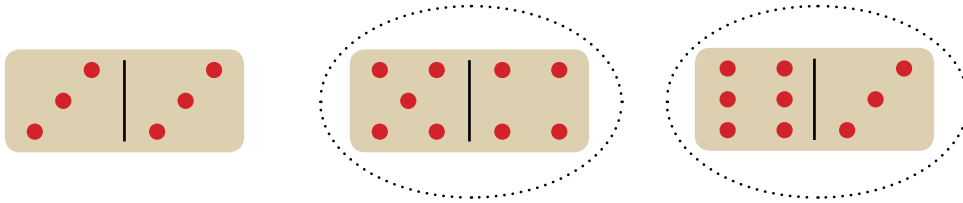
13



14



15



16



17



18




## العدد 10


أعد العدد 10  
وأسميه، وأميزه.

كم قلاماً في العلبة ؟  
ألون المربعات بحسب  
عدد الأقلام.

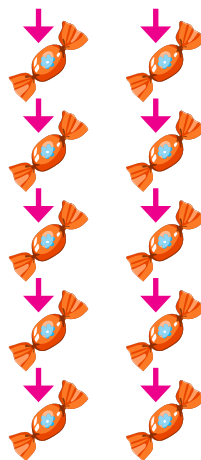



ألون المربعات بحسب عدد



أمثل عدد الحلوى مستعملاً ●



أعد الحلوى في الصورة.

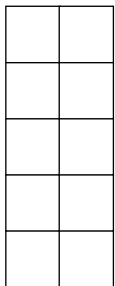



اتعرف الأشياء في الصورة.

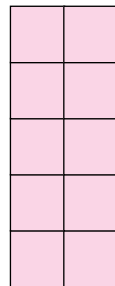

ألون المربعات بحسب عدد الحلوى في كل صورة

أتحقق من فهمي

2



1




3




4




5




6

أرسم أشكالاً بحسب عدد المربعات الملونة.
