

علوم
الصف الثاني

اختاري الأجوبة الصحيحة ما بين القوسين:-

1- أجزاء من النبات تثبت النبات في التربة وتمتص الماء والأملاح هي.....
أ- الأوراق ب- الساق ج- الجذور
2- أي مما يأتي توفره الشمس للنباتات.....
أ- الهواء ب- الماء ج- الضوء
3- طبقة تغطي سطح الارض, وتوفر المكان الذي تعيش فيه النباتات.....
أ- الزهرة ب- التربة ج- الساق
4- أي الأجزاء التالية يصنع الغذاء للنبات.....
أ- الجذور ب- الساق ج- الأوراق
5- الزهرة جزء من النبات تتحول إلى.....
أ- ثمرة ب- بذرة ج- زهرة
6- كائنات حية لها جذور وسيقان وأوراق وأزهار.....
أ- الحيوانات ب- النباتات ج- الصخور
7- جزء من النبات يكون البذور والثمار وله ألوان مختلفة هو.....
أ- البذرة ب- الساق ج- الزهرة
8- جزء من النبات وظيفته حمل الاوراق ونقل الماء والأملاح.....
أ- الساق ب- البذرة ج- الأوراق
9- أي الأجزاء الأتية تبدأ منها مراحل حياة النبات؟.....
أ- الأوراق ب- البذرة ج- الثمرة

<u>10-</u> جزء من النبات لونها أخضر تقوم بصنع الغذاء في النبات.....
أ- الجذور ب- البذرة ج- الأوراق
<u>11-</u> أي أجزاء النبات يبدأ بالظهور أولاً عند زراعة البذور.....
أ- الأوراق ب- الجذور ج- الساق
<u>12-</u> تحتاج النبات كي تعيش وتنمو إلى.....
أ- ماء وهواء ب- ماء وتربة ج- ماء وهواء وتربة وأملاح وضوء الشمس
<u>13-</u> جزء من النبات الذي يصير نباتاً جديداً.....
أ- الساق ب- الجذور ج- البذور
<u>14-</u> أي أجزاء النبات يكون البذور ويمتاز بألوانه المختلفة.....
أ- البذرة ب- الأوراق ج- الزهرة
<u>15-</u> تحصل النباتات على الهواء عن طريق.....
أ- الأوراق ب- الجذور ج- الساق
<u>16-</u> أي مما يأتي يعد من وظائف الثمار؟.....
أ- تثبيت النبات في التربة ب- تحمي البذرة ج- توفر الغذاء للنبات
<u>17-</u> ماذا توفر الشمس للنباتات.....
أ- الهواء ب- الماء ج- الضوء
<u>18-</u> جزء من النبات وظيفته إنتاج الثمار.....
أ- البذرة ب- الأوراق ج- الزهرة

املا الفراغ بالكلمة المناسبة فيما يأتي:

" النباتات – الجذور – الأزهار – الساق – الأوراق – الغذاء – الهواء – الأملاح الذائبة – الأوراق "

1- جزء من النبات له ألوان مختلفة تجذب الفراشات.....

2- الجزء الذي يصنع غذاء النبات هو.....

3- جزء من النبات ينقل الماء والأملاح من الجذور إلى الأوراق.....

4- جزء من النبات يقوم بتثبيت النبات في التربة.....

5- تحصل النباتات على الهواء عن طريق.....

6- يمتص الجذور

7- يصل ضوء الشمس إلى الأوراق فتستخدمه في صنع اللازم للنبات.

8- يحصل النبات على..... عن طريق الأوراق.

9- كائنات حية لها جذور وسيقان وأوراق وأزهار.....

ضع علامة (√) أمام العبارة الصحيحة، وعلامة (x) أمام العبارة غير الصحيحة:

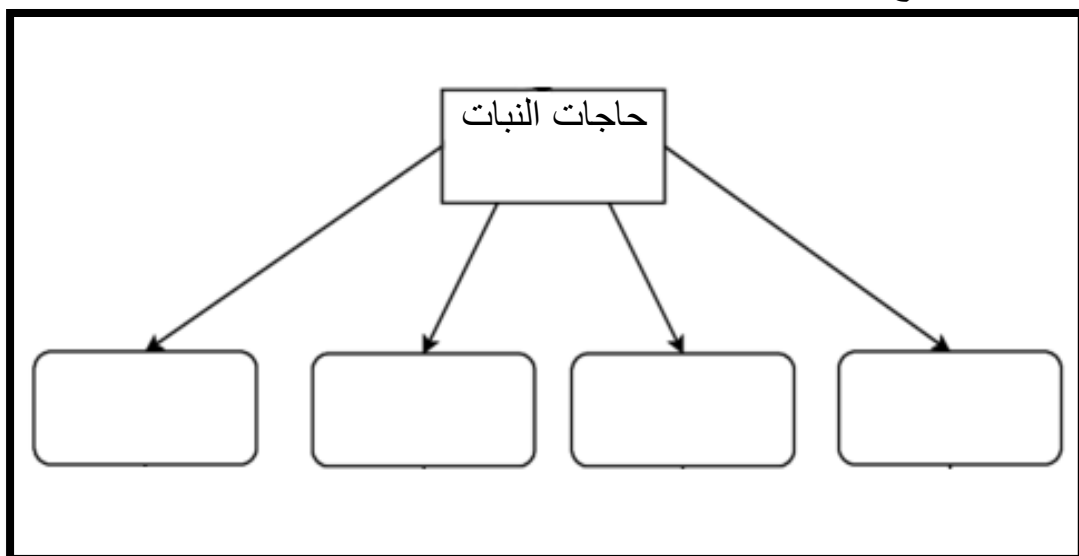
1- النباتات الزهرية كائنات حية لها أربعة أجزاء رئيسية ()
2- الجزء الذي يثبت النبات في التربة هو البذور. ()
3- الساق جزء من النبات ينقل الماء والأملاح من الجذور الى الأوراق ()
4-الجذور جزء من النبات وظيفته صنع الغذاء في النبات ()
5- البذرة جزء النبات الذي ينمو ليصير نباتا جديدا. ()
6- تصنع النباتات غذائها بنفسها. ()

أجيب عن الأسئلة التالية:

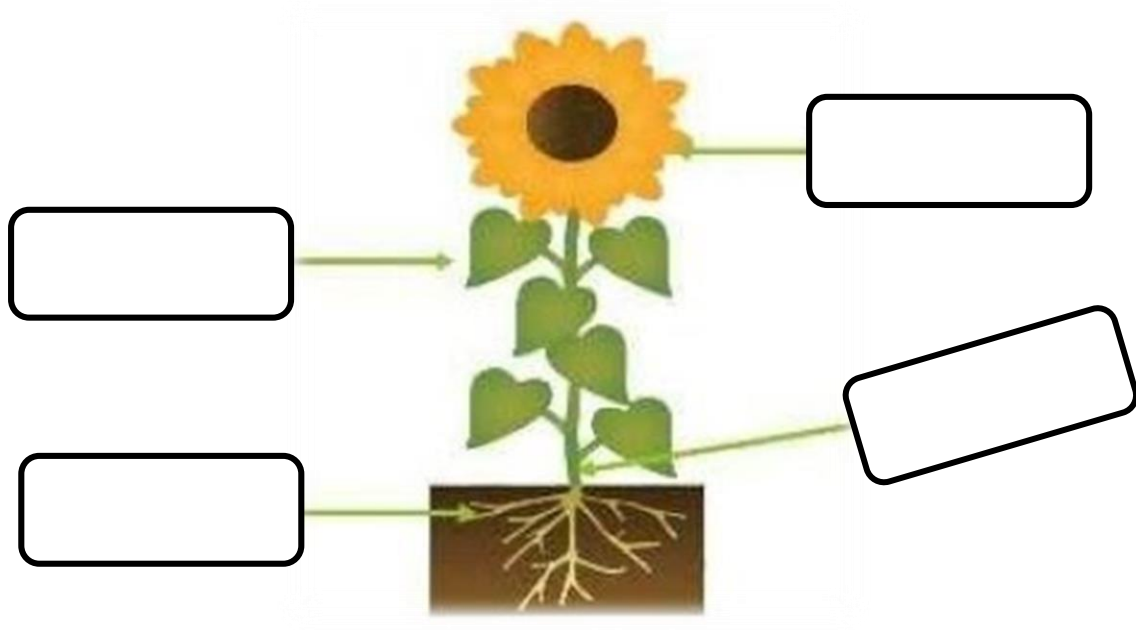
1- ماوظيفة الجذور في النبات؟ - -
2- ماأجزاء النباتات الزهرية؟
3- ماذا يحدث لو كانت النباتات من دون جذور؟

4- اذكر حاجات النباتات؟--
5- أي أجزاء من النبات الآتيه يصنع الغذاء اللازم للنبات؟
6- ما أهمية وجود البذور داخل الثمار؟
7- لماذا تبقى هذه النباتات ثابتة في الأرض؟
8- ماذا توفر الشمس للنبات؟
9- ماهو الجزء من النبات الذي ينمو ويصير نبات جديد؟
10- أين توجد البذور في النبات؟
11- أي الأجزاء النبات الذي يكون الثمار؟
12- هل يمكن للنبات أن يعيش من دون إحدى احتياجاته؟ فسر ذلك؟

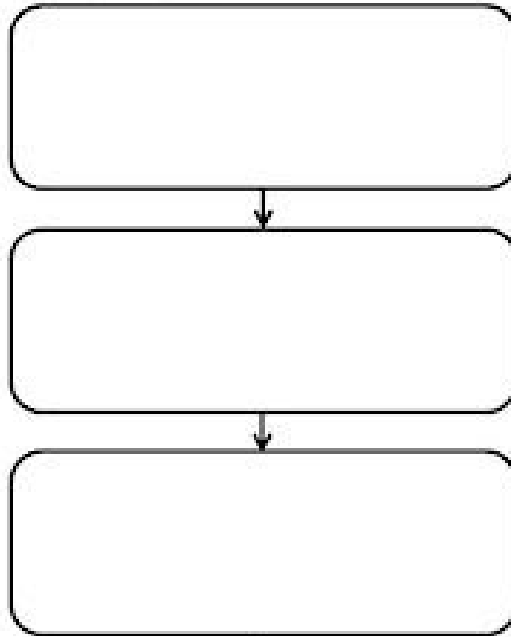
مالذي يحتاجه النبات ليصنع غذائه؟



حدد على الرسم أجزاء النبات؟



كيف تنتج البذور نباتات جديدة؟



صلى الكلمة بالصورة المناسبة:

الجذور



الساق



الأوراق



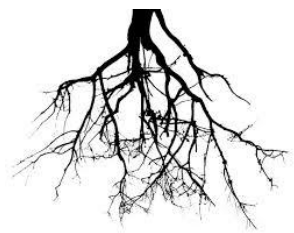
الزهرة






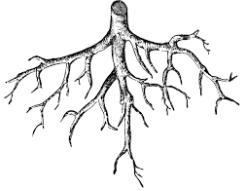
البذرة




الثمار



صلى بين العضو ووظيفته :

	تتحول إلى ثمار بداخلها بذور.
	لونها لأخضر ووظيفته صنع الغذاء للنبات.
	يثبت النبات في التربة ويمتص الماء والأملاح.
	وظيفته حمل الأوراق ونقل الماء والأملاح من الجذور إلى الأوراق.

أرسمي شكل النبات بأجزائه المختلفة في المربع المخصص؟



ما وظيفة كل من أجزاء النبات؟

الوظيفة	جزء النبات
	الجذر
	الساق
	الورقة
	الزهرة
	البذرة

اكتبى جزء كل من النبات يقوم بوظيفة؟

الوظيفة	جزء النبات
تثبيت النبات في التربة وتمتص الماء والأملاح.
حمل الأوراق ونقل الماء والأملاح الى الأوراق.
تساعد النبات على التنفس وصنع الغذاء.
تتحول إلى ثمار بداخلها بذور.
ينبت ليصير نباتا جديدا