

مذكرة اختبار
نهاية الفصل الدراسي الأول
مادة : العلوم العامة

..... اسم الطالب :

..... الفصل :

السؤال الأول :

اختر الإجابة الصحيحة بوضع علامة (X) داخل المربع:-

1 أي من الحاجات التالية يحتاجها الإنسان ليعيش؟

A هواء

B قلم

C بالون

2 ما الحاجة الأساسية التي تظهر في الصورة و يحتاجها الحيوان ليعيش؟



A ماء

B غذاء

C هواء

3 أي من الكائنات الحية الآتية تتغذى على العشب؟

A الفهد

B الزرافة

C النمر

4

أي من الحاجات الأساسية التي يحتاجها النبات ليعيش تظهر في الصورة ؟

A الحجارة

B الورق

C الهواء

5

أي من خصائص الكائنات الحية تعبر عنها الصورة ؟



A التكاثر.

B النمو .

C الإخراج .

6

أي من الأرقام الآتية يمثل النبات الأكبر ؟



A (1)

B (3)

C (4)

7


أي من الكائنات الحية الآتية تتكاثر عن طريق البيض ؟



A




B



C

8

ما الخاصية التي تعبر عنها هذه الصورة من خصائص الكائنات الحية ؟



A النمو.

B التكاثر .

C الإخراج .

9

أي من الآتي من السلوكيات السلبية تجاه الكائنات الحية من حولنا ؟

A أقوم بقطع النباتات الصغيرة و الأزهار .

B أقوم بتقديم الطعام للحيوانات الأليفة .

C أقوم بزراعة بعض النباتات و أعتني بها .

10

أي من الآتي من الأشياء غير الحية ؟



A



B



C

11

أي من الكائنات الحية يتحرك عن طريق التسلق على الأشجار ؟



A



B



C

12

أي من الآتي الكائنات الحية الآتية تتحرك عن طريق المشي ؟

الحصان A

الكنغر B

الثعبان C

13

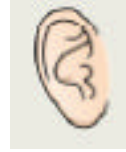
أي من الآتي الجزء الذي يساعدنا في تذوق الطعام ؟



A



B



C

14

أي من الكائنات الحية الآتية يخرج صغيرها يعتمد على نفسه في البحث عن غذائه ؟



A



B



C

15

أي من الكائنات الحية الآتية يخرج صغيرها لا يشبه أبويه ؟

A الضفدع

B العصفور

C الأرنب

السؤال الثاني : صل ما في العمود (1) بما يناسبه من العمود (2).

العمود (2)	العمود (1)
	1- الصورة التي تعبر عن حاجة الإنسان للماء.
	2- الصورة التي تعبر عن خاصية التكاثر عند الكائنات الحية.
	3- من الكائنات الحية التي يخرج صغيرها يعتمد على نفسه.
	4- الصورة التي تعبر عن الاهتمام بالكائنات الحية.
	5- الجزء الذي يساعدنا في لمس الأشياء
	6- الصورة التي تعبر بذرة لها جذور
	7- من الكائنات الحية التي تتكاثر بالولادة و يخرج صغيرها يعتمد على أبويه .

ضع علامة (√) أمام العبارة الصحيحة و علامة (x) أمام العبارة الخطأ.

- 1- من الحاجات الأساسية التي يحتاجها النبات كي يعيش الماء . ()
- 2- العصفور من الكائنات الحية التي تتكاثر بالولادة . ()
- 3- من السلوكيات الإيجابية ضرب الحيوانات و إيذائها . ()
- 4- الطاولة من الأشياء غير الحية . ()
- 5- تنمو البذرة لتصبح نباتاً صغيراً ثم يصبح لها جذور . ()

أجب عن الأسئلة التالية:

أ. الكائنات الحية (إنسان ، حيوان ، نبات) لها حاجات أساسية كي تعيش و تنمو
أذكر أحد هذه الحاجات .

ب. للكائنات الحية خصائص عدة تميزها من هذه الخصائص الحركة اكتب اسم أحد الكائنات الحية التي
تتحرك عن طريق الزحف .

ج- الكائنات الحية تتعرف الأشياء بحواسها اكتب اسم الجزء الذي يساعدنا في شم الروائح .

نموذج اختبار (2)

السؤال الأول : اختر الإجابة الصحيحة بوضع علامة (X) داخل المربع:-

1 أي من الحاجات التالية يحتاجها الإنسان ليعيش ؟

A طاولة

B غذاء

C سيارة

2 ما الحاجة الأساسية التي تظهر في الصورة و يحتاجها الحيوان ليعيش ؟



A ماء

B غذاء

C هواء

3 أي من الكائنات الحية الآتية تتغذى على اللحم ؟

A الغزال

B الحصان

C الفهد

4

أي من الآتي من الحاجات الأساسية التي يحتاجها النبات ليعيش؟

A الماء

B الورق

C الرمال

5

أي من خصائص الكائنات الحية تعبر عنها الصورة؟

A التكاثر.

B النمو .

C الإخراج .




6

أي من الصور الآتية يعبر عن البذرة؟



A



B



C

7

أي من الكائنات الحية الآتية تتكاثر عن طريق الولادة ؟



A




B



C

8

ما الخاصية من خصائص الكائنات الحية التي تدل عليها الصورة ؟



A الإخراج.

B التكاثر .

C النمو .

9

أي من الآتي من السلوكيات الصحيحة تجاه الكائنات الحية من حولنا ؟

A أقوم بقطع النباتات و الأزهار .

B أقوم بتقديم الطعام للحيوانات الأليفة .

C أقوم برمي القمامة في الحدائق و الشوارع .

10

أي من الآتي من الكائنات الحية ؟



A



B



C

11

أي من الكائنات الحية يتحرك عن طريق الطيران ؟



A



B



C

12

أي من الآتي الكائنات الحية الآتية تتحرك عن طريق السباحة ؟

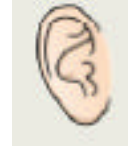
الدولفين A

الأرنب B

السنجاب C

13

أي من الآتي الجزء الذي يساعدنا في سماع الأصوات ؟



A



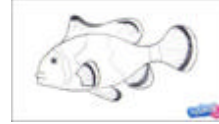
B



C

14

أي من الكائنات الحية الآتية يرعى صغاره و يقدم لها الرعاية و الطعام ؟



A



B



C

15

أي من الكائنات الحية الآتية يخرج صغيرها يعتمد على نفسه في الحصول على طعامه؟

A الدجاجة

B الحصان

C السمك

السؤال الثاني : صل ما في العمود (1) بما يناسبه من العمود (2).

العمود (2)	العمود (1)
	1- الصورة التي تعبر عن حاجة الإنسان للهواء.
	2- الصورة التي تعبر عن خاصية التكاثر عند الكائنات الحية.
	3- من الكائنات الحية التي تتكاثر عن طريق الولادة و ترعى صغارها .
	4- الصورة التي تعبر عن سلوك سلبي تجاه الكائنات الحية .
	5- الجزء الذي يساعدنا في رؤية الأشياء .
	6- الكائن الذي يخرج صغيره لا يشبه أبويه.
	7- من الكائنات الحية التي تتكاثر بالبيض و يخرج صغيرها يعتمد على أبويه .

ضع علامة (√) أمام العبارة الصحيحة و علامة (x) أمام العبارة الخطأ.

- 1- من الحاجات الأساسية التي يحتاجها الحيوان كي يعيش الغذاء . ()
- 2- الفيل من الكائنات الحية التي تتكاثر بالولادة . ()
- 3- من السلوكيات السلبية زراعة النباتات و رعايتها . ()
- 4- السيارة من الأشياء غير الحية . ()
- 5- يستطيع صغير العصفور حماية نفسه و البحث عن غذاءه . ()

أجب عن الأسئلة التالية:

أ. الكائنات الحية (إنسان ، حيوان ، نبات) لها حاجات أساسية كي تعيش و تنمو
أذكر أحد هذه الحاجات .

ب. للكائنات الحية خصائص عدة تميزها من هذه الخصائص الحركة اكتب اسم أحد الكائنات الحية التي
تتحرك عن طريق القفز .

ج- الكائنات الحية تتعرف الأشياء بحواسها اكتب اسم الجزء الذي يساعدنا في تذوق الطعام .