




تدريبات الفصل الدراسي الأول

مادة : العلوم العامة



اسم الطالب :

الفصل :

السؤال الأول : اختر الإجابة الصحيحة بوضع علامة (X) داخل المربع:-

1 أي من الحاجات التالية يحتاجها الإنسان ليعيش ؟

A كرة

B غذاء

C حجارة

2 ما الحاجة الأساسية التي تظهر في الصورة و يحتاجها الحيوان ليعيش ؟



A هواء

B غذاء

C ماء

3 أي من خصائص الكائنات الحية التي تظهر في الصورة ؟



A التكاثر

B الإخراج

C النمو

4

أي من الكائنات الحية الآتية يتكاثر عن طريق البيض ؟



A



B



C

5

أي من الآتي من السلوكيات الصحية ؟

A أقوم بزراعة بعض الأشجار والاعتناء بها.

B أقوم بإلقاء القمامة في الماء .

C أقوم بضرب الحيوانات الأليفة و إيدائها .

صل ما في العمود (1) بما يناسبه من العمود (2).

العمود (2)

العمود (1)

-



1- الصورة التي تعبر عن حاجة الإنسان للهواء.

2- الصورة التي تعبر عن خاصية النمو عند الكائنات الحية.

3- من الحيوانات التي تتكاثر عن طريق الولادة.

4- الصورة التي تعبر عن الاهتمام بالبيئة.

السؤال الثالث :

ضع علامة (√) أمام العبارة الصحيحة و علامة (x) أمام العبارة الخطأ.

- 1- من الحاجات الأساسية التي يحتاجها الإنسان كي يعيش الغذاء . ()
- 2- من خصائص الكائنات الحية الإخراج . ()
- 3- تنتج الثدييات أفراد جديدة عن طريق البيض . ()
- 4- من طرق المحافظة على البيئة قطع الأشجار و قتل الحيوانات . ()

السؤال الرابع :

أجب عن الأسئلة التالية:

- أ. الكائنات الحية لها احتياجات كي تعيش وتنمو
- ب. اذكر أحد هذه الاحتياجات .

ب. للكائنات الحية خصائص عدة تميزها

اكتب اسم الخاصية التي تعبر عن تخلص الكائن الحي من الفضلات .

(2)

السؤال الأول : اختر الإجابة الصحيحة بوضع علامة (X) داخل المربع:-

أي من الحاجات التالية يحتاجها الإنسان ليعيش ؟

1

A كرة

B حجارة

C ماء

ما الحاجة الأساسية التي تظهر في الصورة و يحتاجها الحيوان ليعيش ؟

2




A هواء

B غذاء

C ماء

أي من خصائص الكائنات الحية التي تظهر في الصورة ؟

3



A التكاثر

B الإخراج

C النمو

4

أي من الكائنات الحية الآتية يتكاثر عن طريق الولادة ؟

A



B



C



5

أي من الآتي من السلوكيات الصحيحة ؟

A

أضع الطعام و الماء للحيوانات .

B

أقوم بإلقاء القمامة في الحقائق و المتنزهات .

C



أقوم بقطع النباتات المزروعة في حديقة المدرسة .

صل ما في العمود (1) بما يناسبه من العمود (2).

العمود (2)

العمود (1)

-



1- من الكائنات الحية التي تتغذى على اللحوم.

2- الصورة التي تعبر عن خاصية التكاثر عند الكائنات الحية.

3- من الحيوانات التي تتكاثر عن طريق البيض.

4- الصورة التي تعبر عن الاهتمام بالبيئة.

السؤال الثالث :

ضع علامة (✓) أمام العبارة الصحيحة و علامة (x) أمام العبارة الخطأ.

- 1- من الحاجات الأساسية التي يحتاجها الإنسان كي يعيش الورق . ()
- 2- من خصائص الكائنات الحية النمو . ()
- 3- تنتج الطيور أفراد جديدة عن طريق الولادة . ()
- 4- من طرق المحافظة على البيئة وضع القمامة في المكان المخصص لها . ()

السؤال الرابع

أجب عن الأسئلة التالية:

أ. الكائنات الحية لها احتياجات كي تعيش وتنمو

اذكر أحد هذه الاحتياجات .

ب. للكائنات الحية خصائص عدة تميزها من هذه الخصائص التكاثر

اكتب اسم أحد الكائنات الحية التي تتكاثر عن طريق الولادة .
