

واجب منزلي

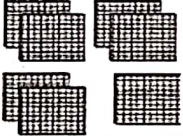
الصف الثاني / -----

المادة: الرياضيات الوحدة: (6)

إسم الطالب :


اختر الإجابة الصحيحة لكل مما يأتي:

ما قيمة 8 في العدد <u>348</u>	1
8	A
80	B
800	C

ما الصيغة القياسية للعدد الذي يمثله هذا النموذج؟ 	2
400	A
700	B
900	C

ما قيمة 6 في العدد <u>368</u>	3
6	A
60	B
600	C

ما قيمة 5 في العدد <u>945</u>	4
5	A
50	B
500	C

 <p>ما الصيغة القياسية للعدد الذي يمثله هذا النموذج؟</p>	5
330	A
313	B
300	C

ما الصيغة التحليلية للعدد 754

6

$700+50+4$

A

$500+4+70$

B

$50+7+400$

C

ما الصيغة القياسية للعدد الذي يمثله هذا النموذج؟

7

330

A

213

B

300

C

السؤال رقم (8)

اكتب العدد الذي يحتوي علي 2 مئات، و يحتوي علي 4 عشرات، ويحتوي علي 3 احاد ؟
اكتب العدد واكمل الجدول.

وضح عملك


مئات	عشرات	احاد

اكتب العدد بالصيغة القياسية:

2

السؤال رقم (9)

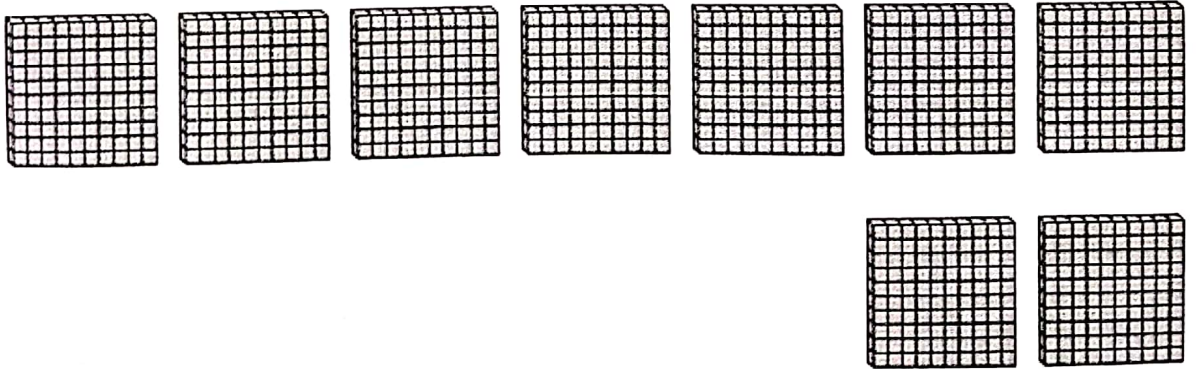
تحتوي كل علبة على 100 قلم تلوين أعد بالمنات لإيجاد المجموع ما العدد الذي يدل على مجموع أقلام التلوين الموجودة ؟



2

السؤال رقم (10)

اكمل :



يساوي _____ آحاد و _____ عَشْرَات و _____ مِئات.

4

السؤال رقم (11)

صل العدد في العمود الأول بالصيغة اللفظية المناسبة بالعمود الثاني:

خمسة وستون	46
ثلاثمائة واثنان عشر	566
ستة واربعون	312
تسعمائة وعشرة	910

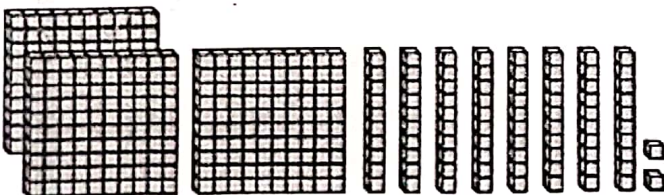
السؤال رقم (12)

اكتب الأعداد الناقصة في لوحة الأعداد:

320		322	323	324
330		332		334
	341	342	343	344

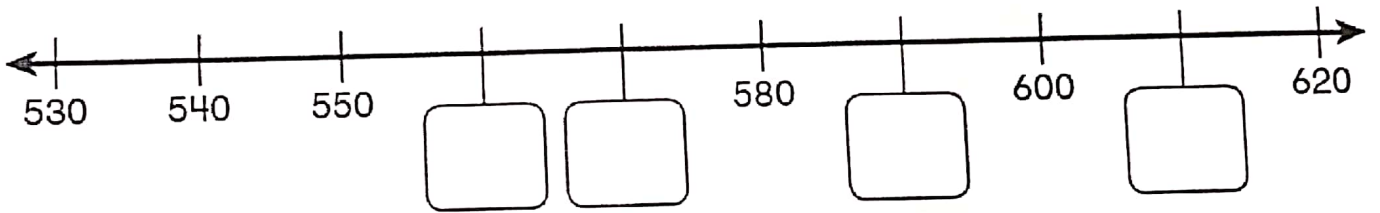
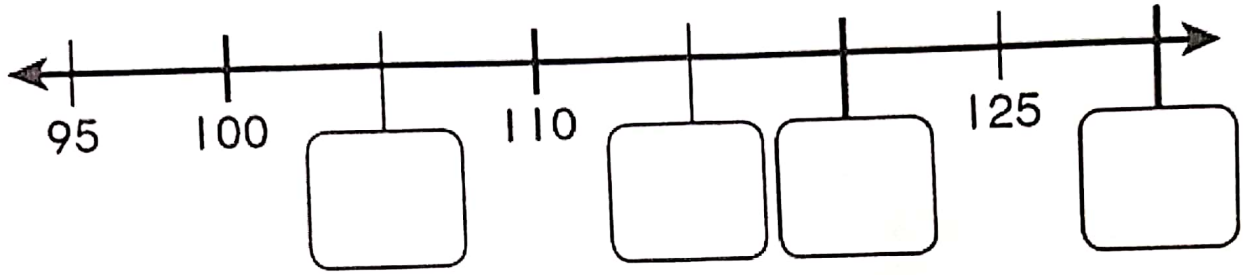
السؤال رقم (13)

اكتب العدد بالصيغة القياسية والتحليلية:



السؤال رقم (14)

اكتب الأعداد الناقصة على خط الأعداد الأعداد:



السؤال رقم (15)

قارن بوضع علامة > أو < أو =:

199 ○ 198

785 ○ 793

805 ○ 810

452 ○ 452

451 ○ 516

902 ○ 897

754 ○ 754

636 ○ 629