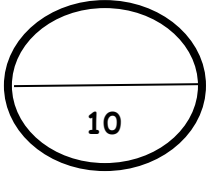


التاريخ: / /

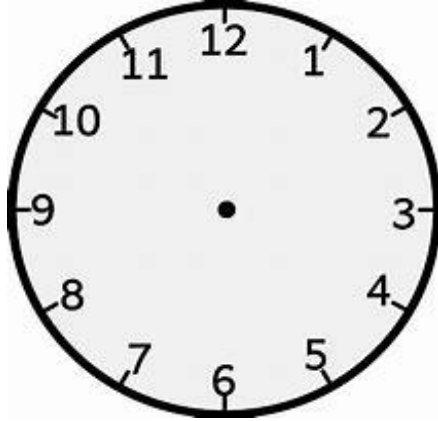
المعايير: 1.7.1-1.7.2

Math Quiz G1



السؤال الأول:

أرسم العقارب على الساعة:



الساعة 6

السؤال الثاني:

أ) أكتب الوقت الذي تشير إليه الساعة:



الساعة -----

التاريخ: / /

المعايير: 1.7.1-1.7.2

Math Quiz G1

(ب)



الساعة -----

السؤال الثالث:

(أ) أصل بين الحدث والوقت المناسب:

صباحا

1- الاستغراق في النوم

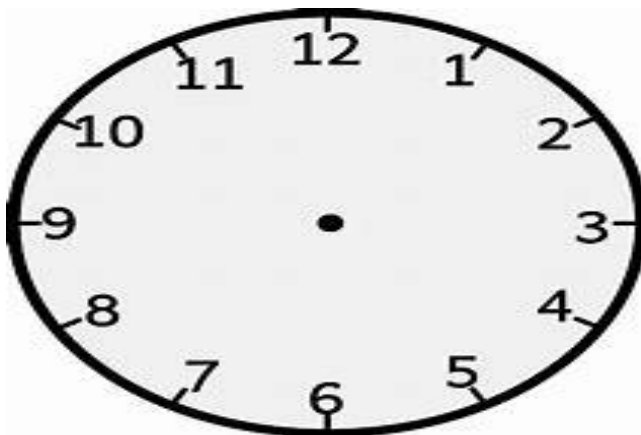
مساء

2- الذهاب للمدرسة

ليلا

3- حل الواجبات المدرسية

(ب) أكتب وقتا مناسباً لتناول العشاء. ارسم العقارب على الساعة لتمثيل الوقت.



الساعة -----



التاريخ: / /

المعايير: 1.7.1 - 1.7.2

Math Quiz G1

