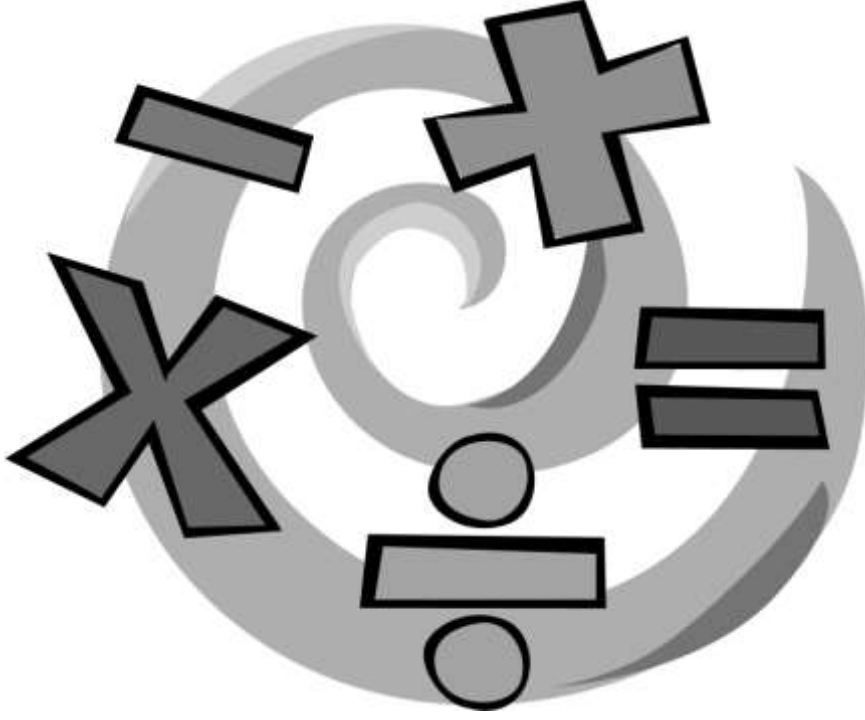


رؤيتنا : نطمح إلى إعداد الطلاب دينياً وعلمياً وقيماً من خلال برامج إسلامية وثقافية وتنموية ومهارية متنوعة ، في بيئة آمنة ومحفزة .



مدرسة الأندلس الخاصة
□ ابتدائي - بنين
تحت إشراف وزارة التعليم والتعليم العالي



تدريبات إثرائية للتقييم الثالث لمادة الرياضيات

الصف الثالث الابتدائي

العام الدراسي 2018 - 2019

الاسم:

الصف:

رسالتنا : تسعى مدرستنا إلى بناء جيل مسلم من الطلبة منتم لدينه ووطنه ومبدع يتميز بالتفوق العلمي والالتزام السلوكي من خلال منهج علمي قيمي متكامل يقدمه معلمون ذوو خبرة وكفاءة باستخدام وسائل التكنولوجيا الحديثة وبمشاركة مجتمعية فاعلة .

تعليمات اختر الإجابة الصحيحة وذلك بوضع علامة X داخل المربع المجاور للإجابة الصحيحة:

		السؤال رقم (1)
ما العدد الذي إذا ضرب في 4 يكون الناتج 32 ؟		
<input type="checkbox"/>	A	3
<input type="checkbox"/>	B	5
<input type="checkbox"/>	C	8

		السؤال رقم (2)
ما العدد الذي إذا ضرب في 7 يكون الناتج 28 ؟		
<input type="checkbox"/>	A	4
<input type="checkbox"/>	B	5
<input type="checkbox"/>	C	6

		السؤال رقم (3)
ما العدد الذي إذا ضرب في 9 يكون الناتج 54 ؟		
<input type="checkbox"/>	A	2
<input type="checkbox"/>	B	4
<input type="checkbox"/>	C	6

		السؤال رقم (4)
ما ناتج ضرب ؟		
23 x 10		
<input type="checkbox"/>	A	230
<input type="checkbox"/>	B	2300
<input type="checkbox"/>	C	23000

			السؤال رقم (5)
54 x 100			ما ناتج ضرب ؟
<input type="checkbox"/>	A	540	
<input type="checkbox"/>	B	5400	
<input type="checkbox"/>	C	54000	

			السؤال رقم (6)
68 x 1000			ما ناتج ضرب ؟
<input type="checkbox"/>	A	680	
<input type="checkbox"/>	B	6800	
<input type="checkbox"/>	C	68000	

			السؤال رقم (7)
800 ÷ 4			ما ناتج قسمة؟
<input type="checkbox"/>	A	2	
<input type="checkbox"/>	B	20	
<input type="checkbox"/>	C	200	

			السؤال رقم (8)
600 ÷ 2			ما ناتج قسمة؟
<input type="checkbox"/>	A	3	
<input type="checkbox"/>	B	30	
<input type="checkbox"/>	C	300	

		السؤال رقم (9)
ما ناتج قسمة؟		
$1200 \div 6$		
<input type="checkbox"/> A	2	
<input type="checkbox"/> B	20	
<input type="checkbox"/> C	200	

		السؤال رقم (10)
ما ناتج قسمة؟		
$1500 \div 5$		
<input type="checkbox"/> A	3	
<input type="checkbox"/> B	30	
<input type="checkbox"/> C	300	

		السؤال رقم (11)
ما ناتج قسمة؟		
$1800 \div 9$		
<input type="checkbox"/> A	2	
<input type="checkbox"/> B	20	
<input type="checkbox"/> C	200	

أجب عن الاسئلة الآتية ؟

السؤال رقم (12)

فكر ناصر في عددين من رقم واحد عند ضربهما يكون الناتج 14 .
ما مجموع هذين العددين ؟

وضّح عملك هنا

السؤال رقم (13)

فكر ناصر في عددين من رقم واحد عند ضربهما يكون الناتج 15 .
ما مجموع هذين العددين ؟

وضّح عملك هنا

السؤال رقم (14)

فكر ناصر في عددين من رقم واحد عند ضربهما يكون الناتج 21 .
ما مجموع هذين العددين ؟

وضّح عملك هنا

A. في قاعة دراسية وضع 20 كرسيًا في 4 صفوف متساوية .
أوجد عدد الكراسي في كل صف ؟

الإجابة :

B. اكتب عائلة الحقائق للأعداد 3 , 8 , 24 ؟ (حقائق الضرب والقسمة)

وضّح عملك هنا

A. في قاعة دراسية وضع 36 كرسيًا في 9 صفوف متساوية .
أوجد عدد الكراسي في كل صف ؟

الإجابة :

B. اكتب عائلة الحقائق للأعداد 4 , 6 , 24 ؟ (حقائق الضرب والقسمة)

وضّح عملك هنا

A. في قاعة دراسية وضع 28 كرسيًا في 7 صفوف متساوية .
أوجد عدد الكراسي في كل صف ؟

الإجابة :

B. اكتب عائلة الحقائق للأعداد 6 , 8 , 48 ؟ (حقائق الضرب والقسمة)

وضّح عملك هنا

استعمل الحساب الذهني لإيجاد ناتج ضرب ؟

$$5 \times 24$$

وضّح عملك هنا

استعمل الحساب الذهني لإيجاد ناتج ضرب ؟

$$6 \times 35$$

وضّح عملك هنا

استعمل الحساب الذهني لإيجاد ناتج ضرب ؟

8×62

وضّح عملك هنا

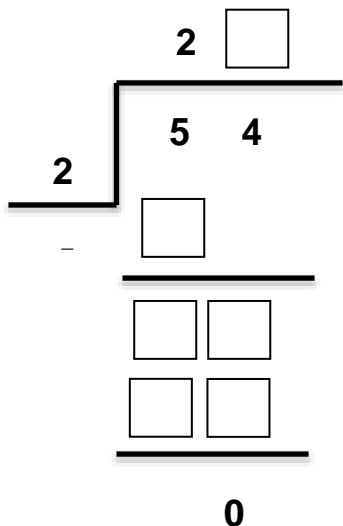
أكمل ؟

$$\begin{array}{r}
 2 \square \\
 \hline
 3 \overline{) 75} \\
 \underline{ \square} \\
 \square \square \\
 \underline{ \square \square} \\
 0
 \end{array}$$


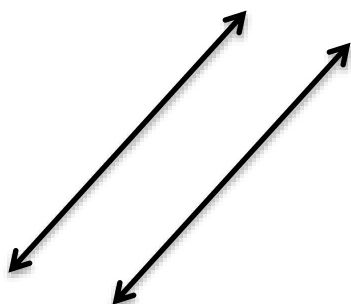
أكمل ؟

$$\begin{array}{r}
 2 \square \\
 \hline
 4 \overline{) 92} \\
 \underline{ \square} \\
 \square \square \\
 \underline{ \square \square} \\
 0
 \end{array}$$

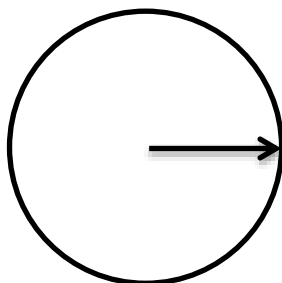
أكمل ؟



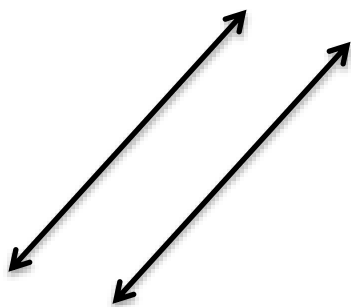
A. اكتب المصطلح الهندسي لوصف كل مستقيمين ؟



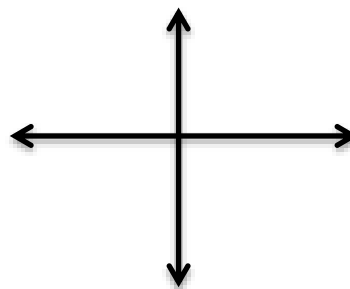
B. ارسم زاوية قياسها نصف دورة ؟



A . اكتب المصطلح الهندسي لوصف كل مستقيمين ؟

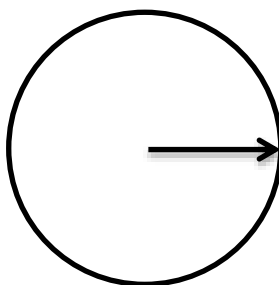


.....

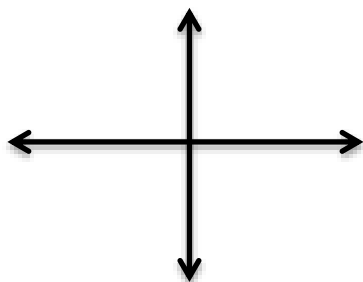


.....


B . ارسم زاوية قياسها ربع دورة ؟



A . اكتب المصطلح الهندسي لوصف كل مستقيمين ؟



.....



.....

B . ارسم زاوية قياسها ثلاثة أرباع دورة ؟

