

اسم التلميذ : الصف الثالث /

مهمة اداء لوحدتى القياس والتمثيل البياني


السؤال الاول : اختر الاجابة الصحيحة ..



1- أفضل وحدة لقياس سعة الملاعة الصغيرة هي

أ- مليلتر ب - لتر ج- كيلوجرام

2- ما كمية السائل التي ستوجد في الوعاء اذا صببت 200 ml فيه؟



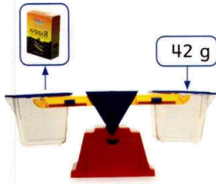
أ - 350 ب - 400 ج- 500

3- ماهو الوقت المبين على الساعة ؟



أ- 6:47 ب- 5:45 ج- 5:47

4- ما كتلة علبتين من هذه العلب ؟



أ- 84 ب- 80 ج - 42

5- بدا راشد حل واجباته الساعة 1:15 مساء وانتهى بعد 3 ساعات . ماهو وقت الانتهاء من حل الواجبات ؟

أ- 5:15 ب- 4:00 ج- 4:15

السؤال الثاني : صل بين كل ساعة ووقتها الصحيح ..



4:02



7:17





3:45



8:53



السؤال الثالث : حول التمثيل البياني المصور الى انواع اخرى من التمثيلات البيانية ..

الانشطة المفضلة	
	كرة القدم
	السباحة
	الرسم
	القراءة


تمثيل بياني بعلامات الاحصاء

الانشطة المفضلة	
	كرة القدم
	السباحة
	الرسم
	القراءة


تمثيل بياني بالتكرار

الانشطة المفضلة	
	كرة القدم
	السباحة
	الرسم
	القراءة

تمثيل بياني بالاعدة



تمثيل بياني مصور بمقياس

الانشطة المفضلة	
	كرة القدم
	السباحة
	الرسم
	القراءة
 = 2	المفتاح

1- ما اكثر اقل الانشطة تفضيلا ؟

2- بكم يزيد عدد الذين يفضلون الرسم عن السباحة ؟

3- ما اسم التمثيل البياني ؟

اعداد المعلمة : امه لاجح