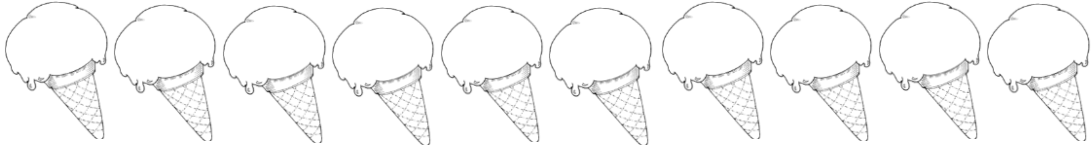




اختبار مادة الرياضيات التقويم الاول
للفصل الدراسي الثاني 2018

السؤال الاول :

حوظ الايسكريم الاول . ضع علامة x على الايسكريم رقم 5 . لون بالرصاص
الايسكريم رقم 8 . لون الايسكريم رقم 10 باللون الازرق .



السؤال الثاني : اكتب عدد العناصر الاضافية . ثم اكتب العدد ...

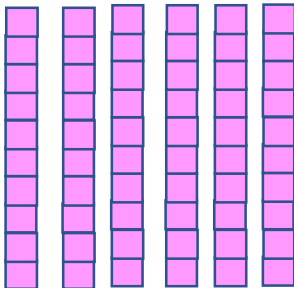


10 و اضافية =




10 و اضافية =

السؤال الثالث : اكتب العشرات ...



..... عشرات =



..... عشرات =

السؤال الرابع : عد بالعشرات ..

..... فلس فلس فلس فلس فلس فلس فلس فلس اجمالي

السؤال الخامس : عد بالخمسات ..

..... فلس فلس فلس فلس فلس فلس اجمالي

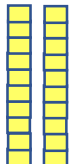

السؤال السادس : اكتب العشرات والاحاد والمئات ثم اكتب العدد..

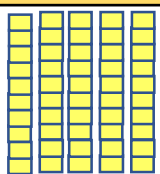

العشرات	الآحاد
-----	-----




العشرات	الآحاد
-----	-----


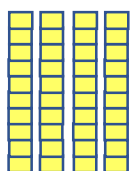

المئات	العشرات	الآحاد
-----	-----	-----

المئات	العشرات	الآحاد
-----	-----	-----

العشرات	الآحاد
	

العشرات	الآحاد
	

المئات	العشرات	الآحاد
		

المئات	العشرات	الآحاد
		

السؤال السابع : اكتب العدد الاكبر بمقدار 10 ..

10 ,

58 ,

25 ,

السؤال الثامن : اكتب العدد الاصغر بمقدار 10 ..

..... , 75

..... , 39

..... , 64

السؤال التاسع : قارن واكتب > او < او = ..

84 ○ 37

12 ○ 12

42 ○ 48

52 ○ 90

السؤال العاشر : اكمل جدول الاعداد ..

1	2	3		5		7	8	9	10
11	12		14		16	17	18		20
21		23		25	26	27		29	30
	32	33		35	36	37		39	40
41		43	44	45	46		48	49	50
51	52		54	55		57	58	59	60
61	62	63	64	65	66	67	68	69	70
71	72	73	74		76	77	78	79	
81	82		84	85	86		88	89	90
91	92	93		95	96	97	98	99	100
101		103	104	105	106		108	109	
111	112	113		115	116	117	118	119	120