

الدراسات الاجتماعية

الصف السابع

حل تدريبات الكتاب المدرسي

صفحة 21 حتى 36

حدّد على خريطة دولة قطر الصنّاء المقابلة مُجَلًّا مما يلي:

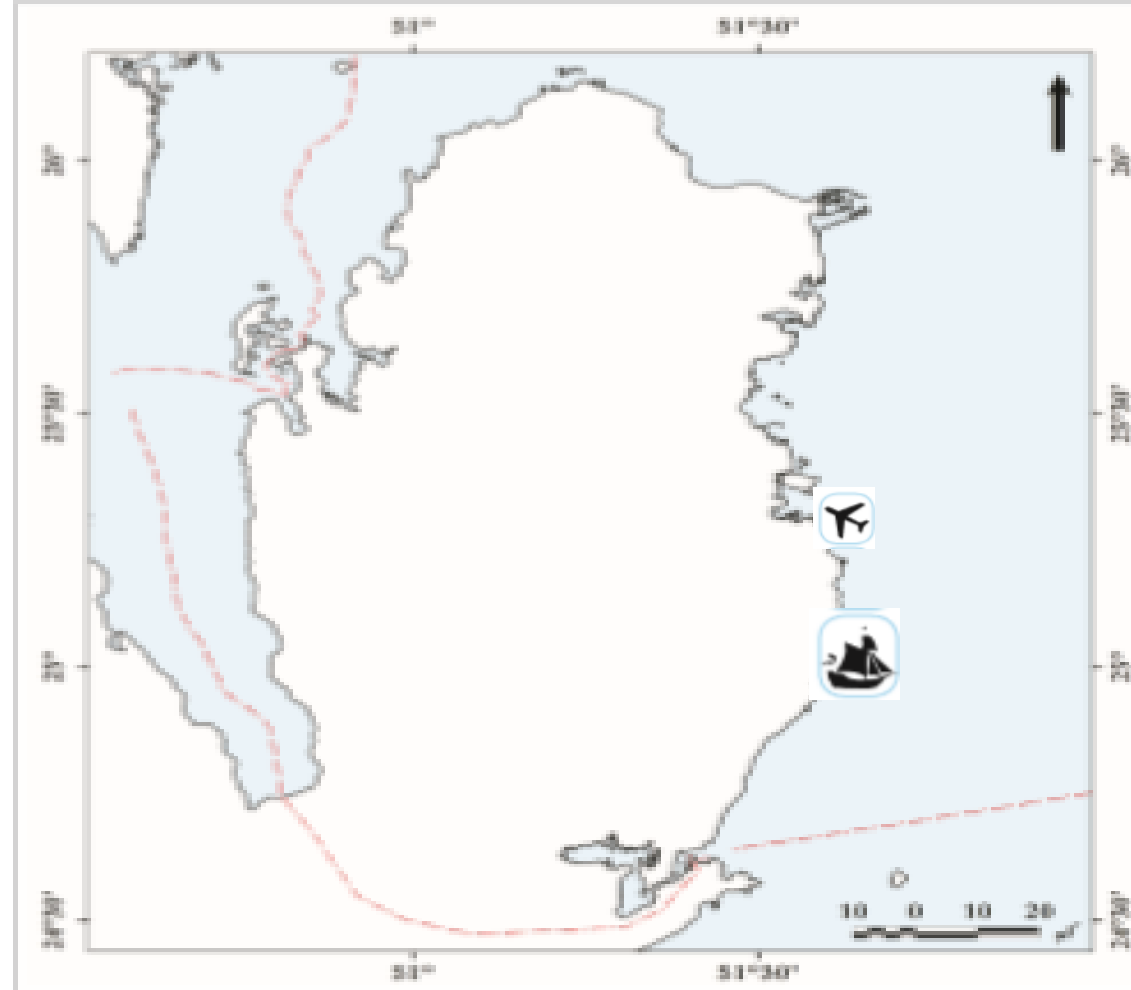
ميناء مسيعيد

- أهمّ الموانئ القطرية.

مطار حمد الدولي

- أهمّ المطارات في قطر.

- فستحددنا في ذلك الرمز التالية:



السؤال الأول: اختر الإجابة الصحيحة من بين البدائل الآتية:

صفحة 22

1- يُطلق على عملية انتقال الأفراد والبضائع من مكان إلى آخر مُصطلح

- أ - الممرات الوافدة.
- ب - التجارة الداخلية.
- ج - التجارة الخارجية.
- د - النقل.

2- من أنواع النقل البري:

- أ - الأنابيب.
- ب - السفن.
- ج - الطائرات.
- د - المراكب الشراعية.

3- أهم شبكات النقل النهري في أوروبا:

- أ - النيل.
- ب - المسيسيبي.
- ج - الأمازون.
- د - الراين.

4- أي من خطوط الأنابيب التالية تمتد في دولة قطر؟

- أ - سوميد.
- ب - القابلاين.
- ج - بترولين.
- د - دولفين.

5- أرخص أنواع النقل:

- أ - الأنابيب.
- ب - السكك الحديدية.
- ج - المائي.
- د - الجوي.

1-وعورة السطح 2- الظروف المناخية

السؤال الثالث: مع تفسير:

1- الأهمية الكبرى للنقل في حياتنا؟

1- نقل الأفراد والبضائع 2- تنشيط حركة التجارة

2- قمت السكك الحديدية من أهم أنواع النقل البري؟

1- تنقل الأفراد بسرعة 2- الأقل تأثيراً بالظروف المناخية

3- عدم صلاحية بعض الأنهار للملاحة النهرية؟

1- وجود الشلالات 2- تجمد المياه

4- يميز النقل الجوي عن باقي أنواع النقل؟

1- تجاوز العقبات الطبيعية 2- سرعة النقل

5- قلة أهمية طريق المحيط الهادي للملاحة البحرية؟

لاتساعه وبعد موانئه

6- أهمية طريق المحيط الأطلسي للملاحة البحرية؟

لمرور 60% من حجم التجارة العالمية فيه

السؤال الرابع: أجب على كل مما يلي:

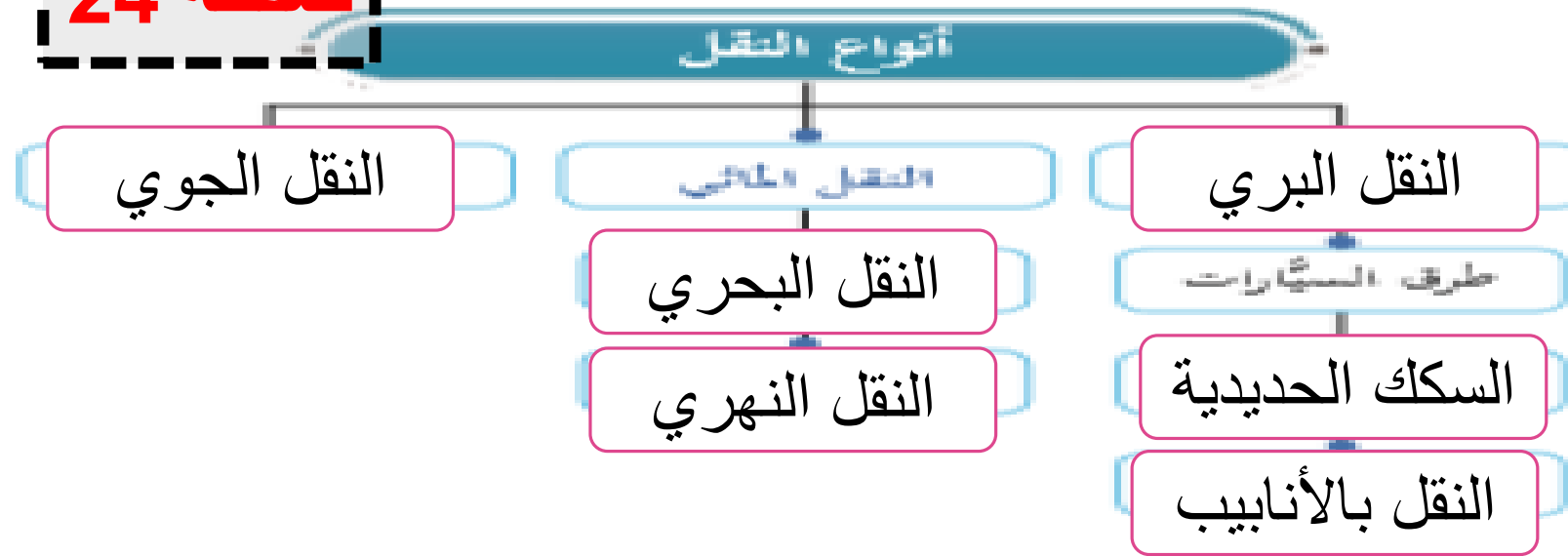
1- اذكر أنواع طرق السيارات.

1- طرق داخلية (الدوحة - دخان)

2- طرق خارجية (طريق سلوى)

2- وضح تأثير وسائل النقل على البيئة.

1- تلوث الهواء 2- ارتفاع مستوع الضجيج



السؤال السادس: قارن بين سمات وعيوب النقل المائي والجوي من خلال الجدول التالي:

النقل الجوي	النقل المائي	أوجه المقارنة
سرعة النقل	نقل أحجام وكميات كبيرة ورخصه	السمات
أعلى أنواع النقل	طول مدة الرحلات	العيوب

النشاط الأول:

صنّف السلع والمنتجات التالية إلى صادرات وواردات في دولة قطر كما في الجدول التالي:

الغاز الطبيعي المسال – الحبوب الغذائية – الحديد الخام – السيّارات – الأجهزة الإلكترونية – البتروكيماويات – الأسمدة الكيماوية – الأقمشة.

أهمُّ الواردات القطرية

الحبوب الغذائية – السيّارات –
الأجهزة الإلكترونية

الحديد الخام- الأقمشة

أهمُّ الصادرات القطرية

الغاز الطبيعي المسال

البتروكيماويات-الاسمدة الكيماوية

حل التدريبات ص 33

النشاط الثاني:

شارك زملاءك في عقد ندوة تحت إشراف مُعلِّمك عن التجارة الإلكترونية كأحد أنواع التجارة الحديثة واستعرض من خلالها مفهوم التجارة الإلكترونية ومقوماتها وأسباب نجاحها، وفي نهاية الندوة سجّل ما توصّلت إليه من معلوماتٍ عن التجارة الإلكترونية، ثم اعرضه على مُعلِّمك.

الاجابة

مفهوم التجارة الالكترونية: هو أداء النشاط التجاري باستخدام الوسائط والاساليب الالكترونية مثل الانترنت

مقومات التجارة الالكترونية: 1- توفير الانترنت 2- نشر الوعي العلمي والثقافي

اسباب نجاح التجارة الالكترونية: 1- توفير الجودة 2- الشحن 3- التسويق

حل التدريبات ص 34

ثانيًا: التدريبات

السؤال الأول: اختر الإجابة الصحيحة من بين البدائل الآتية:

1- "تبادل السلع والخدمات داخل حدود الدولة"، يشير المفهوم إلى التجارة:

أ - الخارجية.

ب - الداخلية.

ج - الدولية.

د - العالمية.

2- من أهم صادرات العالم من المحاصيل النقدية:

أ - القطن.

ب - الملابس.

ج - الآلات.

3- أكثر دول العالم استقبلاً للصادرات القطرية هي:

أ - تركيا.

ب - ماليزيا.

ج - اليابان.

4- النسبة الأكبر من واردات دولة قطر تأتي من:

أ - روسيا.

ب - بريطانيا.

ج - سنغافورة.

د - الولايات المتحدة الأمريكية.

تابع حل التدريبات ص 34

السؤال الثاني: قارن بين مساهمة الدول في التجارة الخارجية من خلال الجدول التالي:

المركز	الصادات	الواردات
1	الصين	الولايات المتحدة الامريكية
2	الولايات المتحدة الامريكية	الصين
3	المانيا	المانيا

السؤال الثالث: ضَعْ تعريفاً مناسباً للمصطلحات التالية:

عملية تبادل السلع والخدمات بواسطة عملية
البيع والشراء

1- التجارة:

هي السلع والخدمات التي تستوردها الدولة من
الخارج لسد حاجة الاسواق المحلية

2- الواردات:

هي السلع والخدمات التي تصدرها الدولة للاسواق
الخارجية

3- الصادرات:

حل التدريبات ص 35

السؤال الرابع: أجب على كل مما يلي:

1- للتجارة أهمية كبيرة لاقتصاديات الدول. وضح ذلك؟

1- توفير فرص العمل 2- زيادة الدخل القومي

2- اذكر مقومات التجارة؟

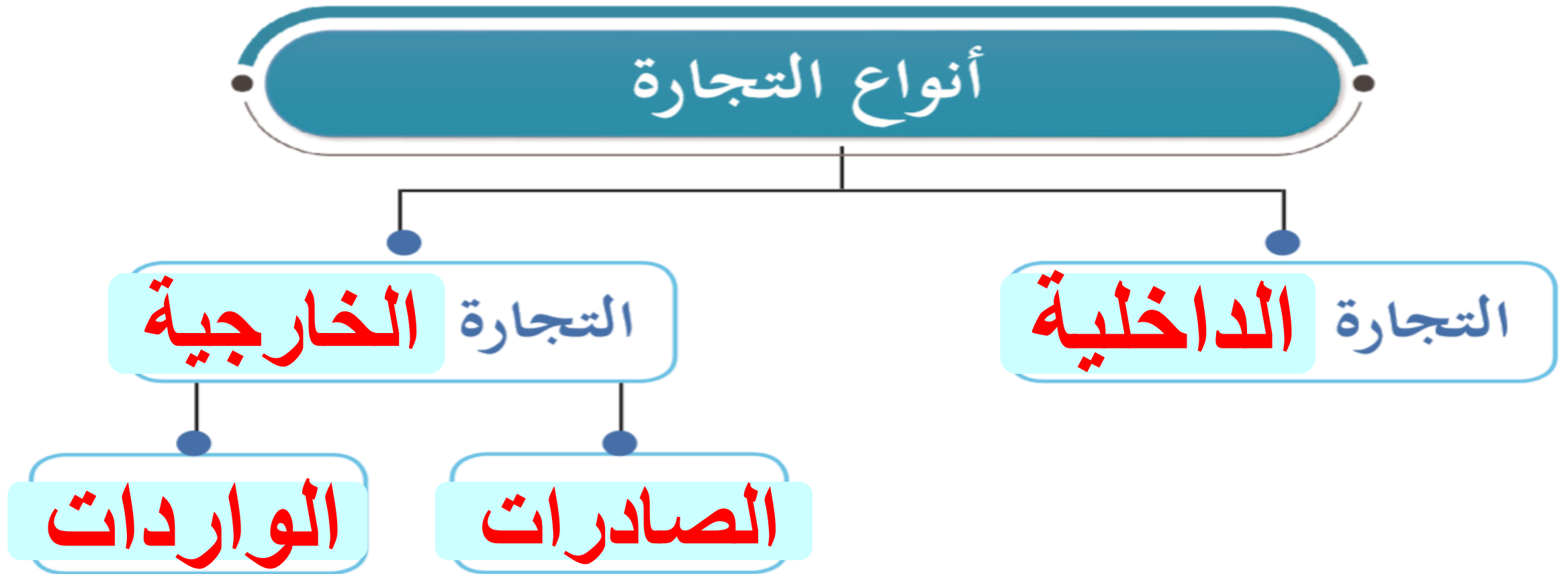
1- فائض الانتاج 2- الاسواق 3- الأمن 4- رؤوس الأموال

3- أوجد العلاقة بين التطور في وسائل النقل وحركة التجارة.

ساعدت وسائل النقل على تفعيل حركة التبادل التجاري حيث وفر النقل المائي أكثر من ثلاثة ارباع التبادل التجاري العالمي

تابع حل التدريبات ص 35

السؤال الخامس: استكمل بيانات المخطط التالي:



حل التدريبات ص 36

السؤال السادس: اعقد مقارنة بين التجارة الداخلية والتجارة الخارجية
كما في الجدول التالي:

أنواع التجارة

العنصر	التجارة الداخلية	التجارة الخارجية
المفهوم	هي تبادل السلع والخدمات داخل حدود الدولة مثل التجارة التي تتم داخل المدن أو بينها	هي تبادل السلع والخدمات بين دول العالم على شكل صادرات وواردات