



مُرَاجَعَةُ الدِّرَاسَاتِ الاجْتِمَاعِيَةِ

صف (٧)

(العَامُ الدِّرَاسِي ٢٠١٨-٢٠١٩)

الفصل الدراسي الأول



اسم الطالب	
الصف والشعبة	

إعداد المعلمة: نورهان رفعت

مديرة المدرسة: سحر إمام عزب

مراجعة لمادة الدراسات الاجتماعية للصف السابع للعام الدراسي ٢٠١٨ / ٢٠١٩ .
المعلمة: نورهان رفعت.

اسم الطالب	الصف و الشعبة	اليوم.....	تاريخ	٢٠١٨ / /
------------	-------	---------------	------------	-------	----------------------

السؤال الاول : اختر الإجابة المناسبة:

١- من العوامل الطبيعية التي تؤثر في توزيع السكان .

(المناخ - الحرفة - النقل والمواصلات)

٢- من فصيلة الفطريات التي تظهر مباشرة بعد هطول الأمطار .

(الحميض - الغاف - الفقع)

٣- من المهن التي مارسها سكان البحر في شبه الجزيرة قديما .

(الزراعة - الرعي - الغوص على اللؤلؤ)

٤- تمتلك دول شبه الجزيرة العربية احتياطي النفط العالمي بنسبة .

(٣٩ % - ٤٩ % - ٥٩ %)

٥- تتكون دول شبه الجزيرة العربية من عدد من الدول التي يبلغ عددها .

(٦ دول - ٧ دول - ٨ دول)



٦- من أهم صادرات شبه الجزيرة العربية في الوقت الحالي.

(المعدات الكهربائية - معدات النقل - المنتجات البتروكيمياوية)



٧- من الصناعات الاستخراجية في شبه الجزيرة العربية.

(المنسوجات - تكرير النفط - النفط الخام)

٨- مبالغ مودعة في المصارف يقوم أصحابها بتحريكها من خلال بطاقة إلكترونية .

(النقود الالكترونية - النقود المصرفية - النقود المعدنية)

٩- استمرت الروبية الهندية في التداول في شبه الجزيرة العربية حتي عام..

(١٩٥٩ - ١٩٦٦ - ١٩٧٣)

١٠- من الجبال الالتوائية في شبه الجزيرة العربية .

(جبال مدين -جبال عمان - جبال عسير)



٩) من فصيلة الفطريات التي تظهر مباشرة بعد هطول الأمطار.

١٠) تنشأ الرياح الموسمية نتيجة الاختلاف في درجات الحرارة بين

.....و.....

١١) تسقط الأمطار في مرتفعات اليمن في فصل.....

١٢) دائرة العرض الرئيسية التي تمر بشبه الجزيرة العربية هي مدار.....

١٣) تهب الرياح المحلية على دول شبه الجزيرة العربية مثل

.....و.....

١٤) بينما تهب رياح محلية على دولة الامارات

مثل.....و.....

١٥) من الغابات التي تنمو في الإقليم الموسمي ذو الأمطار الصيفية

أشجار.....و.....



١٦) من عناصر المناخ

.....و.....و.....و.....

١٧) يقصد به مجموع متوسطات درجات الحرارة الشهرية في

السنة مقسوما على ١٢.

١٨) تنقسم السهول الى نوعين سهول.....وسهول.....

١٩) هضبه تقع في وسط شبه الجزيرة بين صحراء النفود وصحراء الربع الخالي

.....

٢٠) تقع مدينة أبها في جبال.....

(٢١) سلسلة جبلية تقع في الركن الجنوبي الشرقي من شبه الجزيرة العربية
.....وأعلى قممها الجبل الاخضر.

(٢٢) تتسببو.....في تغيير معالم سطح الارض بطرق عدة.

(٢٣) مرتفعات اليمن تتميزنحو البحر الاحمر.

(٢٤) تقع مدينة مكة المكرمة وجدة في سهول.....

(٢٥)هي سهول زراعية خصبة وتكثر فيها السبخات وتقع في شرق
السعودية.

السؤال الثالث: أجب عن الأسئلة التالية:

• أذكر خصائص الأقليم الصحراوي الحار.

.....
.....
.....

• *أحسب المسافة بالكيلومترات التي تمتد عليها شبه الجزيرة العربية إذا كانت المسافة بين
دائرتي عرض وأخرى هي (١١١) كيلو متر.

.....
.....

• ماهي العوامل المؤثرة في توزيع السكان في شبه الجزيرة العربية؟

.....
.....

- أتوقع أبرز النتائج المترتبة في حال تراجع الإنتاج الزراعي في دول المنطقة.

.....

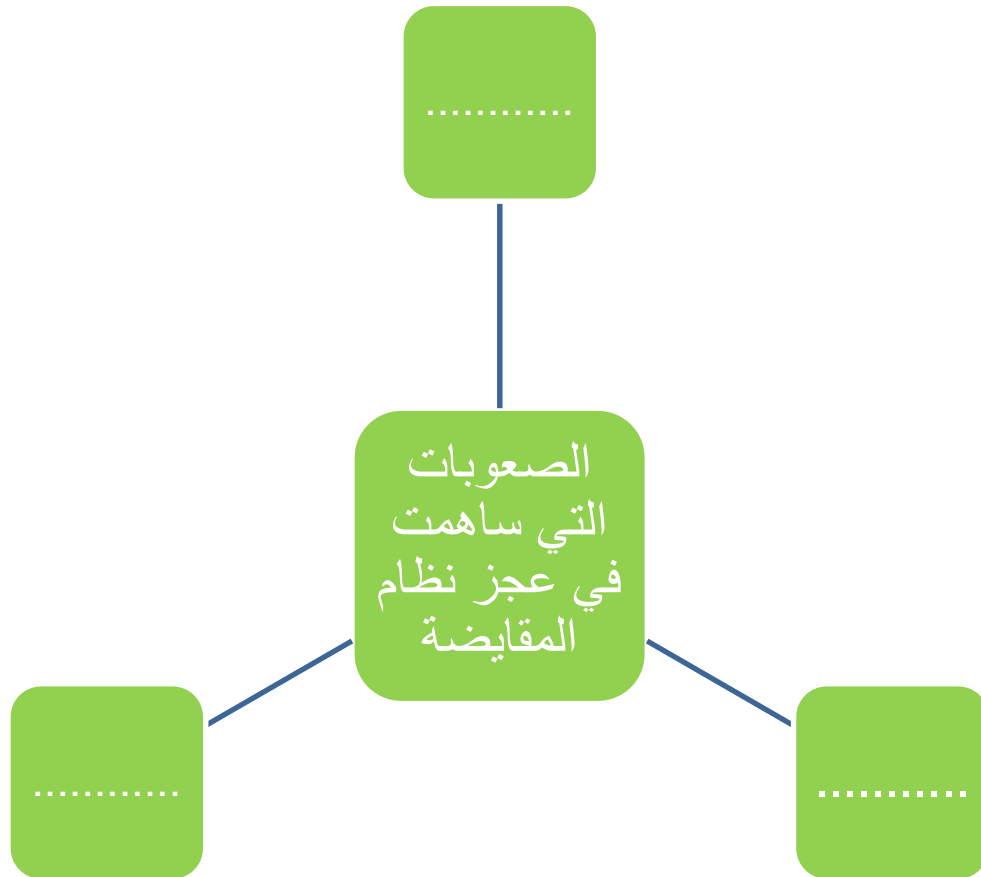
.....

- أستنتج أبرز العوامل التي ساعدت على ازدهار التجارة في شبه الجزيرة العربية.

.....

.....

السؤال الرابع: أكمل المخطط الذهني:



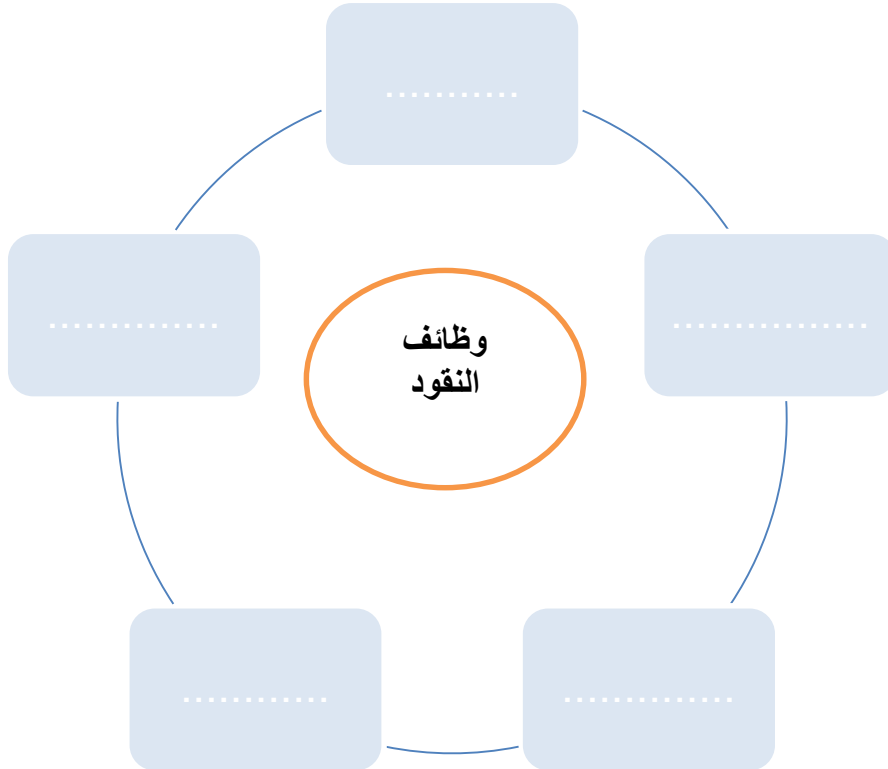
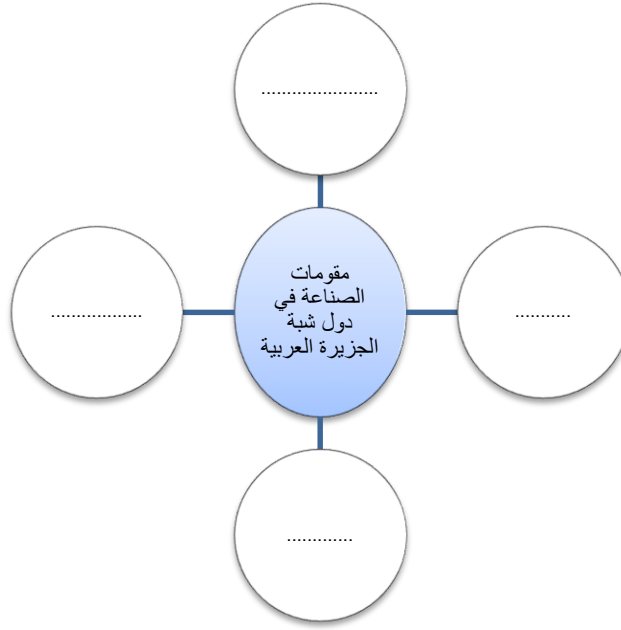
Shamkha



©BNP Design Studio * www.ClipartSD.com/1090073

no

مدرسة المنارة الخاصة



A

ر



السؤال الخامس: عرف المفاهيم التالية: الجبال الالتوائية:.....

*الجبال الانكسارية:.....

*السهول:.....

الإقليم المناخي:.....

الضغط الجوي:.....

الموقع النسبي :

الموقع الفلكي :

الموقع المكاني:

الصناعات الاستخراجية:

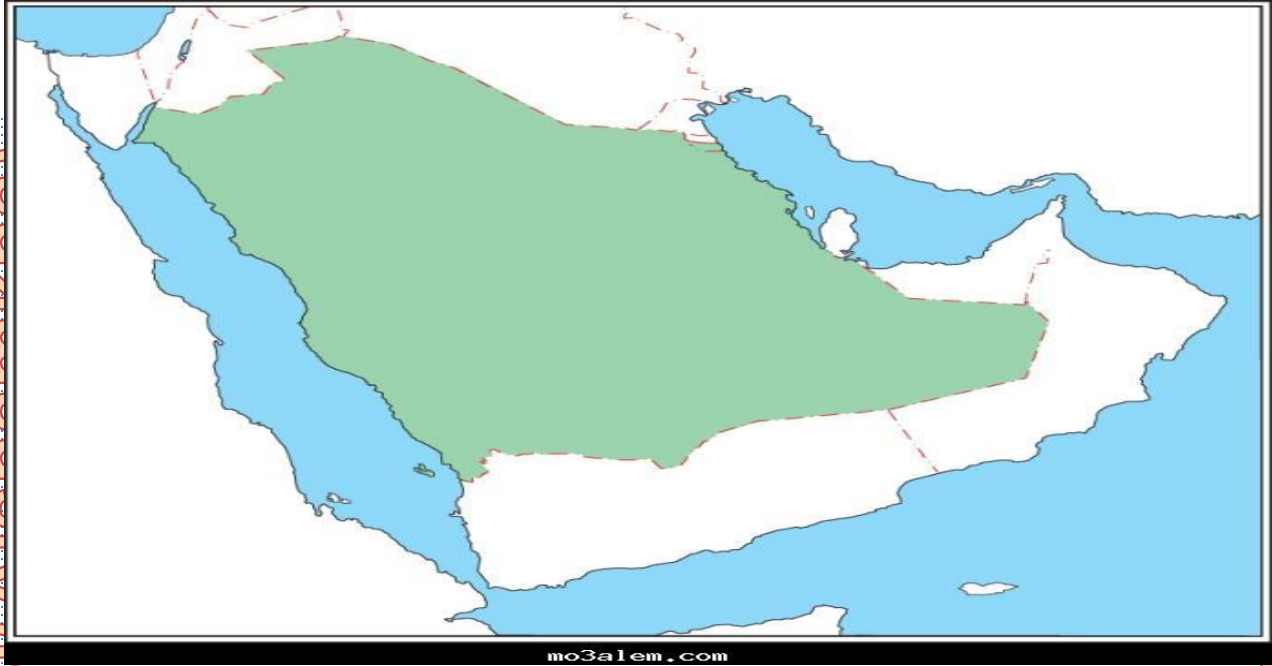
الصناعات التحويلية:

التعدين:

النقود:

السؤال السادس :

١- حدد على خريطة شبه الجزيرة العربية (دول شبه الجزيرة - المسطحات المائية والدول التي تجاورها)



٢- حدد على الخريطة. (جبال مدين - جبال الحجاز - جبال عسير - مرتفعات اليمن -جبال عمان)



السؤال السابع : قارن:

السهول	الموقع	الخصائص
سهول تهامة		
سهول الأحساء		



أوجه المقارنة	الجبال الالتوائية	الجبال الانكسارية
من حيث النشأه		
أمثلة		