



مُرَاجَعَةُ الدِّرَاسَاتِ الاجْتِمَاعِيَّةِ

صف (9)

(العَامُ الدِّرَاسِي ٢٠١٨ - ٢٠١٩)

الفصل الدراسي الأول



	اسم الطالب
	الصف والشعبة

مديرة المدرسة: سحر إمام عذب

إعداد المعلمة: هبة عبد العزيز



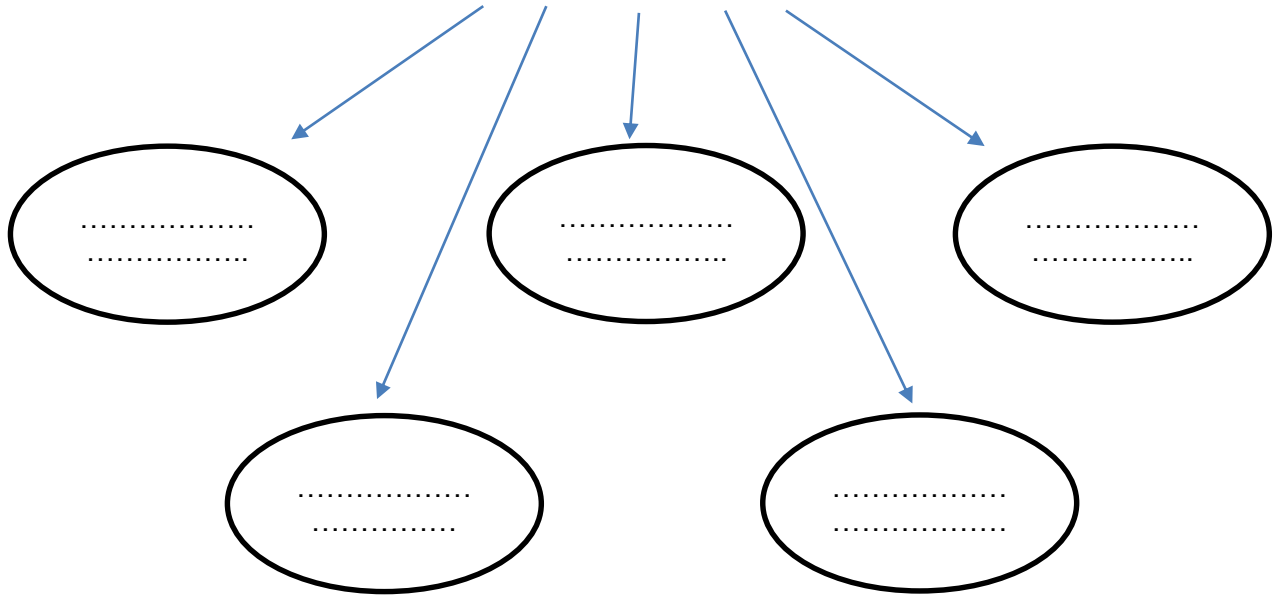
المفاهيم الواردة في الوحدة:

- ١- الموقع الفلكي : موقع المكان بالنسبة لخطوط الطول ودوائر العرض
- ٢- المناخ : حالة الجو في فترة زمنية طويلة
- ٣- التضاريس: هي اشكال سطح الارض من جبال وهضاب وسهول
- ٤- التعرية: عملية طبيعية تؤدي الي انفصال الصخور او التربة عن سطح الارض
- ٥- السهول الساحلية : هي الاراضي المنبسطة المطلة علي المسطحات
- ٦- السهول الفيضية : هي السهول التي تكونت بفعل الارسابات النهرية
- ٧- الاقليم المناخي : هو جزء من سطح الارض له خصائص مناخية او صفات معينة واحدة
- ٨- الحدود السياسية : هي الحدود التي تسير خطوط الطول ودوائر العرض وهي من صنع البشر
- ٩- البارومتر : جهاز لقياس الضغط الجوي
- ١٠- المياه الاقليمية : مناطق مياه البحار التي تمتلك الدولة السيادة عليها
- ١١- جبال كردستان : هي جبال التوائية تقع قرب الحدود مع تركيا وايران
- ١٢- جبال اطلس : هي جبال التوائية تبدأ من الجنوب الغربي قرب ساحل المحيط الاطلنطي
- ١٣- الحماد : هي تكوينات صخرية صوانية تعرضت لعوامل النحت
- ١٤- العرق : هي تكوينات رملية مثل بحر الرمال العظيم
- ١٥- الرق : هي تكوينات رملية مثل شرق ليبيا
- ١٦- الوطن العربي : هو تلك المساحة الواقعة في نصف الكرة الشمالي باستثناء الجزء الجنوبي
- ١٧- الجبال: هي كتلة صخرية كبيرة جدا تتكون من الاحجار والصخور
- ١٨- السهول : ارض واسعة منبسطة من الارض

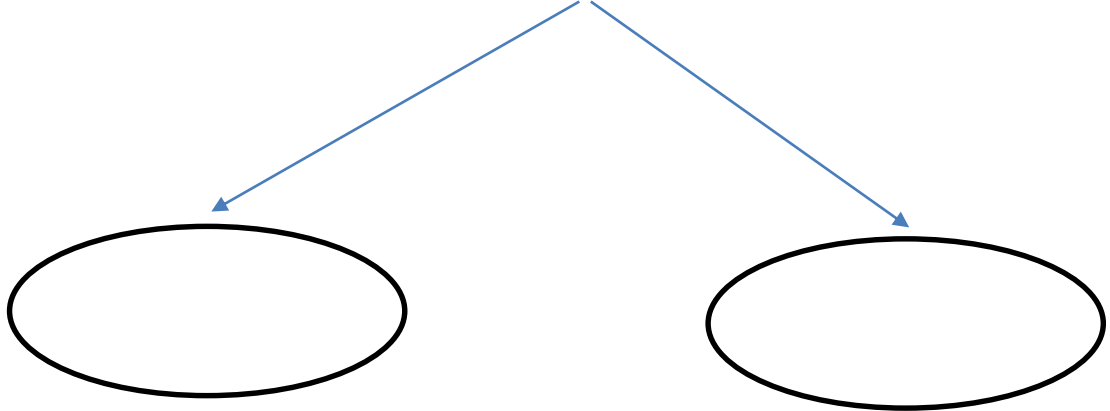
اكمل المخططات الذهنية الآتية :



اهمية موقع الوطن العربي

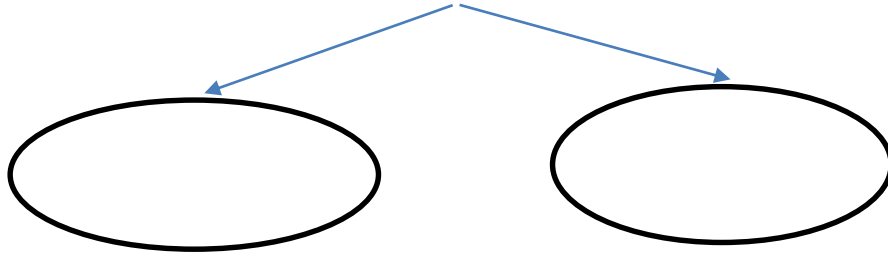


انواع الحدود في الوطن العربي

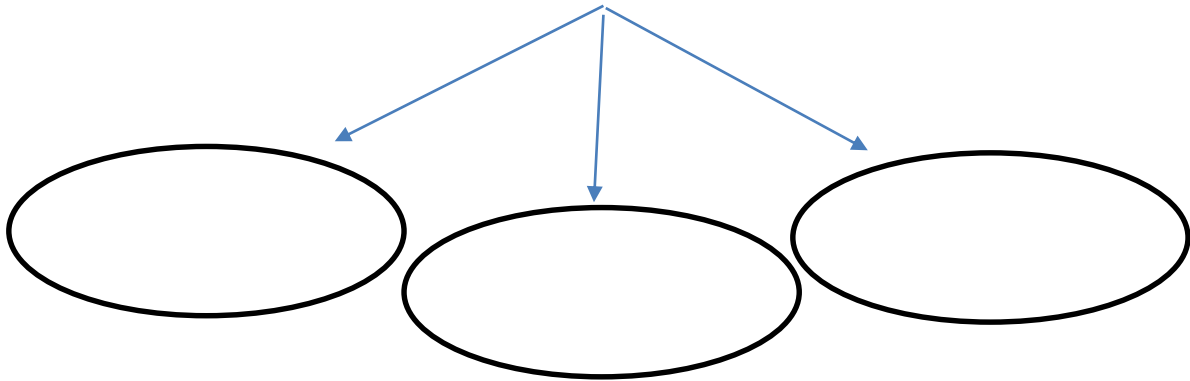




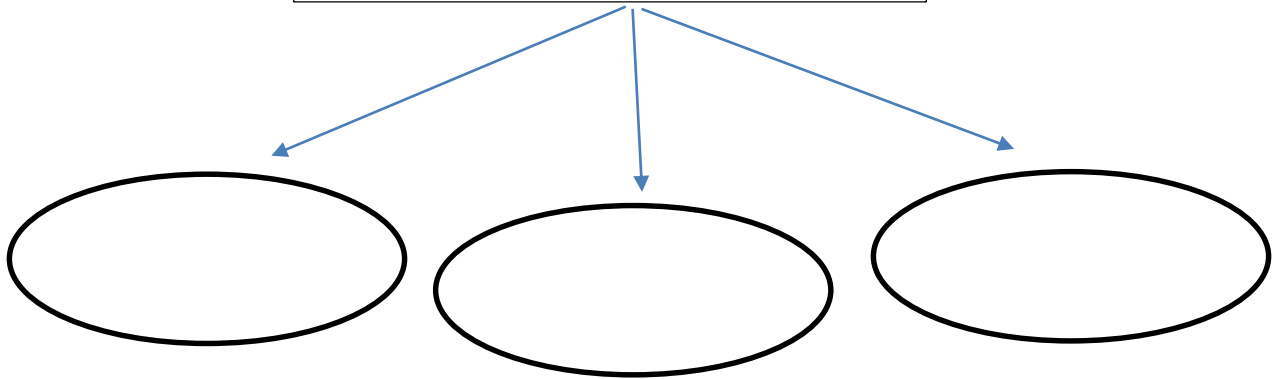
أنواع السهول



عناصر المناخ



العوامل المؤثرة في المناخ



اختر الإجابة الصحيحة من بين الإجابات :

١- أعلى القمم الجبلية في الوطن العربي قمة جبل

*أطلس *كرديستان *طوبقال

٢- دائرة العرض الرئيسية التي تقطع أراضي الوطن العربي من الجنوب

*الدائرة القطبية الجنوبية *خط الإستواء *مدار السرطان

٣- تسمى التكوينات الصخرية الصوتية في هضبة أفريقيا الشمالية بـ.....

*الرق *الهاد *العزف

٤- من أمثلة السهول الفيضية في الوطن العربي

*سهول البحر المتوسط *سهول الخليج العربي *سهول دجلة والفرات

٥- تمتد هضبة نجد في

*السعودية *الإمارات *اليمن

٦- يطلق على رياح السموم والكوس والخماسين رياح

*موسمية *محلية *شمالية

٧- من نباتات الإقليم الصحراوي الحار

*الغاف *الأرز *البلوط

٨- يسود الإقليم البحر المتوسط في الوطن العربي في

*الصحراء الكبرى *جنوب السودان *سواحل المغرب وبلاد الشام

٩- تنتشر في دولة الإمارات نباتات حولية والمعمرة مثل

*القطن *السدر والغاف *الكاكاو

١٠- من السهول الساحلية في الوطن العربي سهول

*نهر النيل *الخليج العربي *دجلة والفرات

١١- من الجبال الانسكارية في الوطن العربي

*جبال بلاد الشام *جبال الأطلس *جبال عمان

١٢- من العوامل الداخلية التي شكلت تضاريس الوطن العربي

*المياة *الزلازل والبراكين *درجة الحرارة

١٣- المسطح المائي الذي يصل جناحي الوطن العربي هو

*البحر الأحمر *البحر المتوسط *المحيط الهندي

ما النتائج المترتبة علي مايلي :

١- اتساع مساحة الوطن العربي

.....

٢- الاهمية الاقتصادية للوطن العربي

.....

اكتب تعميما جغرافيا يربط بين كل من :

(التضاريس - درجة الحرارة)

(المساحة - المناخ)

(التعرية - سطح الارض)

اذكر السبب فيما يلي (فسر)

١- غنى الوطن العربي بالثروات المعدنية .

.....

٢- سقوط الامطار في دولة الامارات في فصل الشتاء .

.....

٣- وقوع الجزء الاكبر من الوطن العربي ضمن المناخ المداري .

.....

٤- تنوع التضاريس في الوطن العربي .

.....

٥- تعد اراضي الوطن العربي وحدة واحدة لانقطاع بينهما

.....

٦- تنوع المناخ في الوطن العربي .

.....

٧- اهمية موقع الوطن العربي الجغرافية.

.....

٨- ارتفاع درجة الحرارة في دولة الامارات في فصل الصيف .

.....

أمامك خريطة للوطن العربي ، استكمل المطلوب.



- ١- يشرف الوطن العربي من الشمال علي البحر
- ٢- يشرف الوطن العربي علي من الغرب علي المحيط بينما من الجنوب علي المحيط
- ٣- يقع معظم مساحة الوطن العربي في الجناح
- ٤- دائرة العرض التي تقطع اراضي الوطن العربي من الجنوب هي
- ٥- يجاور الوطن العربي دول مختلفة مثل ؛
- ٦- يمتد الوطن العربي بين دائرتي عرض ؛

صوب ماتحته خط فيما يلي :

١- تمتد هضبة نجد في اليمن

٢- أعلي القمم الجبلية في دولة الامارات هي قمة جبل مسافي

٣- تعد الزلازل من العوامل الخارجية التي اثرت في تضاريس الوطن العربي

٤- من المرتفعات الشمالية في دولة الامارات جبال الحجر

٥- تعد سلسلة جبال عمان من الجبال الانكسارية

٦- اعلي قمة جبلية في الوطن العربي هي قمة جبل النبي شعيب

قارن بين الاقاليم المناخية الثلاث _ (الاقليم المداري - الاقليم الصحراوي الحار

- اقليم البحر المتوسط)

اوجه المقارنة	الاقليم المداري	الاقليم الصحراوي الحار	اقليم البحر المتوسط
يسود في
خصائصه المناخية
نوع النبات فيه