



المستوى / السابع



قسم العلوم الاجتماعية

مراجعة منتصف الفصل الدراسي الأول

للعام الأكاديمي 2018-2019م

المستوى السابع

الاسم /

الصف /

الملزمة لا تغني عن الكتاب مصدر التعلم ص 8 إلى ص 72

أجب عن جميع الأسئلة التالية :- (أولاً الجغرافيا) ✍

السؤال الأول :- (اختر الإجابة الصحيحة فيما يلي) ✍

حالة الجو لفترة زمنية قصيرة " يعرف التعريف بـ:

- أ- المناخ
ب- الطقس
ج- الرياح
د- الضغط الجوي

2 - حالة الجو لفترة زمنية طويلة يشير ذلك إلى :

- أ- الطقس
ب- المناخ
ج- الرطوبة
د- الضغط الجوي

3 - " هو منطقة متشابهة في خصائصها المناخية من حرارة وأمطار ورياح ورطوبة ومتميزة عن

غيرها من المناطق المجاورة " يشير هذا التعريف إلى :

- أ- المرتفعات
ب- التلال الرملية
ج- الأودية الجافة
د الإقليم المناخي

4- "حركة الهواء الأفقية على سطح الأرض من مناطق الضغط المرتفع إلى مناطق الضغط

المنخفض" يشير التعريف إلى :

- أ- الرياح
ب- الرطوبة
ج- الحرارة

5- **ينتج عن اختلاف طول النهار من منطقة لأخرى:**

- أ- تغيير اتجاه الرياح
- ب- زيادة كمية المطر
- ج- ارتفاع الضغط الجوي
- د- اختلاف درجة الحرارة

6- **أكبر المناطق الحرارية على سطح الأرض امتدادا المنطقة:**

- أ- الحارة
- ب- الباردة
- ج- المعتدلة الدفيئة
- د- المعتدلة الباردة

7- **الرياح المحلية التي تهب على قطري:**

- أ- الطوز
- ب- الكوس
- ج- المسترال
- د- السموم

8- **يرتفع الضغط الجوي عند المنطقة القطبية بسبب:**

- أ- انخفاض الحرارة
- ب- زيادة نسبة الرطوبة
- ج- ارتفاع الحرارة
- د - هبوب الرياح القطبية

9- **نسيم البحر ونسيم البر يصنف ضمن الرياح:**

- أ- المحلية
- ب- اليومية
- ج- الموسمية
- د- الدائمة

10- "بخار الماء الموجود في الهواء" يشير التعريف الى:

- أ- الرياح
- ب- الرطوبة
- ج- الرياح الموسمية
- د- الرياح التجارية

11- أشعة الشمس التي تقطع مسافة أقل وتسقط على مساحة أصغر تعرف بالأشعة :

- أ- المائلة
- ب- المحورية
- ج- العمودية
- د- الدائرية

12- هي حركة المياه السطحية في المحيطات وتكون في اتجاهات ثابتة :

- أ- الرياح
- ب- الضغط
- ج- الغطاء النباتي
- د- التيارات البحرية

13- تعدل درجات الحرارة في المناطق ذات الغطاء النباتي الكثيف مثل:

- أ- قطر
- ب- الكويت
- ج- ليبيا
- د- إندونيسيا

14- ينتج عن مرور التيارات البحرية الدافئة بجوار سواحل القارات :

- أ- قلة التبخر
- ب- زيادة التبخر
- ج- ارتفاع الحرارة
- د- انخفاض الحرارة

15- أي الأقاليم التالية تتميز بصيف حار وجاف وشتاء دافئ وممطر؟

- أ- القطبي
- ب- اللورنسي
- ج- الصيني
- د- البحر المتوسط

16- توجد قطر ضمن إقليم المناخ :

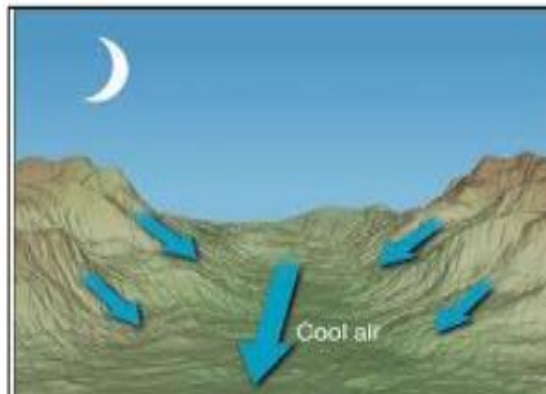
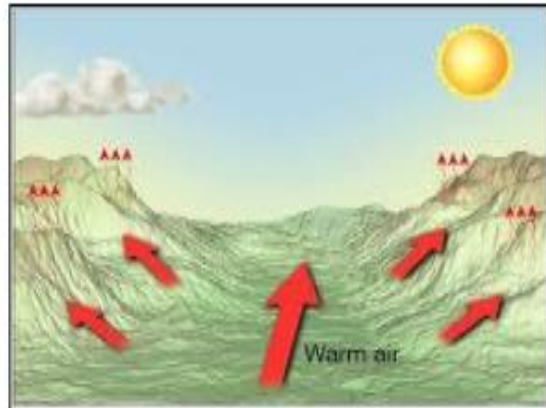
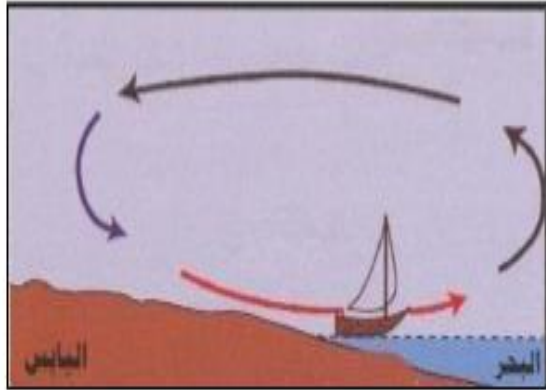
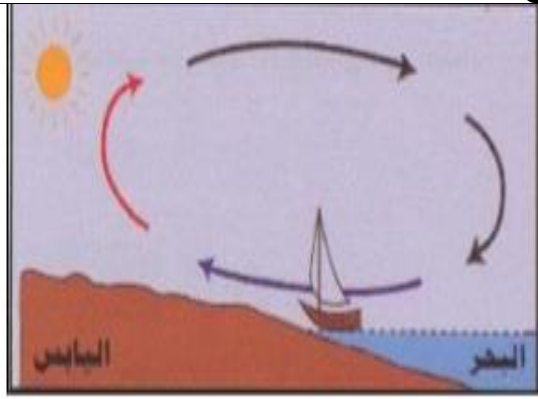
- أ- الاستوائي
- ب- الصحراوي
- ج- المعتدل الدافئ
- د- المعتدل البارد

17- من أوجه التشابه بين الإقليم الصيني وإقليم البحر المتوسط أن كليهما :

- أ- يمتد في شرق القارات
- ب- ارتفاع الحرارة طوال العام
- ج- يقع بين دائرتي عرض 30-40
- د- الأمطار تسقط طوال العام

18- من الخصائص المناخية للإقليم الاستوائي تسقط عليه الامطار:

- أ- في الصيف
- ب- في الشتاء
- ب- طوال العام
- ج- في فصل الربيع



نوع الرياح التي يشير إليها الشكل التالي:

19

- أ- نسيم البر .
- ب- التجارية .
- ج- نسيم البحر .
- د- الرياح اليومية .

نوع الرياح التي يشير إليها الشكل التالي:

20

- أ- نسيم البر .
- ب- التجارية .
- ج- نسيم البحر .
- د- الرياح اليومية .

حدد نوع الرياح التي يشير إليها الشكل التالي:

22

- أ- الرياح المحلية .
- ب- نسيم الوادي .
- ج- الرياح اليومية .
- د- نسيم الجبل .

ما نوع الرياح التي يشير إليها الشكل التالي:

23

- أ- نسيم البحر .
- ب- الرياح المحلية .
- ج- الرياح اليومية .
- د- نسيم الجبل .

المستوى / السابع
(ثانيا التاريخ)

24- أول الشعوب التي سكنت بلاد الرافدين :

أ- السومريون

ب- الاكاديون

ج- الأشوريون

د- البابليون

25- أشهر ملوك الدولة الاكادية حيث وحد العراق تحت قيادته بقوة جيشة النظامي هو:

أ- اوونمو

ب- حمورابي

ج- سنحاريب

د- سرجون الاول

26- تمكن سرجون الأول من بسط سيطرته على المدن السومرية بسبب؟

أ- الاهتمام بالسلطة

ب- قوة الجيش النظامي

ج- إهمال ثروات البلاد الاقتصادية

د- الاهتمام بالتوسع على حساب جيرانه

27- أشهر ملوك بابل واصر التشريعات والقوانين في بلاد الرافدين هو :

أ- حمورابي

ب- أشور بانيبال

ج- سرجون الاول

د- نبوخذ نصر الثاني

28- سقطت الدولة البابلية الأولى على يد :

أ- الفرس

ب- الحثيين

ج- الاشوريين

29- استغل العراقيون القدامى التربة الطينية في صناعة:

- أ- الحلي
- ب- الأواني النحاسية
- ج- الأواني الفخارية
- د- الأدوات والاسلحة

30- أدى الموقع المتميز واستقرار الأمن في بلاد الرافدين إلى ازدهار:

- أ- الزراعة
- ب- الصناعة
- ج- التجارة
- د- السياحة

31- استقر الكلدانيون على ضفاف نهر الفرات ومن أشهر ملوكهم الملك:

- أ- حمورابي
- ب- آشور بنيبال
- ج- سرجون الاول
- د- نبوخذ نصر الثاني

32- سقطت دولة الكلدانيين عام 538 ق.م على يد:

- أ- الفرس
- ب- المغول
- ج- الأشوريين
- د- الأكاديون

33- قيام الثورات ضد الاشوريين من جانب الشعوب الخاضعة لهم بسبب؟

- أ- حب الشعب لهم
- ب- الرشوة والفساد
- ج- صعف شخصية الملوك
- د- إهمالهم لثروات البلاد الاقتصادية

34- سجل سكان بلاد الرافدين الموثيق والعقود على ألواح:

- أ- خشبية
- ب- زجاجية
- ج- طينية
- د- معدنية

35 - من مميزات الحياة الدينية عند سكان بلاد الرافدين :

- أ- تعدد الأهله
- ب- الإيمان بالة اخر
- ج- الإيمان باليوم الآخر
- د- الاعتقاد بعدم وجود حياة بعد الموت

36- تعد من روائع حضارة بلاد الرافدين في مجال النحت:

- أ- برج بابل
- ب- الثور المجنح
- ج- حدائق بابل المعلقة
- د- قصر خور سا باد

37- من ابرز إنجازات الدولة البابلية في مجال الزراعة :

- أ- بوابة عشتار
- ب- الثيران المجنحة
- ج- سور بغداد العظيم
- د- حدائق بابل المعلقة

38 - تعددت القوانين التشريعية في بلاد الرافدين اقدمها قانون

- أ- أورنمو
- ب- حمورابي
- ج- الأشوريون

المستوى / السابع
ثالثا المواطنة

39- السلطة التي يتولاها سمو الأمير هي :

- أ- القضائية
- ب- التشريعية
- ج- التنفيذية
- د- جميع السلطات

40- يمثل السلطة التنفيذية في دولة قطر :


- أ- المجلس القضائي
- ب- مجلس الشورى
- ج- المجلس البلدي
- د- مجلس الوزراء

41 - فض الخلافات والنزاعات بين مؤسسات الدولة مسؤولية :

- أ- البلديات
- ب- مراكز الشرطة
- ج- مجلس الشورى
- د- لسلطة القضائية

42- يعاون الأمير على أداء مهامه وممارسة سلطاته وفقا للدستور واحكام القانون هو مجلس :

- أ- البلدي
- ب- الورا
- ج- الشورى
- د- القضائي

السؤال الثاني :- (أجب عن الأسئلة الآتية) :- أولا الجغرافيا 

1- عرف المصطلحات التالية:

أ- الرياح

.....
.....

ب- الرطوبة

.....
.....

ج- الضغط الجوي

.....
.....

د- التيارات البحرية

.....
.....

2- بم تفسر :

1- اختلاف درجة الحرارة من منطقة لأخرى على سطح الأرض؟

أ-
ب-

2- اختلاف مناطق الضغط الجوي على سطح الأرض؟

أ-
ب-

3- هبوب الرياح اليومية؟

- أ-.....
ب-.....

4- الصحارى الحارة أكثر تأثراً بأشعة الشمس من مناطق الاستوائية؟

- أ-.....
ب-.....

5- الأشعة العمودية أكثر حرارة من الأشعة المائلة؟

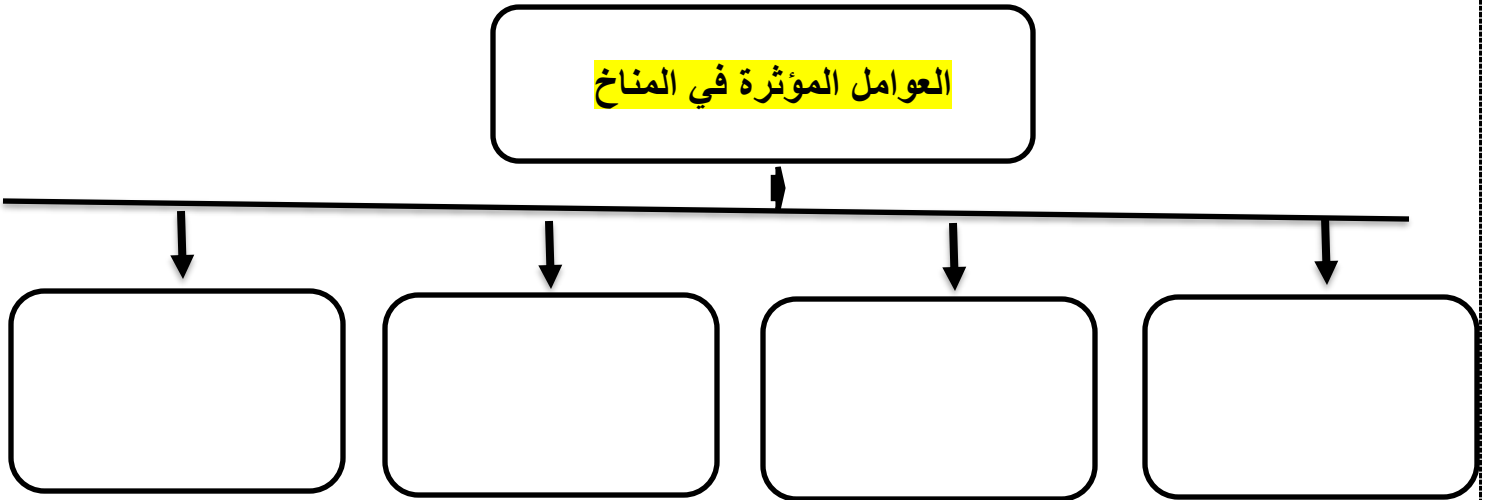
- أ-.....
ب-.....

6- تختلف الرياح الموسمية الصيفية عن الرياح الموسمية الشتوية؟

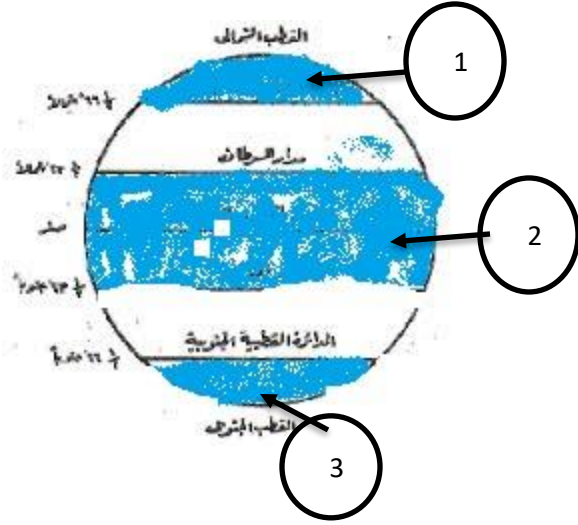
- أ-.....
ب-.....

السؤال الثاني : أمامك عدة اشكال اكمل البيانات الناقصة :

1- أكمل الشكل التالي :



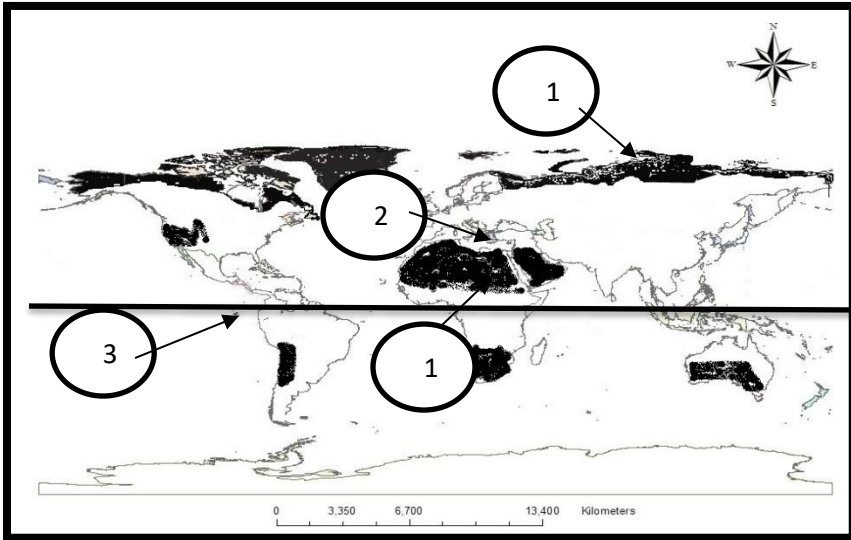
2- اكتب اسم المنطقة الحرارية في الشكل الذي امامك في الأماكن المظلة :



- 1- المنطقة
- 2- المنطقة
- 3- المنطقة

3- أمامك خريطة صماء للإقليم المناخية وضح عليها مدلول الأرقام التالية

1- حدد على خريطة الأقاليم المناخية مدلول الأرقام التالية :



يشير رقم (1) إلى إقليم

يشير رقم (2) إلى إقليم

يشير رقم (3) إلى إقليم

يشير رقم (4) إلى إقليم

4- من أنواع الرياح الدائمة:

الرياح الدائمة

Four empty boxes for writing the names of permanent winds.

المستوى / السابع

السؤال الثالث : أجب عن الأسئلة التالية :

1- اذكر اهم أنواع الأقاليم المعتدلة الباردة:

أ-

ب-

ج-

2- قارن بين كل من الأقاليم المناخية التالية من حيث الموقع الفلكي و الحرارة والمطر:
-1

الإقليم القطبي	الإقليم الصحراوي	وجه المقارنة
		<u>الموقع الفلكي</u>
		<u>الحرارة</u>
		<u>المطر</u>

-2

الإقليم الاستوائي	الإقليم البحر المتوسط	وجه المقارنة
		<u>الموقع الفلكي</u>
		<u>الحرارة</u>
		<u>المطر</u>

الرياح الموسمية الشتوية	الرياح الموسمية الصيفية

3- ما النتائج المترتبة على :

1- مرور التيارات البحرية الدافئة والباردة على مناطق سطح الأرض :

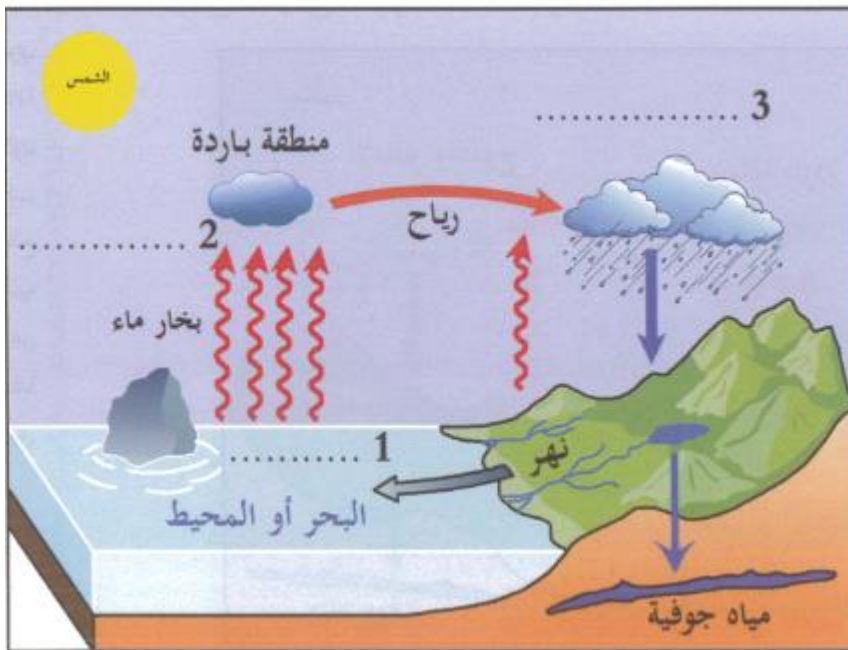
أ-

ب-

2- كثافة الغطاء النباتي في حوض الامازون في البرازيل :

أ-

4- من خلال الشكل الذي امامك عدد مراحل دورة المياه في الطبيعة :



1-

2-

3-

1- بم تفسر:

2- تمكن الملك سرجون الأول من بسط سيطرته على المدن السومرية؟

أ-

ب-

3- سقوط الدولة الاشورية في نهاية القرن السابع ق: م على يد الكلدانيين؟

أ-

ب-

4- ساهم نهرا دجلة والفرات في ازدهار الزراعة في حضارات بلاد الرافدين.

أ-

ب-

5- يعتبر عصر الملك حمورابي من ازهى عصور بلاد الرافدين؟

أ-

ب-

6- ازدهرت التجارة في بلاد الرافدين؟

أ-

ب-

2- قارن بين الدولة البابلية الأولى والدولة البابلية الثانية من حيث أسباب الانهيار:

وجه المقارنة	الدولة البابلية الأولى	الدولة البابلية الثانية
أسباب الانهيار		

3- عدد أهم العوامل التي ساعدت على قيام حضارة بلاد الرافدين:

- أ-
- ب-
- ج-

4- عدد طبقات المجتمع في بلاد الرافدين:

- أ-
- ب-
- ج-

5- اذكر أهم العمائر التي تفنن فيها العراقيون القدماء:

- أ-
- ب-
- ج-

6- تنوعت الحياة الفكرية عند العراقيين القدامى اذكر اهم العلوم التي برعوا فيها :

أ-

ب-

ج-

7- على الخط الزمني رتب الحضارات التي قامت في بلاد الرافدين من الاقدم الى الاحدث:

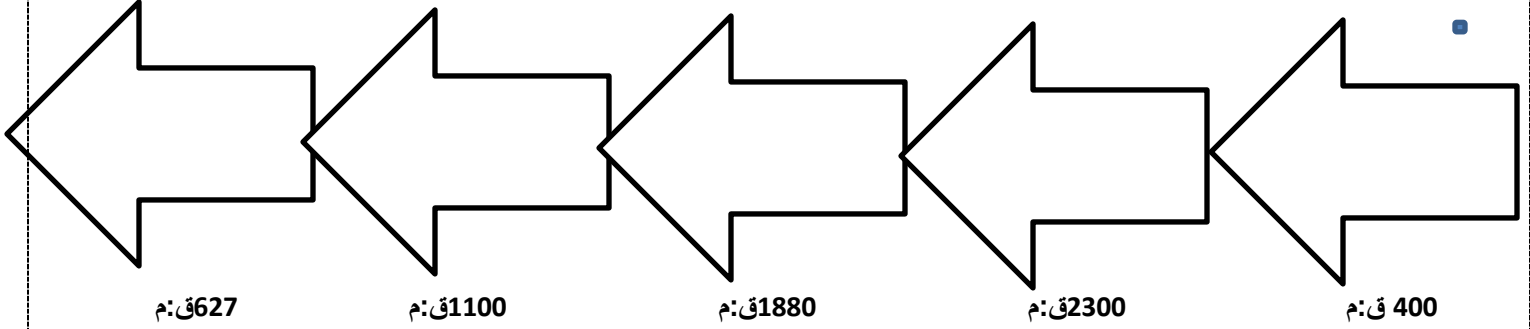
3- الكلدانيون

2- السومريون

1- البابليون

5- الأشوريون

4- الأكاديون



8- تعددت القوانين التشريعية في بلاد الرافدين " اذكرها :

أ-

ب-

8- وضح خصائص الديانة العراقية القديمة:

أ-

ب-

السؤال الأول أجب عن الأسئلة

1- عدد أركان الدولة :

أ-
ب-
ج-

2- وضح الاختصاصات التي تتولاها السلطة التشريعية في دولة قطر :

أ-
ب-
ج-

3- اذكر اختصاصات السلطة التنفيذية بموجب احكام الدستور:

أ-
ب-
ج-

4- يتولى مجلس الوزراء طبقا لأحكام القانون عدة اختصاصات وضحها :

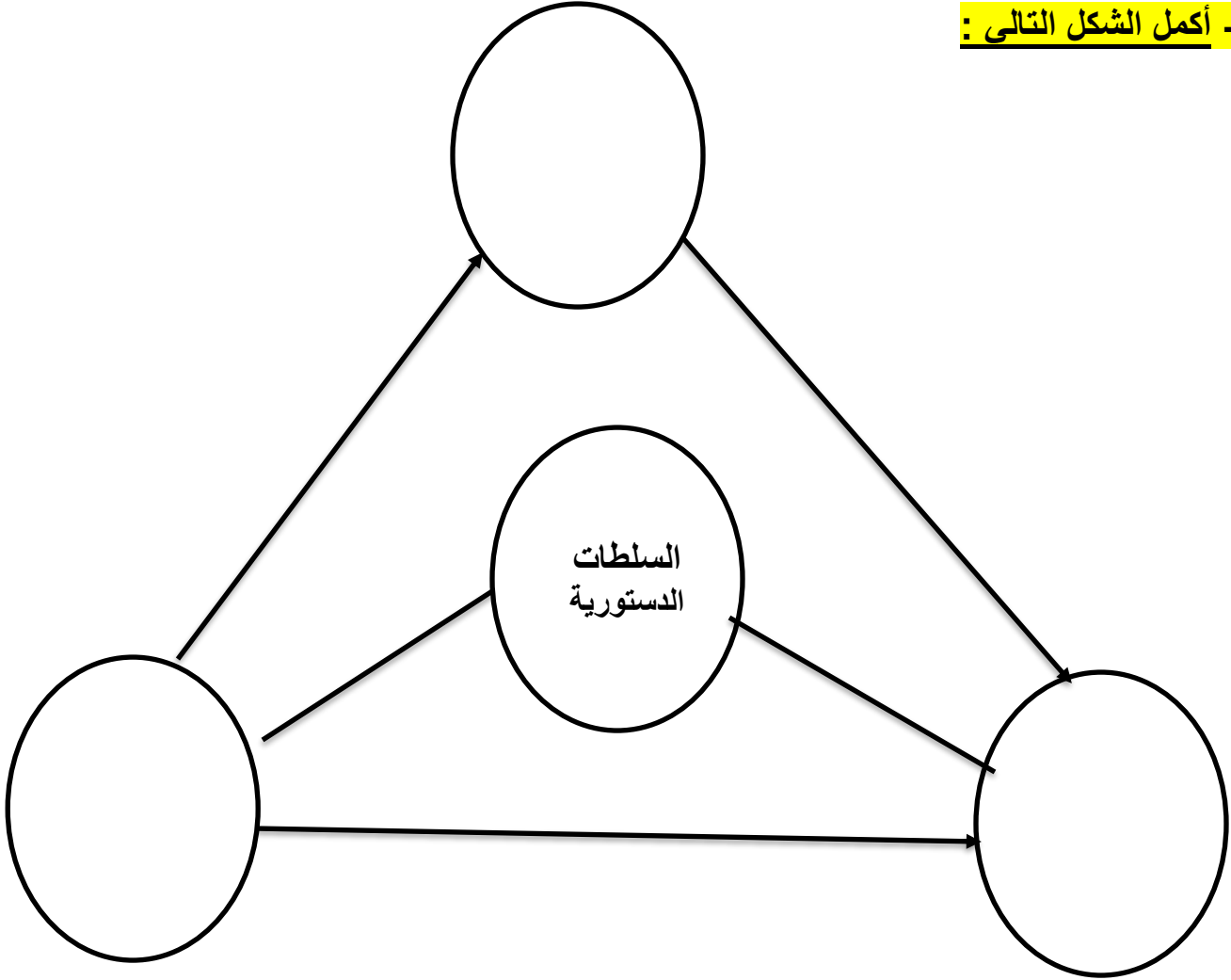
أ-
ب-
ج-

5- أذكر أهم الاختصاصات التي تتولاها السلطة القضائية في دولة قطر :

أ-

ب-

6- أكمل الشكل التالي :



تم بحمد الله