



والتوفيق

تهنيتي لكم بالدجاج



مادة الدراسات الاجتماعية والتربية الوطنية
الصف الرابع



إعداد المعلمة : خديجة محمد الهندي

مدرسة : أحمد بن ماجد ح¹

التدريبات
الفصل الدراسي الثاني
2017-2018

تدريبات لا تغني عن
الكتاب

من أنا

أولاً «سكان بلادي»

رأيت



YEAR OF ZAYED

علل؟

زيادة عدد الواليد وقلة عدد الوفيات ؟



اختر الإجابة الصحيحة فيما يلي :

ظهر التنمية في دولة الإمارات بعد اكتشاف :

(المترو - النفط - الشوارع)

عدد السكان في دولة الإمارات في حالة :

(تراجع مستمر - ثابت - زيادة مستمرة)

أرض جافة قاحلة قليلة المطر
فمن أنا ؟؟

امتداد لليابسة محاطة بالماء من
ثلاث جهات
فمن أنا ؟؟

عملية التغير نحو الأحسن والأفضل
فمن أنا ؟؟

ما هي أسباب النمو السكاني في دولة الإمارات



ارتفاع مستوى المعيشة



ماذا ينتج عن قلة الأمطار وارتفاع
درجات الحرارة في المناطق الصحراوية ؟

.....

.....

.....

.....

.....

.....





من خلال الخريطة أحب عما يلي :

العوامل المؤثرة في توزيع السكان في دولة الإمارات ؟

- لماذا يقل السكان في المنطقة المشار إليها بـ (أ)



اذكر اسم مناطق التركيز السكاني والمشار إليهم بـ :

(ب) السهل الساحلي

(ج) السهل الساحلي



● يتركز 70 % من السكان في دولة الإمارات في :

السهول الحصوية الساحل الشرقي الساحل الغربي

● السهول الحصوية تضم بعض المدن الصغيرة مثل :

الفجيرة حتا واحة ليوا

● تقع مدينة أم القيوين في :

السهول الحصوية الساحل الغربي الإقليم الصحراوي

● تقع مدينة كلباء في :

الساحل الشمالي الساحل الشرقي الإقليم الصحراوي

● تقع مدينة العين في :

الساحل الغربي الساحل الشرقي الإقليم الصحراوي

اختار الإجابة الصحيحة فيما يلي :

● توفر فرص العمل.



YEAR OF
ZAYED

أكمل

المخطط التالي

أهمية التعداد السكاني

.....

.....

.....

.....



ضع المفاهيم التالية في مكانها المناسب :

(التلوث - التعداد السكاني - بطاقة الهوية)

• عملية يقوم بها جهاز مختص داخل الدولة بهدف تسجيل عدد السكان المتواجدين

في الدولة في يوم محدد وتاريخ محدد. (.....)

• إلحاق الضرر بالبيئة ناجم عن زيادة في عدد السكان. (.....)

• هي بطاقة إلكترونية تصدرها الدولة وترجع أهميتها إلى أنها تسهل لحاملها

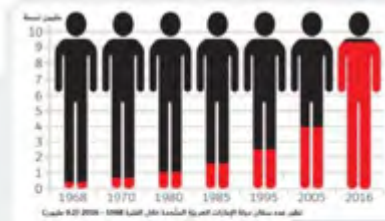
الحصول على الخدمات الحكومية جميعها وتثبت هويته. (.....)



من هي الجهة الرسمية في دولة الإمارات العربية المتحدة التي أنجزت مشروع بطاقة الهوية الذكية ؟

.....

.....



الشكل في الكتاب
المدرسي ص 25



عن خلال الشكل الذي أعطاك أجب عما يلي :

- يبلغ عدد السكان في عام 1980 م
- يبلغ عدد السكان في عام 2016 م
- اكتب حقيقة :

- أيهما أكثر الذكور أم الإناث في المجتمع الإماراتي

الأنشطة الاقتصادية في دولة الإمارات


الوحدة الأولى: وطن السعادة

أولاً «الصناعة والتجارة»

الاسم: الصف الرابع: «.....»



الأنشطة الاقتصادية في دولة الإمارات العربية المتحدة



الثروة

الثروة

الثروة

.....

.....

.....

اهتمام دولة الإمارات العربية المتحدة
بتنوع مصادر الدخل؟

علل؟



تحويل المادة..... إلى مادة

تنقسم الصناعة إلى نوعين

الصناعة

الصناعة

هي تحويل المواد
الخام إلى منتجات
مفيدة

هي استخراج المعادن
والنفط والغاز من
باطن الأرض

أنواع الصناعة

من أنا

صنف الصناعات التالية حسب معطيات الجدول

الصناعة	صناعة تحويلية	صناعة استخراجية
الألمونيوم		
استخراج النفط		
الملابس		
استخراج الغاز		
الأدوية		

حفر الأرض للحصول على موارد نافعة كالمعادن أو الفلزات أو الوقود

أولاً «الصناعة والتجارة»



ضع دائرة على البضائع التي تستوردها بلادي من الخارج



من أنا

نشاط يقوم به
الإنسان من أعمال
البيع والشراء
للحصول على الأموال



وتنقسم إلى قسمين



1 (.....)

هي السلع والبضائع
التي تباع خارج
الدولة .

2 (.....)

السلع والبضائع التي
تشتري من خارج
الدولة

ضع علامة (√) أسفل صورة وسائل النقل المستخدمة
قديماً في التجارة :





واستمع بالتلويح



YEAR OF
ZAYED

ثانياً « الثروة الزراعية والثروة السمكية والحيوانية »

أكمل الخطط التالي

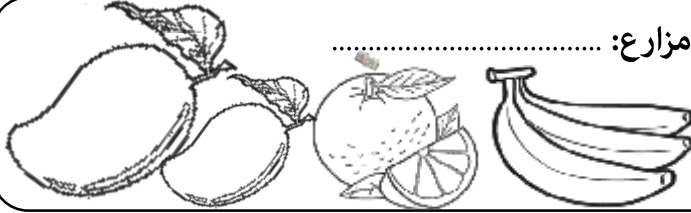
جهود الإمارات للنهوض بالثروة السمكية

أكمل بطاقة الهوية لأنواع المزروعات في دولة الإمارات:

مزارع:




مزارع:



مزارع:



مزارع :



من القائل " أعطوني زراعة أعطيكم حضارة "

الشيخ

اكتب أسماء
أشهر
الأسماك في
بلادنا



#الانترنت_افضل_استخداما
_في_الامارات



من جهود دولة الإمارات للنهوض بالثروة الحيوانية



ضع الكلمات المساعدة التالية في مكانها المناسب
الصحراء / سويحان / الأمن الغذائي

- من أهم مناطق زراعة الزهور في دولة الإمارات
- توفير الغذاء بدون نقص هو
- يلقب الشيخ زايد بالرجل الذي روض



زايد



YEAR OF
ZAYED

ثالثا > السياحة <<

أنواع السياحة

أكمل الخطأ التالي



السياحة بغرض تعرف على
المعالم الأثرية والتراثية

السياحة.....



السياحة بهدف التسويق
وشراء المنتجات

السياحة.....



السياحة بهدف العلاج
والاستشفاء

السياحة.....



السياحة بهدف متابعة
البطولات الرياضية

السياحة.....



السياحة بغرض الترويح عن
النفس

السياحة.....



برج في



جزيرة في



جزر في



جزيرة في

أكمل ما يلي

من أنا

السفر والانتقال من دولة إلى دولة أخرى بهدف

الترفيه والاستكشاف والترويح عن النفس



من مقومات السياحة في دولة الإمارات العربية المتحدة

.....

.....

.....



مخط الصور الدالة على الأسباب الطبيعية لتلوث



من أنا

هو أي تغير ضار يؤثر على الهواء أو الماء أو الأرض أو ما يضر بصحة الإنسان والكائنات الحية الأخرى

ما أضرار التلوث المترتبة على كل من :

الأضرار	
.....	الإنسان
.....	الحيوان
.....	الكائنات الحية



أنواع التلوث

تلوث

تلوث


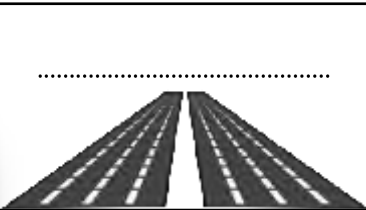



تلوث

تلوث

تلوث

تانيا «الازدهام الهروي» ثالثا «جهود دولة الإمارات في حماية البيئة»

أكمل الجدول حسب الععطيات فيما يلي :

المشكلة	السبب	الحل
المشكلة هي الهروي		
		

من أنا

عدم قدرة مستخدمي الطرق على الانتقال
من مكان إلى آخر بالسرعة المناسبة

من أنا

أول مدينة خالية من الكربون والنفثات
الصناعية صديقة للبيئة ، تعمل بطاقة الشمسية
مدينة
تقع في إمارة



تشجيع استخدام



إصدار



إنشاء



الاهتمام

الحلول التي تعتمدها دولة الإمارات
العربية المتحدة لحماية البيئة

ما هي أضرار الازدهام الهروي

1.....

2.....

3.....



مشروع في دبي عمل على تشجيع وسائل النقل الجماعي وقلل
من تأثير الازدهام الهروي





أولا وثانيا «انتشار الإسلام في منطقة الإمارات ومدينة دبا»

من رسائل الدعوة إلى الإسلام



أرسل إلى حامل الرسالة



يرافقه

ملكي

(..... و)

أبناء

سارع أهل عمان بالدخول إلى الإسلام

علل ،

سرعة دخول أهل عمان في الإسلام ؟

أثر الإسلام في منطقة الإمارات وعمان ؟

اختار الإجابة الصحيحة فيما يلي :

- دخل أهل الإمارات وعمان الإسلام

(طوعية - إكراه - إجبار)

- تسمى منطقة الإمارات وعمان قديما باسم:

(الساحل - الغبراء - الدهماء)

- فتح الرسول مكة المكرمة في السنة :

(7 هـ - 8 هـ - 9 هـ)

- دبا ثاني أكبر مدن إمارة :

(عجمان - رأس الخيمة - الفجيرة)

- دبا الحصن مدينة تابعة لإمارة :

(الشارقة - الفجيرة - دبي)

- المضيق الذي يكون قريبا من مدينة دبا :

(هرمز - باب المندب - ملقا)

- تطل دبا على بحر:

(العرب - عمان - الأحمر)

هيزات رسائل الرسول لأهل الإمارات وعمان:



ضع الكلمات التالية في مكانها المناسب:

(ترانزيت - الأسرة - التكافل الاجتماعي)

التعاون بين أفراد المجتمع

دبا كانت تمثل مركزا تجاريا بين الشرق والغرب وهي ما يطلق عليه اليوم

.....

نواة المجتمع

..... 1 2 3



ثالثا «المهلب بن أبي صفرة»

على الخريطة التي أمامك :

- حوط المدينة التي ولد فيها.
- ما اسم المسطح المائي الذي تطل عليه المدينة التي ولد فيها ولونه.

.....

مكان ولادتي

مدينة

اسمي

كنيتي

أولى غزواتي كانت لبلاد

من هو الصحابي الذي أعجب بالمهلب بن أبي صفرة

من صفات المهلب بن أبي صفرة





أنا المهلب بن أبي صفرة شخصية لا تنسها فأكمل مقتطفات من جوانب حياتي وإنجازاتي فيها يلي :

	<p>ولدت في 7 هـ وكانت وفاتي في 82 هـ فكم عمره عند وفاته ؟؟</p>	<p>الصحابي الجليل الذي أطلق علي لقب " سيد أهل العراق " هو</p>	
<p>كانت أولى غزواتي إلى بلاد حيث حققت النصر</p>			<p>ساهمت في حركة الفتوحات الإسلامية في بلاد و.....</p>
	<p>ما النصيحة التي قدمتها لأولادي</p>	<p>شاركت بالفتوحات الإسلامية ومن المعركة التي خضتها معركة ضد</p>	
<p>حاربت فئة خرجت عن الاسلام حتى حققت النصر عليهم فمن هذه الفئة ؟</p>			<p>أصبحت واليا على ولاية</p>

الاسم : الصف الرابع : (.....)

أولا : إمارة أبوظبي ودبي

إمارة ومسمى



الوحدة الثانية : عراقه بلادي

عدد الجزر التابعة لإمارة أبوظبي
أكثر من جزيرة

تعتبر أبوظبي دولة الإمارات العربية المتحدة.

تعود تسمية أبوظبي بهذا الاسم
لكنة حيوان



تسمى أبوظبي قديما

قبيلة التي استقرت بأبوظبي قبيلة
.....

الشيخ
هو أول حاكم آل نهيان في أبوظبي



الذي شيد قلعة



يقع في
أبوظبي جسر

أبوظبي الإمارات
السبع من حيث المساحة



هوط على الخريطة

الواحات التابعة لإمارة أبوظبي
وتعتبر من أجمل واحاتها



من أبرز المعالم لإسلامية في أبوظبي
جامع

تقع فيها أكبر مدينة ألعاب مغطاه في
العالم وهي



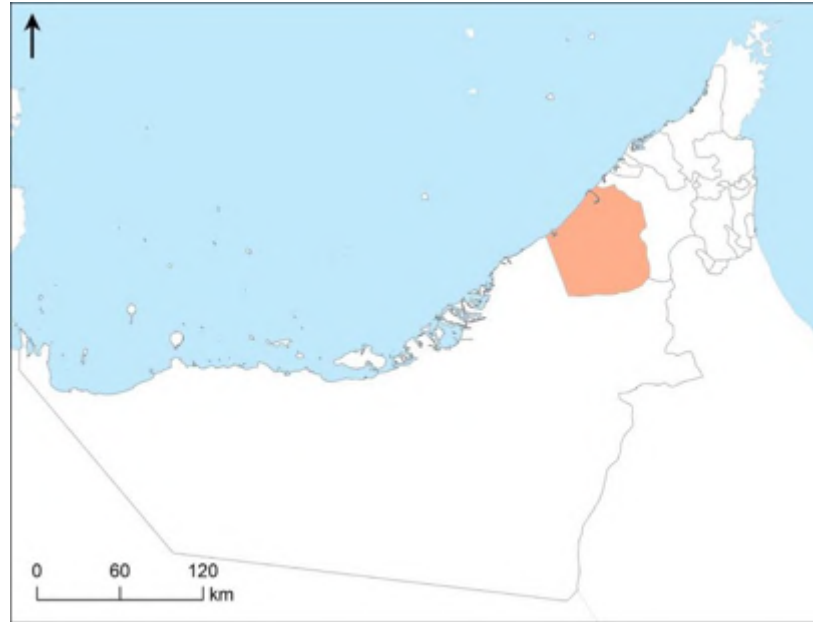


إكسبو 2020
دبي، الإمارات العربية المتحدة
DUBAI, UNITED ARAB EMIRATES
مدينة مرشحة

ستستضيف دبي في 2020 معرض

أستكمل العبارات التالية بها يناسبها

دبي الإمارات السبع من حيث المساحة



تعتبر أسرة (آل)
حكام إمارة دبي من فرع البوفلاسة
المنتمية إلى حلف بني ياس
من أهم الموارد الاقتصادية في دبي :



أشهر ميناء بحري في منطقة
الشرق الأوسط ميناء



يوجد بها أعلى برج هو برج



تتميز دبي بكثرة الجزر الصناعية مثل :



من المواقع الأثرية في دبي

الصف الرابع : > <.....>

الاسم :

ثانيا : إمارتا الشارقة ورأس الخيمة

إمارة ومسمى

الوحدة الثانية : عراقة بلادي



في الثاني من ديسمبر 1971م
ساهم الشيخ

في قيام الاتحاد

سميت رأس الخيمة بهذا
الاسم نسبة إلى

لإرشاد السفن للميناء

كانت تسمى رأس الخيمة
قديما

من الجزر الصناعية في
رأس الخيمة.....

تعد رأس الخيمة الإمارة
لدولة الإمارات من حيث المساحة




تشتهر رأس الخيمة بالقلع
مثل قصر



أستكمل العبارات التالية بما يناسبها
الشارقة الإمارات
السبع من حيث المساحة



هي الإمارة الوحيدة التي تملك سواحل على
بحر والخليج



أعلى جبل في الدولة
جبل



الشيخ

منطقة..... حيث
عيون المياه الحارة



هي عاصمة
والكتب



تحمل لواء العلم والثقافة
بقيادة



حكمت الشارقة قبيلة

وظهرت كقوة

ثالثا : الفجيرة وأم القيوين وعجمان

الاسم : الصف الرابع : (.....)



عرفت الفجيرة بالتاريخ القديم

يصدر النفط الخام من أبوظبي
للأسواق العالميةمن أشهر القلاع وأضخمها
.....أقد مسجد باق في الإمارات
مسجد

الفجيرة

تطل إمارة
الفجيرة على بحر
.....

اختار الإجابة الصحيحة فيما يلي :

- إمارة الاستجمام والراحة والطبيعة الخلابة :

(عجمان - الشارقة - الفجيرة)

- كانت إمارة الفجيرة الموطن الأول لـ :

(القواسم - الشرقيين - النعيم)

- أصغر إمارة من حيث المساحة :

(رأس الخيمة - عجمان - أم القيوين)

- إمارة أهلها مشهورون بصيد السمك وتجارة اللؤلؤ :

(رأس الخيمة - عجمان - أم القيوين)

- إمارة تقع بين إماراتي رأس الخيمة والشارقة :

(دبي - عجمان - أم القيوين)

- إمارة عرفت بأنها أكبر مركز لصناعة القوارب التقليدية :

(الشارقة - دبي - عجمان)

- سادس إمارة من حيث المساحة :

(عجمان - رأس الخيمة - أم القيوين)

- تطل الفجيرة على مسطح مائي وهو :

(البحر الأحمر - بحر عمان - الخليج العربي)

أم القيوين

تسمية أم القيوين
بهذا الاسم
.....من أكبر الجزر السياحية
.....مدينة أثرية
.....يحكمها الشيخ
.....

أهم ما يميز عجمان



.....

.....

.....

عجمان

أهم مدن عجمان
.....

من أنا

منطقة جغرافية محددة المساحة تخصص للمحافظة على الموارد البيئية المتجددة قد تحتوي على حيوانات أو نباتات مهددة بالإقراض (.....)

تراثنا الأصيل

الوحدة الثانية : عراقه بلاري

أولا : التراث المادي والتراث الغير المادي

اختار الإجابة الصحيحة فيما يلي :

- كل ما خلفه الأجداد لكي يكون عبرة من الماضي ونهجا يستقي منه الأبناء الدروس ليعبروا بها من الحاضر إلى المستقبل :
- (الحضارة - التراث - النهج)
- يشمل المباني والأماكن التاريخية والآثار والتحف :
- (التراث - التراث الغير المادي - التراث المادي)
- يشمل التصرفات والممارسات وأشكال التعبير والمعارف والمهارات كالمهرجانات التقليدية والتقاليد الشفهية والملاحم والعادات وأساليب المعيشة والحرف التقليدية :
- (التراث - التراث الغير المادي - التراث المادي)
- حوط الصورة التي لا تنتمي لتراث الغير المادي:



- واحدة من التالي ليس من الأمثلة على التراث المادي هي:
- (القلاع - المباني - الحرف)
- واحدة من التالي ليست من التراث الغير المادي :
- (التصرفات - التحف - المعارف)

الاسم : الصف الرابع : < >



أسباب الاهتمام بالتراث المادي

الخطا التالي

أكمل

أسباب الاهتمام بالتراث الغير المادي

أحدد التراث المادي وغير المادي من خلال الصور التالية

التراث



التراث



التراث



التراث



- مكان لجمع وحفظ الآثار القديمة وكل ما يتصل بالتراث الحضاري:

(الفهيدى - الحصن - القاسمية)

ثانيا: الحفاظ على التراث



صل صورة التكف بالإمارة التي يقع فيها:

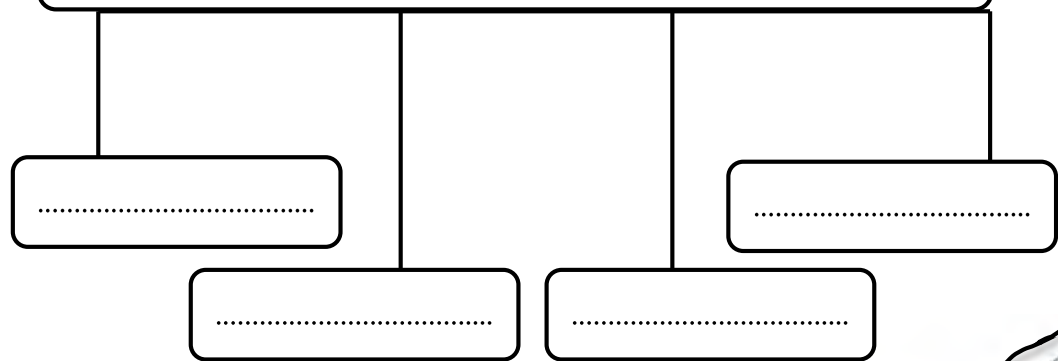


ضع الكلمات التالية في مكانها المناسب:

(الألعاب الشعبية - الهوية الوطنية - الطب الشعبي - الأحشام)

- إن العادات والتقاليد الإماراتية الأصيلة هي جزء من ملامح
- تظهر العادات والتقاليد بوضوح في الأعياد والزواج و.....و.....
- نتعلم العادات والتقاليد من التربية ومن مخالطة

أهم الآداب والعادات التي تكرر السلوكيات الطيبة قولاً وفعلًا



من سنع بلادي:

أبد بصب القهوة للجالسين والضيوف من اليمين إلى

ممسكا الدلة باليد

و باليد اليمنى



اختر الإجابة الصحيحة فيما يلي :

- جملة من العادات والتقاليد المتعارف عليها وتشمل معرفة القواعد والآداب العامة في التصرف مع الآخرين:
- (التراث - السنع - العادات والتقاليد)
- نتعلم السنع والعادات والتقاليد من مجالس:
- (الشباب - الكبار - الصغار)
- من ركائز العادات والتقاليد في دولة الإمارات:
- (الأخلاق الإسلامية - الحضارة - الزيارات)
- (الذرابة في الرمسة) تعني آداب :
- (الطعام - الحديث - السلام)
- الفرزة تعني:
- (التطوع - الأمانة - مساعدة المحتاج)
- اكتساب العادات والتقاليد يتم بـ :
- (التلقين - الممارسة - الاجتهاد)

على ماذا يدل هز الفنجان



نموذج حل التدريبات



مادة الدراسات الاجتماعية والتربية الوطنية
الصف الرابع



إعداد المعلمة : خديجة محمد الهندي

مدرسة : أحمد بن ماجد ح¹

من أنا

أولاً «سكان بلادي»



علل؟

زيادة عدد الواليد وقلة عدد الوفيات؟



● بناء المستشفيات



● التطعيم



● توفير الأطباء

اختار الإجابة الصحيحة فيما يلي :

ظهر التنمية في دولة الإمارات بعد اكتشاف :

(المترو - النفط - الشوارع)

عدد السكان في دولة الإمارات في حالة :

(تراجع مستمر - ثبات - زيادة مستمرة)

أرض جافة قاحلة قليلة المطر

فمن أنا؟؟

..... الصحراء

امتداد لليابسة محاطة بالماء من

ثلاث جهات

فمن أنا؟؟

..... شبه الجزيرة

عملية التغير نحو الأحسن والأفضل

فمن أنا؟؟

..... التنمية



ما هي أسباب النمو السكاني في دولة الإمارات

الزراعة



ارتفاع مستوى المعيشة



زيادة عدد المواليد

وقلة عدد الوفيات



استقدام العاملين

ماذا ينتج عن قلة الأمطار وارتفاع درجات الحرارة في المناطق الصحراوية؟

قلة عدد السكان





من خلال الخريطة أحب عما يلي:

العوامل المؤثرة في توزيع السكان في دولة الإمارات؟

- لماذا يقل السكان في المنطقة المشار إليها بـ (أ)؟

..... **قلة فرص العمل**

اذكر اسم مناطق التركز السكاني والمشار إليهم بـ:

..... (ب) السهل الساحلي **الغربي**

..... (ج) السهل الساحلي **الشرقي**



● **الموقع على الساحل**



● **توفر المياه الجوفية والتربة**



● **سهولة المواصلات**



● **توفر الموارد الطبيعية**



● **توفر فرص العمل**

● يتركز 70 % من السكان في دولة الإمارات في:

الساحل الغربي

الساحل الشرقي

السهول الحصوية

● السهول الحصوية تضم بعض المدن الصغيرة مثل:

واحة ليوا

حما

الفجيرة

● تقع مدينة أم القيوين في:

الإقليم الصحراوي

الساحل الغربي

السهول الحصوية

● تقع مدينة كلباء في:

الإقليم الصحراوي

الساحل الشرقي

الساحل الغربي

● تقع مدينة العين في:

الإقليم الصحراوي

الساحل الشرقي

الساحل الغربي

اختار الدجاجة الصحيحة فيما يلي:



YEAR OF
ZAYED

أكمل

المخطط التالي

أهمية التعداد السكاني

تجنب المشكلات السكانية
كالازدحام والتلوث

توفير الخدمات الصحية
والتعليمية والمرافق كافة



ضع المفاهيم التالية في مكانها المناسب :

(التلوث - التعداد السكاني - بطاقة الهوية)

• عملية يقوم بها جهاز مختص داخل الدولة بهدف تسجيل عدد السكان المتواجدين

في الدولة في يوم محدد وتاريخ محدد. (التعداد السكاني)

• إلحاق الضرر بالبيئة ناجم عن زيادة في عدد السكان. (التلوث.....)

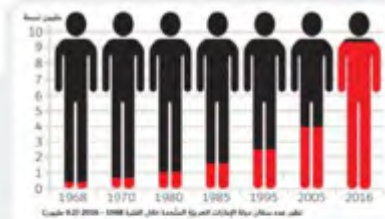
• هي بطاقة إلكترونية تصدرها الدولة وترجع أهميتها إلى أنها تسهل لحاملها

الحصول على الخدمات الحكومية جميعها وتثبت هويته. (بطاقة الهوية...)

من هي الجهة الرسمية في دولة الإمارات العربية المتحدة التي أنجزت مشروع بطاقة الهوية الذكية ؟

الهيئة الاتحادية

للهوية والجنسية



الشكل في الكتاب
المدرسي ص 25



عن خلال الشكل الذي أعفك أهب عما يلي :

- يبلغ عدد السكان في عام 1980 م ..مليون نسمة
- يبلغ عدد السكان في عام 2016 م ..9.1 مليون نسمة
- اكتب حقيقة :
- يبلغ عدد سكان دولة الإمارات في 2016م 9.1 مليون نسمة
- أيهما أكثر الذكور أم الإناث في المجتمع الإماراتي الذكور...

الأنشطة الاقتصادية في دولة الإمارات


الوحدة الأولى: وطن السعادة

أولاً «الصناعة والتجارة»

الأنشطة الاقتصادية في دولة الإمارات العربية المتحدة



YEAR OF ZAYED



الثروة السمكية

الثروة الحيوانية

الثروة الزراعية

السياحة

التجارة

الصناعة

اهتمام دولة الإمارات العربية المتحدة بتنوع مصادر الدخل؟

لبناء اقتصاد قوي

علل؟



تحويل المادة الخام إلى مادة جديدة أكثر نفعاً للإنسان

صنف الصناعات التالية حسب معطيات الجدول

الصناعة	صناعة تحويلية	صناعة استخراجية
الألمونيوم	✓	
استخراج النفط		✓
الملابس	✓	
استخراج الغاز		✓
الأدوية	✓	

تنقسم الصناعة إلى نوعين

الصناعة التحويلية

هي تحويل المواد الخام إلى منتجات مفيدة

الصناعة الاستخراجية

هي استخراج المعادن والنفط والغاز من باطن الأرض

أنواع الصناعة

من أنا

حفر الأرض للحصول على موارد نافعة كالمعادن أو الفلزات أو الوقود

التعدين

أولاً «الصناعة والتجارة»



ضع دائرة على البضائع التي تستوردها بلادي من الخارج



من أنا

نشاط يقوم به
الإنسان من أعمال
البيع والشراء
للحصول على الأموال



وتنقسم إلى قسمين



1 (الصادرات.....)

هي السلع والبضائع
التي تباع خارج
الدولة .

2 (الواردات.....)

السلع والبضائع التي
تشتري من خارج
الدولة

ضع علامة (√) أسفل صورة وسائل النقل المستخدمة
قديماً في التجارة :





واستمع بالتلويح



YEAR OF
ZAYED

ثانياً « الثروة الزراعية والثروة السمكية والحيوانية »

أكمل الخطط التالي

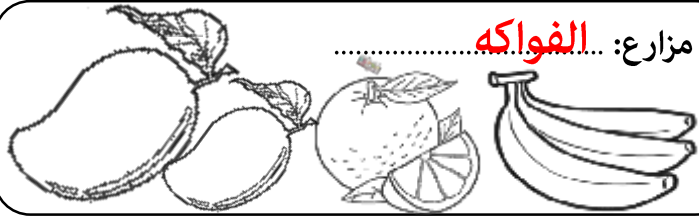
جهود الإمارات للنهوض بالثروة السمكية

أكمل بطاقة الهوية لأنواع المزروعات في دولة الإمارات:



مزارع:

الخضراوات



مزارع:

الفواكه



مزارع:

الزهور



مزارع:

النخيل



من القائل " أعطوني زراعة أعطيكم حضارة "

الشيخ زايد

اكتب أسماء
أشهر
الأسماك في
بلادنا



.....

الهامور



.....

الصافي



.....

الكنعد

#الانترنت_افضل_استخداما
_في_الإمارات



إقامة أسواق مخصصة لبيع الأسماك



تقديم المساعدات المالية



توفير أدوات الصيد الحديثة

من جهود دولة الإمارات للنهوض بالثروة الحيوانية



.....

الرعاية البيطرية



.....

توفير الأعلاف

ضع الكلمات المساعدة التالية في مكانها المناسب

الصحراء / سويحان / الأمن الغذائي

• من أهم مناطق زراعة الزهور في دولة الإمارات... سويحان

• توفير الغذاء بدون نقص هو الأمن الغذائي

يلقب الشيخ زايد بالرجل الذي روض الصحراء



زايد



YEAR OF
ZAYED

ثالثا > السياحة <<

أنواع السياحة

أكمل الخطأ التالي

 <p>السياحة بغرض تعرف على المعالم الأثرية والتراثية</p> <p>السياحة التاريخية.....</p>	 <p>السياحة بهدف التسويق وشراء المنتجات</p> <p>السياحة التسويقية.....</p>	 <p>السياحة بهدف العلاج والاستشفاء</p> <p>السياحة العلاجية.....</p>	 <p>السياحة بهدف متابعة البطولات الرياضية</p> <p>السياحة الرياضية.....</p>	 <p>السياحة بغرض الترويح عن النفس</p> <p>السياحة الترفيهية.....</p>
---	--	---	---	--



برج خليفة في دبي



جزيرة المرجان في رأس الخيمة



جزر العالم في دبي



جزيرة النخلة في دبي

أكمل أي قسم من الأقسام التالية

من أنا



السفر والانتقال من دولة إلى دولة أخرى بهدف

الترفيه والاستكشاف والترويح عن النفس

..... السياحة

من مقومات السياحة في دولة الإمارات العربية المتحدة


• الأمن والاستقرار

• توفر مراكز التسوق

• توفر الخدمات كالفنادق والحدائق ووسائل النقل



مخطط الصور الدالة على الأسباب الطبيعية لتلوث



عن أنا

هو أي تغير ضار يؤثر على الهواء أو الماء أو الأرض أو ما يضر بصحة الإنسان والكائنات الحية الأخرى

التلوث

ما أضرار التلوث المترتبة على كل من :

الأضرار	
انتشار الأمراض	الإنسان
انقراض الحيوانات أو موتها	الحيوان
هلاك أعداد لا حصر لها من	الكائنات الحية



الكائنات الحية



تلوث السمعي

تلوث الاشعاعي

تلوث التربة

تلوث الماء

تلوث الهواء

أنواع التلوث

تانيا «الازدهام الهروي» ثالثا «جهود دولة الإمارات في حماية البيئة»

أكمل الجدول حسب الععطيات فيها يلي:



المشكلة	السبب	الحل
المشكلة هي ...الازدهام... الهروي	ضيق الشوارع.....	بناء طرق جديدة وتوسعتها
زيادة عدد السيارات	استخدام النقل الجماعي.....	استخدام النقل الجماعي.....



من أنا

عدم قدرة مستخدمي الطرق على الانتقال
من مكان إلى آخر بالسرعة المناسبة
...الازدهام الهروي...



من أنا

أول مدينة خالية من الكربون والنفايات
الصناعية صديقة للبيئة ، تعمل بطاقة الشمسية
مدينة... مصدر...
تقع في إمارة... أبوظبي...



ما هي أضرار الازدهام الهروي

1. الحوادث



2. تأخر الموظفين والطلاب



3. التلوث



الحلول التي تعتمدها دولة الإمارات
العربية المتحدة لحماية البيئة

إنشاء المحميات الطبيعية



الاهتمام الزراعة



تشجيع استخدام النقل الجماعي



إصدار القوانين

مشروع في دبي عمل على تشجيع وسائل النقل الجماعي وقلل
من تأثير الازدهام الهروي مترو دبي





أولا وثانيا « انتشار الإسلام في منطقة الإمارات ومدينة دبا »

من رسائل الدعوة إلى الإسلام



أرسل إلى حامل الرسالة



عمرو بن العاص

يرافقه

أبا زيد الأنصاري

ملي عمان

(عبدو و جيفر)

أبناء... الجلندي

أثر الإسلام في منطقة الإمارات وعمان ؟

1... الاهتمام بالأسرة

2... تشجيع العلم والعلماء

3... إتقان العمل والكسب الحلال

العودة للكتاب المدرسي صفحة 56

سارع أهل عمان بالدخول إلى الإسلام طواعية

علل ،

سرعة دخول أهل عمان في الإسلام ؟

السماحة والعدل في الدين الاسلامي

ضع الكلمات التالية في مكانها المناسب:

(ترانزيت - الأسرة - التكافل الاجتماعي)

التعاون بين أفراد المجتمع

دبا كانت تمثل مركزا تجاريا بين الشرق والغرب وهي ما يطلق عليه اليوم

ترانزيت

نواة المجتمع الأسرة



1 الإيجاز 2 الحكمة والموعظة 3 الكلمة الطيبة

اختار الإجابة الصحيحة فيما يلي :

- دخل أهل الإمارات وعمان الإسلام

(طواعية - إكراه - إجبار)

- تسمى منطقة الإمارات وعمان قديما باسم:

(الساحل - الغرباء - الدهماء)

- فتح الرسول مكة المكرمة في السنة :

(7 هـ - 8 هـ - 9 هـ)

- دبا ثاني أكبر مدن إمارة :

(عجمان - رأس الخيمة - الفجيرة)

- دبا الحصن مدينة تابعة لإمارة :

(الشارقة - الفجيرة - دبي)

- المضيق الذي يكون قريبا من مدينة دبا :

(هرمز - باب المندب - ملقا)

- تطل دبا على بحر:

(العرب - عمان - الأحمر)

هيزات رسائل الرسول لأهل الإمارات وعمان:



ثالثا < المهلب بن أبي صفرة >



على الخريطة التي أمامك :
- حوط المدينة التي ولد فيها.
- ما اسم المسطح المائي الذي تطل عليه المدينة التي ولد فيها ولونه.
بحر عمان

سنة ميلادي
٩٧

مكان ولادتي

مدينة **دبا**

اسمي
المهلب بن أبي صفرة الأزدي القحطاني

أولى غزواتي كانت لبلاد
السند

كنيتي
أبو سعيد

من هو الصحابي الذي أعجب بالمهلب بن أبي صفرة
عمر بن الخطاب

من صفات المهلب بن أبي صفرة
الكرم والحلم والشجاعة والقيادة وحسن التدبير



أنا المهلب بن أبي صفرة شخصية لا تنسها فأكمل مقتطفات من جوانب حياتي وإنجازاتي فيها يلي :

	<p>ولدت في 7 هـ وكانت وفاتي في 82 هـ فكم كان عمره عند وفاته ؟؟ 75 عاما</p>	<p>الصحابي الجليل الذي أطلق علي لقب " سيد أهل العراق " هو عبدالله بن الزبير</p>	
<p>كانت أولى غزواتي إلى بلاد السند حيث حققت النصر</p>			<p>ساهمت في حركة الفتوحات الإسلامية في بلاد السند و تركستان</p>
	<p>ما النصيحة التي قدمتها لأولادي في الاتحاد قوة وفي التفرق ضعف</p>	<p>شاركت بالفتوحات الإسلامية ومن المعارك التي خضتها معركة القادسية ضد الفرس</p>	
<p>حاربت فئة خرجت عن الاسلام حتى حققت النصر عليهم فمن هذه الفئة ؟ الخوارج</p>			<p>أصبحت واليا على ولاية خراسان</p>

تعود تسمية أبوظبي بهذا الاسم
لكثرة حيوان **الظبي**



تسمى أبوظبي قديما
..... **أم النار**

قبيلة التي استقرت بأبوظبي قبيلة
..... **بني ياس**

الشيخ **ذياب بن عيسى**

هو أول حاكم آل نهيان في أبوظبي



الذي شيد قلعة
..... **الحصن**



يقع في
أبوظبي جسر
..... **المقطع**

هوط على الخريطة

الواحات التابعة لإمارة أبوظبي
وتعتبر من أجمل واحاتها



من أبرز المعالم لإسلامية في أبوظبي
جامع **الشيخ زايد**



تعتبر أبوظبي **عاصمة** دولة الإمارات العربية المتحدة.



عدد الجزر التابعة لإمارة أبوظبي
أكثر من **200** جزيرة

أبوظبي **أكبر** الإمارات
السبع من حيث المساحة



تقع فيها أكبر مدينة ألعاب مغطاه في
العالم وهي **عالم فيراري**

الاسم : الصف الرابع : <.....>

أولا : إمارة أبوظبي ودبي ،

إمارة ومسمى

الوحدة الثانية : عراقة بلادي



إكسبو 2020
دبي، الإمارات العربية المتحدة
DUBAI, UNITED ARAB EMIRATES
مدينتهمرشدة

ستستضيف دبي في 2020 معرض
إكسبو



أشهر ميناء بحري في منطقة
الشرق الأوسط ميناء

جبل علي

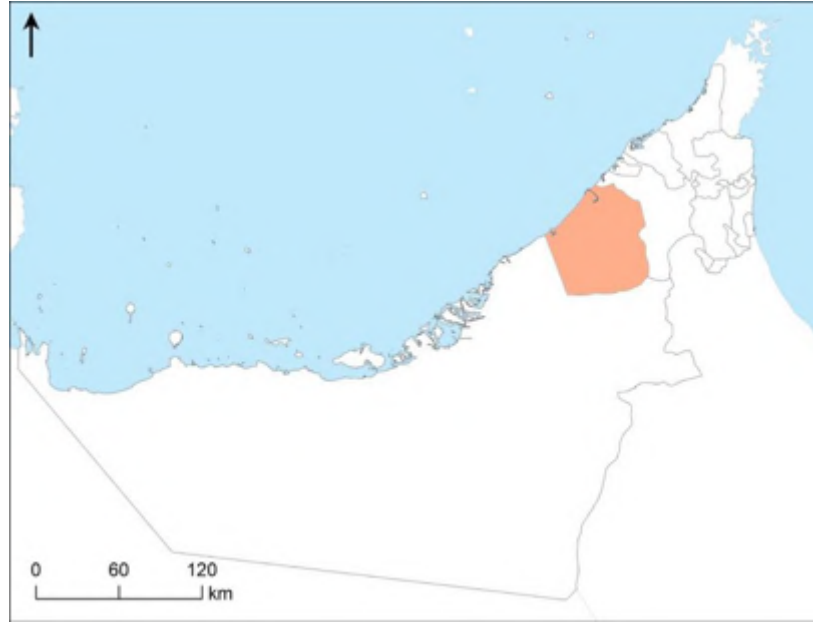


يوجد بها أعلى برج هو برج

خليفة

أستكمل العبارات التالية بها يناسبها

دبي ثاني الإمارات السبع من حيث المساحة



تعتبر أسرة (آل ... مكتوم)
حكام إمارة دبي من فرع البو فلاسة
المنتمية إلى حلف بني ياس
من أهم الموارد الاقتصادية في دبي :

السياحة



التجارة



العقارات



تتميز دبي بكثرة الجزر الصناعية مثل :

من المواقع الأثرية في دبي



جزر العالم

جزيرة النخلة جميرا

جميرا

القصيص

ثانيا : إمارتا الشارقة ورأس الخيمة



في الثاني من ديسمبر 1971م

ساهم الشيخ

خالد بن محمد القاسمي

في قيام الاتحاد

سميت رأس الخيمة بهذا

الاسم نسبة إلى

الخيمة التي كانت تنصب على الساحل

لإرشاد السفن للميناء

كانت تسمى رأس الخيمة

قدما

جلفار

من الجزر الصناعية في

رأس الخيمة **المهرجان**

أهم ما يميز إمارة الشارقة

أستكمل العبارات التالية بما يناسبها

الشارقة **ثالث** الإمارات

السبع من حيث المساحة



السوق المركزي



مشروع ثقافة بلا حدود

(مكتبة لكل بيت)


تعد رأس الخيمة الإمارة **الرابعة**

لدولة الإمارات من حيث المساحة



تشتهر رأس الخيمة بالقلع

مثل قصر **الزباء**



أعلى جبل في الدولة

جبل **جيس**



الشيخ **صقر القاسمي**

منطقة **خت** حيث

عيون المياه الحارة



هي عاصمة

الثقافة والكتب



تحمل لواء العلم والثقافة

بقيادة

سلطان بن محمد لقاسمي



حكمت الشارقة قبيلة

القواسم

وظهرت كقوة

بحرية



ثالثا : الفجيرة وأم القيوين وعجمان

الاسم : الصف الرابع : (.....)



عرفت الفجيرة بالتاريخ القديم **أرض عمالقة البحار**



يصدر النفط الخام من أبوظبي
للأسواق العالمية **ميناء الفجيرة**

من أشهر القلاع وأضخمها
قلعة الفجيرة

أقد مسجد باق في الإمارات
البدية

الفجيرة

تطل إمارة
الفجيرة على بحر
عمان

اختار الإجابة الصحيحة فيما يلي :

- إمارة الاستجمام والراحة والطبيعة الخلابة :

(عجمان - الشارقة - **الفجيرة**)

- كانت إمارة الفجيرة الموطن الأول لـ :

(القواسم - **الشرقيين** - النعيم)

- أصغر إمارة من حيث المساحة :

(رأس الخيمة - **عجمان** - أم القيوين)

- إمارة أهلها مشهورون بصيد السمك وتجارة اللؤلؤ :

(رأس الخيمة - عجمان - **أم القيوين**)

- إمارة تقع بين إماراتي رأس الخيمة والشارقة :

(دبي - عجمان - **أم القيوين**)

- إمارة عرفت بأنها أكبر مركز لصناعة القوارب التقليدية :

(الشارقة - دبي - **عجمان**)

- سادس إمارة من حيث المساحة :

(عجمان - رأس الخيمة - **أم القيوين**)

- تطل الفجيرة على مسطح مائي وهو :

(البحر الأحمر - **بحر عمان** - الخليج العربي)

أم القيوين

تسمية أم القيوين
بهذا الاسم
نسبة إلى القوة
البرية والبحرية



يحكمها الشيخ
سعود بن راشد المعلا

مدينة أثرية
الدور



من أكبر الجزر السياحية
جزيرة السينية

عجمان

أهم مدن عجمان
مصفوت
المنامة



يحكمها الشيخ
حميد بن راشد النعيمي



متحف عجمان

محمية الزوراء

من أنا

منطقة جغرافية محددة المساحة تخصص للمحافظة على الموارد البيئية المتجددة قد تحتوي على حيوانات أو نباتات مهددة بالإقراض (**المحمية**)

اختار الإجابة الصحيحة فيما يلي :

- كل ما خلفه الأجداد لكي يكون عبرة من الماضي ونهجا يستقي منه
الأبناء الدروس ليعبروا بها من الحاضر إلى المستقبل :
- (الحضارة - التراث - النهج)
- يشمل المباني والأماكن التاريخية والآثار والتحف :
- (التراث - التراث الغير المادي - التراث المادي)
- يشمل التصرفات والممارسات وأشكال التعبير والمعارف والمهارات
كالمهرجانات التقليدية والتقاليد الشفهية والملاحم والعادات وأساليب
المعيشة والحرف التقليدية :
- (التراث - التراث الغير المادي - التراث المادي)
- حوط الصورة التي لا تنتمي لتراث الغير المادي:



- واحدة من التالي ليس من الأمثلة على التراث المادي هي:
(القلاع - المباني - **الحرف**)
- واحدة من التالي ليست من التراث الغير المادي :
(التصرفات - **التحف** - المعارف)

اکیل

المخطط التالي

أسباب الاهتمام بالتراث المادي

• لأنها موروثة مهمة

• الافتخار بالماضي

أسباب الاهتمام بالتراث الغير المادي

يساعد على الحوار بين الأفراد

• يشجع على الاحترام

أهدد التراث الهادي وغير الهادي من خلال الصور التالية



صل صورة التكمف بالإمارة التي يقع فيها:



(الفنية - العلمية - التاريخية)

(العلمية - التاريخية - الفنية)

(الفنية - العلمية - التاريخية)

(اللوفر - الاتحاد - راس الخيمة الوطني)

(قصر الحصن - القاسمية - الفهيدي)

$$(16 - 15 - 14)$$

(دبی - أبوظبی - الشارقة)

(الفهيدى - الحصن - القاسمية)

ضع الكلمات التالية في مكانها المناسب:

(الألعاب الشعبية - الهوية الوطنية - الطب الشعبي - الأحشام)

- إن العادات والتقاليد الإماراتية الأصيلة هي جزء من ملامح **الهوية الوطنية**
- تظهر العادات والتقاليد بوضوح في الأعياد والزواج و..... **الألعاب الشعبية** و..... **الطب الشعبي**
- نتعلم العادات والتقاليد من التربية ومن مخالطة **الأحشام**.....

أهم الآداب والعادات التي تركز السلوكيات الطيبة قولاً وفعلًا

آداب صب القهوة

آداب الحديث

آداب الطعام

آداب السلام

من سنع بلادي:

أبد بصب القهوة للجالسين والضيوف من اليمين إلى **اليسار**.....

ممسكا الدلة باليد **اليسرى**.....

و..... **الفناجين** باليد اليمنى



اختر الإجابة الصحيحة فيما يلي :

- جملة من العادات والتقاليد المتعارف عليها وتشمل معرفة القواعد والآداب العامة في التصرف مع الآخرين:
- (التراث - **السنع** - العادات والتقاليد)
- نتعلم السنع والعادات والتقاليد من مجالس:
- (الشباب - **الكبار** - الصغار)
- من ركائز العادات والتقاليد في دولة الإمارات:
- (**الأخلاق الإسلامية** - الحضارة - الزيارات)
- (الذرابة في الرمسة) تعني آداب :
- (الطعام - **الحديث** - السلام)
- الفرزة تعني:
- (التطوع - الأمانة - **مساعدة المحتاج**)
- اكتساب العادات والتقاليد يتم بـ :
- (التلقين - **الممارسة** - الاجتهاد)

على فاذا يدل نص
الفنجان



دليل على الانتهاء من شرب القهوة