



بسم الله الرحمن الرحيم

امتحان نهاية الشهر مبحث التربية الاجتماعية

المدرسة :-

التاريخ :-


اسم الطالب :-

الصف :- الثالث الاساسي

س ١: ضع إشارة (√) أمام العبارة الصحيحة وإشارة (X) أمام العبارة الخاطئة فيما يلي:-
(٥ علامات)




٢. () المدينة التي تعتبر مقراً لجلالة الملك عبد الله الثاني بن الحسين حفظه الله ورعاه هي العقبة
٣. () لموقع الاردن أهمية كبيرة بالنسبة للوطن العربي
٤. () عمان مدينة عصرية تجتمع فيها الآثار والمنشآت المعاصرة
٥. () من المعالم القديمة في عمان جسر عبدون
٦. () تقع الاردن في وسط الوطن العربي




س ٢ : أملأ الفراغ بالكلمة – الكلمات – المناسبة فيما يلي :- (٦ علامات)

١. عاصمة المملكة الاردنية الهاشمية
٢. عدد محافظات المملكة الاردنية الهاشمية
٣. المنفذ المائي الوحيد للاردن هو
٤. من محافظات المملكة الاردنية الهاشمية و
٥. من اسماء عمان القديمة

س ٣ : انظر إلى الخريطة المجاورة وأكمل العبارات الآتية : (٤ علامات)



- ١- حُدِّ الأُرْدُن من الشَّمال
- ٢- يَحُدُّ الأُرْدُن من الجَنُوب
- ٣- يَحُدُّ الأُرْدُن من العَرَب
- ٤- يَحُدُّ الأُرْدُن من الشَّرْق



(٥ علامات)

س ٤ : صل بين الصورة واسم المعالم الأثرية والحضارية في عمان :

جبل القلعة



جسر عبدون



قصر رغدان



المدرج الروماني



متحف الحياة الشعبية



وزارة الصحة

نتمنى للجميع النجاح
والتفوق
اعداد المعلمة
ريم السيوف
حصريا
لمنتديات صقر الجنوب