

هذا الامتحان مقدم من منتديات صقر الجنوب



اختبار الشهر الثاني لمادة العلوم – الصف السادس

الفصل الدراسي الثاني 2015 – 2016

السؤال الأول : عرّف كل مما يلي:

- 1- الطاقة :
- 2- الفحم الحجري :
- 3- النفط :
- 4- الخلايا الشمسية :
- 5- المياه السطحية :
- 6- الخزان المائي الجوفي :
- 7- تحلية مياه البحر :

السؤال الثاني : أكمل الفراغ بما يناسبه:

- 1- هي إحدى النباتات المفيدة التي تحتوي على نسبة عالية من الزيوت، لكن ثمارها سامه ولا تؤكل.
- 2- معظم مصادر الطاقة ستنفذ بفترة ليست بعيدة.
- 3- هي الطاقة الناتجة عن تدفق المياه وسقوطها.
- 4- جهاز ذو عضو يديره سائل أو غاز متحرك، وهو يحول الطاقة الحركية الى نوع خاص من الطاقة.
- 5- من الامثلة على استخدامات طاقة الرياح
- 6- تهدف الاستراتيجية الوطنية للطاقة في الأردن إلى الوصول عام 2020 إلى استخدام من مصادر الطاقة
- 7- من استخدامات الغاز الطبيعي
- 8- تسمى العملية التي يقوم فيها النبات بأخذ غاز ثاني اكسيد الكربون والماء وبوجود الطاقة الشمسية، وتحويلها الى غذاء
- 9- يحول السخان الشمسي الطاقة الشمسية إلى طاقة
- 10- الطاقة التي يمتلكها الهواء هي طاقة
- 11- من أهم السدود الموجودة في الأردن
- 12- من الأمثلة على المياه الجوفية.
- 13- تسمى المياه الناتجة عن الاستخدامات المنزلية كالجلي والاستحمام

هذا الامتحان مقدم من منتديات صقر الجنوب



السؤال الثالث : علل ما يلي :

- (1) تم اختيار محافظة الطفيلة لإقامة اول مشروع لاستخدام الرياح في الأردن.
- (2) كلما زادت سرعة الرياح زادت حركة المراوح الحرارية.
- (3) الطاقة الشمسية هي مصدر الطاقة الرئيسي على سطح الأرض.

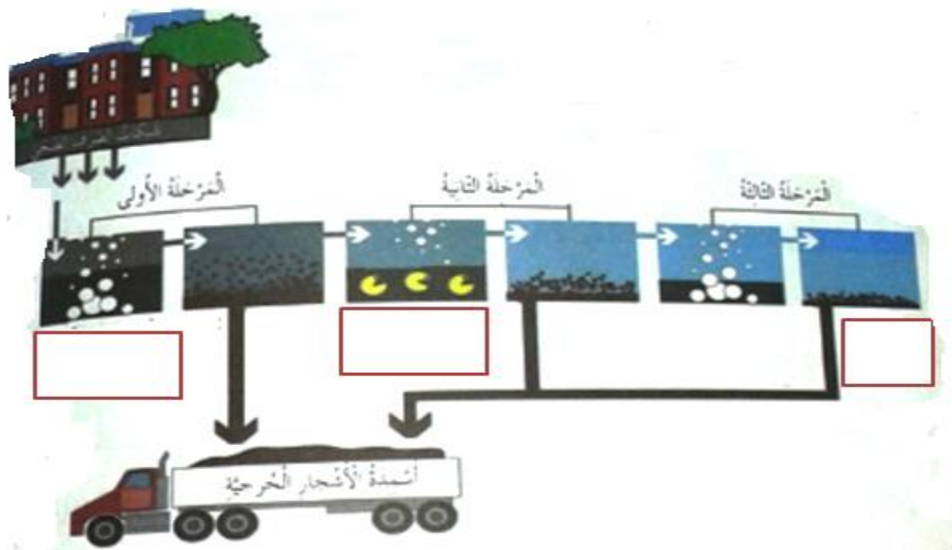
السؤال الرابع : من استخدامات الطاقة الشمسية :

(3)

(2)

(1)

السؤال الخامس : الشكل التالي يمثل محطة معالجة مياه عادمة :



هذا الامتحان مقدم من منتديات صقر الجنوب



أ) أكمل الفراغات الموجودة في الشكل.

ب) ماذا يقصد بالمياه العادمة ؟

ج) ماهي المرحلة التي يتم فيها فصل المواد والعناصر الكيميائية السامة ؟




د) في آخر المراحل يتم تحضير السماد العضوي، عدد استخداماته؟

السؤال السادس : حدد مسار تحويل الطاقة في كل من :

الشكل	تحويل الطاقة من	الى
		
		
		
		

هذا الامتحان مقدم من منتديات صقر الجنوب



انتهى الامتحان،

بالتوفيق أحبتي

إعداد : مس سوار

هذا الامتحان مقدم من منتديات صقر الجنوب

