

اختبار تدريبي لنهاية الفصل الدراسي الأول / الصف الثالث / مادة الدراسات الإجتماعية والتربية الوطنية / العام 2017-2018

الاسم:

الصف: الثالث /

السؤال الأول: ضع علامة (✓) أمام العبارة الصحيحة و (×) أمام العبارة الخاطئة:

- 1- يغطي الماء 70 % من كوكب الأرض ()
- 2- عطارد هو أكبر الكواكب وأبعدها عن الشمس ()
- 3- نبتون لديه 15 كوكبًا ويطلق عليه بالكوكب الأزرق ()
- 4- تدور الأرض حول نفسها كل 24 ساعة, وينتج الفصول الأربعة ()
- 5- مشروع دولة الإمارات لاكتشاف المريخ هو (مسبار الأمل) ()

السؤال الثاني: أكمل الخريطة الذهنية .:

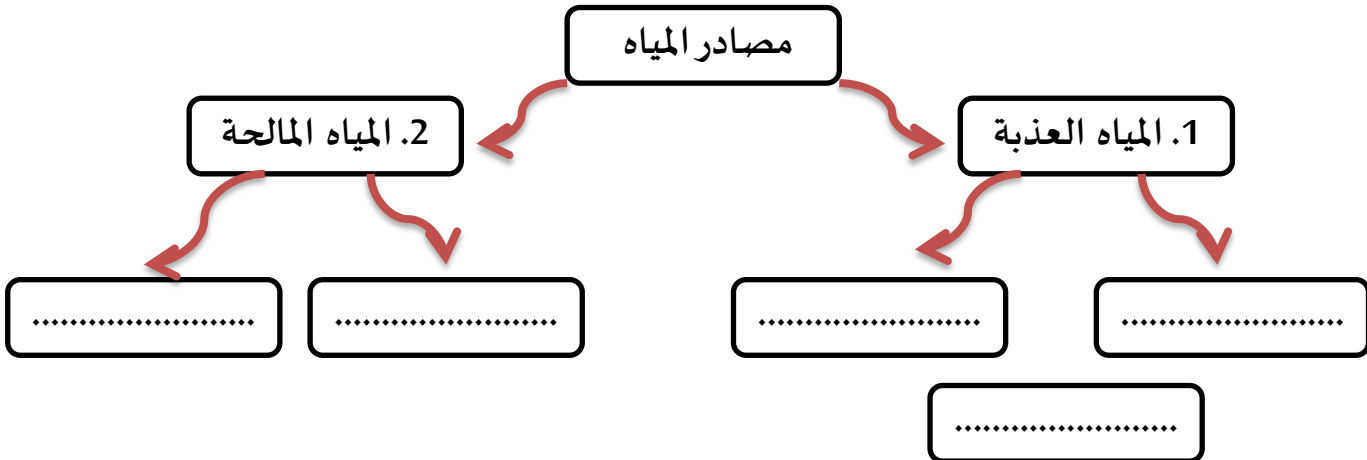
5. الأنهار والبحيرات

4. الكتل الجليدية

3. البحيرات المالحة

2. البحار والمحيطات

1. المياه الجوفية



السؤال الثالث : أضع رقم الصور من المجموعة (أ) بما يناسبها من المجموعة (ب) :

السُدود •



الأودية •



الجبال •



المحيطات •



السؤال الرابع : أكمل التعريف بكتابة المفردة المناسبة له:

تعاقُب اللَّيْلُ وَالنَّهَارُ

الاسْتِمْطَارُ

الأَفْلاجُ

الفُصولُ الأَرْبَعَةُ

دَوْرانِ الأَرْضِ

1..... مِنْ التَّجَارِبِ الَّتِي طَبَّقَهَا دَوْلَةُ الإِمَارَاتِ لِلتَّغْلِبِ عَلَى مُشْكِلةِ قَلَّةِ الأَمْطارِ.

2..... قَنَاةٌ مَحْفُورَةٌ فِي باطِنِ الأَرْضِ أَوْ عَلَى سَطْحِها سَواءَ كَانَتْ مُغْطَاةً أَوْ مَكْشُوفَةً لِتَجْمِيعِ المِياهِ الجَوفِيَّةِ ، أَوْ مِياهِ العُيُونِ وَ الينابيعِ الطَّبِيعِيَّةِ أَوْ السَّطْحِيَّةِ .

3..... هُوَ الحَرَكةُ الَّتِي تَقُومُ بِها الأَرْضُ حَولَ مَحْوَرِها ، وَتَدورُ الأَرْضُ بِشَكْلَيْنِ مُخْتَلِفَيْنِ مَرَّةً حَولَ نَفْسِها ، وَمَرَّةً حَولَ الشَّمْسِ .

4..... هِيَ حَرَكةُ يَومِيَّةٌ ، تَحْدُثُ نَتِيجَةَ دَوْرانِ الأَرْضِ حَولَ نَفْسِها كُلَّ 24 سَاعَةً .

5..... هِيَ حَرَكةٌ سَنَوِيَّةٌ ، تَحْدُثُ نَتِيجَةَ دَوْرانِ الأَرْضِ حَولَ الشَّمْسِ ، وَتَسْتَغْرِقُ مُدَّةَ دَوْرانِها حَولَ الشَّمْسِ 365 يَومًا أَي سَنَةً كَامِلَةً .

السؤال الخامس : استعن بالصورة , ثم أكتب رقم الكوكب, أمام الوصف المناسب له :



✘ لَدَيَّ (17) قَمَرًا وَيُطَلَّقُ عَلَيَّ بِالكَوْكَبِ الْأَزْرَقِ .

✘ أَصْغَرُ الْكَوَاكِبِ وَأَقْرَبُهَا إِلَى الشَّمْسِ .

✘ أَنَا الْكَوْكَبُ الْأَحْمَرُ بِسَبَبِ أُكْسِيدِ الْحَدِيدِ الْكَثِيرِ فِي تُرَابِي .

✘ شَكْلِي شَبَهُ كَرَوِيٍّ يُحِيطُ بِي غِلَافٌ جَوِّيٌّ يَحْتَوِي عَلَى الْأَكْسِجِينِ يُسَاعِدُ

الْكَائِنَاتُ الْحَيَّةَ فِي الْعَيْشِ عَلَى سَطْحِي .

✘ أَنَا أَجْمَلُ الْكَوَاكِبِ وَأَتَزَيَّنُ بِطَوَاقٍ جَمِيلٍ .

✘ أَنَا لَا أَشَاهِدُ إِلَّا قَبْلَ شُرُوقِ الشَّمْسِ أَوْ غُرُوبِهَا بِوَقْتٍ قَصِيرٍ لِذَلِكَ سُمِّيْتُ

بِنَجْمِ الصُّبْحِ وَالْمَسَاءِ وَتَرْتَفِعُ بِي الْحَرَارَةُ عَنْ بَاقِي الْكَوَاكِبِ.

✘ أَنَا أَكْبَرُ الْكَوَاكِبِ وَأَضْحَمُهَا حَجْمًا.

السؤال السادس: أضع دائرة حَوْل العبارة غير المنسجمة:

1. مِنْ أَهَمِّ مَصَادِرِ الْمِيَاهِ الْمَالِحَةِ :

(1) الْبِحَارُ وَالْمَحِيطَاتُ .

(2) الْبُحَيْرَاتُ الْمَالِحَةُ .

(3) الْأَنْهَارُ .

2. مِنْ الْمَشْكِلاتِ الَّتِي تُعاني مِنْهَا دَوْلَةُ الْإِمَارَاتِ :

(1) زِيَادَةُ نِسْبَةِ الْمُلُوحَةِ .

(2) انْخِفاضِ مَنْسُوبِ الْمِيَاهِ الْجَوْفِيَّةِ .

(3) زِيَادَةُ الْأَمْطَارِ .

3. مِنْ الْحُلُولِ الَّتِي وَضَعَتْهَا دَوْلَةُ الْإِمَارَاتِ :

(1) إِقَامَةُ مَحَطَّاتِ تَحْلِيَةِ مِيَاهِ الْبَحْرِ .

(2) إِقَامَةُ السُّدُودِ .

(3) إِذَابَةُ الْجَلِيدِ .

4. مَنَاخُ دَوْلَةِ الْإِمَارَاتِ يَتَمَيَّزُ بـ:

(1) الْحَرَارَةُ الْعَالِيَّةِ .

(2) قَلَّةُ الْأَمْطَارِ .

(3) الْبُرُودَةُ الْعَالِيَّةُ .

السؤال السابع : أصوب الكلمة أو العبارة التي تحتها خط :

- (1) يُسَبِّبُ الدُّخَانُ الَّذِي يَتَّصَعَدُ إِلَى الْهَوَاءِ فِي بِنَاءٍ طَبَقَةَ الْأَوْزُونِ فِي الْجَوِّ (.....)
- (2) اجْتَمَعَ الشَّيْخُ زَايِدٌ وَ الشَّيْخُ رَاشِدٌ رَحِمَهُمَا اللَّهُ فِي مَنَاطِقَةِ عُرُقُوبِ السَّدِيرَةِ لِتَوْقِيعِ (اتِّفَاقٍ تُسَاعِي) (.....)
- (3) اجْتِمَاعُ دُبَيِّ الثَّانِي أُعْلِنَ فِيهِ اتِّحَادُ تُسَاعِي . (.....)
- (4) قَامَ بَرَفِيعٌ عَلِمَ دَوْلَةَ الْإِمَارَاتِ لِأَوَّلِ مَرَّةٍ عَلَى سَارِيَةِ الْعَلَمِ الْمَوْجُودَةِ فِي قَصْرِ الضِّيَافَةِ بِدُبَيِّ الشَّيْخِ خَلِيفَةَ زَايِدِ بْنِ سُلْطَانَ آلِ نَهْيَانَ . (.....)
- (5) الَّذِي أَمَرَ بَرَفِيعَ الْعَلَمِ عَلَى سَارِيَةِ قَصْرِ الْمَثَلِ الشَّيْخِ زَايِدِ بْنِ سُلْطَانَ آلِ نَهْيَانَ (.....)
- (6) مُصَمِّمُ عَلَمِ دَوْلَةِ الْإِمَارَاتِ ظَلِيَّةُ بْنُ خَمْدِسٍ . (.....)
- (7) تَتَكَوَّنُ دَوْلَةُ الْإِمَارَاتِ مِنْ : سِتَّةِ إِمَارَاتٍ . (.....)
- (8) وُلِدَ الشَّيْخُ مُحَمَّدُ بْنُ زَايِدٍ فِي مَدِينَةِ أَبُو ظَبْيٍ . (.....)
- (9) عَامَ 2017 اخْتِيرَ الشَّيْخُ مُحَمَّدُ بْنُ زَايِدٍ ضِمْنَ أَفْضَلِ عَشْرِ شَخْصِيَّاتٍ هِيَ الْأَكْثَرُ نُفُودًا فِي الْعَالَمِ الْإِسْلَامِيِّ . (.....)
- (10) تَوَلَّى الشَّيْخُ مُحَمَّدُ بْنُ زَايِدٍ مَنَاصِبَ وِلَايَةِ الْعَهْدِ فِي إِمَارَةِ أَبُو ظَبْيٍ فِي عَامِ 2010 (.....)

السؤال الثامن: أضع خطوات الاتحاد من المجموعة (أ) أمام التاريخ المناسب لها من المجموعة (ب):

المجموعة (ب)	
25 فبراير 1968	<input type="checkbox"/>
18 / فبراير 1968	<input type="checkbox"/>
2 ديسمبر 1971	<input type="checkbox"/>
18 يوليو 1971	<input type="checkbox"/>

المجموعة (أ)
1. اجتماع عرقوب السديرة
2. اجتماع دبي الأول
3. اجتماع دبي الثاني
4. قيام الاتحاد

السؤال التاسع: أرتب قرارات الاتحاد من (1-4):

اختيار ألوان العلم .

اختيار شعار الدولة.

اختيار الشيخ راشد بن سعيد آل مكتوم - رحمه الله- نائباً للرئيس .

اختيار الشيخ زايد بن سلطان آل نهيان - رحمه الله- رئيساً للاتحاد .

السؤال العاشر: أظلل الرقم الذي يمثل شعار دولة الإمارات الحالي :



السؤال الحادي عشر: ألون علم دولة الإمارات :

السؤال الثاني عشر: أحوط برسم دائرة , حول المكان الذي ولد فيه صاحب السمو الشيخ

محمد بن زايد آل نهيان :



السؤال الثالث عشر: أجب عن الأسئلة التالية بعد قراءة الفقرة عن مراسم رفع أول علم للدولة الإمارات :

مراسم رفع أول علم للدولة

بَعَدَ الإِعْلَانِ عَنِ قِيَامِ دَوْلَةِ الإِمَارَاتِ العَرَبِيَّةِ المُتَّحِدَةِ، تَوَجَّهَ صَاحِبُ السُّمُوِّ الشَّيْخُ خَلِيفَةُ بَنُ زَايِدٍ آلِ تَهْيَانَ وَوَلِيُّ العَهْدِ رَئِيسُ الوِزَرَاءِ إِلَى سَاحَةِ قَصرِ المَنهَلِ العَامِرِ وَأَمَرَ بِرَفْعِ العِلْمِ الأتِّحَادِيِّ عَلَى سَارِيَةِ القَصرِ، وَقَدُ قَامَ اثْنَانِ مِنَ جُنُودِ الحَرَسِ الأَمِيرِيِّ بِرَفْعِ العِلْمِ وَرَفَعَ سُمُوُّ وَوَلِيِّ العَهْدِ وَرَئِيسُ الوِزَرَاءِ يَدَهُ بِالأَتْحِيَّةِ لِعِلْمِ الأتِّحَادِ الَّذِي يَرَفَرُفُ عَلَى البِلَادِ لِأَوَّلِ مَرَّةٍ.

قام المغفور له بإذن الله الشيخ زايد بن سلطان آل تهيان بعد انتخابه رئيساً للدولة برفع علم دولة الإمارات العربية المتحدة لأول مرة على سارية العلم الموجودة في قصر الضيافة بدبي، حيث أطلقت المدفعية إحدى وعشرين طلقة تحية بهذه المناسبة.

1. مَنْ قَامَ بِرَفْعِ عِلْمِ دَوْلَةِ الإِمَارَاتِ لِأَوَّلِ مَرَّةٍ عَلَى سَارِيَةِ العِلْمِ المُوجُودَةِ فِي قَصرِ الضِّيفَةِ بِدُبَي؟

.....

2. كَمْ عَدَدُ الطَّلَاقَاتِ الَّتِي أُطْلِقَتْهَا المِدفِعيَّة؟

.....



3. مَنْ الَّذِي أَمَرَ بِرَفْعِ العِلْمِ عَلَى سَارِيَةِ قَصرِ المَنهَلِ العَامِرِ؟

.....

4. كَمْ عَدَدِ الجُنُودِ الَّذِينَ رَفَعُوا العِلْمَ فِي قَصرِ المَنهَلِ العَامِرِ؟

.....

السؤال الرابع عشر / أقرن بين الشعار القديم والشعر الجديد :

	
1.	1.
2.	2.

السؤال الخامس عشر / أطابق الصورة مع الشخصيات المذكورة , بكتابة الرقم على الصورة :

- 1) رَئِيسُ الدَّوْلَةِ الشَّيْخُ خَلِيفَةُ بِنِ زَايِدِ آلِ نَهْيَانَ .
- 2) نَائِبُ رَئِيسِ الدَّوْلَةِ مُحَمَّدُ بِنِ رَاشِدِ آلِ مَكْتُومِ .
- 3) وَلِيَّ عَهْدِ إِمَارَةِ أَبُو ظَبْيِ الشَّيْخُ مُحَمَّدُ بِنِ زَايِدِ .

