

مراجعة في مادة التربية الوطنية للصف الثالث

اسمي:

صفي الثالث :

السؤال الأول: ضع علامة (/) أمام العبارة الصحيحة وعلامة (x) أمام العبارة الخطأ :

- 1- كوكب الأرض يعيش عليه الانسان وشكلة شبة كروي ويحيط به الغلاف الجوي . ()
- 2- المشتري هو الكوكب الأحمر في المجموعة الشمسية . ()
- 3- مشروع دولة الامارات على كوكب المريخ هو مسبار الأمل . ()
- 4- من مصادر المياه العذبة البحار . ()
- 5- تقع دولة الامارات العربية المتحدة في نطاق المناخ الصحراوي الذي يتميز بالحرارة وقلة الأمطار ()
- 6- من الحلول التي تعتمد عليها دولة الامارات العربية المتحدة لتأمين المياه للسكان إقامة محطات تحلية المياه ()
- 7- لم تهتم دولة الامارات العربية المتحدة بالمسطحات الخضراء . ()
- 8- من الحلول البديلة التي قامت بها دولة الإمارات للقضاء على الجفاف تجربة الاستمطار.. ()
- 9- ينتج عن تلوث الهواء تدمير طبقة الأوزون . ()
- 10- إعادة التدوير من الأعمال التي تحمي البيئة من التلوث . ()
- 11- ولد الشيخ محمد بن زايد بن سلطان آل نهيان في مدينة الفجيرة . ()
- 12- في عام 2004 م تولى صاحب السمو الشيخ محمد بن زايد آل نهيان منصب ولاية العهد . ()
- 13 - من مواقف الشيخ محمد بن زايد آل نهيان مساندة أسر الشهداء . ()
- 14- الخطوة الأولى من خطوات الاتحاد كانت في منطقة العين . ()
- 15- اجتماع عرقوب السديرة كان بين الشيخ زايد والشيخ راشد . ()
- 16- نتج عن اجتماع دبي الأول الاتحاد التساعي الذي لم يتحقق . ()
- 17- في 30 نوفمبر اعلن عن قيام دولة الامارات العربية المتحدة . ()
- 18- من قرارات الاتحاد اختيار الشيخ زايد بن سلطان رئيساً للاتحاد والشيخ راشد نائباً للرئيس . ()
- 19- رفع العلم لأول مرة في قصر المنهل في أبوظبي . ()
- 20- مصمم علم الامارات هو سالم أحمد الهاملي . ()

السؤال الثاني : أكمل العبارة بما يناسبها من كلمات ؟

(الهواء - الأرض - المريخ - العذبة - الشعار - الاسلامي - المالحة - الشيخ زايد بن سلطان آل نهيان - الشيخ راشد بن سعيد آل مكتوم - الشيخ خليفة بن زايد آل نهيان - الصقر - 2004 - يوم الشهيد - العلم - الضيافة - الأوزون - 2 / ديسمبر / 1971 - المنهل - شبه كروي - الثالث)

- ثالث كوكب في المجموعة الشمسية هو يسكنه الانسان وشكله
- الكوكب الأحمر في المجموعة الشمسية هو
- من مصادر المياه على سطح الأرض المياه والمياه
- ينتج عن تلوث تدمير طبقة^ا
- ترتيب صاحب السمو الشيخ محمد بن زايد بين اخوته هو
- تولى صاحب السمو الشيخ محمد بن زايد منصب ولي عهد ابوظبي في سنة
- يعتبر صاحب السمو الشيخ محمد بن زايد مؤثراً في العالم العربي و
- رفع الشيخ علم الامارات في امارة أبوظبي في قصر
- رفع الشيخ علم الامارات في امارة في قصر الضيافة .
- شعار الامارات هو
- تحتفل دولة الامارات في 30 نوفمبر من كل عام بيوم
- أعلن عن قيام الاتحاد في

من أهم قرارات الاتحاد

- اختيار الشيخ رئيساً للدولة .
- اختيار الشيخ نائباً للرئيس .
- اختيار
- اختيار

السؤال الثالث : أكمل العبارة بما يناسبها من مفاهيم ؟

☐ الحركة التي تقوم بها الأرض حول محورها وتدور بشكلين مختلفين مرة حول نفسها ومرة حول الشمس

☐ قناة محفورة في باطن الأرض أو على سطحها لتجميع المياه الجوفية أو مياه العيون والينابيع أو المياه السطحية

☐ كل ما يحيط بالإنسان من موجودات من ماء وهواء وكائنات حية وغير حية وهذا المجال الذي يمارس فيه الإنسان حياته ونشاطاته المختلفة .

☐ هو تفاعل المخلوقات الحية مع بعضها ومع العوامل غير الحية في بيئتها لاستمرار الحياة .

☐ هو جزء من الغلاف الجوي لكوكب الأرض والذي يحتوي بشكل مكثف على غاز الأوزون .

☐ هو البيئة الحيوية المتنوعة الكائنات الحية والعوامل الطبيعية التي تحافظ على وجودها لأطول فترة زمنية ممكنة

☐ ترشيد استهلاك الموارد الطبيعية وتقليل كمية استخدامها يساعد على تحقيق الإستدامة وتوفير الموارد الطبيعية للأجيال القادمة

☐ هو إعادة استخدام الأشياء المستعملة في تصميم أعمال جديدة ومفيدة

☐ هو اليوم الذي اتحدت فيه إماراتنا الحبيبة

رتب الخطوات التالية

- اجتماع دبي الثاني (18 - يوليو - 1971)
- اجتماع عرقوب السديرة (18 فبراير - 1968)
- اعلان الاتحاد (2- ديسمبر - 1971)
- اجتماع دبي الاول (25-فبراير 1968)

خطوات قيام الاتحاد لدولة الامارات العربية المتحدة

.....-4

.....-3

.....-2

.....-1



United Arab Emirates

أنا الشعار الجديد أحمل في صدري وعلية
طوق تزيينة تمثل الإمارات السبع

اقرأ الفقرة وأجب عن الاسئلة ..

قال صاحب السمو الشيخ محمد بن زايد ليس أمامنا إلا الاعتماد على النوعية وسلاحنا الحقيقي هو العلم .. ونريد أن ننافس بكم دول العالم المتقدمة التي حققت نجاحات في التنمية البشرية والتعليم والاقتصاد مثل فلندا ونيوزيلاندا وكوريا الجنوبية وسنغافورة ..

أذكر السلاح الحقيقي في وقتنا الحالي كما حدده سموه

.....
أكتب أسماء الدول المتقدمة تعليمياً واقتصادياً

.....
ماهو دوري تجاه وطني وأنا على مقاعد الدراسة

.....

السؤال الخامس : أكمل الفراغات بما يناسبها من كلمات ؟

ضعي الإجابة الصحيحة ما بين القوسين في المكان المناسب في الرسم التالية: (عطارد - الزهرة -

الأرض - المريخ - المشتري - زحل - أورانوس - نبتون - بلوتو)

أصغر الكواكب وأقربها للشمس
سكنني الإنسان وشكلي شبه كروي يحيط بي غلاف جوي يحتوي على الأكسجين
لا يمكن رؤيتي إلا قبل شروق الشمس أو غروبها سميت بنجم الصبح والمساء وترتفع بي الحرارة عن باقي الكواكب
أنا الكوكب الأحمر بسبب أكسيد الحديد الكثير في ترابي
أنا سابع الكواكب بعداً عن الشمس
أنا أكبر الكواكب وأضخمها حجماً
لدي 17 قمراً ويطلق علي بالكوكب الأزرق
أنا كويكب صغير في عائلة المجموعة الشمسية
أنا أجمل الكواكب وأتزين بطوق جميل

استعن بالصورة التالية ثم أصل بخط بين الكواكب وترتيبها في المجموعة الشمسية:



الترتيب

السابع

الخامس

الأول

الثالث

الكواكب

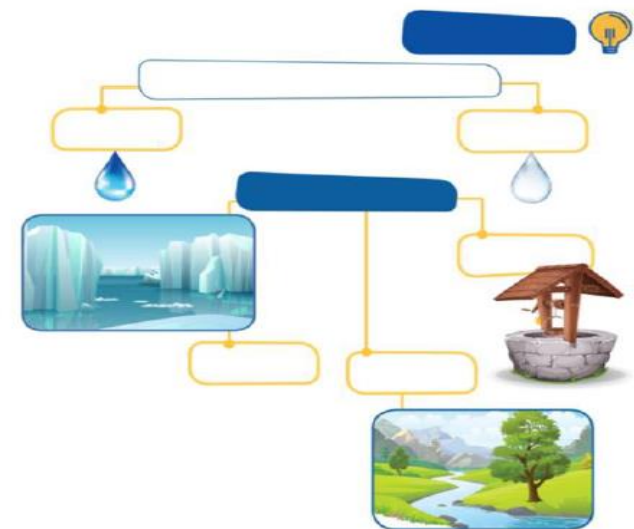
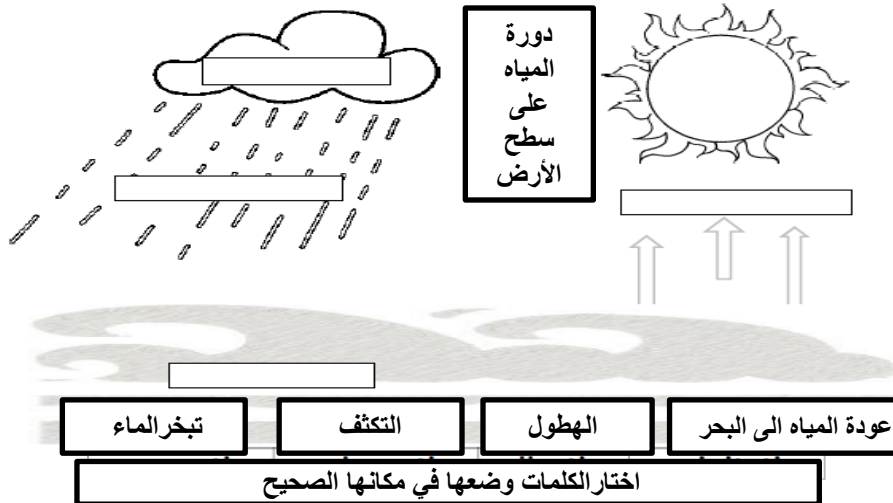
المشتري

عطارد

الأرض

أورانوس

الأقلام - المياه العذبة - المياه المالحة - الجليد



نموذج الاجابة لمادة التربية الوطنية للصف الثالث

السؤال الأول: ضع علامة (✓) أمام العبارة الصحيحة وعلامة (x) أمام العبارة الخطأ :

- 1- كوكب الأرض يعيش عليه الانسان وشكلة شبة كروي ويحيط به الغلاف الجوي . (✓)
- 2- المشتري هو الكوكب الأحمر في المجموعة الشمسية . (x)
- 3- مشروع دولة الامارات على كوكب المريخ هو مسبار الأمل . (✓)
- 4- من مصادر المياه العذبة البحار . (x)
- 5- تقع دولة الامارات العربية المتحدة في نطاق المناخ الصحراوي الذي يتميز بالحرارة وقلة الأمطار (✓)
- 6- من الحلول التي تعتمد عليها دولة الامارات العربية المتحدة لتأمين المياه للسكان إقامة محطات تحلية المياه (✓)
- 7- لم تهتم دولة الامارات العربية المتحدة بالمسطحات الخضراء . (x)
- 8- من الحلول البديلة التي قامت بها دولة الإمارات للقضاء على الجفاف تجربة الاستمطار.. (✓)
- 9- ينتج عن تلوث الهواء تدمير طبقة الأوزون . (✓)
- 10- إعادة التدوير من الأعمال التي تحمي البيئة من التلوث . (✓)
- 11- ولد الشيخ محمد بن زايد بن سلطان آل نهيان في مدينة الفجيرة . (x)
- 12- في عام 2004 م تولى صاحب السمو الشيخ محمد بن زايد آل نهيان منصب ولاية العهد . (✓)
- 13 - من مواقف الشيخ محمد بن زايد آل نهيان مساندة أسر الشهداء . (✓)
- 14- الخطوة الأولى من خطوات الاتحاد كانت في منطقة العين . (x)
- 15- اجتماع عرقوب السديرة كان بين الشيخ زايد والشيخ راشد . (✓)
- 16- نتج عن اجتماع دبي الأول الاتحاد التساعي الذي لم يتحقق . (✓)
- 17- في 30 نوفمبر اعلن عن قيام دولة الامارات العربية المتحدة . (x)
- 18- من قرارات الاتحاد اختيار الشيخ زايد بن سلطان رئيساً للاتحاد والشيخ راشد نائباً للرئيس . (✓)
- 19- رفع العلم لأول مرة في قصر المنهل في أبوظبي . (x)
- 20- مصمم علم الامارات هو سالم أحمد الهاملي . (x)

السؤال الثاني : أكمل العبارة بما يناسبها من كلمات ؟

(الهواء - الأرض - المريخ - الشعار - الاسلامي -المياه الجوفية - الشيخ زايد بن سلطان آل نهيان - الشيخ راشد بن سعيد آل مكتوم - الشيخ خليفة بن زايد آل نهيان - الصقر - 2004 - يوم الشهيد - العلم - دبي - الأوزون - 2/ ديسمبر/1971- المنهل - شبه كروي - الثالث)

- ثالث كوكب في المجموعة الشمسية هو **الأرض** يسكنه الانسان وشكله **شبه كروي**
- الكوكب الأحمر في المجموعة الشمسية هو **المريخ**
- من مصادر المياه العذبة على سطح الأرض **المياه الجوفية**
- ينتج عن تلوث **الهواء** تدمير طبقة **الأوزون** ١
- ترتيب صاحب السمو الشيخ محمد بن زايد بين اخوته هو **الثالث**
- تولى صاحب السمو الشيخ محمد بن زايد منصب ولي عهد ابوظبي في سنة **2004**
- يعتبر صاحب السمو الشيخ محمد بن زايد مؤثراً في العالم العربي و **الاسلامي**
- رفع الشيخ **خليفة بن زايد آل نهيان** علم الامارات في امارة أبوظبي في قصر **المنهل**
- رفع الشيخ **زايد بن سلطان آل نهيان** علم الامارات في امارة **دبي** في قصر الضيافة .
- شعار الامارات هو **الصقر**
- تحتفل دولة الامارات في 30 نوفمبر من كل عام بيوم **الشهيد**
- أعلن عن قيام الاتحاد في **2/ ديسمبر/1971**

من أهم قرارات الاتحاد

- اختيار الشيخ **زايد بن سلطان آل نهيان** رئيساً للدولة .
- اختيار الشيخ **راشد بن سعيد آل مكتوم** نائباً للرئيس .
- اختيار **العلم**
- اختيار **الشعار**

السؤال الثالث : أكمل العبارة بما يناسبها من مفاهيم ؟

دوران الأرض

☐ الحركة التي تقوم بها الأرض حول محورها وتدور بشكلين مختلفين مرة حول نفسها ومرة حول الشمس

الأفلاج

☐ قناة محفورة في باطن الأرض أو على سطحها لتجميع المياه الجوفية أو مياه العيون والينابيع أو المياه السطحية

البيئة

☐ كل ما يحيط بالإنسان من موجودات من ماء وهواء وكائنات حية وغير حية وهذا المجال الذي يمارس فيه الإنسان حياته ونشاطاته المختلفة .

النظام البيئي

☐ هو تفاعل المخلوقات الحية مع بعضها ومع العوامل غير الحية في بيئتها لاستمرار الحياة .

طبقة الأوزون

☐ هو جزء من الغلاف الجوي لكوكب الأرض والذي يحتوي بشكل مكثف على غاز الأوزون .

الاستدامة

☐ هو البيئة الحيوية المتنوعة الكائنات الحية والعوامل الطبيعية التي تحافظ على وجودها لأطول فترة زمنية ممكنة

التنمية المستدامة

☐ ترشيد استهلاك الموارد الطبيعية وتقليل كمية استخدامها يساعد على تحقيق الإستدامة وتوفير الموارد الطبيعية للأجيال القادمة

إعادة التدوير

☐ هو إعادة استخدام الأشياء المستعملة في تصميم أعمال جديدة ومفيدة

اليوم الوطني

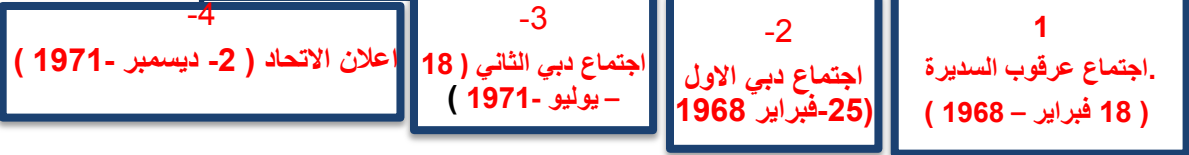
☐ هو اليوم الذي اتحدت فيه إماراتنا الحبيبة

السؤال الرابع : أكمل العبارة بما يناسبها من كلمات ؟

رتب الخطوات التالية

- اجتماع دبي الثاني (18 - يوليو - 1971)
- اجتماع عرقوب السديرة (18 فبراير - 1968)
- اعلان الاتحاد (2- ديسمبر - 1971)
- اجتماع دبي الاول (25-فبراير 1968

خطوات قيام الاتحاد لدولة الامارات العربية المتحدة



United Arab Emirates

أنا الشعار الجديد أحمل في صدري **علم** وعلية طوق
تزيينة **سبع نجوم** تمثل الإمارات السبع

اقرأ الفقرة وأجب عن الاسئلة ..

قال صاحب السمو الشيخ محمد بن زايد ليس أمامنا إلا الاعتماد على النوعية وسلاحنا الحقيقي هو العلم .. ونريد أن ننافس بكم دول العالم المتقدمة التي حققت نجاحات في التنمية البشرية والتعليم والاقتصاد مثل فلندا ونيوزيلاندا وكوريا الجنوبية وسنغافورة ..

أذكر السلاح الحقيقي في وقتنا الحالي كما حدده سموه

العلم

أكتب أسماء الدول المتقدمة تعليمياً واقتصادياً

..... **فلندا** و **نيوزيلاندا** و **كوريا الجنوبية** و **سنغافورة**

ما هو دوري تجاه وطني وأنا على مقاعد الدراسة

.....

السؤال الخامس : أكمل الفراغات بما يناسبها من كلمات ؟

ضعي الإجابة الصحيحة ما بين القوسين في المكان المناسب في الرسم التالية: (عطارد - الزهرة -

الأرض - المريخ - المشتري - زحل - أورانوس - نبتون - بلوتو)

أصغر الكواكب وأقربها للشمس	عطارد
سكنني الإنسان وشكلي شبه كروي يحيط بي غلاف جوي يحتوي على الأكسجين	الأرض
لا يمكن رؤيتي إلا قبل شروق الشمس أو غروبها سميت بنجم الصبح والمساء وترتفع بي الحرارة عن باقي الكواكب	الزهرة
أنا الكوكب الأحمر بسبب أكسيد الحديد الكثير في ترابي	المريخ
أنا سابع الكواكب بعداً عن الشمس	أورانوس
أنا أكبر الكواكب وأضخمها حجماً	المشتري
لدي 17 قمراً ويطلق علي بالكوكب الأزرق	نبتون
أنا كويكب صغير في عائلة المجموعة الشمسية	بلوتو
أنا أجمل الكواكب وأتزين بطوق جميل	زحل

استعن بالصورة التالية ثم أصل بخط بين الكواكب وترتيبها في المجموعة الشمسية:

