

صلي المصطلح بالمعنى المناسب:-

الموقع النسبي	أي موقع جسم ما على سطح الكرة الأرضية.
الموقع الجغرافي	موقع المكان بالنسبة لخطوط الطول ودوائر العرض.
خطوط الطول	هو خط الطول الرئيسي [خط الصفر] ويقسم العالم إلى نصفين متساويين.
خط جرينيتش	هي عبارة عن خطوط وهمية ترسم على نموذج الكرة الأرضية وتبدو على شكل دوائر تامة.
الموقع الفلكي	هو دائرة العرض الرئيسية، وتقسّم العالم إلى نصفين
دوائر العرض	هي خطوط طولية يوازي بعضها البعض.
خط الاستواء	موقع المكان بالنسبة لليابسة والماء.

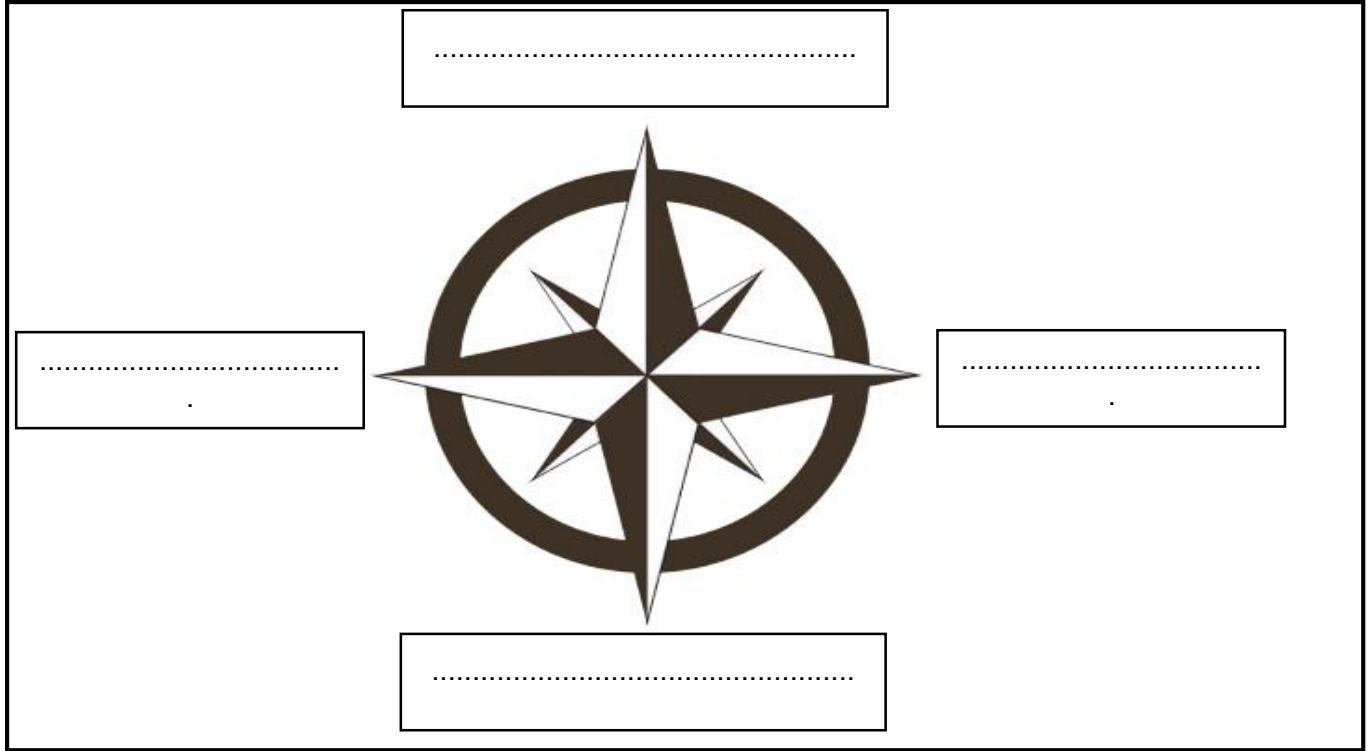
ضعي إشارة (✓) عند الإجابة الصحيحة وإشارة (✗) عند الإجابة الخاطئة:

1. () اللون الأخضر يمثل اليابسة في الكرة الأرضية.
2. () اللون الأزرق يمثل البحار والمحيطات في الكرة الأرضية.
3. () المجموعة الشمسية: هي جميع الأجسام التي تدور حول القمر.
4. () تقسم الخطوط الطولية للأرض إلى 180 خطاً شرقاً و 180 غرباً.
5. () يقسم العالم إلى 24 منطقة زمنية اعتماداً على خط جرينيتش.
6. () يقع مدار السرطان في جنوب خط الاستواء عند دائرة عرض 23.5 جنوباً.
7. () يقع مدار الجدي في شمال خط الاستواء عند دائرة عرض 23.5 شمالاً.



ضعي الإجابة الصحيحة ما بين القوسين في المكان المناسب في الرسم التالية: (الشمال – الشرق –

الغرب – الجنوب)



إختاري الإجابة الصحيحة:

1. هي نقاط الاستدلال الجغرافية الأربعة وهي الشمال والجنوب والشرق والغرب.

(الموقع النسبي – خطوط الطول – الجهات الأصلية)

2. تقسم خطوط الطول على الأرض إلى خط طول.

(360 – 180 – 120)

3. يقسم العالم إلى نصفين متساويين.

(الموقع النسبي – خطوط الطول – خط جرينتش)

4. هي عبارة عن خطوط وهمية ترسم على نموذج الكرة الأرضية وتبدو على شكل دوائر تامة.

(الموقع النسبي – خطوط الطول – دوائر العرض)

5. هو دائرة العرض الرئيسية، وتقسم العالم إلى نصفين.

(الموقع النسبي - خط الاستواء - خط جرينتش)

6. يقع مدار السرطان عند دائرة عرض

(23.5 شمالاً - 23.5 جنوباً - 90 شمالاً - 90 جنوباً)

7. يقع مدار الجدي عند دائرة عرض

(23.5 شمالاً - 23.5 جنوباً - 90 شمالاً - 90 جنوباً)

عددي الجهات الفرعية؟

..... 1 2
..... 3 4

لونى الإجابة الصحيحة:- يقسم خط جرينتش العالم إلى نصفين متساويين هما:

شمالي	شرقي
غربي	جنوبي

لونى الإجابة الصحيحة:- يقسم خط الاستواء العالم إلى نصفين متساويين هما:

شمالي	شرقي
غربي	جنوبي

- أَلْوَنُ القَارَاتِ بِاللَّوْنِ ● وَالْبَحَارَ وَالْمُحِيطَاتِ بِاللَّوْنِ ● عَلَى خَرِيطَةِ العَالَمِ.



- أَسْتَكْمِلُ أَسْمَاءَ القَارَاتِ وَالْمُحِيطَاتِ وَفَقْ الجَدُولِ الآتِي:

المُحِيطَاتُ	القَارَاتُ	العَدَدُ
المُحِيطُ المُتَجَمِّدُ السَّمَالِيُّ	القَارَةُ القُطْبِيَّةُ الجَنُوبِيَّةُ	1
		2
		3
		4
		5
		6
		7
عَدَدُ المُحِيطَاتِ	عَدَدُ القَارَاتِ	المَجْمُوعُ

- أتأمل الخريظة السّياسيّة لقارة آسيا، ثمّ أجيب عمّا يأتي:



خريظة آسيا السّياسيّة

- 1- تقع اليابان في قارة
- 2- يحدّ قارة آسيا من جهة السّمال المّحيط
- 3- تطلّ الهند من جهة الجنّوب على المّحيط
- 4- تجاور دولة الصّين من جهة السّمال دولة

- أسْتَنْجِجْ أَهْمِيَةَ الخريظة السّياسيّة:

.....

.....

.....

أختبر معلوماتي

- استكمل الأشكال الآتية بالكلمات المناسبة لها: [جرينتش - الطول - الموقع الفلكي]

يُسمى موقع المكان بالنسبة
إلى خطوط الطول ودوائر
العرض
ب.....

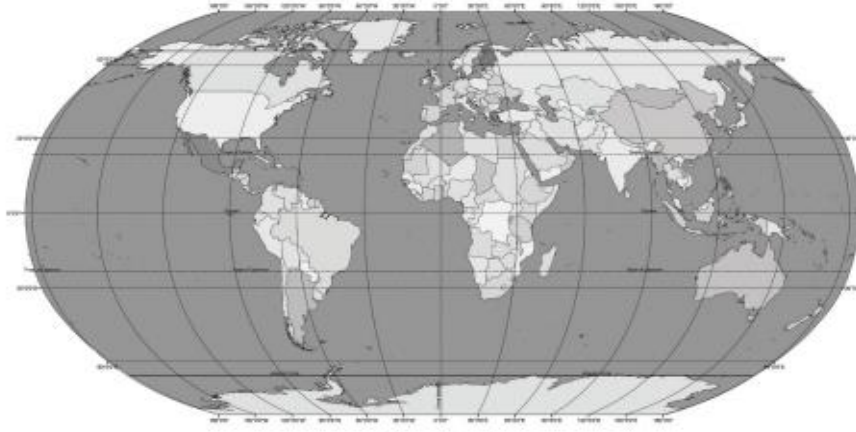
يُعرف خط الطول
الرئيسي بخط
.....



يطلق عليها خطوط
.....

أحدد وألون

- أحدد على الخريطة:
- خط الطول الرئيسي باللون



خريطة العالم

أفكر وأحسب

- أتوصل إلى العمليّة الحسابيّة الآتية:

- أجمع خطوط الطول: 180 خطًا شرقًا

+

180 خطًا غربًا

المجموع خطًا طوليًا

ما أهمية خطوط الطول؟

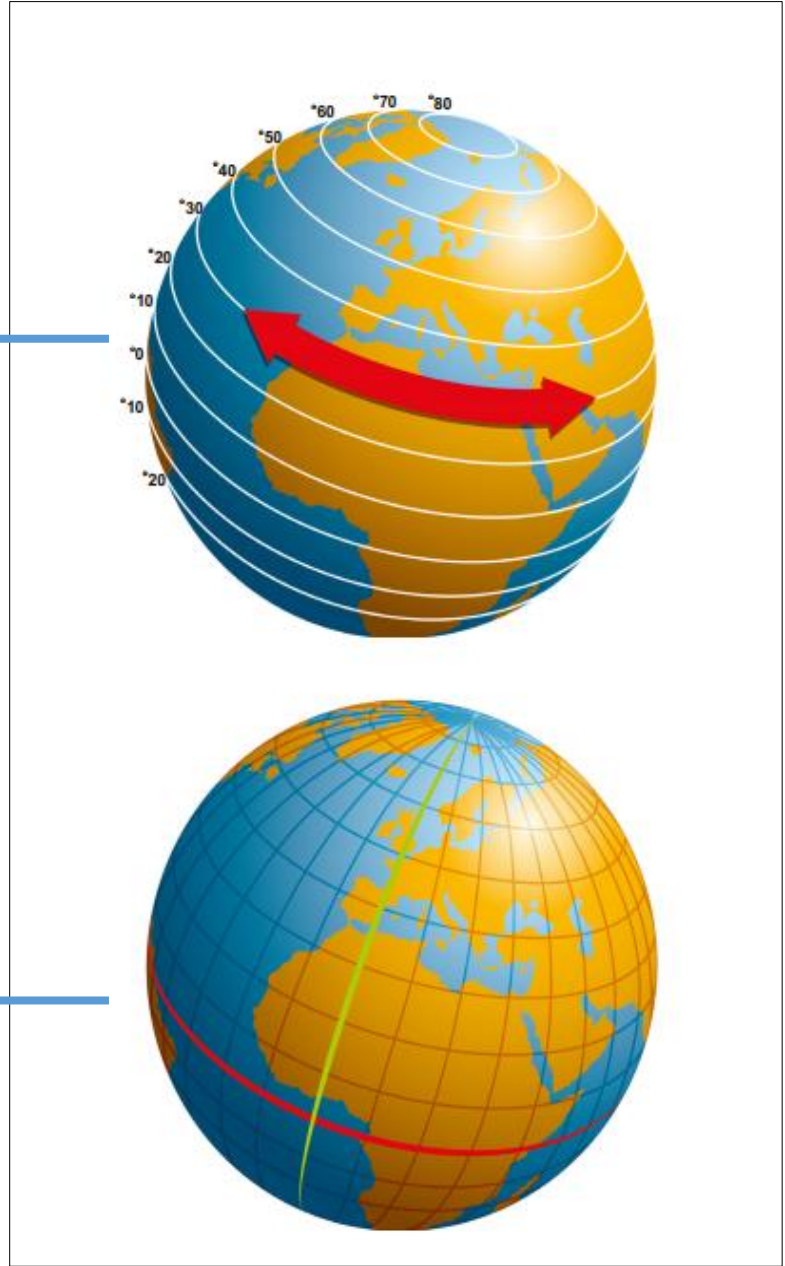
.....
.....



ضعي الإجابة الصحيحة ما بين القوسين في المكان المناسب في الرسم التالية: (دوائر العرض - خط

الاستواء)

.....



.....

ما أهمية دراسة دوائر العرض؟

.....
.....

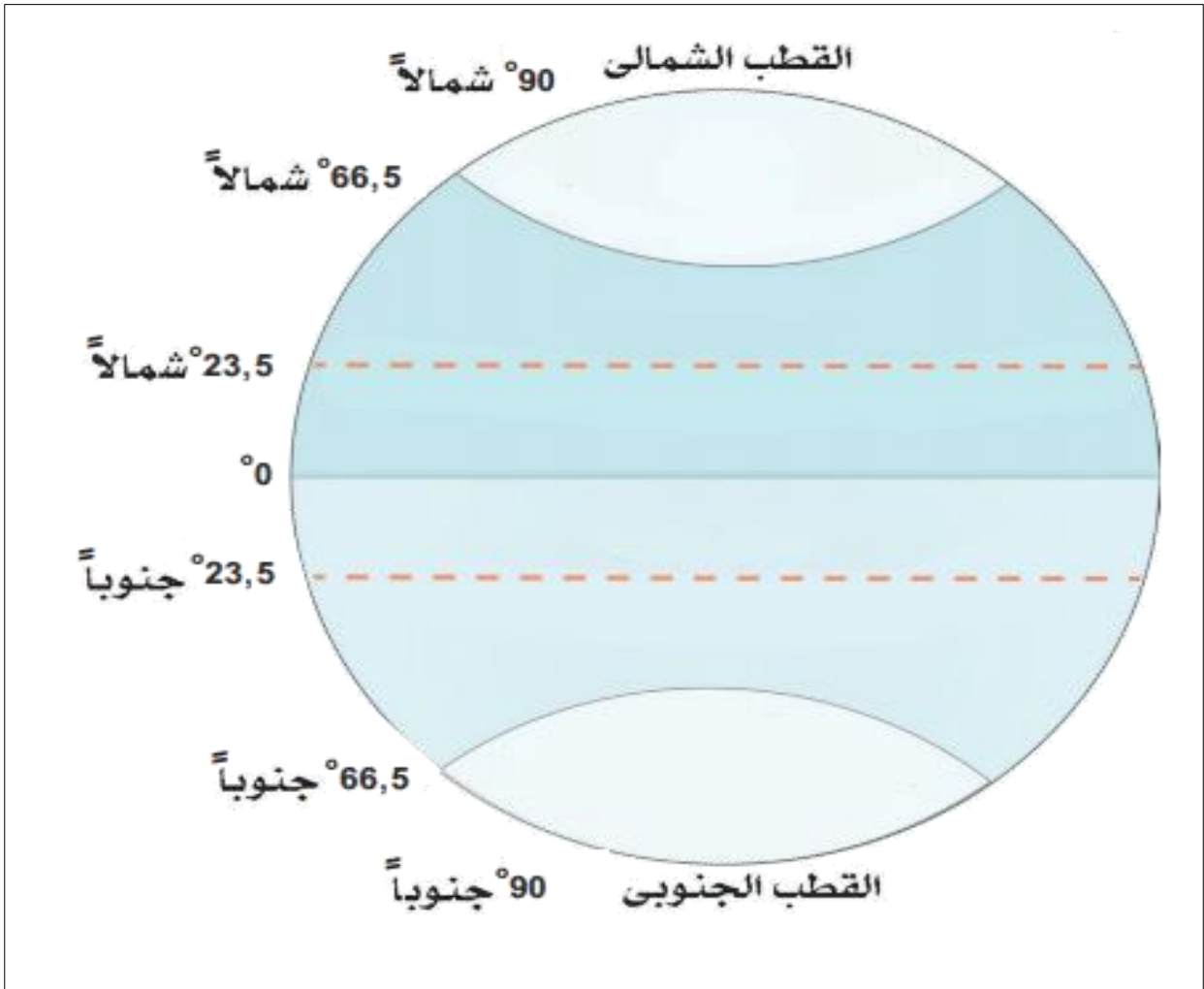
أَلِجْظُ وَأَجِيبُ

- أَضْعُ عَلَامَةَ (✓) أَمَامَ الْعِبَارَةِ الصَّحِيحَةِ وَعَلَامَةَ (x) أَمَامَ الْعِبَارَاتِ غَيْرِ الصَّحِيحَةِ فِيمَا يَلِي:

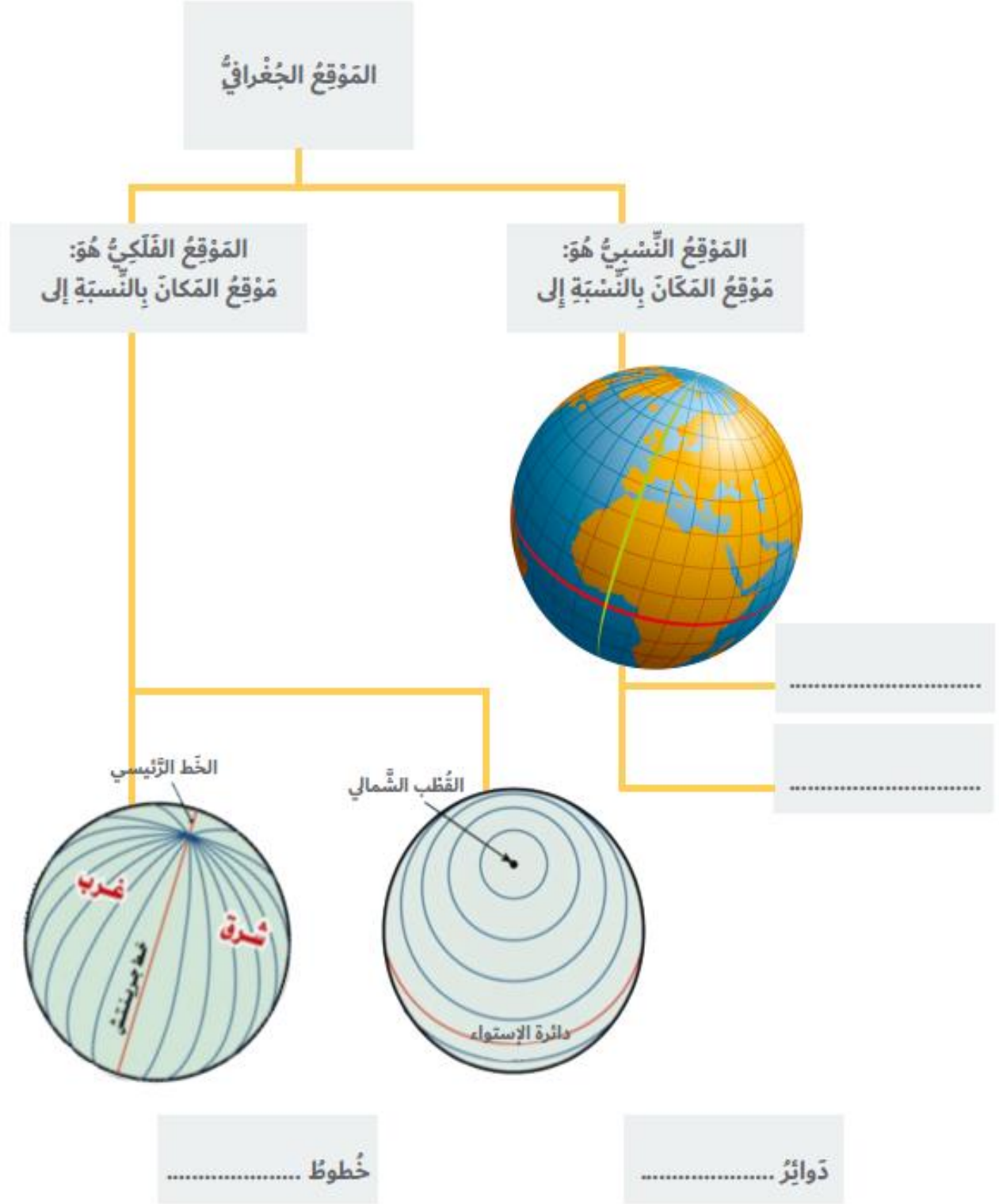
- 1- يَفْعُ مَدَارُ السَّرَطَانِ فِي نِصْفِ الْكُرَّةِ الْجَنُوبِيِّ. []
- 2- يُقَسَّمُ حَظُّ الاسْتِوَاءِ الْكُرَّةَ الْأَرْضِيَّةَ إِلَى نِصْفَيْنِ شَمَالِيٍّ وَجَنُوبِيِّ. []
- 3- مَدَارُ الْجِدِيِّ يَفْعُ شَمَالَ حَظِّ الاسْتِوَاءِ. []
- 4- تُعْرَفُ دَائِرَةُ الْعَرِضِ الرَّئِيسَةِ بِحَظِّ جَرِينْتَش. []
- 5- يَمُرُّ حَظُّ الاسْتِوَاءِ عِنْدَ دَائِرَةِ عَرِضِ صَفْر. []
- 6- الْقُطْبُ الشَّمَالِيُّ عِنْدَ دَائِرَةِ عَرِضِ 23,5 شَمَالًا. []

ضعي الإجابة الصحيحة ما بين القوسين في المكان المناسب في الرسم التالى: (مدار السرطان- مدار

الجدى - الدائرة القطبية الشمالية - الدائرة القطبية الجنوبية - خط الاستواء)



أختبر معلوماتي
- أستكمل المخطط الذهني الآتي:



أكملي الجدول بما يلي:-

عاصمة دولة الإمارات العربية المتحدة:
المساحة:
اللغة الرسمية:
التأسيس:
الرئيس:

إختاري الإجابة الصحيحة:

1. هو عناصر الثقافة التي يتناقلها الخلف من السلف.
(التراث – العادات – التقاليد)
2. منطقة من الياض محاطة بالماء من ثلاث جهات.
(الجزيرة – شبه الجزيرة)
3. خطوط حددها الإنسان، ورسمت حتى تفصل بين حدود دولة ودولة أخرى، وهي تشكل المدى الذي تمارس فيه الدولة سيادتها.
(الحدود السياسية – الحدود الإقليمية)
4. تشرف دولة الإمارات العربية المتحدة بحدودها على مسطحين مائيين هما:
(المحيط الهادي والمحيط الهندي – الخليج العربي والمحيط الهندي – الخليج العربي و بحر عمان)
5. لسان كبير من الماء محاط بالياض من ثلاث جهات.
(الخليج – البحر – المحيط)
6. تقع دولة الإمارات العربية المتحدة في أقصى شرق وتطل على
..... وبحر عمان.
7. تجارة تعني أن تستورد السلع ثم تصديرها إلى دول العالم.



(شبه الجزيرة العربية ، الخليج العربي – الخليج العربي ، شبه الجزيرة العربية)

8. هي كل جهد قام به الإنسان لتحسين ظروف حياته.

(التعليم – الحضارة)

ضعي إشارة (✓) عند الإجابة الصحيحة وإشارة (x) عند الإجابة الخاطئة:

1. () تعد دولة الإمارات العربية المتحدة دولة اتحادية عصرية تتكون من تسع إمارات.
2. () برزت دولة الإمارات على الخريطة السياسية للعالم في عام 1970م.
3. () تقع دولة الإمارات العربية المتحدة بين دائرتي عرض (22 و 26.5 درجة شمال خط الاستواء) وخط طول (51 و 56.5 درجة شرق خط غرينتش).
4. () يمر مدار السرطان في الجزء الشمالي من دولة الإمارات العربية المتحدة.
5. () تعرف شبه الجزيرة بأنها منطقة من اليابس محاطة بالماء من أربع جهات.
6. () دولة الإمارات دولة تمتع بالتجانس وحسن الجوار مع شقيقاتها الدول العربية المجاورة ودول العالم.
7. () قامت على أرض دولة الإمارات العديد من الحضارات.

لوني أهم الحضارات التي ظهرت على أرض دولة الإمارات العربية المتحدة:

حضارة ماجان	حضارة دلمون	أم النار
حضارة مزون	حضارة ملوفا	حضارة العبيد

صلي الحضارة بالمنطقة التي ظهرت فيها:

حضارة ماجان	أبو ظبي
حضارة أم النار	الشارقة
حضارة ملوفا	الإمارات وعمان

• أَطَبُّهُ مَا تَعَلَّمْتُ

◀ أَفَكِّرُ وَأَسْجَلُ

- أَسْتَكْمِلُ الْجَدُولَ الْآتِيَّ مِنْ خِلَالِ تَوْصِيلِ الْمَجْمُوعَةِ (أ) بِالْمَجْمُوعَةِ (ب):

ب

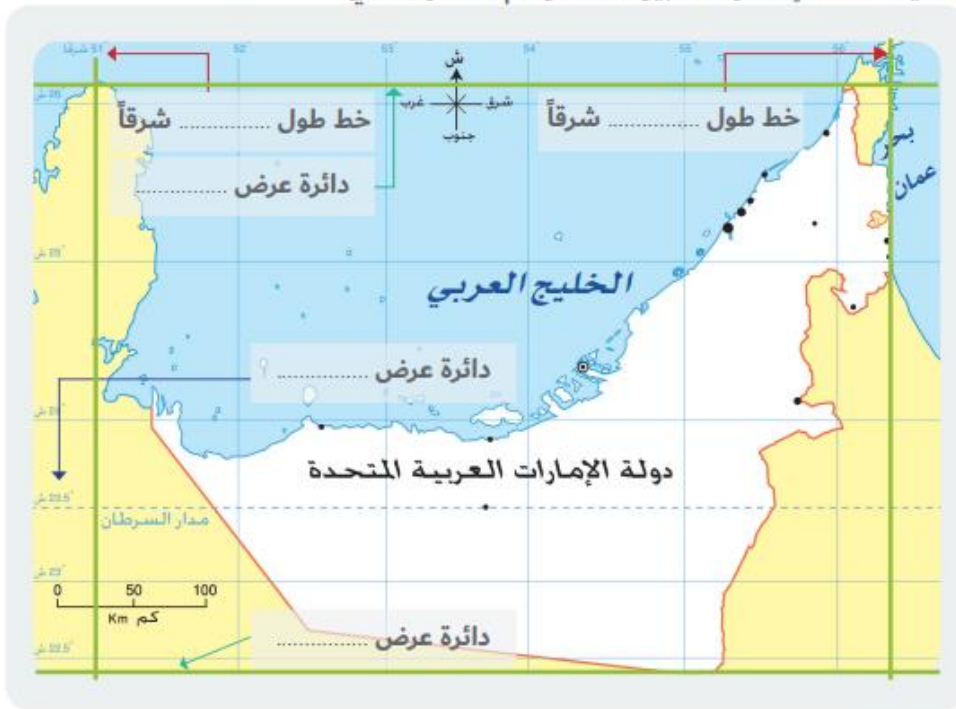
- خليفة بن زايد آل نهيان
- أبوظبي
- 83,600 كم²
- 2 ديسمبر 1971م

أ

- تُسَمَّى عَاصِمَةَ دَوْلَةِ الْإِمَارَاتِ الْعَرَبِيَّةِ الْمُتَّحِدَةِ
- تَبْلُغُ مَسَاحَةَ دَوْلَةِ الْإِمَارَاتِ الْعَرَبِيَّةِ الْمُتَّحِدَةِ
- تَأَسَّسَتْ دَوْلَةُ الْإِمَارَاتِ الْعَرَبِيَّةِ الْمُتَّحِدَةِ فِي
- يَحْكُمُ دَوْلَةَ الْإِمَارَاتِ الْعَرَبِيَّةِ الْمُتَّحِدَةِ صَاحِبُ السُّمُوِّ السَّيِّحُ

◀ الْأَيْظُ وَأَسْتَكْشِفُ

- أَفْرَأُ خَرِيْطَةَ دَوْلَةِ الْإِمَارَاتِ الْعَرَبِيَّةِ الْمُتَّحِدَةِ، ثُمَّ أَسْتَكْمِلُ الْآتِيَّ:



اربط مع الرياضيات

◀ أَفَكِّرُ وَأَحْسِبُ

- أَتَوَصَّلُ إِلَى الْعَمَلِيَّةِ الْحَسَابِيَّةِ الْآتِيَّةِ:

- عَدَّدُ دَوَائِرَ الْعَرْضِ الَّتِي تَقَعُ عَلَيْهَا دَوْلَةُ الْإِمَارَاتِ الْعَرَبِيَّةِ الْمُتَّحِدَةِ: الْمَجْمُوعُ دَائِرَةٌ عَرْضِيَّةٌ

9 3 4
5 6
7 2
26.5 شمالاً
22 شمالاً

أهمية الموقع النسبي لدولة الإمارات العربية المتحدة؟

.....

.....

.....

.....

لوني قلب العالم القديم:-

أوروبا	أستراليا	آسيا
أمريكا الشمالية	أفريقيا	أمريكا الجنوبية



خريطة الوطن العربي

أبحث: في أي قارات العالم تَمْتَدُّ الدُولُ العَرَبِيَّةُ؟

.....

.....

• أَطَبِّقُ مَا تَعَلَّمْتُ

◀ أَخْتَبِرُ مَعْلُومَاتِي

- أَكُونُ حَقَائِقَ جُغْرَافِيَّةً مِنْ جِلَالِ وَضَعِ الْكَلِمَاتِ الْآتِيَةِ بِمَكَانِهَا الْمُنَاسِبِ:
[الشَّرْقِيَّةُ - شِبْهُ الْجَزِيرَةِ الْعَرَبِيَّةِ - وَسْطُ]

تَقَعُ دَوْلَةُ الْإِمَارَاتِ الْعَرَبِيَّةِ
الْمُتَّحِدَةِ فِي
العَالَمِ.



تَمْتَدُّ دَوْلَةُ الْإِمَارَاتِ الْعَرَبِيَّةِ
الْمُتَّحِدَةِ فِي شَرْقِ
.....

تَقَعُ دَوْلَةُ الْإِمَارَاتِ
الْعَرَبِيَّةِ الْمُتَّحِدَةِ فِي
التَّاجِيَةِ
مِنَ الْوَطَنِ الْعَرَبِيِّ.



أَتَّبِعْ وَأُجِيبْ

- أَسْجَلْ حُدُودَ دَوْلَةِ الإِمَارَاتِ العَرَبِيَّةِ المَتَّحِدَةِ فِي الخَرِيطَةِ الأَتِيَّةِ:



ما هي الأهمية الإقتصادية بالنسبة لموقع دولة الإمارات العربية المتحدة؟

.....

.....


.....

.....



ألاحظُ وأصنّفُ

- استخْلِصْ أهمِّيَّةَ المَوْقِعِ الجُغرافيِّ بِناءِ على الصُّورِ الآتِيَةِ:



أفكّرُ وأجيبُ

- ما المقصودُ بِتجارةِ الترانزيتِ؟

.....

أختبرُ معلوماًتي

- مِنْ جِلالِ دراستِكَ لأهمِّيَّةِ المَوْقِعِ الجُغرافيِّ لِدَوْلَةِ الإماراتِ العَرَبِيَّةِ المَتَّحِدَةِ، اسْتَخْرِجْ ما يَأْتِي:

1- حَقِيقَةٌ جُغرافيَّة:

.....

2- حَقِيقَةٌ اِقْتِصادِيَّة:

.....

3- حَقِيقَةٌ تَارِخِيَّة:

.....

4- نِعْمَةٌ نَشْكُرُ اللّهُ عَليْها:

.....

