

(1) من الشكل المقابل

(a) الشكل 2 يطابق الشكل
باستخدام التحويل الهندسي

(b) الشكل 3 يطابق الشكل
باستخدام التحويل الهندسي

(2) من الشكل المقابل اكمل

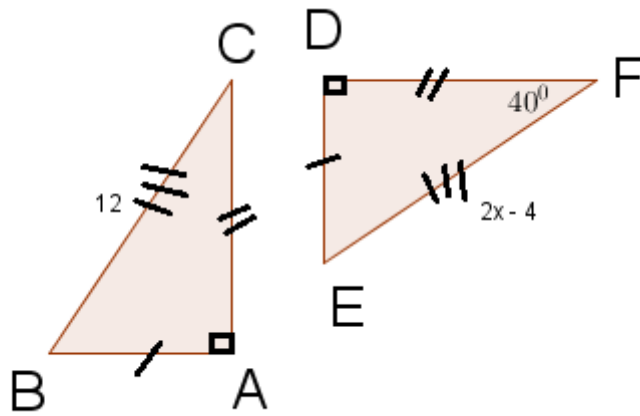
(a) الضلع $DF \cong \dots\dots$

$EF \cong \dots\dots$

(b) المثلث $\triangle DFE \cong \triangle \dots\dots$

(c) الزاوية $m \angle C = \dots\dots$

$m \angle B = \dots\dots$

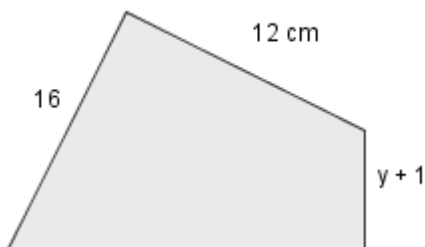


(3) الشكلين متساويين

معامل المقياس

اختر الإجابة الصحيحة

(1) قيمة x في الشكل المقابل



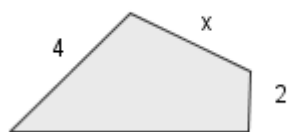
a) 12 cm

c) 4 cm

b) 3 cm

d) 16 cm

(2) قيمة y في الشكل المقابل



a) 5 cm

c) 3 cm

b) 6 cm

d) 7 cm