

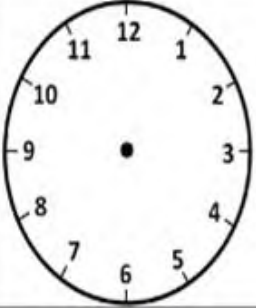

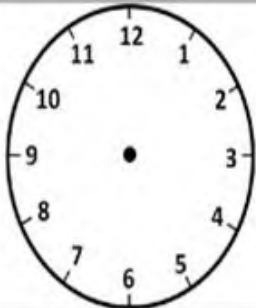

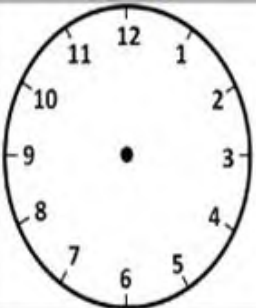


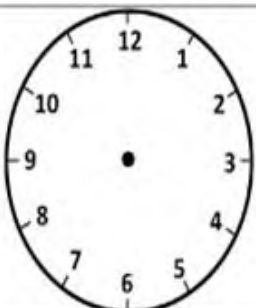

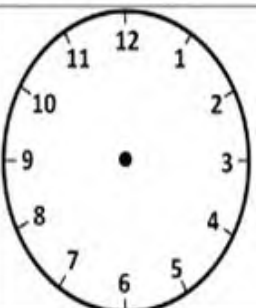






مذكرة مراجعة للصف الاول الاساسي لمادة الرياضيات

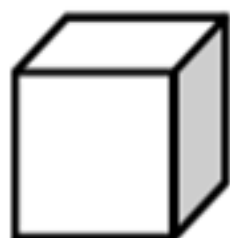
الاسم :

الصف :

الساعة

			
2:20		4:30	
			
12:30		9:30	
			
	3:30		5:00
			
7:30		12:00	

الاشكال ثلاثية الابعاد



أسطوانة



منشور
مستطيل



مخروط



مكعب



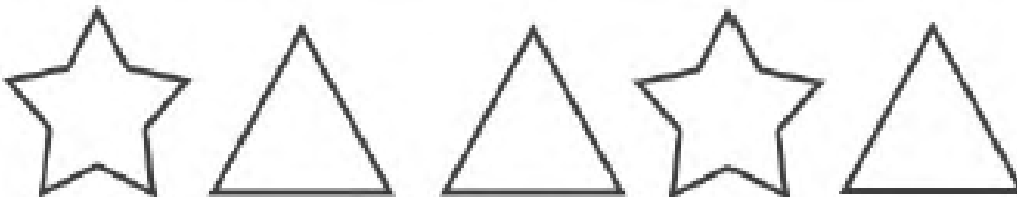
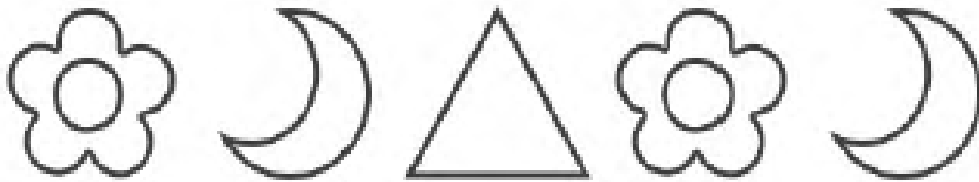

كرة

Reading Analog Clocks (J)

Read each time and write it in the space under the clock.






أكمل النمط








Name _____ Date _____

Read the time below each clock. Draw the hands on the clock to match the time given.




2:30 9:00 4:00 11:30 8:30



6:00 7:30 10:30 1:00 3:00

كم عدد الاضلاع



1 0 2



2 3 4




3 1 2



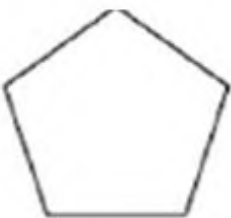
4 2 5



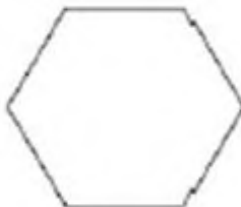
2 5 4



0 1 2



6 5 4




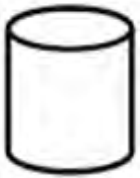



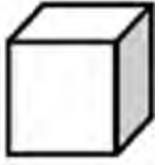
9 8 6



8 10 6

الاشكال الهندسية

صل الاسم بالشكل المناسب :



1- أنا شكل ثلاثي لي وجه واحد
ورأس واحد

2- أنا شكل ثنائي عدد رؤوسي
صفر

3- أنا شكل ثنائي عدد أضلاعي
4 وجميع أضلاعي بنفس الطول

4- أنا شكل ثلاثي متكون من 6
مربعات

5- أنا شكل ثلاثي لي وجهان

6- أنا شكل ثنائي لي ثلاثة
أضلاع

7- أنا شكل ثلاثي لي ثمانية
رؤوس ووجهي مستطيل

8- أنا شكل ثنائي لي أربعة
أضلاع ضلعان لهم نفس الطول

9- أنا شكل ثنائي لي أربعة
رؤوس ضلعان لهما نفس الطول
والضلعان مختلفان

Name _____ Date _____

Circle the time below each clock that correctly tells the time.



- a. 6:05
- b. 5:30
- c. 5:06



- a. 4:60
- b. 12:04
- c. 4:00



- a. 11:00
- b. 11:60
- c. 12:11



- a. 2:06
- b. 2:30
- c. 6:02



- a. 4:30
- b. 4:06
- c. 6:04



- a. 6:09
- b. 9:06
- c. 6:30



- a. 8:00
- b. 8:60
- c. 12:08



- a. 1:00
- b. 1:60
- c. 12:01

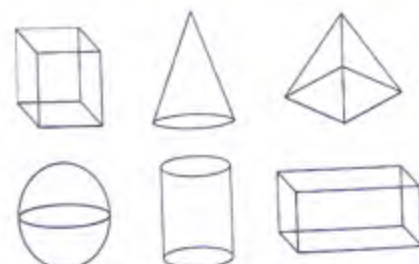
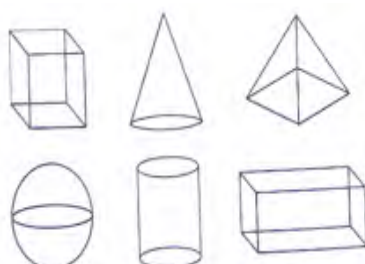
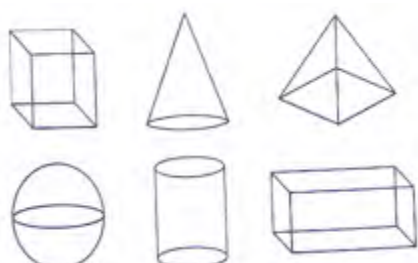



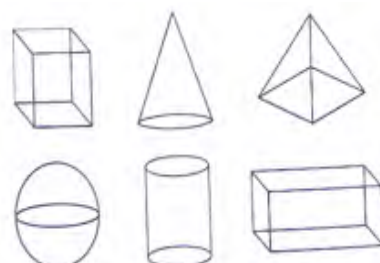
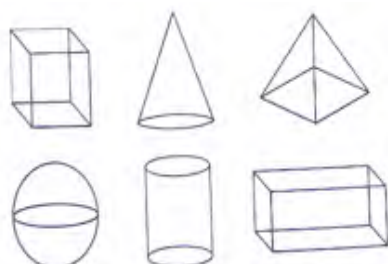



- a. 11:30
- b. 11:06
- c. 6:11

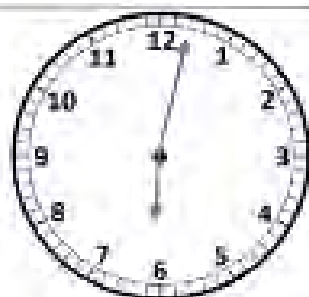


- a. 12:30
- b. 6:00
- c. 6:60

اختر الشكل المركب



الساعة



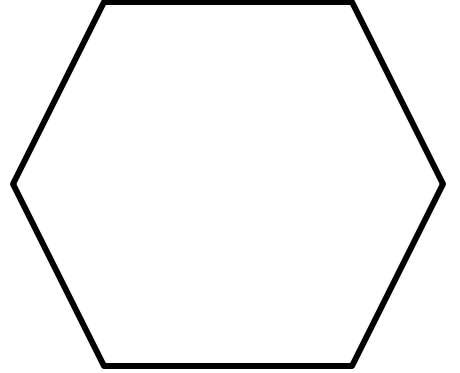




الساعة

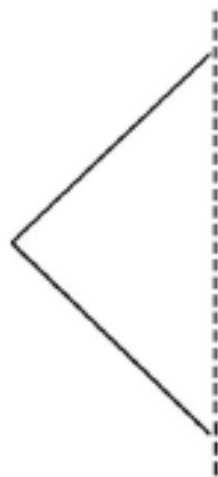

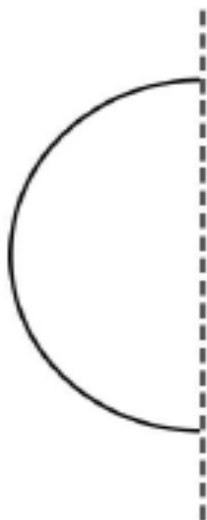
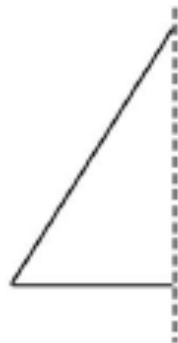
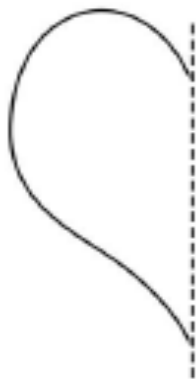


النصف

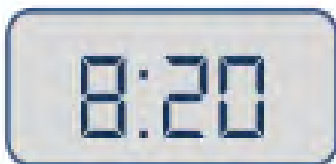
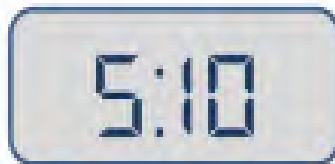
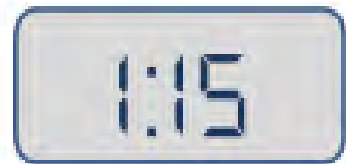

ارسم خطا مستقيما ينصف الاشكال التالية الى نصفين متساويين



ارسم النصف الناقص



الساعة



Match the time



11:00



2:00



4:00



1:00



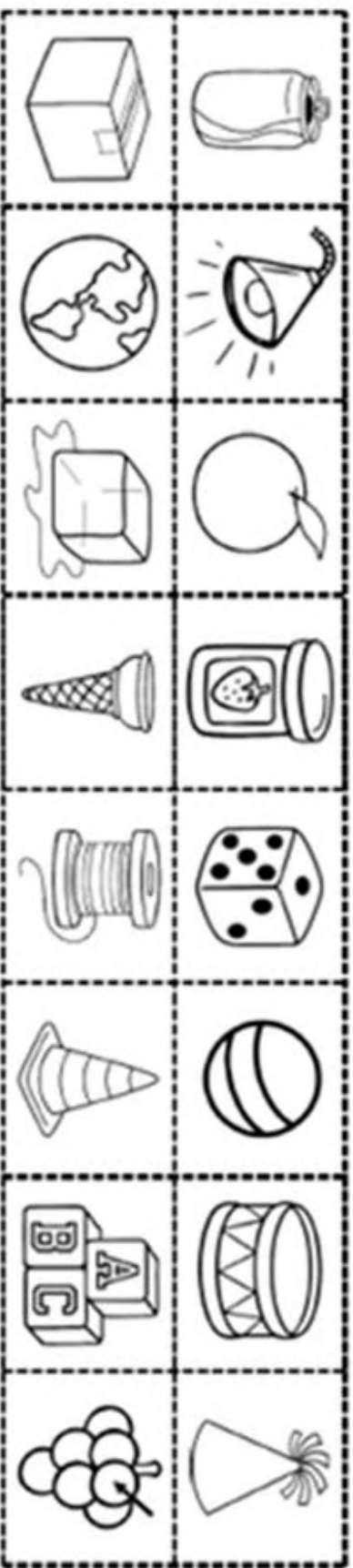
10:00



7:00

الاشكال ثلاثية الابعاد

كرة	وجهان دائريان	وجه مربع	وجه دائري



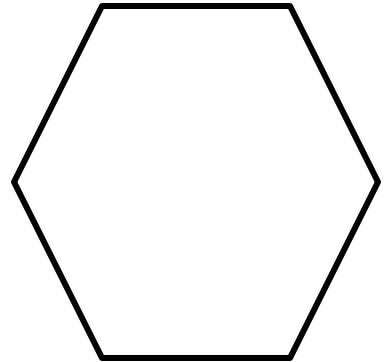
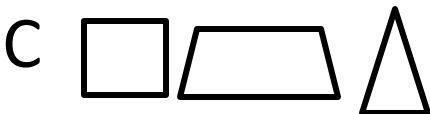
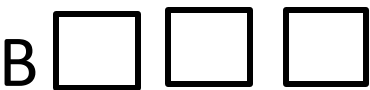
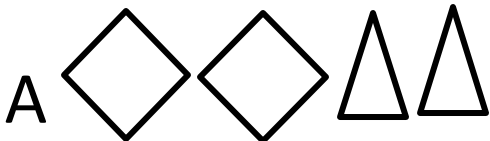
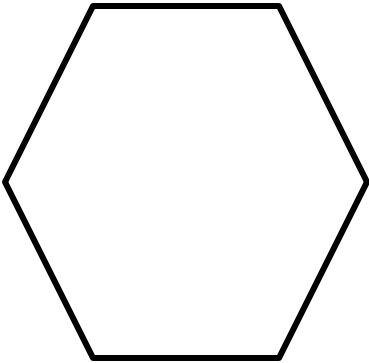
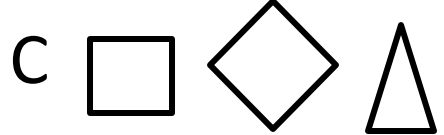
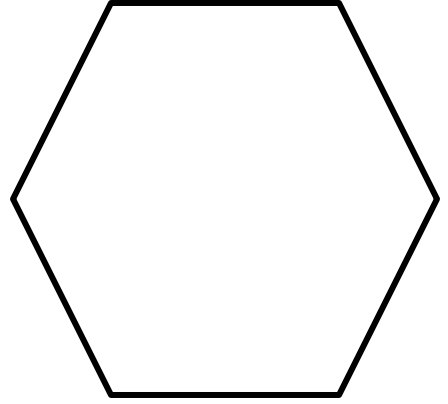

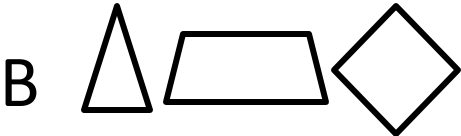

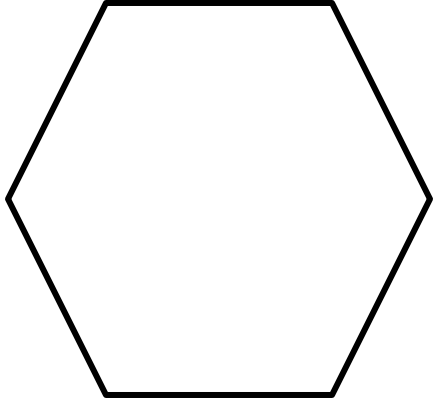


الساعة



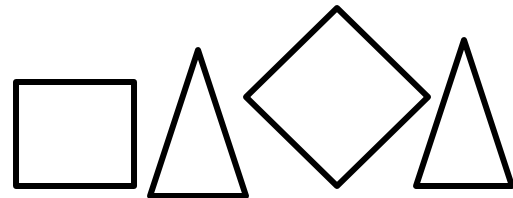
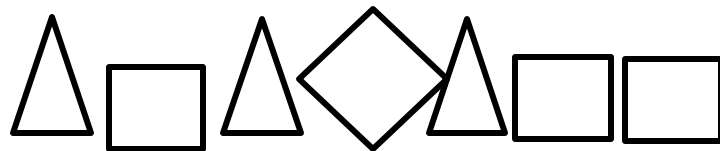
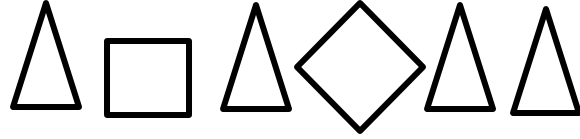
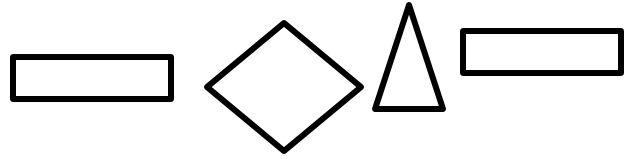
الاشكال المركبة

ضع دائرة على الشكل المكونه منه :




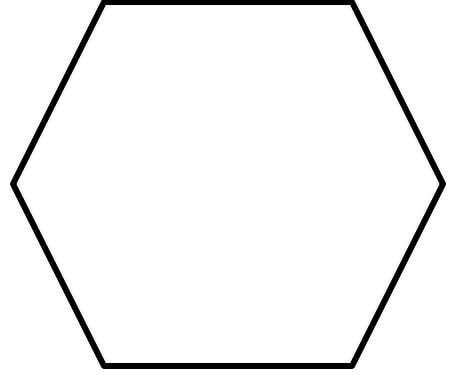


الاشكال المركبة

ضع دائرة على الشكل المكونه منه :



اربعة أجزاء متساوية

ارسم خطا مستقيما يقسم الاشكال التالية الى أربعة أقسام متساوية



الساعة



Draw the time shown on each clock.

1.



4:00

2.



2:00

3.



11:00

4.



12:00

5.



1:00

6.



8:00

7.



10:00

8.



3:00


9.



9:00

Write the time below each clock.

1.



2.



3.



4.



5.



6.



7.



8.



9.

