


عنوان الدرس

المراجعة الذاتية للوحدة ٥ (القيمة المكانية)

نواتج التعلم:

- تقييم مدى فهم الطلبة للمفردات والمفاهيم الأساسية الواردة في الوحدة .





أرسم خطأ لتصل كل كلمة بما يناسبها.

- 1. العشرات =
- 2. يساوي <
- 3. مئة >
- 4. أصغر من 10 آحاد
- 5. إعادة جميع 10 عشرات
- 6. أكبر من 19 من الآحاد = 1 عشرات و 9 آحاد



7.


العشرات	الآحاد
	

العشرات	الآحاد
٨	٣

اُكْتُبِ العَدَدَ بِطَرَائِقٍ مُخْتَلِفَةٍ.

٨٣

ثلاثة وثمانون




8.

اُكْتُبِ العَدَدَ بِطَرَائِقٍ مُخْتَلِفَةٍ.

المئات	العشرات	الآحاد
		

المئات	العشرات	الآحاد
١	٠	٥

١٠٥
مِئَةٌ وَخَمْسَةٌ



استراتيجية التعلم باللعب

هيا الى ورقة العمل الإلكترونية التفاعلية
ثم أرفق صورة من ورقة الحل
في بوابة التعليم الذكية
لمادة الرياضيات

(online worksheet for) www.liveworksheets.com الالاعداد



إِسْتَخْدِمِ مُخَطَّطَ الأَعْدَادِ. **حَوِّطِ العَدَدَ اللَّاحِقَ.**

1	2	3	4	5	6	7	8	9	10
11	12	13	14	15	16	17	18	19	20
21	22	23	24	25	26	27	28	29	30
31	32	33	34	35	36	37	38	39	40
41	42	43	44	45	46	47	48	49	50
51	52	53	54	55	56	57	58	59	60
61	62	63	64	65	66	67	68	69	70
71	72	73	74	75	76	77	78	79	80
81	82	83	84	85	86	87	88	89	90
91	92	93	94	95	96	97	98	99	100
101	102	103	104	105	106	107	108	109	110
111	112	113	114	115	116	117	118	119	120

9. عُدِّ مِنْ 6 إِلَى 9.

مَا العَدَدُ اللَّاحِقُ؟

5 **10** 11

10. عُدِّ مِنْ 86 إِلَى 99. مَا العَدَدُ اللَّاحِقُ؟

98 **100** 90

11. **حَوِّطِ** المَجْمُوعَةَ الَّتِي


تُوضِّحُ الأَعْدَادَ بِتَرْتِيبِ العَدِّ.

58, 59, 60, 61 60, 58, 61, 59



12. لدى ليلي 26 حبة زبيب في وجبة الغداء. فما هو العدد في منزلة الآحاد والعشرات الموجودة في العدد 26؟

٢ عَشْرَاتٍ ٦ آحادٍ



13. لدى فارس 5 سَلَاتٍ. تَحْتَوِي كُلُّ سَلَّةٍ عَلَى 10 حَبَّاتِ فَوْلِ سودانيّ. ما عَدَدُ حَبَّاتِ الفَوْلِ السُّودَانِيّ المَوْجُودَةِ إِجْمَالاً؟


حَبَّةُ فَوْلِ سودانيّ 50

14. يَشْتَرِي مَاجِدٌ 10 كُرَاتٍ زُجَاجِيَّةٍ كُلَّ أُسْبُوعٍ. فَمَا عَدَدُ الكُرَاتِ الزُّجَاجِيَّةِ الَّتِي سَيَمْتَلِكُهَا فِي عُضُونِ 6 أُسَابِيْعٍ؟

كُرَّةُ زُجَاجِيَّةٍ 60

15. قَامَتْ لَمِيْسُ بِإِعْدَادِ 3 مَجْمُوعَاتٍ مِنْ 10 كَعْكَاتٍ. كَمَا قَامَتْ أَيْضًا بِإِعْدَادِ 7 كَعْكَاتٍ إِضَافِيَّةٍ. فَمَا عَدَدُ الكَعْكَاتِ الَّتِي قَامَتْ بِإِعْدَادِهَا إِجْمَالاً؟

كَعْكَةٌ 37



تمرين على الاختبار

16. اقرأ الأعداد. ما العدد الناقص؟

96, 97, _____, 99, 100, 101

95




98



102



104



العدد الاكبر من ٨٩ بمقدار ١٠ هو

A

٩٩

B

٧٩

C

٩٨

D

٨٨



العدد ٧١ اصغر من العدد

A

٥٦

B

٨٧

C

٣٥

D

٤٢



ما العدد اللاحق ١٢

A

١١

B

١٤

C

١٣

D

١٠



ه عشرات و ٦ احاد =

A

٥٥

B

٥٦

C

٥٧

D

٥٦



شكراً لتفاعلكم
طلابي ، القاكم
الحصّة القادمة



