

الوحدة 5 : القيمة المكانية

عنوان الدرس

الأعداد الترتيبية حتى 10

نتائج التعلم:

استخدام الأعداد الترتيبية من الأول إلى
العاشر لتحديد

الموقع الترتيبي لشيء





أوجد ناتج طرح :



$$13 - 7 =$$

$$13 - 7 = 6$$



التهيئة

مرحبا يا أصدقائي أود أن أعرفكم
بنفسي أنا زميلتكم ميمي أسكن في
القرية في منزل جميل وحديقة
واسعة أما عائلتي تتكون من



التهيئة

هذا والدي واسمه راشد ويعمل في
الشرطة ، ويجب أن يخدم وطنه .




هذه أمي ، وتعمل أمي ربة منزل
وتساعدني دائما في دراستي .



التهيئة

هذا أخي أحمد وهو أكبر اخوتي
ويعمل مهندس في شركة البترول




اما هذا فهو خالد أيضا اكبر مني
وهو يدرس في الصف العاشر




التهيئة

أما هذه الجميلة فهيه نورة الحبوبة
وهي أصغر مني .



سؤالي يقول ما ترتيبي بين
اخوتي ؟



التهية


نورة

خالد

أحمد



الثالث




الأول

الثاني

الثالث

الرابع

إذا اليوم سوف نتعلم
الأعداد الترتيبية حتى 10



الخامس

السادس

السابع

الثامن

الوحدة 5 : القيمة المكانية

عنوان الدرس

الأعداد الترتيبية حتى 10

ناتج التعلم:

استخدام الأعداد الترتيبية من الأول إلى
العاشر لتحديد

الموقع الترتيبي لشيء



مفردات الدرس



الأعداد الترتيبية



عنوان الدرس: الأعداد الترتيبية حتى 10



من خلال الفيديو
سنتعلم الأعداد
الترتيبية حتى 10



عنوان الدرس: الأعداد الترتيبية حتى 10


هيا نركز سويا يا
أبطال

الخامس

الرابع


الثاني

الثالث



عنوان الدرس:
الأعداد الترتيبية
حتى 10

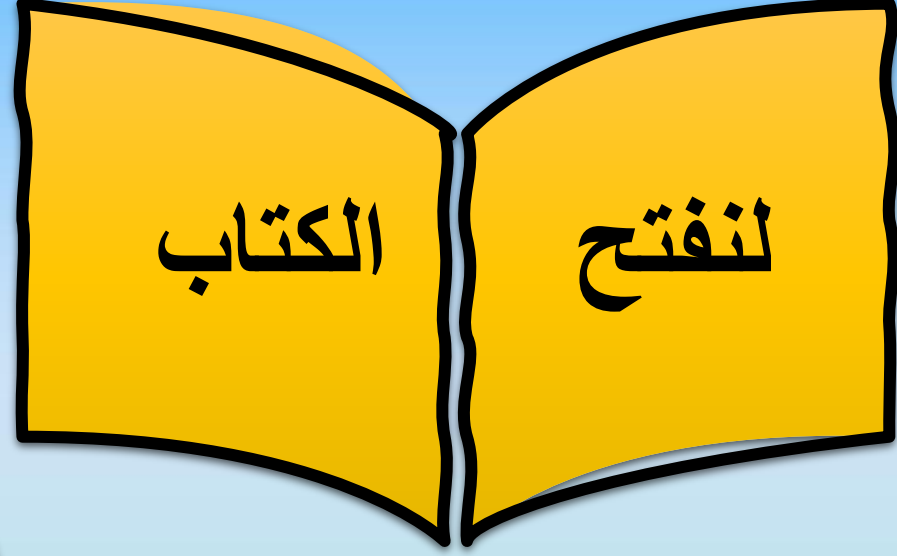
والآن يا أبطال .. إذا كانت النحلة هي الأولى فكم تكون
الفراشة ؟ هيا أوجدوا لي يا عباقرة ..



الرابعة



عنوان الدرس: الأعداد الترتيبية حتى 10



الدرس 1

السؤال الأساسي
كيف يمكن استخدام
العدد المكتوب؟

الأعداد الترتيبية حتى 10

الاستكشاف والشرح

X	1
X	2
X	3
X	4
X	5
X	6
X	7
X	8
X	9
X	10



توجيهات المعلم: ضع 10 قطع عد في صف عند الزحليقة. ثم ضع علامة X لكل قطعة عد. ارسـم
مربعا حول قطعة العد رقم 6 و 9 في الخطة.



ضع 10 قطع عد في
صف عند الزحليقة ،
ثم ضع علامة X لكل
قطعة عد . ارسـم
مربعا حول قطعة
العد رقم 6 و 9 في
الصف .

صفحة
347



عنوان الدرس: الأعداد الترتيبية حتى 10

صفحة

348



التمارين
الرياضية

الملاحظة والحساب

أشِرْ إلى الحشرة الأولى. ضَع علامة X على الحشرة رقم 3. ثُمَّ حَوِّطِ الحشرة رقم 7. وَضَع خَطًّا أَعْلَى الحشرة رقم 8.





استراحة سمعية

ما صوت الحيوان
الثامن الذي سمعته؟



عنوان الدرس: الأعداد الترتيبية حتى 10

الاسم والتاريخ

أَعْتَمِدُ عَلَى نَفْسِي

أَشْرُزُ إِلَى الذَّبِّ الْأَوَّلِ. ضَعْ عَلَامَةَ X عَلَى الذَّبِّ رَقْمَ 2 و 10. حَوِّطِ الذَّبَّ رَقْمَ 4 و 7.

والآن يا
أبطال
أعتمد على
نفسي
صفحة 349



هيا للتحدي يا أبطال من خلال عمل المجموعات
استخدام الحقائق المترابطة للجمع و الطرح

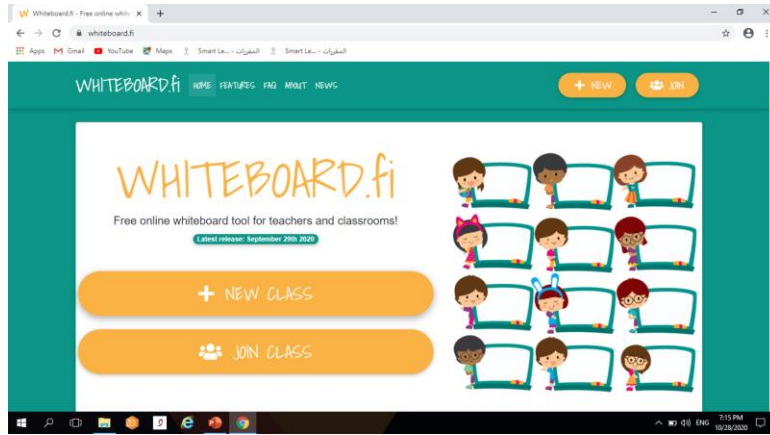
مجموعة
التفاؤل

مجموعة
التعاون

مجموعة
العطاء



عنوان الدرس: الأعداد الترتيبية حتى 10



هيا معا الى عمل
المجموعات
من خلال
whiteboard



هيا للتحدي يا أبطال من خلال عمل المجموعات

مجموعة التناول

ما هو ترتيب النحلة ؟



الثانية

مجموعة التعاون

أنا عدد ترتيبي قبل
العدد العاشر ب ثلاثة
فأي عدد ترتيبي أنا ؟

السابع



مجموعة العطاء

ترتيب خالد الخامس و ترتيب
علي الثالث و ترتيب أحمد قبل
علي . فما ترتيب أحمد ؟

الثاني



03:00



عنوان الدرس: الأعداد الترتيبية حتى 10

صفحة

350



حل المسائل



المهارات
الرياضية

أشِرْ إلى الحشرة الأولى. ضَعْ خطًا أعلى الحشرة رقم 3. ثُمَّ ضَعْ علامة X على الحشرتين رقم 4 و6 ثم حَوِّطِ الحشرة رقم 8.




إذهب إلى البوابة يا صغيري لديك سؤال
قم بحل السؤال وضعه في المحادثة



التقويم البنائي

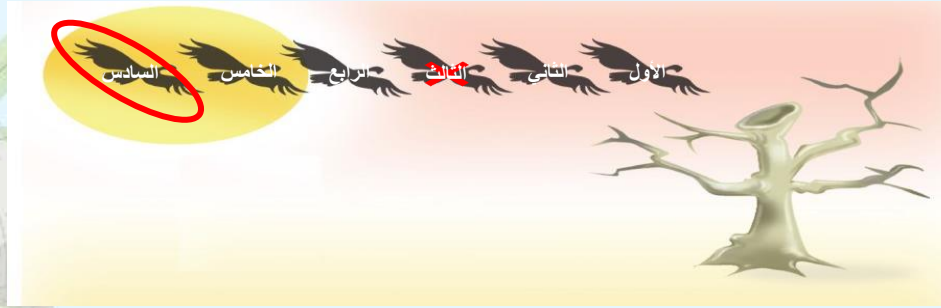
والآن جاء وقت المرح مع لعبة سلايس المرح...





عنوان الدرس: الأعداد الترتيبية حتى 10

ما هو ترتيب الصقر المحوط عليه ؟




5

6

7

هيا بنا
للسؤال التالي..




عنوان الدرس: الأعداد الترتيبية حتى 10

من هو الحاكم الأول لدولة الإمارات العربية المتحدة ؟



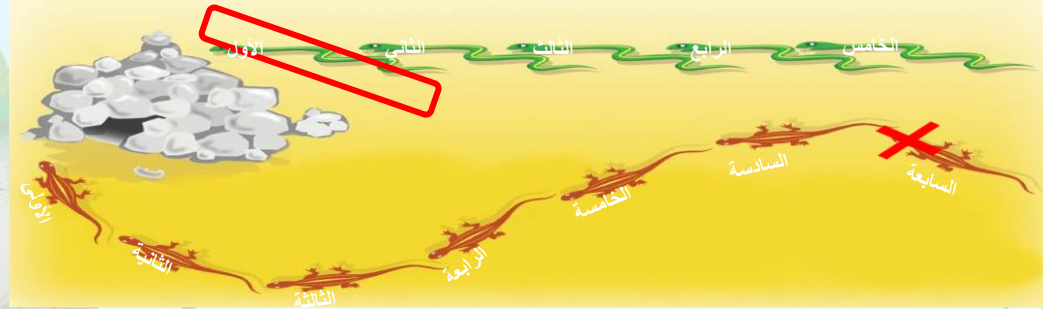
الشيخ زايد بن سلطان آل نهيان
الشيخ محمد بن راشد آل مكتوم
الشيخ خليفة بن زايد آل نهيان

هيا بنا
للسؤال التالي..



عنوان الدرس: الأعداد الترتيبية حتى 10

ما هو ترتيب الثعبان الذي حوط عليه بمربع ؟




هيا بنا
للسؤال التالي..

4

5

1



عنوان الدرس: الأعداد الترتيبية حتى 10

ما ترتيب الصلاة في أركان الاسلام ؟




هيا بنا
للسؤال التالي..

1

2

3



عنوان الدرس: الأعداد الترتيبية حتى 10



عنوان الدرس: الأعداد الترتيبية حتى 10

مهارات تفكير
عليا

ابحث واقرأ الحرف السادس من الحروف الهجائية يا بطل :

أ ب ت ث ج ح خ د ذ ر
ز س ش ص ض ط ظ ع غ
ف ق ك ل م ن ه و ي

ستحصل
على وسام

ح



ماذا تعلمنا من درس اليوم؟

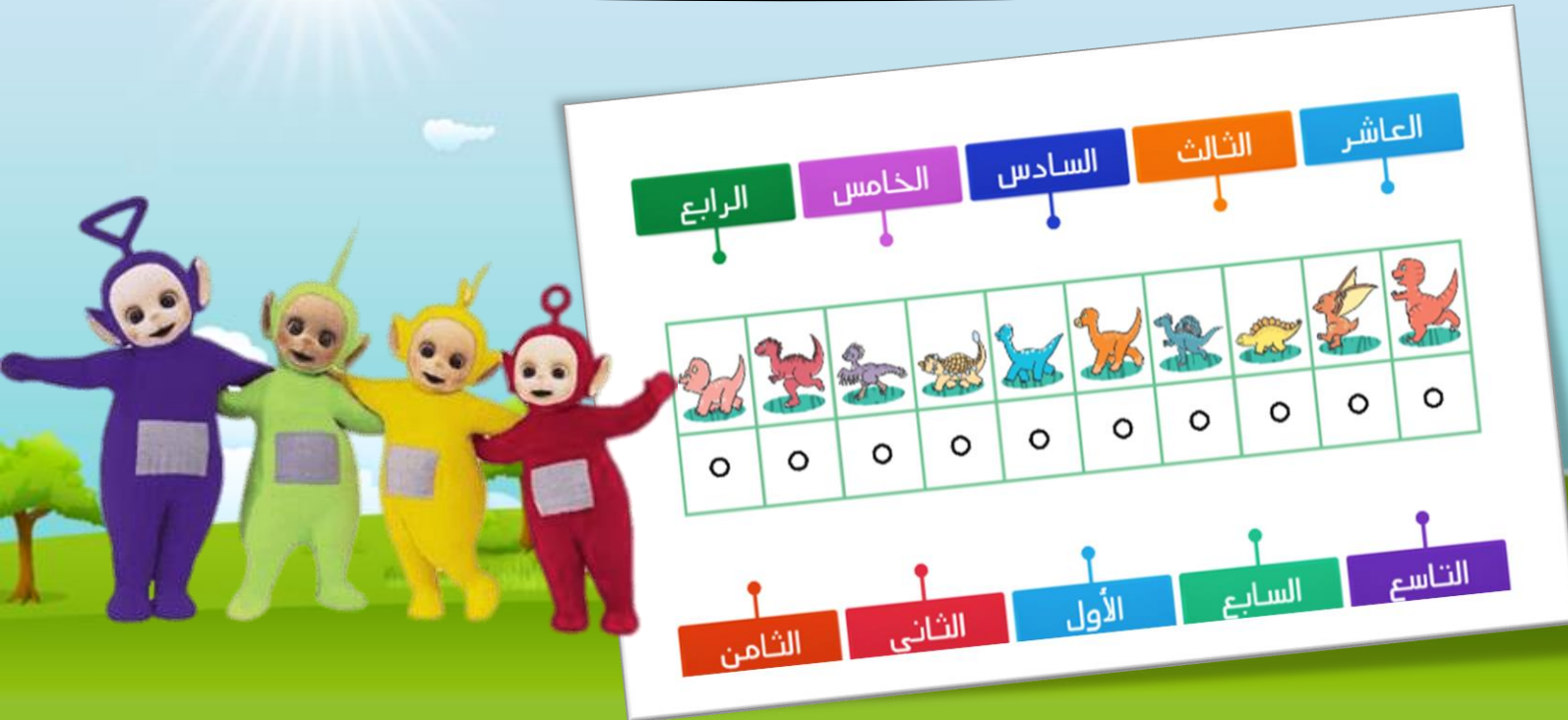


واجباتي المنزلية في الكتاب



التقويم الختامي

<https://wordwall.net/ar/resource/4438587>



التقويم الختامي

<https://www.liveworksheets.com/uk1213643aq>



أقيم نفسي

1

لم أفهم الدرس



2

احتاج إلى
القليل من
التعزيز



3

رائع ، اتقنت
نواتج التعلم



انتهت الحصة يا أصدقائنا
المتميزين .. نشكركم على
الحضور والمشاركة الفعالة يا
أبطال ... إلى اللقاء

