

# رياضيات

# 2

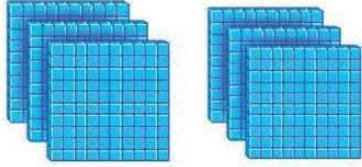
الصف الثاني

امتحان الشهر الأول

الفصل الأول

**السؤال الأول :** اكتب عدد الواحدات وعدد العشرات وعدد المئات يا

بطل:



الواحدات      العشرات      المئات  
\_\_\_\_\_ = \_\_\_\_\_ = \_\_\_\_\_

\*\*\*\*\*

**السؤال الثاني :** مثل العدد التالي مستخدماً النماذج يا بطل:

243

\*\*\*\*\*

**السؤال الثالث :** اكتب القيمة المنزلية للعدد الملون يا بطل :

245 \_\_\_\_\_

879 \_\_\_\_\_

478 \_\_\_\_\_

**السؤال الرابع :** اكتب الأعداد التالية بالصيغة التحليلية يا بطل :

$$265 = \underline{\quad} + \underline{\quad} + \underline{\quad}$$

$$999 = \underline{\quad} + \underline{\quad} + \underline{\quad}$$

$$675 = \underline{\quad} + \underline{\quad} + \underline{\quad}$$

\*\*\*\*\*

**السؤال الخامس :** اكتب الأعداد التالية بالكلمات يا بطل :

654

200

501

منصة أساس التعليمية

720





لنفكر معًا ( من أنا ؟ )

كم عشرة في العدد 400 ؟

كم مئة في العدد 589 ؟

أنا عدد صيغتي التحليلية هي ( 2 + 50 + 300 ) فمن أنا ؟

أنا مئاتي 9 وأحادي 7 وعشراتي 6 ، فمن أنا ؟

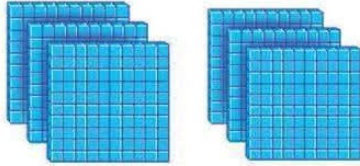
منصة أساس التعليمية

معًا نحو التميز انتهت الأسئلة يا عبقرى المستقبل



**الإجابات**

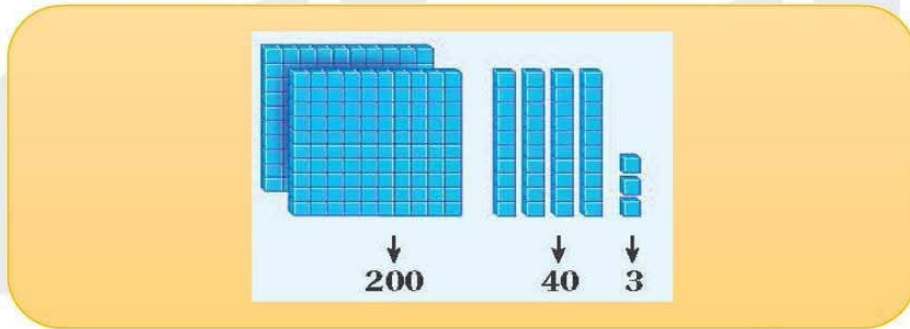
**السؤال الأول :** اكتب عدد الواحدات وعدد العشرات وعدد المئات يا بطل:



الواحدات      العشرات      المئات  
6      =      60      =      600

\*\*\*\*\*

**السؤال الثاني :** مثل العدد التالي مستخدماً النماذج يا بطل:



243

\*\*\*\*\*

**السؤال الثالث :** اكتب القيمة المنزلية للعدد الملون يا بطل :

245          5   

879          70   

478          400   



**السؤال الرابع :** اكتب الأعداد التالية بالصيغة التحليلية يا بطل :

$$265 = 200 + 60 + 5$$

$$999 = 900 + 90 + 9$$

$$675 = 600 + 70 + 5$$

\*\*\*\*\*

**السؤال الخامس :** اكتب الأعداد التالية بالكلمات يا بطل :

654 ستمئة وأربعة وخمسون

200 مئتان

501 خمسمئة و واحد

720 سبعمئة وعشرون





لنفكر معًا ( من أنا ؟ )

كم عشرة في العدد 400 ؟ 40

كم مئة في العدد 589 ؟ 5

أنا عدد صيغتي التحليلية هي ( 2 + 50 + 300 ) فمن أنا ؟ 352

أنا عدد مئاتي 9 وأحادي 7 وعشراتي 6 ، فمن أنا ؟ 967

منصة أساس التعليمية

معًا نحو التميز انتهت الأجوبة يا عبقرى المستقبل

