



إدارة الامتحانات والاختبارات

مديرية الاختبارات

الاختبار التشخيصي

الصّف الرابع الأساسي

للعام الدراسي 2025-2026

المبحث: العلوم

اسم الطالب: _____

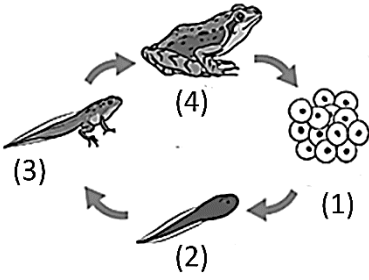
اسم المدرسة: _____ اسم المديرية: _____

عزيزي الطالب: اقرأ هذه التعليمات قبل البدء بتطبيق الاختبار.

تعليمات الاختبار:

- لا تفتح كراسة الاختبار حتّى يسمح لك المعلم بذلك.
- يتكوّن هذا الاختبار من (25) فقرة من نوع الاختيار من متعدّد، لكلّ فقرة أربعة بدائل واحد منها فقط صحيح. علماً أنّ عدد الصّفحات (3).
- زمن الاختبار (45) دقيقة
- أجب عن جميع الأسئلة بعناية ودقّة.

1- مُعْتَمِدًا عَلَى الشَّكْلِ الْمُجَاوِرِ الَّذِي يُمَثِّلُ دَوْرَةَ حَيَاةِ الضُّفْدَعِ. مَا الْمَرْحَلَةُ الْمُشَارُ إِلَيْهَا بِالرَّقْمِ (3)؟



- (أ) بيوض
(ب) ضفدعٌ مكتمل النمو
(ج) أبو ذنبيّة
(د) ضفدعٌ صغيرٌ

2- ما المرحلة التي تبدأ بها دورة حياة نبات اللّيمون؟

- (أ) الزهرة
(ب) البذرة
(ج) البادرة
(د) الثمرة

3- أيّ المثيرات الآتية مثيرًا خارجيًا؟

- (أ) الجوع
(ب) العطش
(ج) النعاس
(د) البرد

4- السلوك الذي يكتسبه الكائن الحي بالتدريب هو:

- (أ) لعب الدلفين بالكرة
(ب) رعاية الأم لصغارها
(ج) الرضاعة
(د) هجرة الطيور

5- أيّ الآتية يصنّف من المكوّنات الحيّة في النظام البيئي؟

- (أ) ضوء الشمس
(ب) التربة
(ج) النبات
(د) الماء

6- أيّ الآتية تعدّ مستهلكات تتغذى على النباتات والحيوانات؟

- (أ) الذبّ
(ب) الغزال
(ج) النمر
(د) الأرنب

7- الوصف الصحيح للأنظمة البيئية المائية الآتية هو:

- (أ) المحيط نظام بيئي مائي عذب
(ب) النهر نظام بيئي مائي عذب
(ج) البركة نظام بيئي مائي مالح
(د) البحر نظام بيئي مائي عذب

8- يتميّز النظام البيئي الصحراوي بـ:

- (أ) تنوع الكائنات الحيّة
(ب) كثرة الأمطار
(ج) ارتفاع درجة الحرارة
(د) كثرة الأشجار

9- أيّ الحواسّ الآتية تساعد في الكشف عن خطر تسرب الغاز في المنزل؟

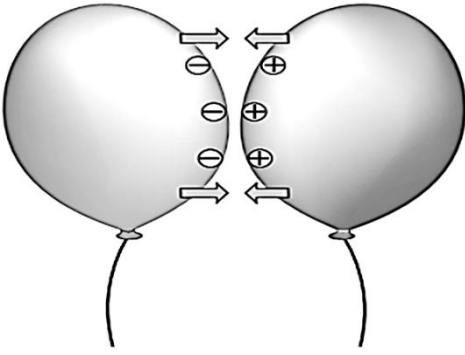
- (أ) البصر
(ب) الشمّ
(ج) اللمس
(د) السمع

10- الخطر الطبيعي الظاهر في الشكل المجاور هو:



- (أ) الفيضانات
(ب) الزلازل
(ج) البراكين
(د) الجفاف

11- اعتمادًا على الشكلِ المُجاوِرِ فَإِنَّ القُوَّةَ المُتبادِلَةَ بَيْنَ البالونَيْنِ هي:



(أ) قُوَّةُ تَجاذِبٍ كَهْرَبائِيَّةٍ

(ب) قُوَّةُ تَنافُرٍ كَهْرَبائِيَّةٍ

(ج) قُوَّةُ تَجاذِبٍ مِغناطِيسِيَّةٍ

(د) قُوَّةُ تَنافُرٍ مِغناطِيسِيَّةٍ

12- أَيُّ الألاتِ البَسيطةِ الآتِيَةِ تُسْتخدَمُ في تَقْسيمِ الأَشْياءِ إلى أَجْزاءٍ:

(د) الفَأْسُ

(ج) البَكْرَةُ

(ب) الرِّافِعَةُ

(أ) البُرْغِيَّةُ



13- ما الألة البَسيطةُ الَّتِي تُشيرُ إليها الصُورةُ المُجاوِرَةُ؟

(أ) الرِّافِعَةُ

(ب) البَكْرَةُ

(ج) العَجَلَةُ والمِحْوَرُ

(د) المُستَوَى المائِلُ

14- تَصِفُ المادَّةَ في الحَالةِ الصُّلْبَةِ بِأَنَّ:

(أ) شَكْلُها مُحدَّدٌ، وَحَجْمُها غَيْرُ ثابتٍ

(ب) شَكْلُها غَيْرُ مُحدَّدٍ، وَحَجْمُها ثابتٌ

(ج) شَكْلُها مُحدَّدٌ، وَحَجْمُها ثابتٌ

(د) شَكْلُها غَيْرُ مُحدَّدٍ، وَحَجْمُها غَيْرُ ثابتٍ

15- ما الوَحْدَةُ المُناسِبَةُ لقياسِ كُتلةِ خاتمٍ مِنَ الذَّهَبِ؟

(أ) g

(ب) kg

(ج) km

(د) mL

16- ماذَا يَحْدُثُ عِنْدَ وَضْعِ سائِلٍ في وِعاءٍ دائِريٍّ؟

(أ) شَكْلُها يَتَغَيَّرُ، وَحَجْمُها يَتَغَيَّرُ

(ب) شَكْلُها يَتَغَيَّرُ، وَحَجْمُها يَبْقَى ثابتًا

(ج) شَكْلُها يَبْقَى ثابتًا، وَحَجْمُها يَتَغَيَّرُ

(د) شَكْلُها يَبْقَى ثابتًا، وَحَجْمُها يَبْقَى ثابتًا

17- المادَّةُ الَّتِي تُعدُّ مَخْلُوطًا مُتجانِسًا مِنَ المَوادِّ الآتِيَةِ هي:

(أ) المُكسَّراتُ

(ب) زَيْتٌ وَماءٌ

(ج) سَلطَةُ الفَوَاكِه

(د) العَصِيرُ

18- الأخطارُ الَّتِي يُمكنُ أَنْ يَكُونَ لِلإنسانِ عِلاقَةٌ بِحدوثِها هي:

(أ) الحرائِقُ

(ب) العواصِفُ

(ج) الزَّلَازِلُ

(د) التِّراكِينُ

19- ماذا يُسمَّى شكْلُ الماءِ على سَطْحِ الأرضِ في الصُّورَةِ المُجاوِرَةِ؟



(أ) بُحَيْرَةٌ

(ب) بَحْرٌ

(ج) نَهْرٌ

(د) مُحِيطٌ

20- أَيُّ الآتِيَةِ مِنْ مَكُونَاتِ العِلافِ الجَوِّيِّ وَتَحْتَاجُهُ الكائِناتُ الحَيَّةُ لِلتَّنَفُّسِ؟

(ب) النِّيتروجين

(أ) الأوكسجين

(د) بُخارُ الماءِ

(ج) ثاني أكسيد الكَربون

21- ما نَوْعُ الأُحفورَةِ النَّاتِجَةِ عَنِ احتِجازِ حَشْرَةٍ في الكَهْرمانِ كَمَا في الشَّكْلِ المُجاوِرِ؟

(أ) آثارُ أُحفوريَّةٍ

(ب) أَجزاءٌ مِنَ الحَشْرَةِ

(ج) الأُحفورَةُ الكامِلَةُ

(د) الطَّبَعاتُ



22- يُعدُّ وجودُ أحافيرِ نِباتِ الحُنْشارِ في مناطقِ صحراويَّةٍ دَليلًا على أَنَّ المُنطِقَةَ قديمًا كانتُ:

(ب) دافئةً ورَطِبَةً

(أ) دافئةً وجافَّةً

(د) بارِدةً ورَطِبَةً

(ج) بارِدةً وجافَّةً

23- أَيُّ الطَّرِيقِ الآتِيَةِ تُسْتَخَدَمُ لِفَصْلِ مَخْلُوطِ الأرزِ وَالطَّحِينِ؟

(د) الألتِقاطُ باليَدِ

(ج) التَّرشِيحُ

(ب) العَرَبْلَةُ

(أ) المِغناطِيسُ

24- أَيُّ الأُخطارِ الوارِدَةِ في الشَّكْلِ المُجاوِرِ تُعدُّ الأَكْثَرُ


تَسبَّبًا بِالوُفَيَاتِ؟

(أ) الإختِناقُ

(ب) الدَّهْسُ

(ج) التَّسَمُّ

(د) الحَرائِقُ



25- أَيُّ السُّلوكاتِ الآتِيَةِ سَلِيمَةٌ وَتُجَنَّبُنا مِنَ الأُخطارِ؟

(أ) أَنْظِفُ أسناني مرَّةً واحِدَةً في الأسبوعِ

(ج) أَطِيلُ النَّظَرَ إلى شاشةِ الهاتفِ كثيرًا

(ب) أركبُ الدَّرَاجَةَ الهوائِيَّةَ دونَ ارتداءِ الخوَدَةِ

(د) أَعسِلُ الفاكِهَةَ قَبْلَ أَكْلِها

(انْتَهتِ الأَسْئَلَةُ)

وزارة التربية والتعليم
إدارة الامتحانات والاختبارات
مديرية الاختبارات
قسم القياس والتقويم

جدول مفتاح الإجابة الاختبار التشخيصي لعام 2026 / 2025
الصف : الرابع الأساسي

المبحث: العلوم

رقم الفقرة	مفتاح الإجابة
1	د
2	ب
3	د
4	أ
5	ج
6	أ
7	ب
8	ج
9	ب
10	ب
11	أ
12	د
13	ج
14	ج
15	أ
16	ب
17	د
18	أ
19	ج
20	أ
21	ج
22	ب
23	ب
24	ب
25	د



تم تحميل هذا الملف من موقع منتديات صقر الجنوب

للدخول على الموقع انقر هنا

لمزيد من الملفات ابحث عن

Search

منتديات صقر الجنوب



منتديات صقر الجنوب



admin@jnob-jo.com



+962 799238559

نعمل بجد لتقديم تعليم متميز يحقق طموحات المستقبل.