

مدرسة الأندلس الخاصة للبنات
العام الأكاديمي 2025/2024
الفصل الدراسي الثاني



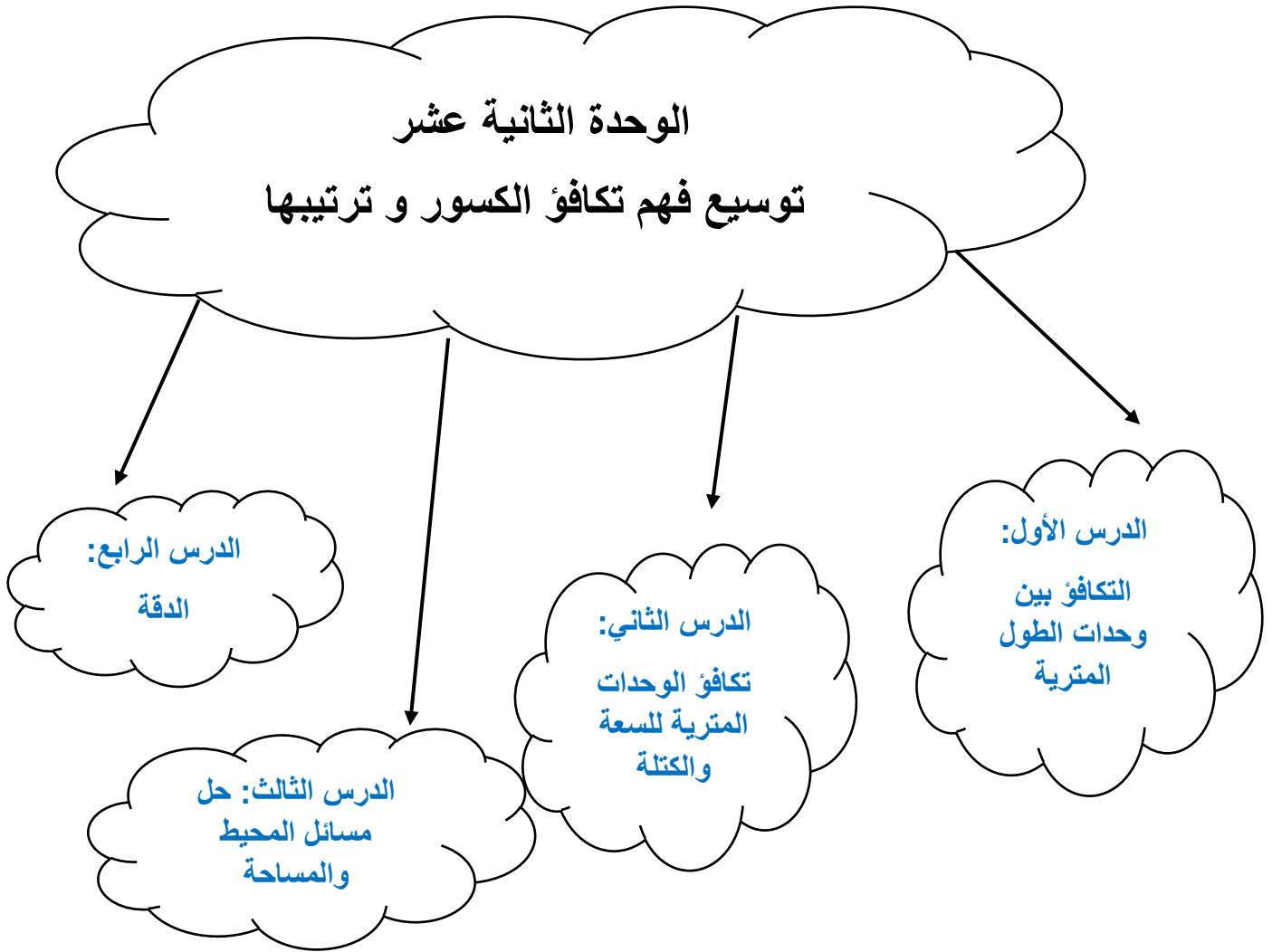
أوراق عمل إثرائية للوحدة (12)

مادة الرياضيات

الصف الرابع الابتدائي

اسم الطالبة/.....

الصف والشعبة /.....



- أهم ما يتم تعلمه خلال هذه الوحدة:
- التعرف على وحدات قياس الطول المترية، والتحويل من وحدة إلى أخرى.
- التعرف على وحدات السعة والكتلة المترية، والتحويل من وحدة إلى أخرى.
- حل مسائل محيط ومساحة.

السؤال الأول: الأسئلة الموضوعية: (10/ درجة)

اختر الإجابة الصحيحة:

أي من المقارنات التالية صحيحة؟		1
<input type="checkbox"/> A	$1 \text{ kg} > 2000 \text{ g}$	---/2
<input type="checkbox"/> B	$9000 \text{ mg} = 9 \text{ g}$	
<input type="checkbox"/> C	$900 \text{ g} > 1 \text{ kg}$	
<input type="checkbox"/> D	$9 \text{ mg} = 9 \text{ g}$	

أي من المقارنات التالية صحيحة؟		2
<input type="checkbox"/> A	$5 \text{ mL} > 50 \text{ L}$	---/2
<input type="checkbox"/> B	$2 \text{ L} < 200 \text{ mL}$	
<input type="checkbox"/> C	$100 \text{ L} = 1000 \text{ mL}$	
<input type="checkbox"/> D	$3000 \text{ mL} = 3 \text{ L}$	

أي من المقارنات التالية صحيحة؟		3
<input type="checkbox"/> A	$1000 \text{ L} < 1000 \text{ mL}$	---/2
<input type="checkbox"/> B	$40 \text{ L} = 400 \text{ mL}$	
<input type="checkbox"/> C	$5000 \text{ mL} = 5 \text{ L}$	
<input type="checkbox"/> D	$900 \text{ mL} > 900 \text{ L}$	

أي من المقارنات التالية صحيحة؟

4

☐ A $5 \text{ g} = 500 \text{ mg}$

---/2

☐ B $1 \text{ g} < 10 \text{ mg}$

☐ C $910 \text{ kg} < 910 \text{ g}$

☐ D $2 \text{ kg} > 2 \text{ g}$

أوجد قيمة ما يلي؟

5

$5 \text{ m} = \underline{\hspace{2cm}} \text{ cm}$

☐ A 5

---/2

☐ B 50

☐ C 500

☐ D 5000

الأسئلة المقالية: (من السؤال الأول إلى السؤال الثالث / 14 درجة)

1/4 --- درجة

1 حول كل وحدة فيما يلي.

a. $3 \text{ Km} = \underline{\hspace{2cm}} \text{ m}$

b. $55 \text{ cm} = \underline{\hspace{2cm}} \text{ mm}$

d. $2 \text{ m} = \underline{\hspace{2cm}} \text{ cm}$

c. $9 \text{ L} = \underline{\hspace{2cm}} \text{ mL}$

e. $5 \text{ Kg} = \underline{\hspace{2cm}} \text{ g}$

f. $8 \text{ kg} = \underline{\hspace{2cm}} \text{ g}$

j. $5 \text{ g} = \underline{\hspace{2cm}} \text{ mg}$

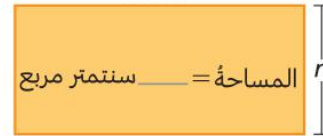
h. $4 \text{ g} = \underline{\hspace{2cm}} \text{ mg}$

8/--- درجة

2 أوجد المطلوب فيما يلي.

A)

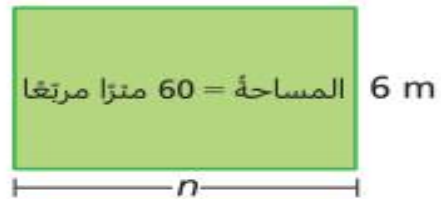
أوجد n . المحيط = 26 سنتمترًا
9 cm



وضح عملك هنا

B)

. أوجد n .



وضح عملك هنا

C)

أوجد n . المحيط = 86 سنتمترًا



وضح عملك هنا

2/--- درجة

3 أجب عما يأتي

اشترت سوسن 1 كيلوجرام من العنب، وفي طريقها إلى المنزل أكلت 400 جرام من هذه الكمية.

كم جراماً من العنب بقي لدى سوسن؟

الإجابة: _____

انتهت الاسئلة