



حل تدريبات الدرس الثاني

الأنشطة الاقتصادية



1- عِدِّدِ الْأَنْشِطَةَ الْاِقْتِصَادِيَّةَ فِي دَوْلَةِ قَطَرْ.

النقل – التجارة – التشييد – الصناعة – التعدين والمحاجر – الزراعة وصيد الأسماك

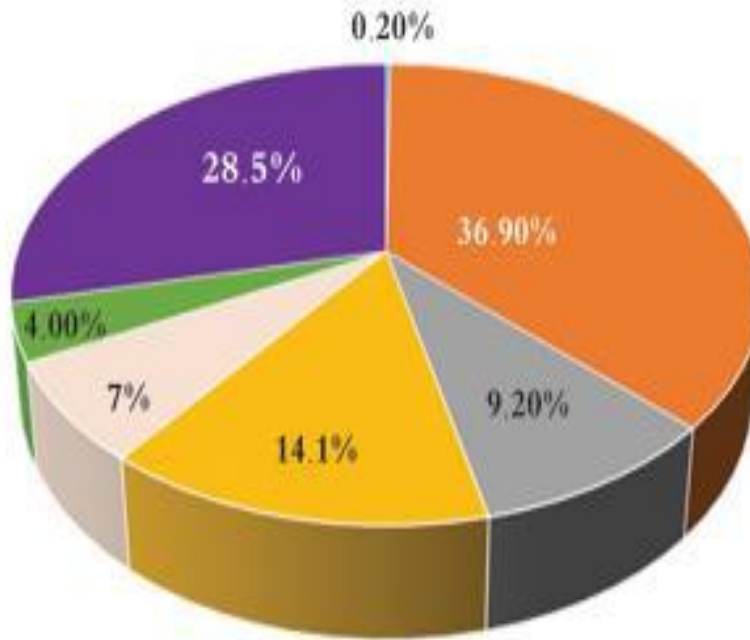
2- بِمِ نَفْسِرْ تَنْوَعُ الْأَنْشِطَةِ الْاِقْتِصَادِيَّةِ فِي دَوْلَةِ قَطَرْ.

بسبب تنوع الموارد الطبيعية

3- مَا النُّشَاطُ الْاِقْتِصَادِيُّ الَّذِي يَحْتَلُّ النِّسْبَةَ الْأَكْبَرَ مِنَ النَّاتِجِ الْمُحَلِّي الْقَطْرِي؟

التعدين والمحاجر

نسب الأنشطة الاقتصادية من الناتج المحلي القطري 2018 (%)



أضف معلوماتك:

تُعَدُّ إدارة الشؤون الزراعيَّة من الإدارات المهمَّة التابعة لوزارة البلديَّة. تَهْدَفُ إلى زيادة وتطوُّر الإنتاج الزراعي المحلي من حيث الكميَّة والجودة.

1- عَدِّد أشهر الرُّوضات في دَوْلَةِ قَطَرْ.
روضة الفرس / روضة راشد

2- أَيْنَ تَتَرَكَّزُ المَنَاطِقُ الزراعيَّةُ في دَوْلَةِ قَطَرْ؟
الروضات

1 - الزُراعة؛

تَهْتَمُ دَوْلَةُ قَطَرَ بِالزَّرَاعَةِ اِهْتِمَامًا كَبِيرًا، وَتَتَرَكَّزُ الْأَرْضِي الزَّرَاعِيَّةُ فِي الرُّوَصَاتِ؛ بِسَبَبِ وَفَرَةِ الْمِيَاهِ

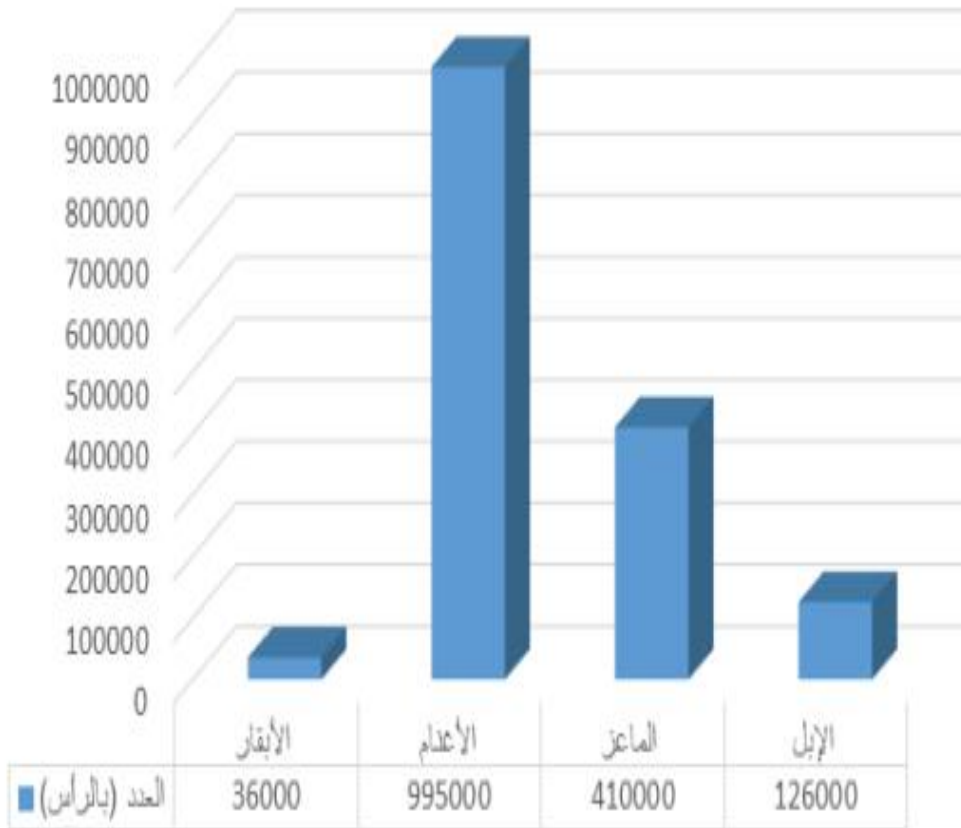
الْجَوْفِيَّةِ، وَتُرْتَبِهَا الْخَصْبَةُ.

24

- نَاقِشْ مَعَ مُعَلِّمِكَ وَزُمَلَانِكَ أَهْمِيَّةَ الزَّرَاعَةِ بِالنِّسْبَةِ لِدَوْلَةِ قَطَرَ.

لتحقيق الاكتفاء الذاتي من السلع الغذائية

أعداد قطعان الثروة الحيوانية في دولة قطر 2018م



المصدر: جهاز التخطيط والإحصاء بدولة قطر، الإحصاءات الزراعية السنوية 2018م

1- عَدِّدْ أَنْوَاعَ الثَّرْوَةِ الْحَيَوَانِيَّةِ فِي دَوْلَةِ قَطَرْ.

الابل / الماعز / الأغنام / الابقار

2- أَيُّ مِنْ أَنْوَاعِ الثَّرْوَةِ الْحَيَوَانِيَّةِ الْأَكْثَرُ عِدْدًا؟

الأغنام



تربية الأبقار بمنطقة الركبة

- ناقش مع معلمك وزملائك: ما أسباب اهتمام دولة قطر بالتربية الحيوانية؟

لسد احتياجات السكان من اللحوم الحمراء والبيضاء

- نَعْرِفُ عَلَى أَنْوَاعِ الْأَسْمَاكِ فِي مِيَاهِ الْخَلِيجِ:



كَنَعْد



هَامُور




شَعْرِي



صَافِي





أضف معلوماتك:

تم إنشاء مركز أبحاث الأحياء
المائية برأس المطبخ؛ بهدف
تطوير قطاع الثروة السمكية
والاستزراع السمكي.

- توقع: ما أهمية الإنتاج السمكي في دولة قطر؟

غني بالبروتين / تعويض النقص
من اللحوم الحمراء

ص 27

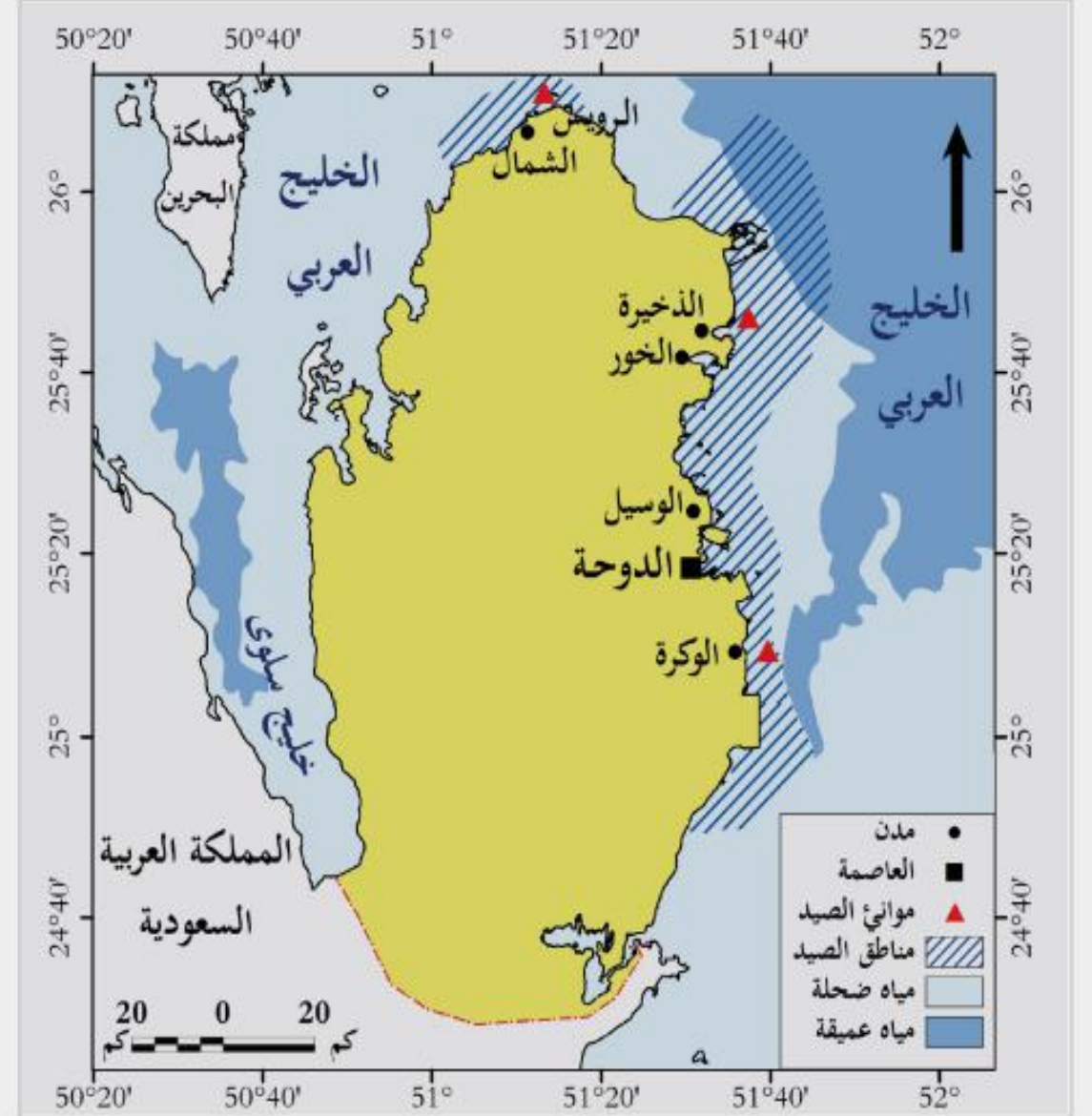
1- أين تتركز مصائد الأسماك في دولة قطر؟

في المناطق الشرقية والشمالية

2- عِدِّدْ أَشْهُرَ مَوَائِي الصِّيدِ فِي دَوْلَةِ قَطَرْ.

ميناء الوكرة / الذخيرة / الرويس

لَا حِطْ الْخَرِيطَةَ الَّتِي أَمَامَكَ، وَأَجِبْ عَلَى الْأَسْئَلَةِ التَّالِيَةِ:



شَكْل (2) مَصَائِدُ الْأَسْمَاكِ فِي دَوْلَةِ قَطَرْ



1- ما هي أهم الصناعات في مدينة مُسَيِّعِد؟

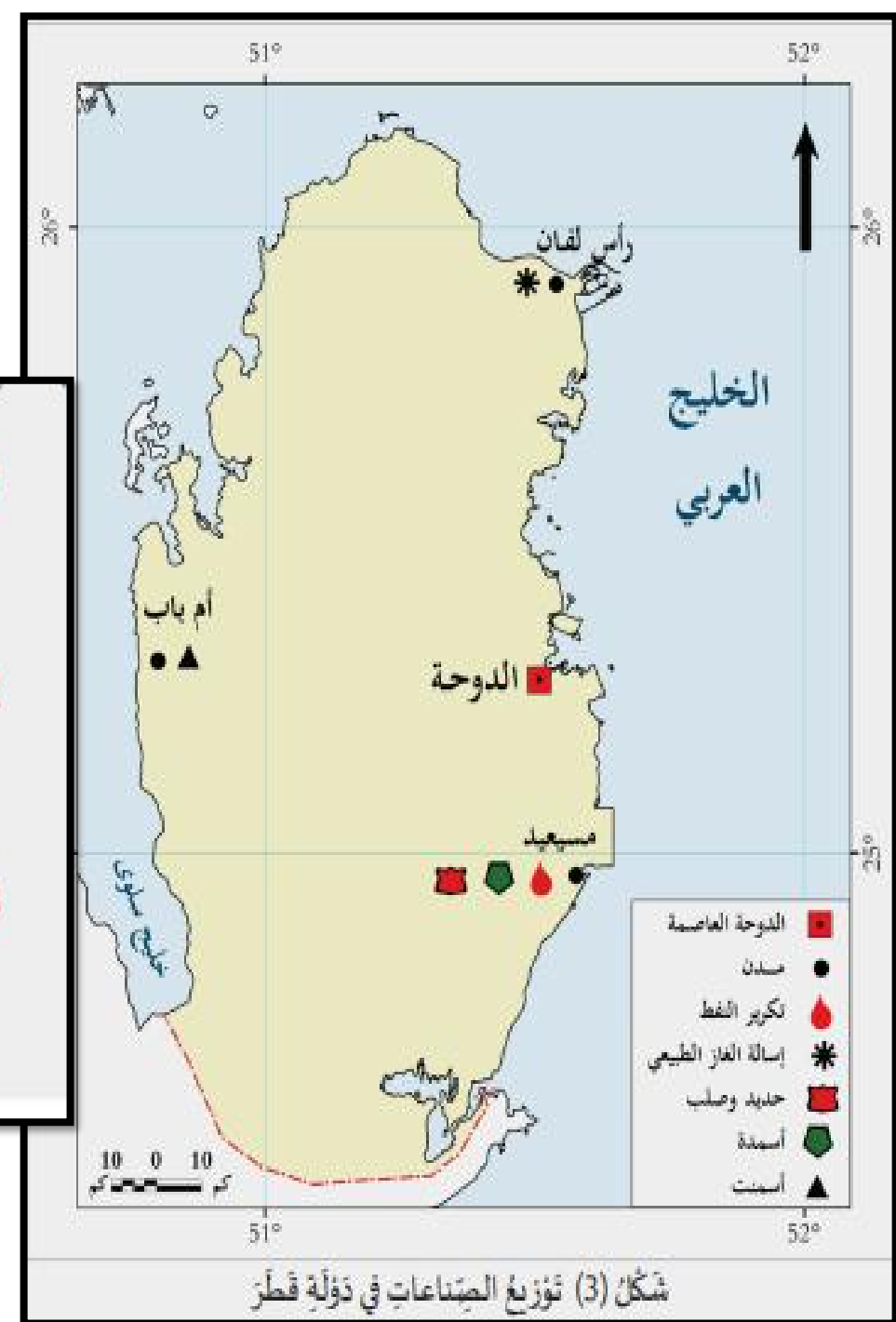
تكرير البترول / أسمدة / حديد و صلب

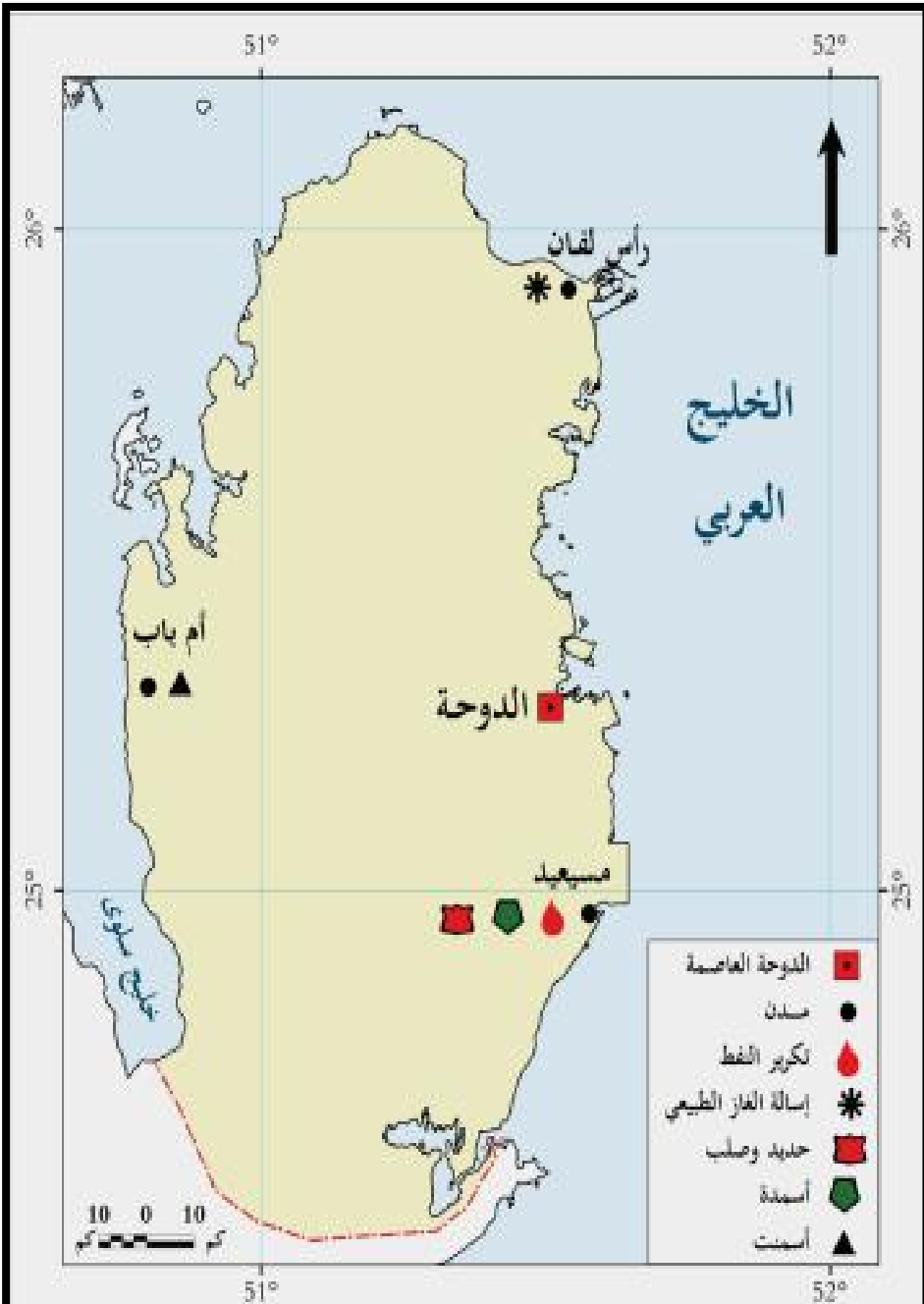
2- بِمَ تفسّر تسمية مدينة مُسَيِّعِد بالمدينة الصناعية الأولى في دولة قَطَرْ؟

بسبب تركّز معظم الصناعات

3- هل هناك مدن صناعية أخرى في دولة قَطَرْ؟ اذكرها. (استعن بالخريطة شكل 3).

نعم / رأس لفان – أم باب





شكل (3) توزيع الصناعات في دولة قطر

المدينة

رأس لفان

الصناعة



إسالة الغاز الطبيعي



صناعة الأسمدة



تكرير النفط



صناعة الحديد والصلب

مسعيد

أم باب



صناعة الإسمنت



المصدر: جهاز التخطيط والإحصاء بقطر




1- اذكر أشهر المنتجات التي تستوردتها دولة قطر.

المواد الغذائية / المواد الكيماوية / الآلات والمعدات / السيارات

2- بم تقبّر: تحتل الآلات والمعدات المرتبة الأولى في واردات دولة قطر؟

بسبب احتياج الدولة للآلات في تشغيل المصانع

لاحظ الجدول التالي، وأجب على الأسئلة التي تليه:

الدول المستوردة	الصُور	الصّادرات
<ul style="list-style-type: none"> - اليابان. - الصين. - كوريا الجنوبية. 		النّفط
		الغاز الطبيعي المسال
الدول المصدّرة	الصُور	الواردات
<ul style="list-style-type: none"> - اليابان. - ألمانيا. - الولايات المتحدة الأمريكية. 		- السيّارات
<ul style="list-style-type: none"> - اليابان. - تركيا. 		- الآلات - والمُعَدّات

1- عيّد أشهر صادرات دولة قطر.

النفط / الغاز الطبيعي المسال

2- تشترك عددٌ من الدول في علاقات تجارية مع دولة قطر في عمليات التصدير والاستيراد.

اليابان / الصين / كوريا الجنوبية / تركيا

6 - السّياحة:

أَصِفْ مَعْلُومَاتِكَ:

المجلس الوطني للسياحة:
يهدف المجلس إلى توفير الظروف
الملائمة لتنفيذ الإستراتيجية
الوطنية للسياحة والبرامج
المتفرعة عنها.

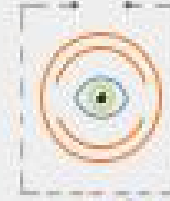
زارني أحد أصدقائي من إحدى الدول الأجنبية في الصيف
الماضي؛ حيث أطلقت دولة قطر مبادرة الصيف في
قطر، والتي اشتملت على عدد من الفعاليات الترفيهية،
يهدف تنشيط السياحة.

- هل تعرف المقصود بالسياحة؟

انتقال الأفراد من مكان لآخر

- عيّد أشهر الأماكن السياحية في دولة قطر.

اقرأ وأجب: سوق واقف / كتارا / اللؤلؤة / مشيرب / سيلين





- لماذا تهتم دولة قطر بالسياحة؟
زيادة الدخل / التعرف على التراث القطري / تنشيط الاقتصاد
القطري

أنواع السياحة

سياحة التسوق

هي: زيارة الأسواق
والمجمعات التجارية،
مثل: سوق واقف،
و **قطر مول**

سياحة ترفيهية

هي: زيارة المنتجعات
والشواطئ، مثل: منتجع
سيلين، وشواطئ
الغارية و فويرط

سياحة ثقافية

هي: زيارة المعالم التراثية
والمتاحف، مثل: قلعة الزبارة،
و متحف
قطر الوطني



النشاط الأول: صنف المحاصيل الزراعيّة الآتية إلى: محاصيل
الزراعة المكشوفة - محاصيل الزراعة المحميّة:

(الكوسا - الفراولة - الخيار - الطماطم - الأعلاف - الخس - البطاطا - الجزر - الفلفل - التمر).

محاصيل الزراعة المكشوفة	محاصيل الزراعة المحميّة
الكوسا	الفراولة
البطاطا	الخيار
التمر	الطماطم
الجزر	الخس
الأعلاف	الفلفل



السؤال الأول: اختر الإجابة الصحيحة من بين البدائل الآتية:

1 - تشتهر مدينة رأس لفان بصناعة:

- أ- الإسمنت.
- ب- السيارات.
- ج- المواد الغذائية.
- د - إسالة الغاز الطبيعي.

2 - تشتهر مدينة مسعيد بصناعة:

- أ- الآلات.
- ب- الإسمنت.
- ج- تكرير النفط.
- د - إسالة الغاز الطبيعي.

3 - تنتشر المزارع الحيوانية في دولة قطر بمنطقة:

- أ- الركية.
- ب- الوكرة.
- ج- مسعيد.
- د - رأس لفان.

4 - يُعرف نوع السياحة الذي يأتي فيها الزائر لزيارة المعالم التراثية والمتاحف، باسم:

- أ - سياحة التسوق.
- ب- السياحة الثقافية.
- ج- السياحة العلاجية.
- د - السياحة الترفيهية.

السؤال الثاني: عِدِّدْ أَهْمِيَّةَ الْإِنشِطَةِ الْاِقْتِصَادِيَّةِ.

- مَصْدَرُ رَأْسِ الدَّخْلِ.

- تَوْفِيرُ الْإِحْتِيَاجَاتِ الْغِذَائِيَّةِ.

- تَوْفِيرُ فُرْصِ عَمَلٍ لِلسُّكَّانِ.

- تَنْوِيعُ الْاِقْتِصَادِ الْقَطْرِيِّ.



السؤال الثالث: صَنِّفِ الصَّادِرَاتِ وَالْوَارِدَاتِ الْآتِيَةَ فِي الْجَدُولِ التَّالِي:

(السَّيَّارَاتُ - النَّفْطُ - الْغَازُ الطَّبِيعِيُّ الْمُسَالُ - الْأَلَاتُ وَالْمُعَدَّاتُ).

الواردات	الصادرات
السيارات	النفط
الالات والمعدات	الغاز الطبيعي المسال

السؤال الرابع: قارن بين الزراعة المكشوفة والزراعة المحمية في دولة قطر.

الزراعة المحمية

الزراعة المكشوفة

العنصر

الخيار

البطاطا

الطماطم

البصل

الفلفل

الكوسا

أبرز محاصيلها:

