

مراجعة على درس العمل ومهن الأجداد

السؤال الأول :

هيا يا صغاري الأعزاء ضع علامة صح (✓) أمام العبارة الصحيحة وخطأ (✗) أمام العبارة الخاطئة:

- الماء من الإحتياجات المهمة في حياتنا () .
- الطعام من الاحتياجات الغير ضرورية في حياتنا () .
- نستطيع أن نعيش بدون هواء () .
- من الممكن أن نعيش بدون ألعاب () .
- بالعلم والعمل نحقق المراد () .
- يسمى مكان بيع السمك بسوق السمك () .
- بالعلم والعمل نطور البلاد () .

هيا يا صغاري ضع علامة خطأ أسفل الكلمة الصحيحة





(صيد - غوص) السمك



(صيد - الغوص) على اللؤلؤ

هيا يا صغاري أين صورة الشيخ زايد في الصور التالية:



هيا يا أذكيا اكتب قيمة النقود أمام الصور الآتية :



هيا يا صغاري رتب الصور بكتابة الأرقام من (1-2-3-4) لتعرف خطوات الزراعة :



رتب الصور بكتابة الأرقام (1-2-3-4) في الدائرة متتبعا خطوات الحصول على احتياجاتي



الإجابة

السؤال الأول :

هيا يا صغاري الأعزاء ضع علامة صح (✓) أمام العبارة الصحيحة وخطأ (✗) أمام العبارة الخاطئة:

- الماء من الإحتياجات المهمة في حياتنا (✓).
- الطعام من الاحتياجات الغير ضرورية في حياتنا (✗).
- نستطيع أن نعيش بدون هواء (✗).
- من الممكن أن نعيش بدون ألعاب (✓).
- بالعلم والعمل نحقق المراد (✓).
- يسمى مكان بيع السمك بسوق السمك (✓).
- بالعلم والعمل نطور البلاد (✓).

هيا يا صغاري ضع علامة خطأ أسفل الكلمة الصحيحة




(صيد – غوص) السمك



(صيد – الغوص) على اللؤلؤ

هيا يا صغاري أين صورة الشيخ زايد في الصور التالية:



هيا يا أذكيا اكتب قيمة النقود أمام الصور الآتية :

1



5




10



20



هيا يا صغاري رتب الصور بكتابة الأرقام من (1-2-3-4) لتعرف خطوات الزراعة :



4



2



3



1

رتب الصور بكتابة الأرقام (1-2-3-4) في الدائرة متتبعاً خطوات الحصول على احتياجاتي



2



4



1



3