



التاريخ:- / / 2025 م  
الصف :- الثامن / .....

المادة:- الدراسات الاجتماعية  
اسم الطالب :- .....

### ورقة عمل : المقومات السياحية ج 3

المستوى (A) : س/ اختر الإجابة الصحيحة بوضع علامة \* في المربع المقابل لها :-

الدولة التي احتلت المرتبة الأولى من حيث اعداد السياح في العالم لعام 2018 م:

فرنسا  . الصين  . اسبانيا  .

المستوى (B) : س/ استخرج أنهاء المناطق السياحية من خلال الصور :



أحد مناظر الشواطئ الطبيعية من تايلاند



ديزني لاند في ميامي في الولايات المتحدة الأمريكية



برج إيفل - فرنسا

.....

.....

.....

المستوى (C) س: بم تفسر، احتلال فرنسا المرتبة الأولى من حيث عدد السياح؟

-----1

-----2

رؤية الوزارة: متعلم رياضي لتنمية مستدامة

رسالة الوزارة: نُرسى بيئة تعليمية شاملة ومبتكرة لتعزيز القيم والأخلاق وتؤهل المتعلم بمهارات عالية؛ لإعداد جيلٍ واعٍ قادرٍ على بناء مجتمع متقدم و اقتصاد مزدهر

# تدريبات تعزيزية



قسم الاجتماعيات  
Social Studies Department

## مادة الاجتماعيات

تدريبات اثرائية

منتصف الفصل الثاني

للعام الدراسي 2023-2024

## الصف الثامن

اسم الطالب : .....

الصف : 8 / .....

التدريبات لا تغني عن الكتاب المدرسي

## أوراق عمل إثرائية وعلاجية الوحدة الأولى

س1 : اختر الإجابة الصحيحة بوضع علامة ( X ) داخل المربع :

- 1- الاستخدام الأمثل للموارد السياحية بما يضمن الحفاظ عليها في المستقبل للأجيال المقبلة " العبارة السابقة تشير إلى مفهوم ":

السياحة الترفيهية		السياحة المستدامة		سياحة التسوق		السياحة الرياضية	
-------------------	--	-------------------	--	--------------	--	------------------	--

- 2- تحتل قارة أوروبا من حيث استقبال السياح المركز:

الأول		الثاني		الثالث		الرابع	
-------	--	--------	--	--------	--	--------	--

- 3- أي من مناطق العالم تحتل المركز الثاني من حيث جذب السياح:

آسيا		الشرق الأوسط		أوروبا		إفريقيا	
------	--	--------------	--	--------	--	---------	--

- 4- من أكثر الدولة امتلاكاً للمناطق التاريخية:

تركيا		فرنسا		تايلاند		المكسيك	
-------	--	-------	--	---------	--	---------	--

س2: أجب عن الأسئلة التالية فيما يطلب منك :-

- 1- ما المقصود بالسياحة؟

.....

.....

- 2- للسياحة المستدامة دور كبير من خلال أهدافها في تنمية السياحة ... وضع ذلك:

.....

.....

3- عدد المقومات البشرية للسياحة:

.....  
.....

4- دال على أهمية المناخ كعامل جذب للسياحة .

.....  
.....  
.....

س 3 أكمل ما يأتي

1- من أهمية السياحة في دولة قطر ..... و.....

و وسيلة للتبادل الثقافي و.....

2- من مقومات السياحة الطبيعية .....

و المناخ المعتدل يساعد على جذب السياحة و .....

3- تعد مقصدا للسياح لممارسة الأنشطة المسلية مدينة .....

4- تحتل المركز الأول من حيث العائدات السياحية على المستوى العالمي.....

5- من جهود قطر للتنمية والنهوض بالسياحة ..... و.....

..... و بناء المتاحف المختلفة والفنادق الكبرى والمخيمات الصحراوية

..... و.....

س 4 أعط أمثلة على المناطق السياحية كما هو مبين بالجدول التالي:

المناطق الترفيهية	المناطق الطبيعية	المناطق التاريخية

### أوراق عمل إثرائية وعلاجية الوحدة الثانية

س 1 : اختر الاجابة الصحيحة بوضع علامة ( X ) داخل المربع :

1- اكتشف البرتغاليون طريق رأس الرجاء الصالح بقيادة فاسكو دي جاما عام:

1697 م		1597 م		1497 م		1397 م	
--------	--	--------	--	--------	--	--------	--

2- قاد المقاومة العربية ضد النفوذ البرتغالي ونجح في إنهاءه عام 1650 م:

عبدالله السالم		احمد بن سعيد		مهنا بن ناصر القاسمي		ناصر بن مرشد اليعربي	
----------------	--	--------------	--	----------------------	--	-------------------------	--

3- طرد الشيخ مهنا بن ناصر القاسمي من منطقة الخليج العربي:

البرتغاليين		الهولنديين		البريطانيين		الفرنسيين	
-------------	--	------------	--	-------------	--	-----------	--

4- تم توقيع المعاهدة العامة بين بريطانيا وشيوخ الخليج عام:

1870 م		1865 م		1860 م		1820 م	
--------	--	--------	--	--------	--	--------	--

1- عدد اهم التطورات السياسية في الفترة من بين 1968-1971م في قطر.

.....

.....

.....

2- اذكر أهم العوامل التي أدت إلى ضعف وانهيار النفوذ البرتغالي في منطقة الخليج العربي:

.....

.....

.....

3- بم تفسر: تنافس الدول الأوروبية الاستعمارية على منطقة الخليج العربي؟

.....

.....

4- بم تفسر: ضعف وتراجع النفوذ الهولندي في منطقة الخليج العربي؟

.....

.....

.....

5- عدد إجراءات بريطانيا للسيطرة على منطقة الخليج العربي.

.....

.....

.....

.....

6- اكتب التاريخ الميلادي لكل حدث من الأحداث التاريخية التالية:

التاريخ الميلادي	الأحداث التاريخية
	1 المعاهدة العامة
	2 اتفاقية الصداقة
	3 معاهدة الحماية مع الكويت
	4 معاهدة الحماية مع قطر

س 3 أكمل

1- أسبق الدول الاستعمارية وصولاً إلى منطقة الخليج العربي .....

2- حصلت قطر على الاستقلال في عهد الشيخ .....

3- تصدت للاستعمار البرتغالي قبائل .....

4- حصلت الكويت علي الاستقلال في عهد الشيخ .....

5- من مظاهر السياسة البرتغالية في ساحل عمان القائمة على البطش والقوة.

فرضت الضرائب و .....

و.....

و.....

6- من الاسباب التي جعلت بريطانيا تعلن انسحابها من الخليج .....

..... و الافكار المعادية للاستعمار و.....

7- تم تغير اسم الدولة من سلطنة عمان ومسقط الى سلطن عمان في عهد .....

س4 حدد أوجه الشبة والاختلاف بين عوامل ضعف النفوذ البرتغالي والهولندي في منطقة الخليج العربي.

أوجه الشبه والاختلاف	البرتغال	هولندا
أوجه الشبة		
أوجه الاختلاف		

## أوراق عمل إثرائية وعلاجية للوحدة الثالثة

س1: اختر الاجابة الصحيحة بوضع علامة ( X ) داخل المربع :

1- في أي عام كان الإعلان العالمي لحقوق الانسان:

1954		1952		1950		1948	
------	--	------	--	------	--	------	--

2- من المؤسسات الحكومية لحقوق الإنسان والتابعة لوزارة الداخلية في قطر :

مركز قطر للعمل الاجتماعي		اللجنة الوطنية لحقوق الإنسان		إدارة حقوق الإنسان		مكتب حقوق الإنسان	
--------------------------	--	------------------------------	--	--------------------	--	-------------------	--

3- من حقوق العهد الدولي الخاص بالحقوق المدنية والسياسية:

الحق في المساواة		حماية الاسرة		الحق في الحياة الثقافية		الحق في العمل	
------------------	--	--------------	--	-------------------------	--	---------------	--

4- من المؤسسات الحكومية لحقوق الانسان و التابعة لوزارة الخارجية في قطر :

مركز قطر للعمل الاجتماعي		اللجنة الوطنية لحقوق الإنسان		إدارة حقوق الإنسان		مكتب حقوق الإنسان	
--------------------------	--	------------------------------	--	--------------------	--	-------------------	--

5- "حقوق متأصلة في جميع البشر" يشير هذا المفهوم الي:

حقوق المرأة		حقوق الانسان		الدساتير		اللجنة الوطنية	
-------------	--	--------------	--	----------	--	----------------	--

س2: أجب عن الأسئلة التالية فيما يطلب منك:-

1- عدد أهم حقوق العهد الدولي الخاص بالحقوق المدنية والسياسية :

.....

.....

.....

2- تقوم حقوق الإنسان على عدة مبادئ أساسية ... وضح ذلك:

.....  
.....  
.....

3- أنشأت قطر العديد من المؤسسات المعنية بحقوق الانسان . وضح ذلك ..

.....  
.....  
.....

س 3 أكمل ما يأتي:

1- من خصائص حقوق الإنسان في الإسلام ثابته وشامله و.....

و .....

2- من المصادر الأساسية لحقوق الانسان ..... و المواثيق والاتفاقيات الدولية

و.....

3- وثيقة خاصة بحقوق الإنسان لا تضع أي التزامات قانونية على الدول .....

4- من الحقوق الاقتصادية والاجتماعية والثقافية في العهد الدولي .....

و..... و الحق في التعليم والتعلم

5- من الاتفاقيات الدولية المتعلقة بحقوق الانسان ..... و العهد الدولي

الخاص بالحقوق المدنية والسياسية م 1966 و.....

مدرسة الأندلس الخاصة للبنات

العام الأكاديمي 2024/2023



**إجابة الأوراق الإثرائية لاختبار منتصف الفصل الدراسي الثاني**

**مادة الدراسات الاجتماعية**

**الصف الثامن**



اسم الطالبة/.....

الصف والشعبة /.....

السؤال الأول: الأسئلة الموضوعية:  
اختر الإجابة الصحيحة:

1.2		أكثر جهات العالم استقبالا للسياح :
A	قارة أوروبا	
B	قارة إفريقيا	
C	قارة أمريكا	
D	قارة استراليا	

1.2		من أهداف السياحة المستدامة :
A	سن القوانين	
B	الاهتمام بالزراعة	
C	الاهتمام بالصناعة	
D	إدامة رضا السائح	

1.3		أكثر دول العالم من حيث العائدات السياحية :
A	الهند	
B	روسيا	
C	اليابان	
D	الولايات المتحدة الأمريكية	

1.4		مدينة ديزني في الولايات المتحدة من المناطق السياحية :
A	الثقافية	
B	الترفيهية	
C	الطبيعية	
D	التاريخية	

انهيت معاهدة 1916 بين بريطانيا وقطر في عهد الشيخ :		1.5
محمد بن ثاني	A	
أحمد بن علي آل ثاني	B	
علي بن عبدالله آل ثاني	C	
خليفة بن حمد آل الثاني	D	

أسبق الدول الأوروبية التي وصلت إلى منطقة الخليج العربي:		1.6
فرنسا	A	
هولندا	B	
البرتغال	C	
بريطانيا	D	

وقعت معاهدة الصداقة عام 1798م مع حاكم :		1.7
مسقط	A	
عمان	B	
الكويت	C	
البحرين	D	

قام باكتشاف طريق رأس الرجاء الصالح :		1.8
فرنسا	A	
اسبانيا	B	
البرتغال	C	
بريطانيا	D	

زعيم المقاومة العربية ضد النفوذ الهولندي :		1.9
أحمد الجابر	A	
عز الدين القسام	B	
محمد عبد الكريم	C	
مهنا بن ناصر القاسمي	D	

وثيقة خاصة بحقوق الإنسان لا تضع أي التزامات قانونية :		1.10
العهدان الدوليان	A	
اتفاقية إلغاء العمل الجبري	B	
الإعلان العالمي لحقوق الإنسان	C	
اتفاقية حقوق الأشخاص ذوي الإعاقة	D	

الأسئلة المقالية :-

اجب عن الأسئلة التالية:

السؤال الأول

❖ وضح أهمية السياحة في دعم الاقتصاد الوطني.

1. مصدر للدخل القومي
2. توفر فرص للعمل
3. وسيلة للتبادل الثقافي

السؤال الثاني

❖ عدد المقومات البشرية للسياحة .

1. الأماكن التاريخية
2. البنية التحتية والخدمات
3. الأمن

السؤال الثالث

❖ اذكر أهم المناطق السياحية في إسبانيا والولايات المتحدة الأمريكية.

1. قصر الحمراء بإسبانيا
2. مدينة ديزني لاند بالولايات المتحدة الأمريكية

#### السؤال الرابع

❖ وضح جهود دولة قطر للنهوض بالسياحة .

1. الاستفادة من الفعاليات الرياضية الكبرى
2. المحافظة على المواقع الأثرية
3. بناء المتاحف والفنادق
4. تجهيز الدولة شبكة جيدة من الطرق ووسائل النقل

#### السؤال الخامس

❖ عدد القوى الدولية التي تنافست على منطقة الخليج العربي .

1. البرتغال
2. هولندا
3. فرنسا
4. بريطانيا

#### السؤال السادس

❖ ما أسباب ضعف النفوذ البرتغالي في الخليج العربي ؟

1. المقاومة العربية ضد الوجود البرتغالي
2. تعاون القوى الدولية ضد النفوذ البرتغالي
3. السياسة البرتغالية التي اتسمت بالقسوة والتعصب

### السؤال السابع

❖ عدد خصائص حقوق الإنسان في الإسلام؟

1. مصدر حقوق الإنسان في الإسلام هي الشريعة الإسلامية
2. حقوق الإنسان في الإسلام منح إلهية لجميع خلقه
3. حقوق الإنسان في الإسلام ثابتة وشاملة

### السؤال الثامن

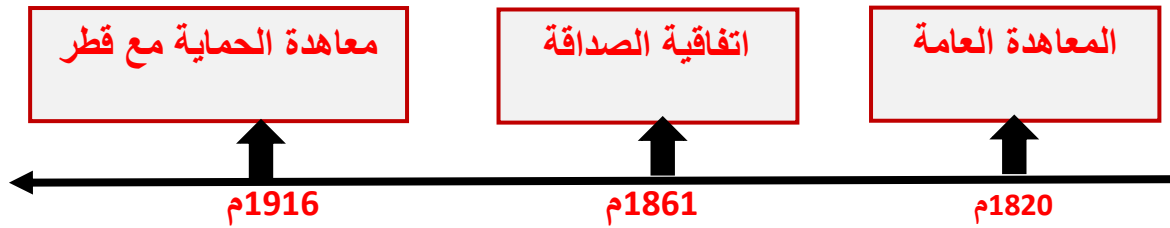
❖ وضح البنود (الحقوق) التي تضمنها الإعلان العالمي لحقوق الإنسان؟

1. الحق في المساواة والكرامة الإنسانية
2. الحق في الملكية
3. الحق في التعليم
4. عدم جواز الاعتقال أو الاحتجاز التعسفي

### السؤال التاسع

❖ رتب على الخط الزمني المعاهدات التي عقدها بريطانيا مع شيوخ الخليج العربي.

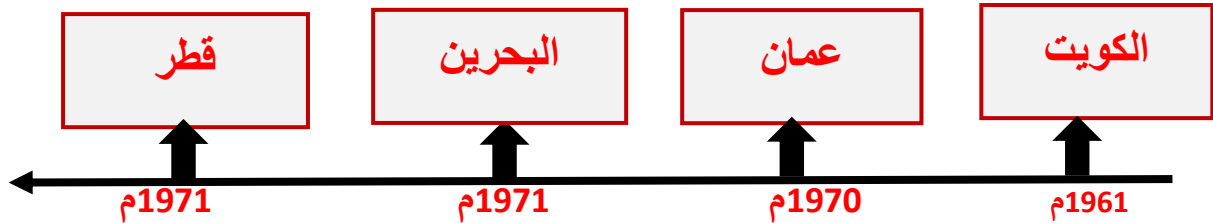
( معاهدة الحماية مع قطر - المعاهدة العامة - اتفاقية الصداقة )




### السؤال العاشر

❖ رتب على الخط الزمني استقلال دول الخليج العربي.

( عمان - قطر - البحرين - الكويت )



مدرسة الأندلس الخاصة للبنات  
العام الأكاديمي 2024/2023



أوراق عمل إثرائية

**إجابة الوحدة الأولى (الأنشطة الاقتصادية)**

مادة الدراسات الاجتماعية

الصف الثامن

اسم الطالبة/.....

الصف والشعبة /.....

السؤال الأول: الأسئلة الموضوعية:  
اختر الإجابة الصحيحة:

1.1		الدولة الأكثر اجتذاباً للسياح :
A	ألمانيا	
B	فرنسا	
C	الصين	
D	المكسيك	

1.2		أكثر جهات العالم استقبلاً للسياح :
A	قارة أوروبا	
B	قارة إفريقيا	
C	قارة أمريكا	
D	قارة استراليا	

1.3		من أهداف السياحة المستدامة :
A	سن القوانين	
B	الاهتمام بالزراعة	
C	الاهتمام بالصناعة	
D	إدامة رضا السائح	

1.4		أكثر دول العالم من حيث العائدات السياحية :
A	الهند	
B	روسيا	
C	اليابان	
D	الولايات المتحدة الأمريكية	

تعدد إجراءات تحقيق السياحة المستدامة ومنها :		1.5
حسن معاملة السياح	A	
إنشاء وزارة لحماية البيئة	B	
سن القوانين لحماية البيئة	C	
الاهتمام بالزراعة والصناعة	D	

من المقومات الطبيعية للسياحة :		1.6
الأمن	A	
النقل	B	
الموقع	C	
الخدمات	D	

مدينة ديزني في الولايات المتحدة من المناطق السياحية :		1.7
الثقافية	A	
الترفيهية	B	
الطبيعية	C	
التاريخية	D	

أي من الدول التالية تتجاوز عائدتها السياحية 60 مليار دولار أمريكي :		1.8
فرنسا	A	
ألمانيا	B	
إيطاليا	C	
اليابان	D	

الاستخدام الأمثل للموارد السياحية للحفاظ عليها في المستقبل للأجيال القادمة يشير التعريف السابق إلى مفهوم :		1.9
التجارة	A	
الزراعة	B	
الصناعة	C	
السياحة المستدامة	D	

من أهم المناطق السياحية قصر الحمراء في دولة :		1.10
الهند	A	
الصين	B	
اسبانيا	C	
المملكة المتحدة	D	

الأسئلة المقالية :-

اجب عن الأسئلة التالية:

## السؤال الثاني

❖ ما المقصود بالسياحة ؟

انتقال الفرد من مكان إقامته إلى مكان آخر بهدف الترفيه أو الاكتشاف وتكون إقامته مؤقتة.

## السؤال الثالث

❖ وضح أهمية السياحة في دعم الاقتصاد الوطني.

1. مصدر للدخل القومي
2. توفر فرص للعمل
3. وسيلة للتبادل الثقافي

## السؤال الرابع

❖ عدد المقومات البشرية للسياحة .

1. الأماكن التاريخية
2. البنية التحتية والخدمات
3. الأمن

## السؤال الخامس

❖ اذكر أهم المناطق السياحية في إسبانيا والولايات المتحدة الأمريكية.

1. قصر الحمراء بإسبانيا
2. مدينة ديزني لاند بالولايات المتحدة الأمريكية

## السؤال السادس

❖ بم تفسر أسهمت المواصلات في نمو حركة السياحة ؟

1. قصرت المسافات
2. خفضت التكاليف المادية

## السؤال السابع

❖ وضح جهود دولة قطر للنهوض بالسياحة .

1. الاستفادة من الفعاليات الرياضية الكبرى
2. المحافظة على المواقع الأثرية
3. بناء المتاحف والفنادق
4. تجهيز الدولة شبكة جيدة من الطرق ووسائل النقل

## السؤال الثامن

❖ عدد أهداف السياحة المستدامة .


1. صيانة الموارد الطبيعية
2. استمرار جودة البيئة
3. إدامة رضا السائح



العام الدراسي  
2024-2023

الصف الثامن

8



# مادة الدراسات الاجتماعية

الإجابات النموذجية للتدريبات العلاجية  
- والواجبات

منهاج منتصف الفصل الدراسي الثاني

اسم الطالب: .....

الصف: الثامن .....

ملحوظة هامة: هذه الأسئلة إثرائية ولا تغني عن الكتاب المدرسي وهو  
المصدر الرئيس للتعلم



الأسبوع الأول من 1 / 7 الي 1 / 11 / 2024  
الوحدة الاولى جغرافيا ( الدرس الأول السياحة)  
من ص ( 12 الي 15 )

تدريبات علاجية - واجبات

اسم الطالب / ..... ( 8 / )

### أولاً : الاختيار من متعدد :

1 - أكثر دول العالم من حيث العائدات السياحية:

- أ - فرنسا  
ب - اسبانيا  
ج - تايلاند  
د - الولايات المتحدة الأمريكية
- 2 - أي من الدول التالية تتجاوز عائداتها السياحية 60 مليار دولار أمريكي ؟

- أ - فرنسا  
ب - ايطاليا  
ج - المانيا  
د - اليابان

### ثانياً : الأسئلة المقالية :

أجب عما يلي :

1- قارن بين مفهوم السياحة والسياحة المستدامة :

السياحة المستدامة	السياحة
هو الاستخدام الأمثل للموارد السياحية بما يضمن الحفاظ عليها	هي انتقال الفرد من مكان أقامته الي مكان اخر بهدف الترفيه

2- ما أهمية السياحة ؟

- 1- مصدر للدخل القومي
- 2- توفير فرص للعمل
- 3\_ تعتبر وسيلة للتبادل الثقافي



### 3 - وضح أهداف السياحة المستدامة .

1- صيانة الموارد الطبيعية والثقافية

2 - التخطيط العلمي لتنمية السياحة

3- استمرار جودة البيئة

4 - ادامة رضاء السائح

4 - وضح الإجراءات والوسائل لتحقيق السياحة المستدامة؟

1- سن القوانين والتشريعات

2- تنظيم حركة السياح

3\_ تحديد القدرة الاستيعابية للمواقع السياحية

4 - نشر الوعي الثقافي السياحي

الأسبوع الثاني من 14 / 1 الي 18 / 1 / 2024

الوحدة الاولى جغرافيا ( الدرس الثاني مقومات السياحة)

من ص ( 21 الي 28 )

تدريبات علاجية - واجبات

اسم الطالب /..... ( 8 / )

**أولاً : الاختيار من متعدد :**

1 - أي قارات العالم أكثر استقبلاً للسياحة؟

ب - آسيا

أ - أوروبا

د - أفريقيا

ج - أمريكا الشمالية

2 -- أي دول العالم الآتية أكثر اجتذاباً للسياحة؟

ب - إيطاليا

أ - فرنسا

د - ألمانيا

ج - تركيا

3 - تقع مدينة ديزني لاند في:-

ب - المجر

أ - ألمانيا

د - الولايات المتحدة الأمريكية

ج - المكسيك



## ثانيا : الأسئلة المقالية :

: أجب عما يلي :

1 - اذكر المقومات الطبيعية للسياحة.

1- الموقع

2- المناخ

3- أشكال السطح

2 - عدد المقومات البشرية للسياحة.

1- الأماكن الدينية والتاريخية 2 - الامن والاستقرار

3 - البنية التحتية

الأسبوع الثالث من 1 / 21 الي 25 / 1 / 2024  
الوحدة الاولى جغرافيا ( الدرس الثاني مقومات السياحة)  
من ص ( 21 الي 28 )

تدريبات علاجية - واجبات

اسم الطالب /..... ( 8 / )

## أولاً : الاختيار من متعدد :

1- يعتبر قصر الحمراء من المعالم السياحية لـ:

أ - اسبانيا

ج - ايطاليا

ب - فرنسا

د - الولايات المتحدة الامريكية

2- يوجد برج ايفل في:

أ - اسبانيا

ج - ايطاليا

ب - فرنسا

د - الولايات المتحدة الامريكية

3- يوجد برج بيزا المائل في:

أ - اسبانيا

ج - ايطاليا

ب - فرنسا

د - الولايات المتحدة الامريكية

4- أي الدول الآتية يوجد بها مدينة ديزني لاند؟

أ - اسبانيا

ج - ايطاليا

ب - فرنسا

د - الولايات المتحدة الامريكية



5- الدولة التي تتميز بوجود المحميات الطبيعية والكهوف بها هي ؟

- أ - اليونان  
ب - ايطاليا  
ج - النرويج  
د - المكسيك

### ثانيا : الأسئلة المقالية :

أجب عما يلي :

1- أعط أمثلة عن اهم المناطق الترفيهية؟

مدينة ديزني لاند

2- اذكر جهود دولة قطر للنهوض بالسياحة.

1- الاستفادة من الفعاليات الرياضية

2- تطوير المواقع الاثرية والمحافظة عليها

3- بناء المتاحف والفنادق الكبرى

3- وضح دور الفرد في الحفاظ على المواقع السياحية؟

1- التقيد بالقوانين

2- المحافظة على نظافة المواقع السياحية

3- المحافظة على الاثار

4- قارن بين كل من فرنسا واسبانيا من حيث المناطق التاريخية؟

وجه المقارنة	فرنسا	اسبانيا
المناطق التاريخية	برج ايفيل	قصر الحمراء



الأسبوع الرابع من 1 / 28 الي 1 / 2 / 2024

الوحدة الثانية تاريخ (الدرس الأول التنافس الأوروبي في منطقة الخليج  
العربي) من ص (35 الي 42)

تدريبات علاجية - واجبات

اسم الطالب / ..... ( 8 / )

### أولاً : الاختيار من متعدد :

1- أسبق الدول الأوروبية وصولاً إلى منطقة الخليج العربي:

- أ - البرتغال  
ب - الفرنسيين  
ج - الهولنديون  
د - البريطانيين

2- نجح فاسكو دي جاما في الوصول لطريق رأس الرجاء الصالح عام :

- أ - 1496 م  
ب - 1497 م  
ج - 1498 م  
د - 1499 م

3- تم الاستيلاء على مسقط عام :

- أ - 1507 م  
ب - 1508 م  
ج - 1509 م  
د - 1510 م

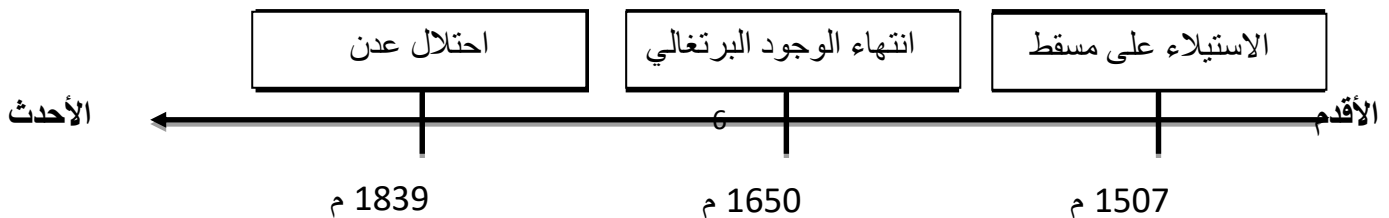
4- بدأت المقاومة العربية في عمان ضد الوجود البرتغالي على يد ؟

- أ - القواسم  
ب - اليعاربة  
ج - البوسعيد  
د - الوهابيين

### ثانياً : الأسئلة المقالية :

1 -- رتب الأحداث التاريخية الآتية في التنافس الأوروبي في منطقة الخليج العربي ترتيباً زمنياً صحيحاً من الأقدم إلى الأحدث على الخط الزمني التالي:

( احتلال عدن - الاستيلاء على مسقط - انتهاء الوجود البرتغالي )





## 2 - اذكر القوى التي تنافست في السيطرة على منطقة الخليج العربي؟

1- البرتغاليون

2- الهولنديون

3- التنافس الفرنسي البريطاني

4- البريطانيون

## 3 - بم تفسر كانت منطقة الخليج العربي محط تنافس القوى الدولية العظمى؟

1- الموقع الجغرافي المتميز

2- تعدد الموانئ الطبيعية

4 - اذكر عملاً واحداً لكل من :

1- فاسكو دي جاما : اكتشاف طريق راس الرجاء الصالح

2- ناصر بن مرشد اليعربي : توحيد القبائل ونجاح اليعاربة في طرد البرتغاليون

## 5 - اذكر السياسات التي اتبعتها البرتغاليون في ساحل عمان.

1- فرض الضرائب

2 - سياسة البطش والقوة

3- حرمان السكان من ممارسة نشاطهم

4 - قصف مدينة مسقط

## 8 - ما العوامل التي أدت إلى ضعف النفوذ البرتغالي في منطقة الخليج العربي؟

1- المقاومة العربية

2- تحالف القوى الدولية ضد البرتغاليون

3- سياسة البرتغاليون التي اتسمت بالقوة



الأسبوع الرابع من 1 / 28 الي 1 / 2 / 2024

الوحدة الثانية تاريخ (الدرس الأول التنافس الأوروبي في منطقة  
الخليج العربي ) من ص ( 35 الي 42 )

تدريبات علاجية - و اجابات

اسم الطالب /..... ( 8 / )

### أولاً : الاختيار من متعدد :

1- تأسست شركة الهند الشرقية الهولندية عام :

ب - 1603 م

أ - 1602 م

د - 1605 م

ج - 1604 م

2- أسهمت المقاومة العربية بقيادة الشيخ مهنا بن ناصر في الخليج العربي في طرد:

ب - الفرنسيين

أ - البرتغاليين

د - البريطانيين

ج - الهولنديين

3- تأسست شركة الهند الشرقية الفرنسية عام :

ب - 1665 م

أ - 1664 م

د - 1667 م

ج - 1666 م

4 - تأسست شركة الهند الشرقية البريطانية عام :

ب - 1601 م

أ - 1600 م

د - 1603 م

ج - 1602 م

### ثانياً : الأسئلة المقالية :

1- ما أسباب ضعف النفوذ الهولندي في منطقة الخليج العربي؟

(1) انشغال هولندا بالصراع مع فرنسا

(2) فقدت شركة الهند الشرقية الهولندية الدعم المادي

(3) أسهمت المقاومة العربية بطرد الهولنديين بقيادة الشيخ مهنا بن ناصر

2- بم تفسر لم تتمكن فرنسا من بسط سيطرتها على منطقة الخليج العربي؟

1- بسبب الصراع مع بريطانيا

2- عقد معاهدة مع حاكم مسقط 1798 م بعدم منح الفرنسيين امتيازات



3 - وضح الإجراءات التي اتخذتها بريطانيا لسيط نفوذها في منطقة الخليج العربي؟

- 1- احتلال جزيرة بريم عند مدخل البحر الاحمر
- 2- القضاء علي القواسم
- 3- احتلا جزيرة سوقطرة وميناء عدن 1839 م

4 - قارن بين المعاهدة العامة 1820 م واتفاقية الصداقة 1861 م من حيث أطراف كل منهما وبنود كل منهما من خلال الجدول الذي امامك؟

وجه المقارنة	المعاهدة العامة 1820 م	اتفاقية الصداقة 1861 م
الأطراف	بريطانيا وشيوخ الخليج	بريطانيا وحاكم البحرين
البنود	وضع قوة بحرية بريطانية في منطقة رأس الخيمة	إعطاء بريطانيا حق التجارة في البحرين والاقامة

الأسبوع الخامس من 2 / 4 الي 2 / 8 / 2024

الوحدة الثانية تاريخ (الدرس الثاني استقلال دول الخليج العربي ونشأة حكوماتها)  
من ص ( 49 الى 51 )

تدريبات علاجية - واجبات

اسم الطالب / ..... ( 8 / )

أولاً : الاختيار من متعدد :

1- أعلنت بريطانيا انسحابها من منطقة الخليج العربي في موعد أقصاه عام :

ب - 1972 م

أ - 1971 م

د - 1974 م

ج - 1973 م

2- حصلت الكويت على الاستقلال عام 1961 م في عهد الشيخ :

ب - جابر الأحمد آل صباح

أ - عبد الله السالم آل صباح

د - سالم مبارك آل صباح

ج - احمد الجابر آل صباح



3- أعلنت دولة قطر إنهاء معاهدة 1916 م مع بريطانيا عام :

- أ - 1971 م  
ب - 1972 م  
ج - 1973 م  
د - 1974 م

4- صدر أول دستور قطري في شكل نظام أساسي عام :

- أ - 1970 م  
ب - 1971 م  
ج - 1972 م  
د - 1973 م

### ثانيا : الأسئلة المقالية :

1 - وضح ملامح تطور الحياة السياسية في الكويت بعد الاستقلال؟

- 1- الانضمام الي جامعة الدول العربية  
2- اعلان اول دستور للبلاد
- 2 - ما النتائج المترتبة على تولي السلطان قابوس بن سعيد الحكم في سلطنة عُمان؟
  - 1- الانضمام الي جامعة الدول العربية
  - 2- اصدار اول مرسوم بتغيير اسم الدولة من سلطن عمان ومسقط الي سلطنة عمان
- 3 - بم تفسر اتخاذ بريطانيا قرار الانسحاب من منطقة الخليج العربي؟

- 1- ظهور الولايات المتحدة الامريكية
- 2- تدهور قوة بريطانيا الاقتصادية
- 3 - انتشار الأفكار المعادية للاستعمار

4 - " شهدت دولة قطر في الفترة من عام 1968 م إلي 1971 م تطورات سياسية " ايد بالادلة صحة العبارة السابقة.

- 1- انشاء إدارة للشؤون الخارجية 1969 م
- 2- صدور اول دستور للبلاد وتشكيل مجلس وزراء 1970 م..
- 3- اعلان الشيخ خليف بن حمد ولي العهد ورئيس مجلس الوزراء انهاة معاهدة الصداقة مع بريطانيا 1916 م



الأسبوع السادس والسابع من 11 / 2 الي 22 / 2 / 2024

الوحدة الثالثة المواطنة (الدرس الاول المصادر الأساسية لحقوق الانسان)

من ص ( 60 الي 66 )

تدريبات علاجية - واجبات

اسم الطالب / ..... ( 8 / )

### أولاً : الاختيار من متعدد :

1 – تم إصدار الإعلان العالمي لحقوق الانسان عام :

ب - 1948 م

أ - 1947 م

د - 1950 م

ج - 1949 م

2 -- تم إصدار الميثاق العربي لحقوق الانسان عام :

ب - 2004 م

أ - 2003 م

د - 2006 م

ج - 2005 م

3 – تم اصدار الاتفاقية العربية لمكافحة غسل الأموال وتمويل الارهاب عام :

ب - 2012 م

أ - 2011 م

د - 2014 م

ج - 2013 م

### ثانياً : الأسئلة المقالية :

أجب عما يلي :

1 - اذكر المصادر الأساسية لحقوق الانسان.

1- الدين

2- المواثيق والاتفاقيات الدولية

3- الدساتير والتشريعات

2 – وضح خصائص حقوق الإنسان في الاسلام.

1- مصدر حقوق الانسان في الإسلام الشريعة الإسلامية

2- منح الهية من الله

3\_ ثابتة وشاملة



3 - عدد المبادئ الأساسية لحقوق الانسان؟

- 1- في حالة تطور مستمر  
2 - حقوق عامة  
3- لا تشترى ولا تباع  
4 - لكل بني البشر

4 - اذكر الحقوق التي جاءت في العهد الدولي الخاص بالحقوق المدنية والسياسية؟

- 1- الحق في تقرير المصير  
2 - الحق في الحياة  
3 - الحق في المساواة

5- بين الحقوق التي جاءت في العهد الدولي الخاص بالحقوق الاقتصادية والاجتماعية والثقافية؟

- 1- الحق في العمل  
2 - الحق في التعليم  
3 - الحق في حماية الاسرة

6 - أعط أمثلة على الحقوق التي جاءت في الإعلان العالمي لحقوق الانسان؟

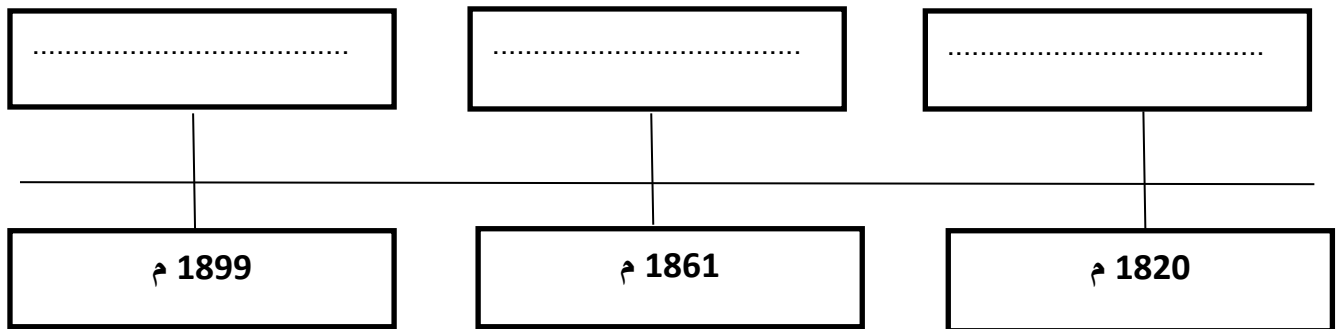
- 1- الحق في المساواة  
2 - الحق في التعليم  
3 - عدم الاعتقال

7 - أعط أمثلة عن المؤسسات التي انشأتها دولة قطر المعنية بحقوق الانسان؟

- 1- وزارة الخارجية " مكتب حقوق الانسان " 2 - وزارة الداخلية " إدارة حقوق الانسان "

8 -- رتب الأحداث التاريخية الآتية في معاهدات حكام وشيوخ الخليج مع بريطانيا ترتيباً زمنياً صحيحاً من الأقدم إلى الأحدث على الخط الزمني التالي:

( معاهدة الحماية مع الكويت — المعاهدة العامة — اتفاقية الصداقة )



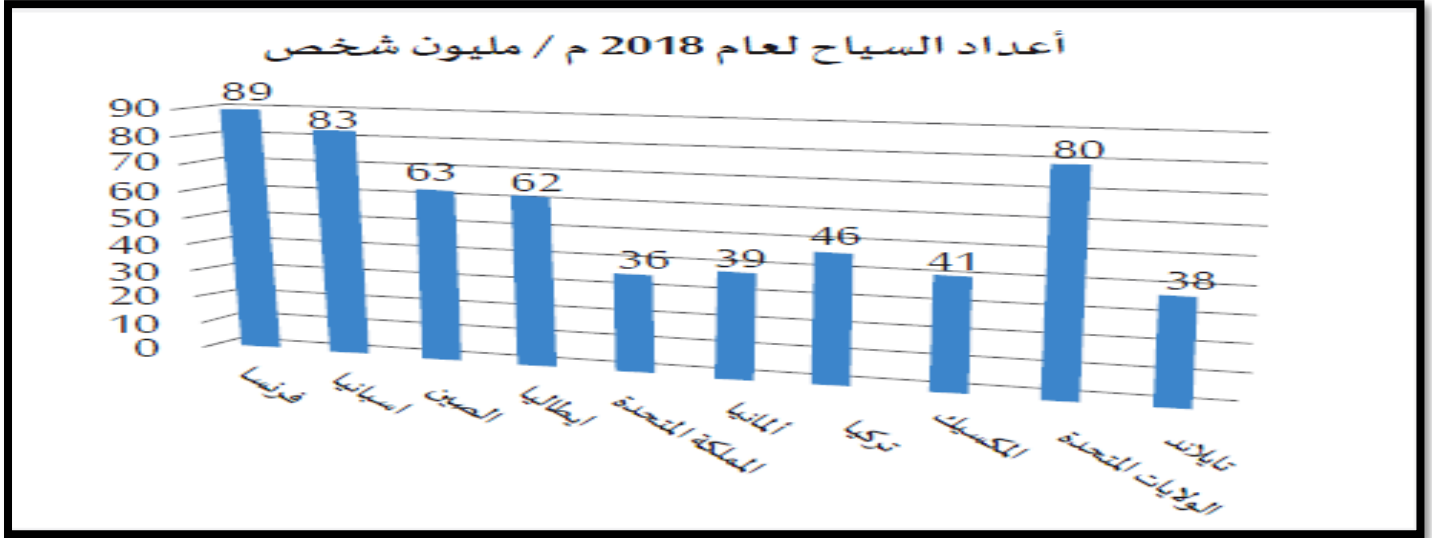
الاحداث

الاقدم

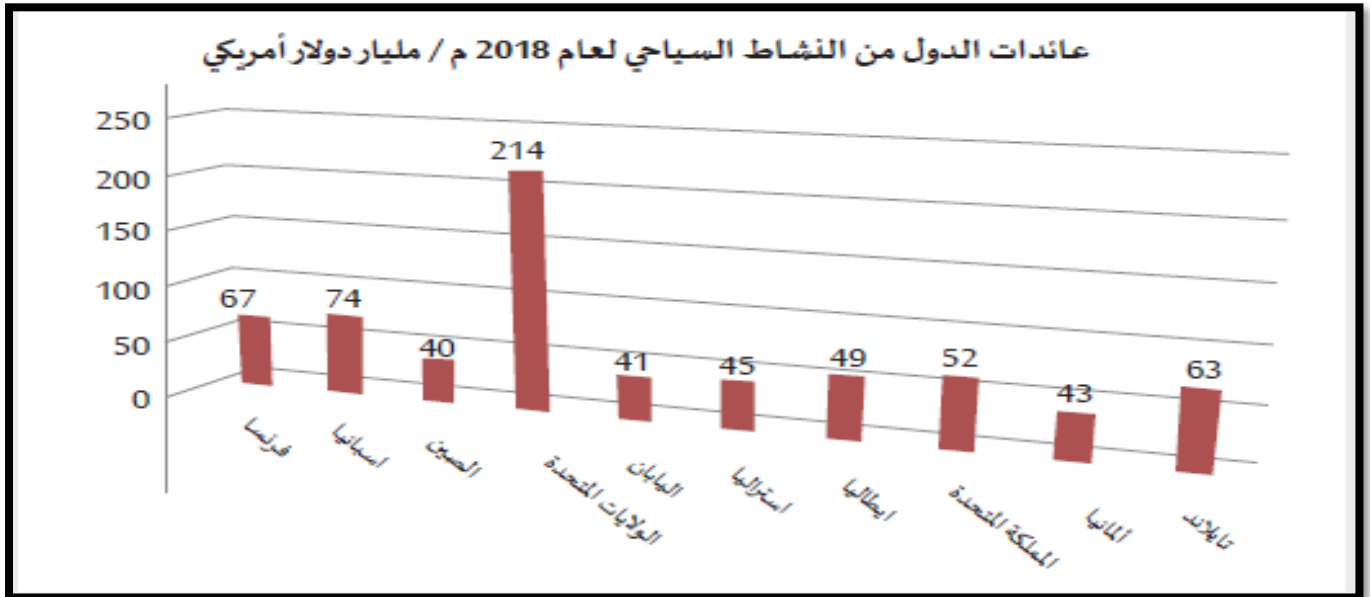


## 9- حلل الاشكال البيانية التالية


1- اذكر اولي دول العالم في الجذب السياحي .....



2 - اذكر اولي دول العالم في اليرادات السياحية .....



مدرسة الأندلس الخاصة للبنات  
العام الأكاديمي 2024/2023



أوراق عمل إثرائية

**إجابة** الوحدة الثانية ( الوجود الأوربي في الخليج العربي )  
والوحدة الثالثة (درس المصادر الأساسية لحقوق الإنسان)

مادة الدراسات الاجتماعية

الصف الثامن

اسم الطالبة/.....

الصف والشعبة /.....

السؤال الأول: الأسئلة الموضوعية:  
اختر الإجابة الصحيحة:

1.1		أسبق الدول الأوروبية التي وصلت إلى منطقة الخليج العربي:
A	فرنسا	
B	هولندا	
C	البرتغال	
D	بريطانيا	

1.2		نجحت قبيلة اليعاربة في طرد الاستعمار:
A	البرتغالي	
B	الهولندي	
C	الفرنسي	
D	البريطاني	

1.3		أعلن الشيخ خليفة بن حمد آل ثاني إنهاء معاهدة 1916م مع بريطانيا عام:
A	1951م	
B	1970م	
C	1971م	
D	1981م	

1.4		طرد الشيخ مهنا بن ناصر القاسمي من منطقة الخليج العربي:
A	الهولنديين	
B	البرتغاليين	
C	الفرنسيين	
D	البريطانيين	

حصلت الكويت على الاستقلال عام 1961 في عهد الشيخ :		1.5
عبدالله السالم الصباح	A	
أحمد الجابر الصباح	B	
جابر الأحمد الصباح	C	
سالم بن مبارك الصباح	D	

تولى السلطان قابوس بن سعيد الحكم عام :		1.6
1969م	A	
1970م	B	
1971م	C	
1973مذ	D	

قام باكتشاف طريق رأس الرجاء الصالح :		1.7
فرنسا	A	
اسبانيا	B	
البرتغال	C	
بريطانيا	D	

من المصادر الأساسية لحقوق الإنسان :		1.8
المسؤولية	A	
القيم والاخلاق	B	
الاتفاقيات الدولية	C	
مبادئ العيش المشترك	D	

من المؤسسات الخاصة لحقوق الإنسان في دولة قطر :		1.9
مكتب حقوق الإنسان	A	
إدارة حقوق الإنسان	B	
مركز قطر للعمل الاجتماعي	C	
اللجنة الوطنية لحقوق الإنسان	D	

يتبع مكتب حقوق الإنسان في دولة قطر وزارة :		1.10
الداخلية	A	
الخارجية	B	
البلدية والبيئة	C	
التعليم والتعليم العالي	D	

وثيقة خاصة بحقوق الإنسان لا تضع أي التزامات قانونية :		1.11
العهدان الدوليان	A	
اتفاقية إلغاء العمل الجبري	B	
الإعلان العالمي لحقوق الإنسان	C	
اتفاقية حقوق الأشخاص ذوي الإعاقة	D	

الأسئلة المقالية :-

اجب عن الأسئلة التالية:

السؤال الأول

❖ عدد القوى الدولية التي تنافست على منطقة الخليج العربي .

1. البرتغال

2. هولندا

3. فرنسا

4. بريطانيا

السؤال الثاني

❖ ما أسباب ضعف النفوذ البرتغالي في الخليج العربي ؟

1. المقاومة العربية ضد الوجود البرتغالي

2. تعاون القوى الدولية ضد النفوذ البرتغالي

3. السياسة البرتغالية التي اتسمت بالقسوة والتعصب

السؤال الثالث

❖ اذكر اسم الحاكم الذي تم في عهده انهاء معاهدة 1916 بين بريطانيا وقطر.

الشيخ خليفة بن حمد آل الثاني

#### السؤال الرابع

- ❖ بم تفسر أهمية الخليج العربي ؟
1. الموقع الجغرافي المتميز
  2. تعدد الموانئ الطبيعية

#### السؤال الخامس

- ❖ وضح ملامح تطور الحياة السياسية في الكويت بعد الاستقلال .
1. الانضمام لجامعة الدول العربية ومنظمة الأمم المتحدة
  2. إعلان أول دستور للبلاد

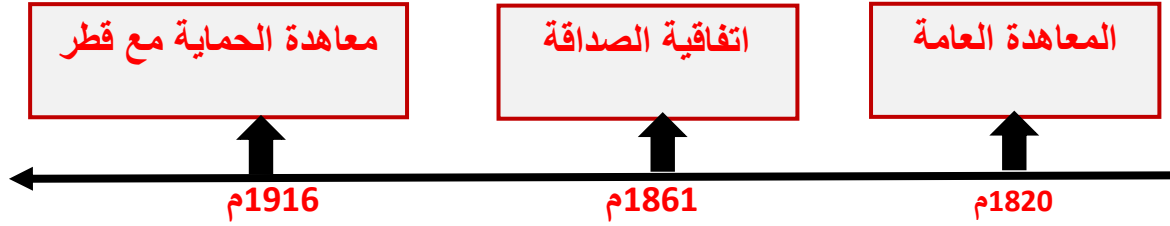
#### السؤال السادس

- ❖ ما أول معاهدة عقدها بريطانيا في منطقة الخليج العربي ؟
- معاهدة الصداقة عام 1798 م مع حاكم مسقط

\_\_\_ /3

السؤال السابع

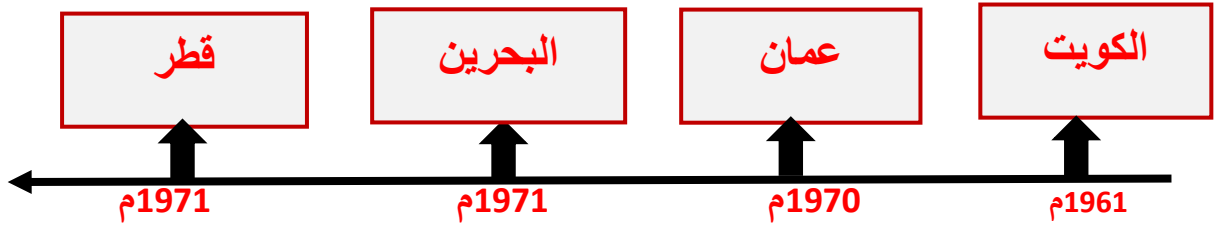
❖ رتب على الخط الزمني المعاهدات التي عقدها بريطانيا مع شيوخ الخليج العربي.  
( معاهدة الحماية مع قطر - المعاهدة العامة - اتفاقية الصداقة )



\_\_\_ /3

السؤال الثامن

❖ رتب على الخط الزمني استقلال دول الخليج العربي.  
( عمان - قطر - البحرين - الكويت )



السؤال التاسع

❖ عرف حقوق الإنسان .

حقوق متأصلة في جميع البشر مهما كانت جنسيتهم أو مكان أقامتهم أو نوع جنسهم

### السؤال العاشر

❖ عدد المصادر الأساسية لحقوق الإنسان .

1. الدين
2. الاتفاقيات الدولية
3. الدساتير

### السؤال الحادي عشر

❖ اذكر بعضاً من الاتفاقيات الدولية المتعلقة بحقوق الإنسان .

1. الإعلان العالمي لحقوق الإنسان
2. العهدان الدوليان

### السؤال الثاني عشر

❖ وضح البنود (الحقوق) التي تضمنها الإعلان العالمي لحقوق الإنسان؟

1. الحق في المساواة والكرامة الإنسانية
2. الحق في الملكية
3. الحق في التعليم
4. عدم جواز الاعتقال أو الاحتجاز التعسفي

مدرسة الأندلس الخاصة للبنات


العام الأكاديمي 2024/2023



الأوراق الإثرائية لاختبار منتصف الفصل الدراسي الثاني

مادة الدراسات الاجتماعية

الصف الثامن



اسم الطالبة/.....

الصف والشعبة /.....

السؤال الأول: الأسئلة الموضوعية:  
اختر الإجابة الصحيحة:

1.2		أكثر جهات العالم استقبالا للسياح :
A	قارة أوروبا	
B	قارة إفريقيا	
C	قارة أمريكا	
D	قارة استراليا	

1.2		من أهداف السياحة المستدامة :
A	سن القوانين	
B	الاهتمام بالزراعة	
C	الاهتمام بالصناعة	
D	إدامة رضا السائح	

1.3		أكثر دول العالم من حيث العائدات السياحية :
A	الهند	
B	روسيا	
C	اليابان	
D	الولايات المتحدة الأمريكية	

1.4		مدينة ديزني في الولايات المتحدة من المناطق السياحية :
A	الثقافية	
B	الترفيهية	
C	الطبيعية	
D	التاريخية	

1.5 انهيت معاهدة 1916 بين بريطانيا وقطر في عهد الشيخ :		1.5
محمد بن ثاني	A	
أحمد بن علي آل ثاني	B	
علي بن عبدالله آل ثاني	C	
خليفة بن حمد آل الثاني	D	

1.6 أسبق الدول الأوروبية التي وصلت إلى منطقة الخليج العربي:		1.6
فرنسا	A	
هولندا	B	
البرتغال	C	
بريطانيا	D	

1.7 وقعت معاهدة الصداقة عام 1798م مع حاكم :		1.7
مسقط	A	
عمان	B	
الكويت	C	
البحرين	D	

1.8 قام باكتشاف طريق رأس الرجاء الصالح :		1.8
فرنسا	A	
اسبانيا	B	
البرتغال	C	
بريطانيا	D	

زعيم المقاومة العربية ضد النفوذ الهولندي :		1.9
أحمد الجابر	A	
عز الدين القسام	B	
محمد عبد الكريم	C	
مهنا بن ناصر القاسمي	D	

وثيقة خاصة بحقوق الإنسان لا تضع أي التزامات قانونية :		1.10
العهدان الدوليان	A	
اتفاقية إلغاء العمل الجبري	B	
الإعلان العالمي لحقوق الإنسان	C	
اتفاقية حقوق الأشخاص ذوي الإعاقة	D	

الأسئلة المقالية :-

اجب عن الأسئلة التالية:

السؤال الأول
❖ <b>وضح أهمية السياحة في دعم الاقتصاد الوطني.</b>
1. ....
2. ....
3. ....

السؤال الثاني
❖ <b>عدد المقومات البشرية للسياحة .</b>
1. ....
2. ....
3. ....

السؤال الثالث
❖ <b>اذكر أهم المناطق السياحية في إسبانيا والولايات المتحدة الأمريكية.</b>
1. ....
2. ....

### السؤال الرابع

❖ وضح جهود دولة قطر للنهوض بالسياحة .

1. ....
2. ....
3. ....

### السؤال الخامس

❖ عدد القوى الدولية التي تنافست على منطقة الخليج العربي .

1. ....
2. ....
3. ....

### السؤال السادس

❖ ما أسباب ضعف النفوذ البرتغالي في الخليج العربي ؟

1. ....
2. ....
3. ....

السؤال السابع

❖ عدد خصائص حقوق الإنسان في الإسلام؟

- ..... 1.
- ..... 2.
- ..... 3.

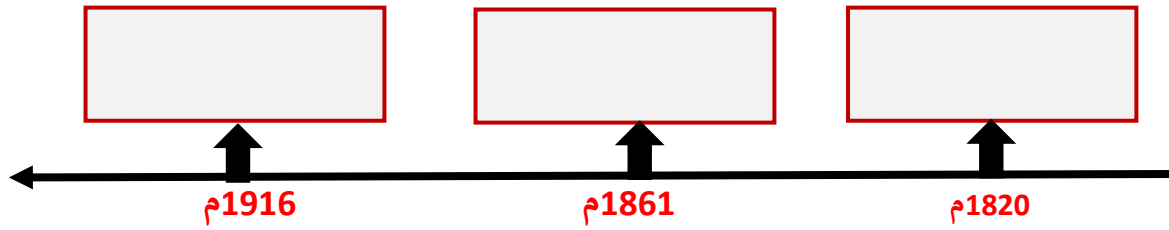
السؤال الثامن

❖ وضح البنود (الحقوق) التي تضمنها الإعلان العالمي لحقوق الإنسان؟

- ..... 1.
- ..... 2.
- ..... 3.

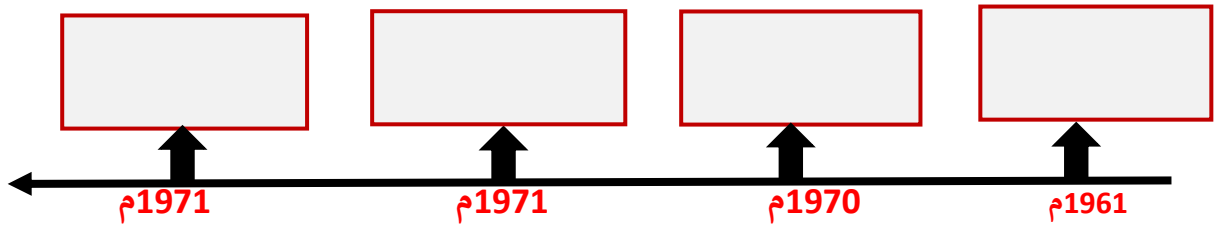
### السؤال التاسع

❖ رتب على الخط الزمني المعاهدات التي عقدها بريطانيا مع شيوخ الخليج العربي.  
( معاهدة الحماية مع قطر - المعاهدة العامة - اتفاقية الصداقة )



### السؤال العاشر

❖ رتب على الخط الزمني استقلال دول الخليج العربي.  
( عمان - قطر - البحرين - الكويت )



حل تدريبات الكتاب كاملة  
الفصل الثاني  
الصف الثامن

عزيزي الطالب:

- هل سافرتَ إلى خارج دولة قطر؟ إلى أين؟

نعم

- ما أسباب سفرك لتلك الدولة؟

الاستمتاع بمعالمها السياحية- العلاج - الترفيه - التعليم .

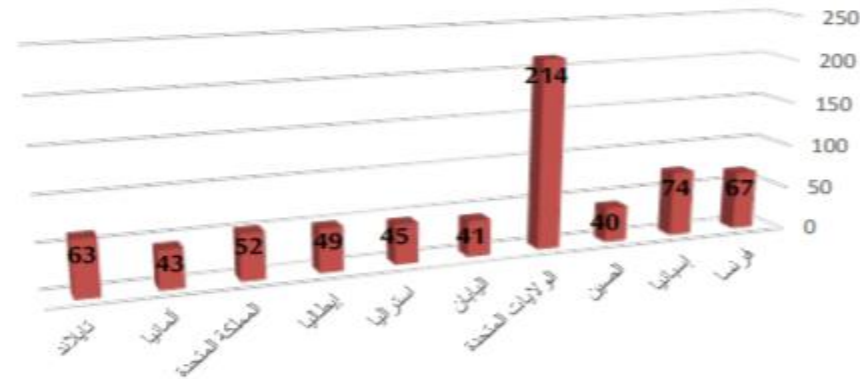
# صفحة 13

تساهم السياحة بشكل رئيس في اقتصاد عدد كبير من الدول، فقد بلغ إجمالي عائدات السياحة في العالم 1.7 تريليون دولار أمريكي وَفَق منظمة السياحة العالمية خلال العام 2018، لاحظ الرسم البياني التالي لمساهمة السياحة في عائدات الدول:



لاحظ وناقش

عائدات الدول من النشاط السياحي لعام ٢٠١٨ م / مليار دولار أمريكي  
2018



المصدر: منظمة السياحة العالمية (UNWTO) وصندوق النقد الدولي (IMF)

- اكتب ملاحظاتك على الرسم البياني، وناقشها مع معلمك.

**الولايات المتحدة الأمريكية 214 مليار دولار.**

**إسبانيا 74 مليار دولار.**

من خلال دراستك لأهمية السياحة أجب عما يلي:

- ما دور السياحة في دعم الاقتصاد الوطني؟

مصدر للدخل القومي

توفير فرص عمل

- ما مقترحاتك لنشر الثقافة القطرية من خلال السياحة؟

إقامة المهرجانات الثقافية



على ضوء العبارة السابقة أجب:

1 - ما أسباب ظهور مصطلح السياحة المستدامة؟

**لانتفاع بها في المستقبل القريب والبعيد**

2 - ما الفرق بين السياحة والسياحة المستدامة؟

السياحة : من أجل الأجيال الحالية  
السياحة المستدامة: من أجل الأجيال القادمة

3 - دَلِّل على وجود سياحة مستدامة في دولة قطر.

**المحافظة على التراث القديم من القلاع والحصون**



## صفحة 15

تعاون مع زملائك في صياغة أهداف أخرى للسياحة المستدامة ووضع رؤية مستقبلية لتحقيق تلك الأهداف في دولة قطر.

الاهتمام بالحفاظ على الصناعات التقليدية والحرف اليدوية وتمييزها



- دَلِّلْ عَلَى مَا تَقُولُ بِالْأَمْثَلَةِ مِنَ الْوَاقِعِ الْقَطْرِيِّ.

- تحديد القدرة الاستيعابية للمواقع السياحية
- من خلال بناء الفنادق

على ضوء العبارة السابقة أجب:

1 - ابحث باستخدام شبكة المعلومات الدولية عن أهداف المدونة

ولخصها. **الارتقاء بمستوى الوعي السياحي**

2 - توقع أخلاقيات السياحة التي تسعى هذه المدونة للوصول إليها.

**نشر الوعي الأخلاقي بين كافة العاملين بالقطاع السياحي**

3 - برأيك هل الالتزام بهذه الأخلاقيات يُساعد على تحقيق استدامة

التنمية السياحية، دَلِّلْ عَلَى مَا تَقُولُ.

**بناء قاعدة أخلاقية متماسكة تعمل على الحد من التجاوزات والآثار السلبية لصناعة السياحة.**

## السؤال الأول: اختر الإجابة الصحيحة من بين البدائل الآتية:

ثانيًا:  
التدريبات

1 - أكثر دول العالم من حيث العائدات السياحية:

- أ - فرنسا  
ب - إسبانيا  
ج - تايلاند  
د - الولايات المتحدة الأمريكية ★

2 - تتعدد إجراءات تحقيق السياحة المستدامة ومنها:

- أ - حُسن معاملة السياح  
ب - إنشاء وزارة لحماية البيئة  
ج - سنُّ القوانين لحماية البيئة ★  
د - الاهتمام بالزراعة والصناعة.

3 - أيُّ من الدول التالية تتجاوز عائداتها السياحية 60 مليار دولار أمريكي:

- أ - فرنسا ★  
ب - ألمانيا  
ج - إيطاليا  
د - اليابان

## السؤال الثاني: عرّف ما يلي:

1- السياحة.

..... انتقال الفرد من مكان إقامته إلى مكان آخر بغرض الاستكشاف أو الترفيه أو غيره وتكون  
اقامته مؤقتة

2- السياحة المستدامة.

..... الاستخدام الأمثل للموارد السياحية بما يضمن استفادة الأجيال منها في المستقبل .

## السؤال الثالث: بِمَ تُفسِّر:

1- تُعدُّ السياحة في الوقت الحاضر من الأنشطة الاقتصادية ذات الأهمية الكبيرة.

**تزيد الدخل القومي - تعمل على توفير فرص عمل للشباب**

2- أهمية تحديد القدرة الاستيعابية للمواقع السياحية.

**من أجل منع الضغط على الموارد السياحية ، وتفادي الازدحام وتجنب الضرر .**

## السؤال الرابع: أجب عن الأسئلة الآتية:

1- ما أهم إجراءات تحقيق السياحة المستدامة؟

1- سن القوانين لحماية البيئة 2- تنظيم حركة السياح 3- تحديد القدرة الاستيعابية للمواقع

السياحية

2- عَدَد أهداف السياحة المستدامة. 4- نشر الوعي السياحي 5- تشجيع إقامة المشاريع السياحية

1- إدامة رضا السائح 2- صيانة الموارد الطبيعية

3- التخطيط العملي لتنمية السياحة

4- الحرص على استمرار جودة البيئة

48-35

## الوحدة الثانية : حل تدريبات الوحدة الثانية

الدرس الأول: التنافس الأوروبي في منطقة الخليج العربي.  
الدرس الثاني: استقلال دول الخليج العربية، ونشأة حكوماتها.



حل تدريبات الدرس الأول

التنافس الأوربي في منطقة الخليج العربي

## السؤال الأول: اختر الإجابة الصحيحة من بين البدائل التالية:

1 - أول دولة أوروبية استعمارية وصلت إلى منطقة الخليج العربي هي:

- أ- فرنسا.  
ب- هولندا.  
ج- البرتغال.  
د- بريطانيا.

2 - طرّد الشيخ مهنا بن ناصر القاسمي من منطقة الخليج العربي:

- أ- الفرنسيين.  
ب- الهولنديين.  
ج- البرتغاليين.  
د- البريطانيين.

3 - وقّعت بريطانيا معاهدة عام 1868 م مع:

- أ- قطر.  
ب- مسقط.  
ج- الكويت.  
د- البحرين.

4 - وقّعت بريطانيا أول معاهدة لها في منطقة الخليج العربي عام 1798 م مع:

- أ- مسقط.  
ب- الكويت.  
ج- البحرين.  
د- ساحل الإمارات.

5 - من القبائل العربية التي تصدّت للاستعمار البرتغالي:

- أ- العتوب.  
ب- اليعاربة.  
ج- القواسم.  
د- الجلاممة.



## السؤال الثاني: أجب عن الأسئلة التالية:

1- وضح دور الدولة العثمانية في مواجهة الغزو البرتغالي لمنطقة الخليج العربي.

حرصوا على التواجد في منطقة الخليج وقد وجهوا حملتهم لاستعادة هرمز ومسقط وحرصت أيضاً على الاستمرار في مواجهة الوجود البرتغالي لمنعهم من الوصول للحجاز.

2- اذكر القوى الأوروبية الدولية التي تنافست على منطقة الخليج العربي.

1- البرتغاليون 2- الهولنديون

3- التنافس الفرنسي البريطاني

4- البريطانيون

3- عيّد الإجراءات التي قامت بها بريطانيا للسيطرة على منطقة الخليج العربي.

1- احتلال جزيرة بريم (مضيق باب المندب) / 2- القضاء على نفوذ القواسم البحري

3- احتلال جزيرة سقطرة وميناء عدن / 4- عقد المعاهدات والاتفاقيات مع حكام الخليج

4- ما العوامل التي أدت إلى ضعف النفوذ البرتغالي في الخليج العربي وانهيائه؟

1- المقاومة العربية ضد الوجود البرتغالي.

2- تعاون وتحالف القوى الدولية ضد البرتغاليين.

3- السياسة البرتغالية التي اتسمت بالقسوة والتعصب ضد العرب.





## السؤال الثالث: يتم تفهيم؟

1 - تنافس الدول الاستعمارية الكبرى على منطقة الخليج العربي.

1- موقعها الجغرافي المتميز الذي جعلها حلقة وصل بين الشرق والغرب.

2- تعدد الموانئ الطبيعية مما ساعد في ازدهار الحركة التجارية.

2 - ضعف وتراجع النفوذ الهولندي في منطقة الخليج العربي.

1- انشغالهم بالحرب مع فرنسا. / 2- فقدت شركة الهند الشرقية الهولندية الدعم المادي.

3- قامت المقاومة العربية بطردهم بقيادة الشيخ مهنا القاسمي حاكم جزيرة الخرج.

3- كانت البرتغال أسبق الدول الأوروبية وصولاً إلى منطقة الخليج العربي.

بسبب اكتشافهم طريق إلى الهند عبر رأس الرجاء الصالح



السؤال الرابع: رتب الاتفاقيات والمعاهدات البريطانية مع حكام وشيوخ منطقة الخليج العربي ترتيباً تصاعدياً:

- (3) اتفاقية الصداقة مع البحرين.
- (5) معاهدة الحماية مع قطر.
- (4) معاهدة الحماية مع الكويت.
- (2) المعاهدة العامة.
- (1) معاهدة الصداقة مع حاكم مسقط.

## السؤال الخامس: أجب عما يأتي:



تقييمك للحدث	النتائج المترتبة عليه	الحدث
	1- وحد القبائل العمانية. 2- إنهاء الوجود البرتغالي.	المقاومة العربية ضد البرتغال في الخليج العربي بقيادة ناصر بن مرشد اليعربي
	طرد الهولنديين من منطقة الخليج العربي.	المقاومة العربية بقيادة الشيخ مهنا بن ناصر القاسبي.

## حل تدريبات الدرس الثاني

استقلال دول الخليج العربية ونشأه

حكوماتها



السؤال الأول: اختر الإجابة الصحيحة من بين البدائل الآتية:

ثانيًا:  
التدريبات

1 حصلت الكويت على الاستقلال عام 1971م، في عهد الشيخ:

- أ - أحمد الجابر الصباح.  
ب - عبد الله السالم الصباح.  
ج - مبارك عبد الله الصباح.  
د - الجابر أحمد الصباح.

2 تولّى السلطان قابوس بن سعيد الحكم عام:

- أ - 1971م.  
ب - 1970م.  
ج - 1973م.  
د - 1969م.

3 أعلنت قطر استقلالها لتصبح دولة مستقلة ذات سيادة عام:

- أ - 1951م.  
ب - 1961م.  
ج - 1971م.  
د - 1981م.

باستخدام المصادر المتنوعة، قُمَ بكتابة بحث حول الأسباب التي دعت  
بريطانيا إلى الانسحاب من دول الخليج.

ص 54

بعث المقيم السياسي البريطاني في منطقة الخليج، من مقر إقامته في البحرين،  
رسائل إلى حكام المنطقة، في التاسع من شهر أبريل عام 1968، يبلغهم فيها،  
عزم بريطانيا الانسحاب من الخليج العربي في موعد غايته نهاية 1971م

## السؤال الثاني: بم تفسر إعلان بريطانيا الانسحاب من منطقة الخليج

- 1- ظهور الولايات المتحدة كقوة منافسة لبريطانيا
- 2- انتشار الأفكار المعادية للاستعمار في العالم.
- 3- تدهور قوة بريطانيا الاقتصادية بعد الحرب العالمية الثانية.

## السؤال الثالث: اذكر نقطتين لكل مما يلي:

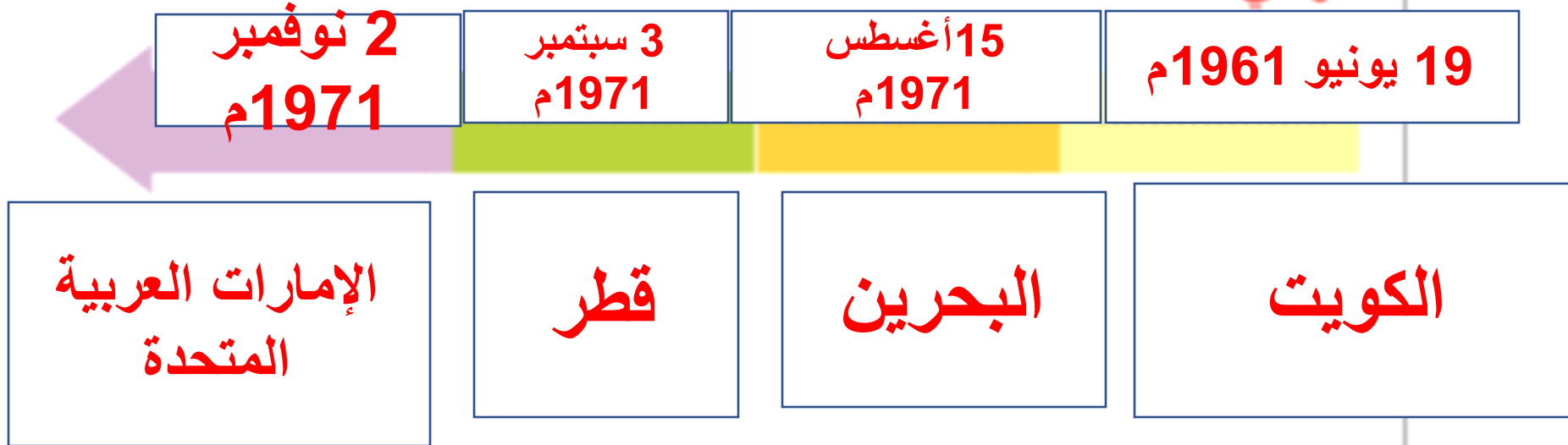
1- ملامح تطوّر الحياة السياسية في الكويت بعد الاستقلال.

- 1- الانضمام لجامعة الدول العربية ومنظمة الأمم المتحدة.
- 2- إعلان أول دستور في البلاد.

2- التغييرات السياسية في دولة قطر بعد الاستقلال.

- 1- صدور النظام الأساسي المؤقت عام 1970م.
- 2- تشكيل أول مجلس للوزراء عام 1970م برئاسة الشيخ خليفة بن حمد آل ثاني .

السؤال الرابع: رتب تواريخ استقلال دول الخليج العربية (قطر - البحرين - الكويت - الإمارات العربية) ترتيبًا تصاعديًا على الخط الزمني؟



**الوحدة**

**الثالثة (مواطنة)**

**تابع الدرس الأول**

**المصادر الأساسية لحقوق الإنسان**



## السؤال الأول: اختر الإجابة الصحيحة من بين البدائل التالية:

1- من المصادر الأساسية لحقوق الإنسان:

ب- الاتفاقيات الدولية.

أ- القيم والأخلاق.

ج- المسؤولية التضامنية.

د- مبادئ العيش المشترك.



2- من المؤسسات الخاصة لحقوق الإنسان في دولة قطر:

- أ- مكتب حقوق الإنسان.
- ب- إدارة حقوق الإنسان.
- ج- اللجنة الوطنية لحقوق الإنسان.
- د- مركز قطر للعمل الاجتماعي.

3- يتبع مكتب حقوق الإنسان في دولة قطر وزارة:

- أ- الداخلية.
- ب- الخارجية.
- ج- البلدية والبيئة.
- د- التعليم والتعليم العالي.



4- وثيقة خاصة بحقوق الإنسان لا تضع أي التزامات قانونية:

أ- العهدان الدوليان.

ب- الإعلان العالمي لحقوق الإنسان.

ج- اتفاقية إلغاء العمل الجبري.

د- اتفاقية حقوق الأشخاص ذوي الإعاقة.



## السؤال الثاني: عرّف حقوق الإنسان.

حقوق الإنسان هي حقوق مُتأصِّلة في جميع البشر، مهما كانت جنسيتهم، أو مكان إقامتهم،



## السؤال الثالث: أجب عما يلي:

1- وضح خصائص حقوق الإنسان في الإسلام.

- 1- مصدر حقوق الانسان في الإسلام هو العقيدة الإسلامية.
- 2- حقوق الانسان في الإسلام منح إلهية من الله لجميع خلقه.
- 3 - حقوق الانسان في الإسلام شاملة وثابتة.



## 2- ما الفرق بين الإعلان العالمي لحقوق الإنسان والعهدين الدوليين

**\*\* الإعلان العالمي لحقوق الإنسان :** توصية لا تضع التزامات قانونية بل هي توجيهات تهدي بها الدول.

**\*\* العهدين الدوليين :** يضعان التزامات قانونية محددة على الدول.

## 3- قديم أمثلة لأهم الحقوق التي تضمنها الإعلان العالمي لحقوق الإنسان.

1- الحق في الحياة والحرية.

2- الحق في المساواة امام القانون.

3 - الحق في التملك.

4- اذكر بعضًا من الاتفاقيات الدولية المتعلقة بحقوق الإنسان.

- 1- الإعلان العالمي لحقوق الإنسان 1948م.
- 2- العهد الدولي الخاص بالحقوق الاقتصادية والاجتماعية والثقافية 1966م.
- 3- العهد الدولي الخاص بالحقوق المدنية والسياسية 1966م

5- عَدِّد المصادر الأساسية لحقوق الإنسان.

- 1- الدين .
- 2- الدساتير والتشريعات الوطنية .
- 3- المواثيق والاتفاقيات الدولية

# الدرس الثاني :

## حقوق المرأة والطفل

ثانيًا:  
التدريبات

السؤال الأول: اختر الإجابة الصحيحة من بين البدائل التالية:

1- المركز الذي يُوفّر الاستشارة للأسرة والأفراد:

- أ - أمان  
ب - نماء  
ج - وفاق  
د - إحسان

2- اتفاقية الطفل التي تتكوّن من 10 مبادئ:

- أ - إعلان جنيف  
ب - إعلان حقوق الطفل  
ج - اتفاقية حقوق الطفل  
د - العهد الدولي الخاص بالحقوق

3- المركز الذي يُعنى بحماية وتأهيل ضحايا العنف الأسري:

- أ - الاستشارات العائلية  
ب - إدارة حقوق الإنسان  
ج - الحماية والتأهيل الاجتماعي  
د - اللجنة الوطنية لحقوق الإنسان

## السؤال الثاني:

- عرّف حقوق المرأة.

يُقصد بها تلك الحقوق التي تحفظ للمرأة إنسانيتها وكرامتها دون أدنى تمييز.

## السؤال الثالث:

ما أهم المبادئ التي اشتمل عليها إعلان جنيف لحقوق الطفل الذي أقرته عصبة الأمم عام 1924م؟

تربية الطفل  
على الإحساس  
بالمسؤولية نحو  
إخوته.

حماية  
الطفل من  
الاستغلال.

تقديم العون  
والمساعدة للطفل  
في كل وقت.

توفير الرعاية  
والطعام والعلاج  
والتشجيع  
والإيواء للطفل،  
وتعديل سلوكه.

الاهتمام بتموُّ  
الطفل من  
الناحية المادية  
والرُّوحية.

## السؤال الرابع:

اذكُر جهود دولة قطر في تعزيز حقوق المرأة والطفل.

..... 1 - أكد الدستور القطري على حقوق المرأة والطفل

..... 2 - حرصت دولة قطر على إنشاء العديد من المؤسسات التي تُعنى بالمرأة والطفل

## السؤال الخامس: أجب عما يلي:

1- اذكر أهم المؤسسات التي تُعنى بالمرأة والطفل في دولة قطر.

- أ - مركز الحماية والتأهيل الاجتماعي (أمان):  
ب - مركز الاستشارات العائلية (وفاق):

2- ما خصائص حقوق الطفل؟

- 1 - حقوق لا يستطيع أن يطالب بها الطفل  
2 - حقوق لا يقابلها واجبات  
3 - حقوق أساسية للطفل لا يمكن التنازل عنها

3- عدّد حقوق الطفل الأساسية.

### حقوق ما بعد الولادة:

- تمتدُّ هذه الحقوق من بعد الولادة حتى مرحلة البلوغ ومنها:  
أ- الحق في الحياة حيث لا يجوز التخلص من الوليد.  
ب- الحق في الرضاعة والحضانة.

### حقوق ما قبل الولادة:

وتتمثّل في: الاهتمام بالأُم الحامل ورعايتها صحياً ونفسياً.

4- ما أهم الحقوق التي كفلها الإسلام للمرأة؟

.....  
\* - ساوى بينها وبين الرجل في الحقوق والواجبات .....  
..- منَحَ الإسلامُ المرأةَ حقوقها كاملة غير منقوصة؛ منها الرعاية والتعليم والملكيَّة والبيع والشراء .....

5- لماذا اهتمَّت المواثيق الدولية بتوفير الحماية القانونية لحقوق المرأة؟

.....  
.. ، وذلك بسبب ما تعرَّضت له من سوء معاملة  
من قبل قوانين وأعراف العديد من الدول،  
.....

# الوحدة الرابعة نحن والبيئة

حل تدريبات نقص المياه صفحة 93-94

السؤال الأول : اختر الإجابة الصحيحة من بين البدائل التالية:

1- تصل نسبة المياه العذبة المجمدة في العالم تقريبا :



ب- 60%

أ- 50%

د - 80%

ج - 70%



السؤال الأول : اختر الإجابة الصحيحة من بين البدائل التالية:

2- أكثر القطاعات استخداماً للمياه :


ب- السياحة

أ- الصناعة

د - التجارة

ج - الزراعة

السؤال الأول : اختر الإجابة الصحيحة من بين البدائل التالية:

3- من المناطق الأكثر جفافاً في العالم : 

ب- الشرق الأوسط

أ- جنوب إفريقيا

د - الأمريكتان

ج - أستراليا

السؤال الثاني : بم تفسر :

1- ضرورة تحسين نظم الري , واتباع طرق ري حديثة؟

الإجابة : لأن الطرق التقليدية للري تؤدي الى استهلاك كميات كبيرة من المياه

2- يعتبر التغير المناخي من أسباب نقص المياه؟

الإجابة : لأنه يحدث جفافاً ويؤدي الى ارتفاع درجة الحرارة التي بدورها تؤدي الى ذوبان القمم والأنهار الجليدية.



السؤال الأول : اختر الإجابة الصحيحة من بين البدائل التالية:

1- يتم معالجة مشكلة ميل الأرض والانحدارات الجبلية من خلال :

زيادة الغطاء النباتي

وضع مصدات للرياح

إنشاء المدرجات الزراعية

استخدام طرق الحراثة المناسبة

السؤال الأول : اختر الإجابة الصحيحة من بين البدائل التالية:

2 – أي مما يلي يساعد على علاج مشكلة انجراف التربة :

إنشاء السدود

إزالة الغطاء النباتي

شق قنوات المياه

وقف قطع الأشجار

الكتاب المدرسي ص 101

السؤال الثاني : عرّف انجراف التربة

الإجابة : هو تآكل التربة وانتقالها من مكان تكونها إلى مكان آخر

1 - ما الأسباب التي تساعد على انجراف التربة .

**الإجابة :** الرياح - المياه - تدمير الغطاء النباتي - الرعي الجائر -

سلوكيات الانسان الخاطئة

2 - كيف يسهم الغطاء النباتي في تثبيت التربة .

**الإجابة :** يحول دون تدهور التربة وانجرافها لأن جذور النبات تثبت التربة وتحد

من التعرية الناتجة عن تأثير المياه والرياح

3 - اقترح حلولاً للتغلب على مشكلة انجراف التربة .

**الإجابة :** أ - وضع مصدات للرياح لحماية التربة من زحف الرمال

ب - زيادة الغطاء الزراعي وعدم قطع الأشجار



## السؤال الرابع : أوجد العلاقة بين كل مما يلي :

1 – غزارة الأمطار وانجراف التربة .

**الإجابة:** العلاقة طردية لأن غزارة السيول تؤدي إلى تفتت التربة ونقلها إلى أماكن أخرى

2 – الرعي الجائر وانجراف التربة

**الإجابة:** العلاقة طردية يؤدي الرعي الجائر إلى تراجع كثافة الغطاء النباتي

مما يضعف تماسك التربة



السؤال الثالث : أوجد العلاقة بين كل مما يأتي :

1- النمو السكاني ونقص المياه؟



الإجابة : كلما زاد عدد السكان زاد استهلاك السكان للمياه



2- سوء الإدارة ونقص المياه؟



الإجابة : حيث أن سوء استخدام المياه يزيد من استهلاك المياه لذلك اتجهت دول العالم الى عمل حملات لترشيد الاستهلاك



السؤال الرابع : أجب على كل مما يلي :

1- ما أسباب تلوث المياه العذبة ؟



- الإجابة : 1- مخلفات مجاري ومياه الصرف الصحي.  
2- المواد الكيميائية المستخدمة في الصناعة والزراعة.  
3- النفايات المشعة من محطات الطاقة النووية.



2- عدد أسباب نقص المياه في العالم ؟



- الإجابة : 1- تغير المناخ. 2- النمو السكاني.  
3- التوسع الحضري. 4- تلوث المياه العذبة.



السؤال الرابع : أجب على كل مما يلي :

3- اقترح حلولاً لمشكلة نقص المياه؟

- 1- سن القوانين المتعلقة بتلوث المياه.
- 2- إنشاء محطات تحلية مياه البحر.
- 3- معالجة مياه الصرف الصحي.
- 4- استخدام طرق حديثة في الري.
- 5- دعم البحث العلمي.
- 6- الاهتمام بالحلول المستمدة من الطبيعة.



السؤال الخامس : ما النتائج المترتبة على :

1- ارتفاع درجة الحرارة بالعالم ؟



الإجابة : ذوبان القمم الجليدية والأنهار الجليدية مما سيؤدي الى ارتفاع مستويات البحار.



2- تلوث مياه الشرب بمواد كيميائية ؟



الإجابة : تسبب أمراضاً خطيرة للإنسان مثل السرطان وتدمر الحياة النباتية والحيوانية.



حل تدريبات ثامن النهضة الأوربية

تدريبات ص 85 - 87

## السؤال الأول: اختر البديل المناسب من بين البدائل الآتية:

ص 85

1- بدأت النهضة في إيطاليا في القرن:

أ - الرابع عشر.

ج - السادس عشر.

ب - الخامس عشر.

د - السابع عشر.

2- سقطت القُسطنطينية بيد العثمانيين عام:

أ - 1453م.

ج - 1345م.

ب - 1543م.

د - 1534م.

3- بدأت النهضة الأوروبية في المدن:

أ - الإنجليزية.

ج - الفرنسية.

ب - الإسبانية.

د - الإيطالية.

4- انطلقت حركة الإصلاح الديني من ألمانيا على يد:

أ - مايكل أنجلو.

ج - مارتن لوثر.

ب - روجر بيكون.

د - يوحنا غوتنبرغ.

## السؤال الثاني: أجب عن الأسئلة التالية:

1- اذكر عوامل قيام النهضة الأوروبية.

- 1 - الحضارة اليونانية والرومانية القديمة
- 2 - الحضارة العربية الإسلامية
- 3 - اختراع الطباعة

2- عرف عصر النهضة.

يطلق على فترة الانتقال من العصور الوسطى إلى العصور الحديثة

3- وضح كيف أسهمت الحضارة الإسلامية في بث روح النهضة في أوروبا.

بسبب انتقالها إليها من عدة طرق مثل الأندلس وصقلية

4- اذكر نتائج النهضة الأوروبية.

- 1 - انهيار النظام الإقطاعي
- 2 - ظهور الدول الأوروبية الحديثة

## السؤال الثالث: بم تُفسِّر:

1- أسهم علماء القسطنطينية في حركة النهضة الأوروبية.

بسبب هجرتهم للمدن الإيطالية حاملين معهم تراث اليونان والرومان

2- يُعدُّ اختراع الآلة الطابعة من العوامل التي أسهمت في قيام النهضة الأوروبية.

لأنها ساهمت في نشر التراث القديم - أصبحت الكتب في متناول الجميع

3- تُعدُّ إيطاليا مهد النهضة الأوروبية.

1 - الموقع الجغرافي 2 - ثراء المدن الإيطالية

السؤال الرابع: ما النتائج المترتبة على:

1- الحركة الإنسانية في أوروبا؟

بروز العديد من الفنانين والمفكرين مثل نيقولا ميكافيلي – وليم شكسبير

2- حركة الإصلاح الديني في أوروبا؟

انقسام المسيحيين إلى كاثوليك وبروتستانت واشتعل الصراع بينهما

## السؤال الخامس: اذكر عملاً تاريخياً لكل من الشخصيات التالية:

جوتنبرغ:

اختراع الطباعة

دانتي:

صاحب الكوميديا الإلهية

مارتن لوثر:

ظهور حركة الإصلاح الديني

**الصف الثامن**  
**حل تدريبات الكشوف الجغرافية**  
**صفحة 127 – 128**

### اختر الإجابة الصحيحة من بين البدائل التالية:

1- نمو الشعور القومي من دوافع الكشوف الجغرافية :

- |            |                                     |         |                          |
|------------|-------------------------------------|---------|--------------------------|
| الاقتصادية | <input type="checkbox"/>            | الدينية | <input type="checkbox"/> |
| السياسية   | <input checked="" type="checkbox"/> | العلمية | <input type="checkbox"/> |

2- تم اكتشاف رأس الرجاء الصالح على يد :

- |                  |                          |              |                                     |
|------------------|--------------------------|--------------|-------------------------------------|
| كريستوفر كولومبس | <input type="checkbox"/> | ماجلان       | <input type="checkbox"/>            |
| هنري الملاح      | <input type="checkbox"/> | برثلميو دياز | <input checked="" type="checkbox"/> |

3- أول دولة أوروبية بدأت بحركة الكشوف الجغرافية:

- |          |                                     |         |                          |
|----------|-------------------------------------|---------|--------------------------|
| البرتغال | <input checked="" type="checkbox"/> | إسبانيا | <input type="checkbox"/> |
| فرنسا    | <input type="checkbox"/>            | إنجلترا | <input type="checkbox"/> |

والآن عزيزي  
الطالب افتح الكتاب  
صفحة 129  
ولنجد على السؤال  
الأول



**أجب عن الأسئلة التالية :**

**1 - عرف الكشوف الجغرافية .**

هي الرحلات التي قام بها المكتشفون الأوروبيون خلال القرنين الخامس عشر والسادس عشر ، وأدت إلى اكتشاف طرق ومناطق جديدة .

**2- عدد الدول الأوروبية التي قامت بحركة الكشوف الجغرافية.**

البرتغال - إسبانيا - إنجلترا - فرنسا

ولنتقل إلى السؤال  
الثاني في صفحة  
129 ، ولنجد على  
الرقم 1 - 2



## اذكر نتائج الكشوف الجغرافية :

### السياسية :

- 1- نشوء الإمبراطوريات الكبرى والتنافس الاستعماري بينها .
- 2- هجرة الأوروبيين إلى العالم الجديد .

### الاقتصادية :

- 1- تدفق الثروات والمعادن إلى أوروبا ممّا أدى إلى ازدهار تجارتها .
- 2- التنوع التجاري في أوروبا بسبب تطوّر التجارة مثل تجارة (التوابل والتبغ) .

تعال الآن عزيزي  
الطالب لنجيب معاً  
على السؤال الثالث  
في صفحة 130 ..



**فسر ما يلي :**

**1- رغبة الأوروبيين في البحث عن طريق تجاري للهند لا يمرُّ بالأراضي الإسلامية .**

أ - التخلص من الضرائب والرسوم التي كانت تدفعها سفنهم التجارية للمسلمين.  
ب - إضعاف الاقتصاد الإسلامي بتحويل التجارة من البحر المتوسط إلى المحيط الأطلسي.

**2- كانت البرتغال أول دولة أوروبية قامت بحركة الكشف الجغرافية .**

بسبب وجود السفن المتطورة واختراع الأدوات الحديثة مثل: البوصلة والإسطرلاب.

ولنجد الآن على  
السؤال الرابع في  
صفحة 130 ،  
بفرعيه 2-1



## ما النتائج المترتبة على :

1- اكتشاف رأس الرجاء الصالح .

تحول طرق التجارة من البحر المتوسط إلى المحيط الأطلسي.

2- رحلات ماجلان الاستكشافية.

إثبات كروية الأرض .

3- وصول المستكشفين الإنجليز والفرنسيين إلى أمريكا الشمالية .

ازدياد التنافس الاستعماري بينهم في أمريكا الشمالية من أجل السيطرة على العالم الجديد .

أما السؤال  
الخامس في  
صفحة 130 ،  
فيتكون من 3  
فروع فلنحاول  
الإجابة عليها ..



ولنتقل الآن  
للصفحة 131 ،  
ولنجب على  
السؤال السادس

اكتب عملاً تاريخياً لكل من الشخصيات التاريخية التالية :

- 1- هنري الملاح : اكتشاف جزر الكناري
- 2- كولومبوس : اكتشاف سواحل أمريكا الوسطى
- 3- فسبوتشي : اكتشاف سواحل أمريكا الجنوبية
- 4 - برثليمو دياز : اكتشاف رأس الرجاء الصالح



أكمل جدول الكشوف الجغرافية لكل من إنجلترا وفرنسا :

الدولة	اسم المستكشف	المناطق التي وصل إليها
إنجلترا	جون كابوت	الشواطئ الشرقية لأمريكا الشمالية
فرنسا	جاك كارتيه	شواطئ كندا

وأخيراً السؤال  
السابع في صفحة  
... 131





# حل تدريبات الوحدة السادسة

ثانيًا:  
التدريبات

السؤال الأول: اختر الإجابة الصحيحة من بين البدائل التالية:

1- المشاركة في حل أزمة دارفور من نجاحات دولة قطر في مجال:

- أ- الوساطة.  
ب- حقوق الإنسان.  
ج- حوار الحضارات.  
د- الإغاثة الإنسانية.

2- أي من أجهزة هيئة الأمم المتحدة يتولى حفظ الأمن والسلم الدوليين:

- أ- اليونسكو.  
ب- اليونسيف.  
ج- مجلس الأمن.  
د- الجمعية العامة.

## السؤال الثاني:

ما المقصود بالسلام؟

حالة الأمن والاستقرار التي تسود المجتمع من أبسط تكويناته ( الأسرة ) إلى أكبر تكويناته ( المجتمع الدولي ) بما يتيح التطور والازدهار للجميع

1 - ما دور دولة قطر في التعاون الدولي لتحقيق السلام العالمي؟

الوساطة – حوار الأديان وتحالف الحضارات – مكافحة الإرهاب

2 - عِدِّد أهمَّ أجهزة هيئة الأمم المتحدة .

الجمعية العامة – مجلس الأمن – محكمة العدل الدولية



المحافظة على حياة الشعوب – استقرار المجتمع ونموه – نشر القيم الإيجابية في المجتمع – التنظيم وتطبيق القانون – التبادل الثقافي والمعرفي

4- اذكر جهود هيئة الأمم المتحدة في مجال السلام العالمي.

- 1- إصدار الجمعية العامة برنامج عمل بشأن ثقافة السلام
- 2- تضمن الإعلان العالمي لحقوق الإنسان بعض المواد التي تدعم قيم السلام مثل المادة (18- 19- 26)
- 3- أعلنت الجمعية العامة للأمم المتحدة اليوم الدولي للسلام في عام 1981 وحددت 21 سبتمبر تاريخاً لذلك

## السؤال الرابع:

دُعمت دولة قطر حوار الأديان وتحالف الحضارات، دَلِّل على ذلك.

- استضافة المنتدى العالمي الرابع لتحالف الحضارات في الدوحة في ديسمبر 2011 م
- إنشاء مركز الدوحة الدولي لحوار الأديان الذي يسعى لنشر ثقافة الحوار وتعزيز ثقافة قبول الآخر والتعايش السلمي بين أتباع الديانات والحضارات

السؤال الأول: اختر الإجابة الصحيحة من بين البدائل التالية:

ص 150

1- من أساليب محاربة التمييز العنصري :

أ - زيادة الحروب .

ب - انتشار الفقر في المجتمع .

ج - العدالة في توزيع الثروات

د - زرع الكراهية في المجتمع .

2- عدد مواد الاتفاقية الدولية للقضاء على جميع أشكال التمييز

العنصري :

أ - 12 .

ب - 14 .

ج - 16 .

د - 18 .

السؤال الثاني: أجب عما يلي:

1- ما المقصود بالتعصُّب والتمييز العنصري.

أي تمييز أو استثناء أو تقييد لى أساس العرق أو اللون أو النسب أو الأصل القومي ويستهدف تعطيل أو عرقلة الاعتراف بحقوق الانسان والحريات الأساسية

2- ما أنواع التعصب والتمييز العنصري ؟

1-التعصب المبني على أساس اللون-2-التعصب المبني على أساس عرقي-3-التعصب المبني على أساس قبلي-4-  
التعصب الديني-5-التعصب الفكري

3- يّين الآثار المترتبة على التعصُّب والتمييز العنصري.

- 1-زرع الكراهية والاحقاد بين أبناء المجتمع الواحد
- 2-هدر الكفاءات العلمية والإدارية بين أبناء المجتمع الواحد
- 3-انتشار الفقر بين طبقات معينة من المجتمع

#### 4- وضّح أساليب محاربة التمييز العنصري.

1- التوعية بمخاطر التعصب والتمييز 2- تعزيز التفاهم والشاركة المدنية والحوار بين الثقافات

3- العدالة في توزيع الثروات والمكآفات والمنح وغيرها العنصري

5- اذكر أهداف الاتفاقية الدولية للقضاء على جميع أشكال التمييز العنصري.


1- القضاء على جميع اشكال التمييز العنصري

2- تعزيز التفاهم بين الأجناس والمذاعب والاديان

6- ما أهم مبادئ محاربة التمييز العنصري التي دعا إليها الإسلام؟

العدل والمساواة والرحمة ورعاية كرامة الانسان

مدرسة الأندلس الخاصة للبنات  
العام الأكاديمي 2024/2023



أوراق عمل إثرائية  
الوحدة الأولى (الأنشطة الاقتصادية)

مادة الدراسات الاجتماعية

الصف الثامن

اسم الطالبة/.....

الصف والشعبة /.....

السؤال الأول: الأسئلة الموضوعية:

اختر الإجابة الصحيحة:

1.1		الدولة الأكثر اجتذاباً للسياح :
A	ألمانيا	
B	فرنسا	
C	الصين	
D	المكسيك	

1.2		أكثر جهات العالم استقبلاً للسياح :
A	قارة أوروبا	
B	قارة إفريقيا	
C	قارة أمريكا	
D	قارة استراليا	

1.3		من أهداف السياحة المستدامة :
A	سن القوانين	
B	الاهتمام بالزراعة	
C	الاهتمام بالصناعة	
D	إدامة رضا السائح	

1.4		أكثر دول العالم من حيث العائدات السياحية :
A	الهند	
B	روسيا	
C	اليابان	
D	الولايات المتحدة الأمريكية	

تعدد إجراءات تحقيق السياحة المستدامة ومنها :		1.5
حسن معاملة السياح	A	
إنشاء وزارة لحماية البيئة	B	
سن القوانين لحماية البيئة	C	
الاهتمام بالزراعة والصناعة	D	

من المقومات الطبيعية للسياحة :		1.6
الأمن	A	
النقل	B	
الموقع	C	
الخدمات	D	

مدينة ديزني في الولايات المتحدة من المناطق السياحية :		1.7
الثقافية	A	
الترفيهية	B	
الطبيعية	C	
التاريخية	D	

أي من الدول التالية تتجاوز عائدتها السياحية 60 مليار دولار أمريكي :		1.8
فرنسا	A	
ألمانيا	B	
إيطاليا	C	
اليابان	D	

الاستخدام الأمثل للموارد السياحية للحفاظ عليها في المستقبل للأجيال القادمة يشير التعريف السابق إلى مفهوم :		1.9
التجارة	A	
الزراعة	B	
الصناعة	C	
السياحة المستدامة	D	

من أهم المناطق السياحية قصر الحمراء في دولة :		1.10
الهند	A	
الصين	B	
اسبانيا	C	
المملكة المتحدة	D	

## الأسئلة المقالية :-

اجب عن الأسئلة التالية:

## السؤال الثاني

❖ ما المقصود بالسياحة ؟

.....

.....

## السؤال الثالث

❖ وضح أهمية السياحة في دعم الاقتصاد الوطني.

1. ....
2. ....
3. ....

## السؤال الرابع

❖ عدد المقومات البشرية للسياحة .

1. ....
2. ....
3. ....

## السؤال الخامس

❖ اذكر أهم المناطق السياحية في إسبانيا والولايات المتحدة الأمريكية.

1. ....
2. ....

## السؤال السادس

❖ بم تفسر أسهمت المواصلات في نمو حركة السياحة ؟

1. ....
2. ....

## السؤال السابع

❖ وضح جهود دولة قطر للنهوض بالسياحة .

1. ....
2. ....
3. ....

## السؤال الثامن

❖ عدد أهداف السياحة المستدامة .

1. ....
2. ....
3. ....

مدرسة الأندلس الخاصة للبنات

العام الأكاديمي 2024/2023



أوراق عمل إثرائية

الوحدة الثانية ( الوجود الأوربي في الخليج العربي )  
الوحدة الثالثة (درس المصادر الأساسية لحقوق الإنسان)

مادة الدراسات الاجتماعية

الصف الثامن

اسم الطالبة/.....

الصف والشعبة /.....

السؤال الأول: الأسئلة الموضوعية:  
اختر الإجابة الصحيحة:

1.1		أسبق الدول الأوروبية التي وصلت إلى منطقة الخليج العربي:
A	فرنسا	
B	هولندا	
C	البرتغال	
D	بريطانيا	

1.2		نجحت قبيلة اليعاربة في طرد الاستعمار:
A	البرتغالي	
B	الهولندي	
C	الفرنسي	
D	البريطاني	

1.3		أعلن الشيخ خليفة بن حمد آل ثاني إنهاء معاهدة 1916م مع بريطانيا عام :
A	1951م	
B	1970م	
C	1971م	
D	1981م	

1.4		طرد الشيخ مهنا بن ناصر القاسمي من منطقة الخليج العربي :
A	الهولنديين	
B	البرتغاليين	
C	الفرنسيين	
D	البريطانيين	

حصلت الكويت على الاستقلال عام 1961 في عهد الشيخ :		1.5
عبدالله السالم الصباح	A	
أحمد الجابر الصباح	B	
جابر الأحمد الصباح	C	
سالم بن مبارك الصباح	D	

تولى السلطان قابوس بن سعيد الحكم عام :		1.6
1969م	A	
1970م	B	
1971م	C	
1973مذ	D	

قام باكتشاف طريق رأس الرجاء الصالح :		1.7
فرنسا	A	
اسبانيا	B	
البرتغال	C	
بريطانيا	D	

من المصادر الأساسية لحقوق الإنسان :		1.8
المسؤولية	A	
القيم والاخلاق	B	
الاتفاقيات الدولية	C	
مبادئ العيش المشترك	D	

من المؤسسات الخاصة لحقوق الإنسان في دولة قطر :		1.9
مكتب حقوق الإنسان	A	
إدارة حقوق الإنسان	B	
مركز قطر للعمل الاجتماعي	C	
اللجنة الوطنية لحقوق الإنسان	D	

يتبع مكتب حقوق الإنسان في دولة قطر وزارة :		1.10
الداخلية	A	
الخارجية	B	
البلدية والبيئة	C	
التعليم والتعليم العالي	D	

وثيقة خاصة بحقوق الإنسان لا تضع أي التزامات قانونية :		1.11
العهدان الدوليان	A	
اتفاقية إلغاء العمل الجبري	B	
الإعلان العالمي لحقوق الإنسان	C	
اتفاقية حقوق الأشخاص ذوي الإعاقة	D	

الأسئلة المقالية :-

اجب عن الأسئلة التالية:

السؤال الأول

❖ عدد القوى الدولية التي تنافست على منطقة الخليج العربي .

1. ....
2. ....
3. ....

السؤال الثاني

❖ ما أسباب ضعف النفوذ البرتغالي في الخليج العربي ؟

1. ....
2. ....
3. ....

السؤال الثالث

❖ اذكر اسم الحاكم الذي تم في عهده انتهاء معاهدة 1916 بين بريطانيا وقطر .

- .....
- .....

السؤال الرابع

❖ بم تفسر أهمية الخليج العربي ؟

1. ....
2. ....

السؤال الخامس

❖ وضح ملامح تطور الحياة السياسية في الكويت بعد الاستقلال .

1. ....
2. ....

السؤال السادس

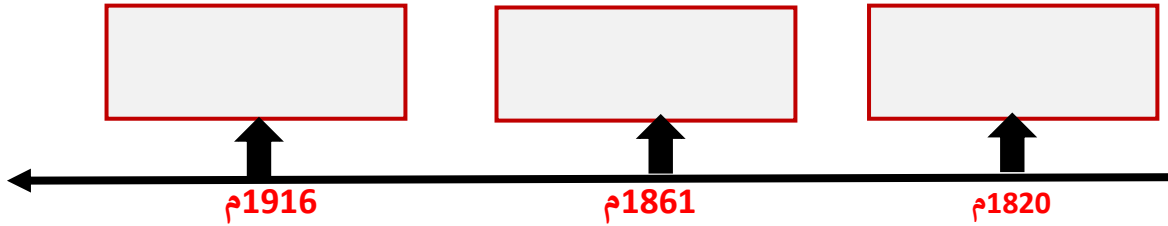
❖ ما أول معاهدة عقدها بريطانيا في منطقة الخليج العربي ؟

1. ....
2. ....

\_\_\_ /3

السؤال السابع

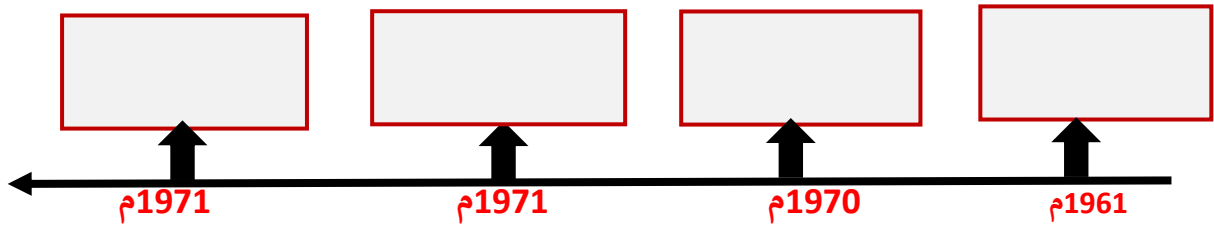
❖ رتب على الخط الزمني المعاهدات التي عقدها بريطانيا مع شيوخ الخليج العربي.  
( معاهدة الحماية مع قطر - المعاهدة العامة - اتفاقية الصداقة )



\_\_\_ /3

السؤال الثامن

❖ رتب على الخط الزمني استقلال دول الخليج العربي.  
( عمان - قطر - البحرين - الكويت )



السؤال التاسع

❖ عرف حقوق الإنسان .

.....  
.....

السؤال العاشر

❖ عدد المصادر الأساسية لحقوق الإنسان .

1. ....
2. ....
3. ....

السؤال الحادي عشر

❖ اذكر بعضاً من الاتفاقيات الدولية المتعلقة بحقوق الإنسان .

1. ....
2. ....

السؤال الثاني عشر

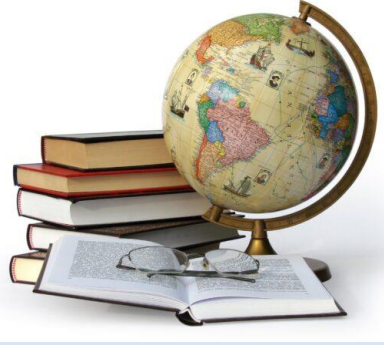
❖ وضح البنود (الحقوق) التي تضمنها الإعلان العالمي لحقوق الإنسان؟

1. ....
2. ....
3. ....



العام الدراسي  
2024-2023

الصف الثامن  
8



# مادة الدراسات الاجتماعية

تدريبات علاجية - واجبات

منهاج منتصف الفصل الدراسي الثاني

اسم الطالب: .....

الصف: الثامن .....

ملحوظة هامة: هذه الأسئلة إثرائية ولا تغني عن الكتاب المدرسي وهو  
المصدر الرئيس للتعلم



الأسبوع الأول من 1 / 7 الي 1 / 11 / 2024  
الوحدة الاولى جغرافيا ( الدرس الأول السياحة)  
من ص ( 12 الي 15 )

تدريبات علاجية - واجبات

اسم الطالب / ..... ( 8 / )

### أولاً : الاختيار من متعدد :

1 - أكثر دول العالم من حيث العائدات السياحية:

- أ - فرنسا  
ب - اسبانيا  
ج - تايلاند  
د - الولايات المتحدة الامريكية
- 2 - أي من الدول التالية تتجاوز عائداتها السياحية 60 مليار دولار أمريكي ؟
- أ - فرنسا  
ب - ايطاليا  
ج - المانيا  
د - اليابان

### ثانياً : الأسئلة المقالية :

أجب عما يلي :

1- قارن بين مفهوم السياحة والسياحة المستدامة :

السياحة المستدامة	السياحة



## 2- ما أهمية السياحة ؟

- 1- .....
- 2- .....
- 3- \_ .....

## 3- وضح الإجراءات والوسائل لتحقيق السياحة المستدامة؟

- 1- .....
- 2- .....
- 3- - .....

## 4- وضح أهداف السياحة المستدامة .

- 1- .....
- 2- .....
- 3- \_ .....



## تدريبات علاجية - واجبات

اسم الطالب / ..... ( 8 / )

الأسبوع الثاني من 14 / 1 الي 18 / 1 / 2024  
الوحدة الاولى جغرافيا ( الدرس الثاني مقومات السياحة)  
من ص ( 21 الي 28 )

### أولاً : الاختيار من متعدد :

1 – أي قارات العالم أكثر استقبلاً للسياحة؟

- أ – أوروبا  
ب – آسيا  
ج – أمريكا الشمالية  
د – أفريقيا

2 -- أي دول العالم الآتية أكثر اجتذاباً للسياحة؟

- أ – فرنسا  
ب – إيطاليا  
ج – تركيا  
د – ألمانيا

3 – تقع مدينة ديزني لاند في :-

- أ – ألمانيا  
ب – المجر  
ج – المكسيك  
د – الولايات المتحدة الأمريكية



## ثانيا : الأسئلة المقالية :

: أجب عما يلي :

1 - اذكر المقومات الطبيعية للسياحة.

- 1 .....
- 2 .....
- 3 .....

2 - عدد المقومات البشرية للسياحة.

- 1 .....
- 2 .....

3 - بم تفسر أهمية المناخ في الحركة السياحية؟

- 1 .....
- 2 .....

4 - وضح أهمية أشكال السطح في ازدهار السياحة؟

- 1 .....
- 2 .....

5- عدد الأماكن الدينية ذات الجذب السياحي؟

- 1 .....
- 2 .....



الأسبوع الثالث من 21 / 1 الي 25 / 1 / 2024  
الوحدة الاولى جغرافيا ( الدرس الثاني مقومات السياحة)  
من ص ( 21 الي 28 )

تدريبات علاجية - واجبات

اسم الطالب /..... ( 8 / )

### أولاً : الاختيار من متعدد :

1- يعتبر قصر الحمراء من المعالم السياحية لـ:

- أ - اسبانيا  
ب - فرنسا  
ج - ايطاليا  
د - الولايات المتحدة الامريكية

2- يوجد برج ايفل في:

- أ - اسبانيا  
ب - فرنسا  
ج - ايطاليا  
د - الولايات المتحدة الامريكية

3- يوجد برج بيزا المائل في:

- أ - اسبانيا  
ب - فرنسا  
ج - ايطاليا  
د - الولايات المتحدة الامريكية

4- أي الدول الآتية يوجد بها مدينة ديزني لاند؟

- أ - اسبانيا  
ب - فرنسا  
ج - ايطاليا  
د - الولايات المتحدة الامريكية

5- الدولة التي تتميز بوجود المحميات الطبيعية والكهوف بها هي ؟

- أ - اليونان  
ب - ايطاليا  
ج - النرويج  
د - المكسيك



## ثانيا : الأسئلة المقالية :

: أجب عما يلي :

1- أعط أمثلة عن اهم المناطق الترفيهية؟

.....

2- اذكر جهود دولة قطر للنهوض بالسياحة.

1- .....

2- .....

3- .....

3- وضح دور الفرد في الحفاظ على المواقع السياحية؟

1- .....

2- .....

3- .....

4- قارن بين كل من فرنسا واسبانيا من حيث المناطق التاريخية؟

وجه المقارنة	فرنسا	اسبانيا
المناطق التاريخية		



الأسبوع الرابع من 1 / 28 الي 1 / 2 / 2024

الوحدة الثانية تاريخ (الدرس الأول التنافس الأوروبي في منطقة الخليج  
العربي) من ص (35 الي 42)

تدريبات علاجية - واجبات

اسم الطالب /..... ( 8 / )

**أولاً : الاختيار من متعدد :**

1- أسبق الدول الأوروبية وصولاً إلى منطقة الخليج العربي:

- أ - البرتغال  
ب - الفرنسيين  
ج - الهولنديون  
د - البريطانيين

2- نجح فاسكو دي جاما في الوصول لطريق رأس الرجاء الصالح عام :

- أ - 1496 م  
ب - 1497 م  
ج - 1498 م  
د - 1499 م

3- تم الاستيلاء على مسقط عام :

- أ - 1507 م  
ب - 1508 م  
ج - 1509 م  
د - 1510 م

4- بدأت المقاومة العربية في عمان ضد الوجود البرتغالي على يد ؟

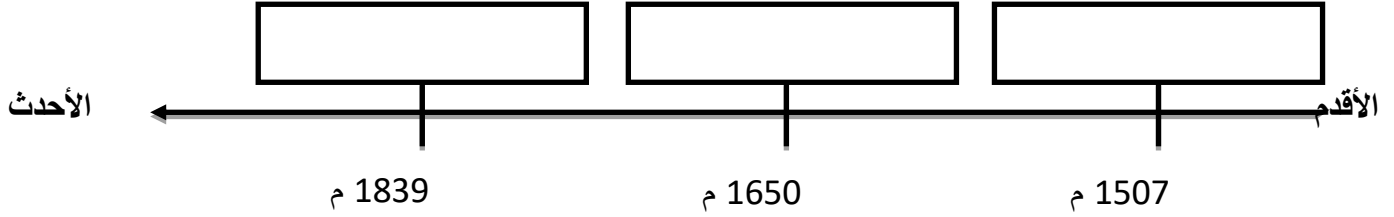
- أ - القواسم  
ب - اليعاربة  
ج - البوسعيد  
د - الوهابيين



## ثانياً : الأسئلة المقالية :

1 -- رتب الأحداث التاريخية الآتية في التنافس الأوروبي في منطقة الخليج العربي ترتيباً زمنياً صحيحاً من الأقدم إلى الأحدث على الخط الزمني التالي:

( احتلال عدن – الاستيلاء على مسقط – انتهاء الوجود البرتغالي )



2 - اذكر القوى التي تنافست في السيطرة على منطقة الخليج العربي؟

- 1 .....
- 2 .....
- 3 .....
- 4 .....

3 – بم تفسر كانت منطقة الخليج العربي محط تنافس القوى الدولية العظمى؟

- 1 .....
- 2 .....
- 3 .....

4 – ما النتائج التي ترتبت على اتجاه البرتغاليون بقيادة الفونسو دي البوكيرك إلي مياه بحر عُمان؟

- 1 .....
- 2 .....
- 3 .....



5 – اذكر عملاً واحداً لكل من :

- 1- فاسكو دي جاما : .....
- 2- ناصر بن مرشد اليعربي : .....

6 – وضح دور الدولة العثمانية في مواجهة الغزو البرتغالي لمنطقة الخليج العربي.

- 1- .....
- 2- .....
- 3- .....

7 – اذكر السياسات التي اتبعتها البرتغاليون في ساحل عمان.

- 1- .....
- 2- .....

8 – وضح دور المقاومة العربية في مواجهة الوجود البرتغالي لمنطقة الخليج العربي؟

- 1- .....
- 2- .....

9 – ما العوامل التي أدت إلى ضعف النفوذ البرتغالي في منطقة الخليج العربي؟

- 1- .....
- 2- .....
- 3- .....



الأسبوع الرابع من 1 / 28 الي 1 / 2 / 2024

الوحدة الثانية تاريخ (الدرس الأول التنافس الأوروبي في منطقة  
الخليج العربي ) من ص ( 35 الي 42 )

تدريبات علاجية - و اجابات

اسم الطالب / ..... ( 8 / )

### أولاً : الاختيار من متعدد :

1- تأسست شركة الهند الشرقية الهولندية عام :

- أ - 1602 م  
ب - 1603 م  
ج - 1604 م  
د - 1605 م

2- أسهمت المقاومة العربية بقيادة الشيخ مهنا بن ناصر في الخليج العربي في طرد:

- أ - البرتغاليين  
ب - الفرنسيين  
ج - الهولنديين  
د - البريطانيين

3- تأسست شركة الهند الشرقية الفرنسية عام :

- أ - 1664 م  
ب - 1665 م  
ج - 1666 م  
د - 1667 م

4 - تأسست شركة الهند الشرقية البريطانية عام :

- أ - 1600 م  
ب - 1601 م  
ج - 1602 م  
د - 1603 م

### ثانياً : الأسئلة المقالية :

1- ما أسباب ضعف النفوذ الهولندي في منطقة الخليج العربي؟

- (1) .....
- (2) .....
- (3) .....

2- بم تفسر لم تتمكن فرنسا من بسط سيطرتها على منطقة الخليج العربي؟

- 1- .....
- 2- .....
- 3- .....



3 - وضح الإجراءات التي اتخذتها بريطانيا لبسط نفوذها في منطقة الخليج العربي؟

- 1- .....
- 2- .....
- 3- .....

4 - قارن بين المعاهدة العامة واتفاقية الصداقة من حيث أطراف كل منهما وبنود كل منهما من خلال الجدول الذي امامك؟

وجه المقارنة	المعاهدة العامة	اتفاقية الصداقة
الأطراف		
البنود		



الأسبوع الخامس من 2 / 4 الي 2 / 8 / 2024

الوحدة الثانية تاريخ (الدرس الثاني استقلال دول الخليج العربي ونشأة حكوماتها )  
من ص ( 49 الي 51 )

## تدريبات علاجية - واجبات

اسم الطالب / ..... ( 8 / )

### أولاً : الاختيار من متعدد :

1- أعلنت بريطانيا انسحابها من منطقة الخليج العربي في موعد أقصاه عام :

- أ - 1971 م  
ب - 1972 م  
ج - 1973 م  
د - 1974 م

2- حصلت الكويت على الاستقلال عام 1961 م في عهد الشيخ :

- أ - عبد الله السالم الصباح  
ب - جابر الأحمد الصباح  
ج - احمد الجابر الصباح  
د - سالم مبارك الصباح

3- أعلنت دولة قطر إنهاء معاهدة 1916 م مع بريطانيا عام :

- أ - 1971 م  
ب - 1972 م  
ج - 1973 م  
د - 1974 م

4- صدر أول دستور قطري في شكل نظام أساسي عام :

- أ - 1971 م  
ب - 1972 م  
ج - 1973 م  
د - 1974 م

### ثانياً : الأسئلة المقالية :

1 - وضح ملامح تطور الحياة السياسية في الكويت بعد الاستقلال؟

1- .....

2- .....

2 - ما النتائج المترتبة على تولي السلطان قابوس بن سعيد الحكم في سلطنة عُمان؟

1- .....

2- .....



3 – بم تفسر اتخاذ بريطانيا قرار الانسحاب من منطقة الخليج العربي؟

- 1- .....
- 2- .....
- 3 - .....

4 – " شهدت دولة قطر في الفترة من عام 1968 م إلي 1971 م تطورات سياسية " ايد بالادلة صحة العبارة السابقة.

- 1- .....
- 2- .....
- 3- .....



الأسبوع السادس والسابع من 11 / 2 الي 22 / 2 / 2024

الوحدة الثالثة المواطنة (الدرس الاول المصادر الأساسية لحقوق الانسان)

من ص ( 60 الي 66 )

تدريبات علاجية - واجبات

اسم الطالب / ..... ( 8 / )

**أولاً : الاختيار من متعدد :**

1 – تم إصدار الإعلان العالمي لحقوق الانسان عام :

ب – 1948 م

أ – 1947 م

د – 1950 م

ج – 1949 م

2 -- تم إصدار الميثاق العربي لحقوق الانسان عام :

ب – 2004 م

أ – 2003 م

د – 2006 م

ج – 2005 م

3 – تم اصدار الاتفاقية العربية لمكافحة غسل الأموال وتمويل الارهاب عام :

ب – 2012 م

أ – 2011 م

د – 2014 م

ج – 2013 م

**ثانياً : الأسئلة المقالية :**

**أجب عما يلي :**

1 - اذكر المصادر الأساسية لحقوق الانسان.

1- .....

2- .....

3- .....



2 – وضع خصائص حقوق الإنسان في الإسلام.

- 1 .....
- 2 .....
- 3 .....

3 – عدد المبادئ الأساسية لحقوق الإنسان؟

- 1 .....
- 2 .....
- 3 .....

4 – اذكر الحقوق التي جاءت في العهد الدولي الخاص بالحقوق المدنية والسياسية ؟

- 1 .....
- 2 .....
- 3 .....

5 – بين الحقوق التي جاءت في العهد الدولي الخاص بالحقوق الاقتصادية والاجتماعية والثقافية ؟

- 1 .....
- 2 .....
- 3 .....

6 – أعط أمثلة على الحقوق التي جاءت في الإعلان العالمي لحقوق الإنسان؟

- 1 .....
- 2 .....
- 3 .....



السلام عليكم ورحمة الله وبركاته  
جميع هذه الملفات الموجودة تم نقلها وتجميعها  
من قبل منتديات صقر الجنوب التعليمية  
نرحب بكم في

[موقع ومنتديات صقر الجنوب التعليمية المنهاج القطري](#)  
ويسعدنا ويشرفنا ان نستمر معكم في تقديم  
كل ما هو جديد للمنهاج المحدثه المطورة ولجميع  
المستويات والمواد  
ملفات نجعلها من كل مكان ونضعها لكم في مكان واحد  
ليسهل تحميلها  
علما ان جميع ما ننشر مجاني 100%

أخي الزائر - أختي الزائرة انا دعمكم لنا هو انمامكم لنا  
فهو شرف كبير لنا  
[صفحتنا على الفيس بوك هنا](#)  
[مجموعتنا على الفيس بوك هنا](#)  
[مجموعتنا على التلقرام هنا](#)  
[قنواتنا على اليوتيوب هنا](#)

جميع ملفاتنا نرفعها على مركز تحميل خاص في [صقر الجنوب](#)

نحن نسعى دائما الى تقديم كل ما هو أفضل لكم و هذا وعد منا ان شاء الله  
شجعونا دائما حتى نواصل في العطاء و [نسال](#) الله ان يوفقنا و يسدد خطانا

في حال واجهتك اي مشكلة في تحميل اي ملف  
من [منتديات صقر الجنوب المنهاج القطري](#)  
[صفحة اتصل بنا](#)







## قنوات تيليجرام منهاج دولة قطر الفصل الأول والثاني محدث

قناة المستوى الثالث

قناة المستوى الثاني

قناة المستوى الأول

قناة المستوى السادس

قناة المستوى الخامس

قناة المستوى الرابع

قناة المستوى التاسع

قناة المستوى الثامن

قناة المستوى السابع

قناة المستوى الثاني عشر

قناة المستوى الحادي عشر

قناة المستوى العاشر



# قنوات اليوتيوب التعليمية للمنهاج القطري من المستوى 01-10

قناة المستوى الثالث

قناة المستوى الثاني

قناة المستوى الأول

قناة المستوى السادس

قناة المستوى الخامس

قناة المستوى الرابع

قناة المستوى التاسع

قناة المستوى الثامن

قناة المستوى السابع

قناة المستوى الثاني عشر

قناة المستوى الحادي عشر

قناة المستوى العاشر



## مجموعات الفيس بوك للمنهاج القطري الفصل الاول والفصل الثاني محدث

### رياض الاطفال

مجموعة المستوى الثالث

مجموعة المستوى الثاني

مجموعة المستوى الأول

مجموعة المستوى السادس

مجموعة المستوى الخامس

مجموعة المستوى الرابع

مجموعة المستوى التاسع

مجموعة المستوى الثامن

مجموعة المستوى السابع

مجموعة المستوى الثاني عشر

مجموعة المستوى الحادي عشر

مجموعة المستوى العاشر

صفحتنا على الفيس بوك



# الهدف الرئيسي لمتدرياته صقر الجنوب

هو

منصة تعليمية مجانية

لهدفنا المنفعة ونشر العلم

نشر العلم مجاناً لكل من يطلبه العلم في جميع أنحاء العالم  
لا ن فرض أي رسوم أو نفقات على العضويات في الموقع

علماً انه مجاني بدون تسجيل عضوية

لنستمر في البقاء ان شاء الله

يمكن ان تساهم في استقرارنا والتخفيف

عنا مصاريف السيرفر والاستضافة

مهما كانت مساهمتك صغيرة أو كبيرة، لها أثر كبير في استمرار

الموقع لتقديم خدماته المجانية من ملفات عربية ومنقولات

من خلال دعمنا على حسابنا الخاص على

[من خلال الضغط هنا PayPal](#)