



السلام عليكم ورحمة الله وبركاته  
جميع هذه الملفات الموجودة تم نقلها وتجميعها  
من قبل منتديات صقر الجنوب التعليمية  
نرحب بكم في

[موقع ومنتديات صقر الجنوب التعليمية المنهاج القطبي](#)  
ويسعدنا ويشرفنا ان نستمر معكم في تقديم  
كل ما هو جديد للمنهاج المحدثه المطورة ولجميع  
المستويات والمواد  
ملفات نجعلها من كل مكان ونضعها لكم في مكان واحد  
ليسهل تحميلها  
علما ان جميع ما ننشر مجاني 100%

أخي الزائر - أختي الزائرة انا دعمكم لنا هو انمامكم لنا  
فهو شرف كبير لنا  
[صفحتنا على الفيس بوك هنا](#)  
[مجموعتنا على الفيس بوك هنا](#)  
[مجموعتنا على التلقرام هنا](#)  
[قنواتنا على اليوتيوب هنا](#)

جميع ملفاتنا نرفعها على مركز تحميل خاص في [صقر الجنوب](#)

نحن نسعى دائما الى تقديم كل ما هو أفضل لكم و هذا وعد منا ان شاء الله  
شجعونا دائما حتى نواصل في العطاء و [نسال](#) الله ان يوفقنا و يسدد خطانا

في حال واجهتك اي مشكلة في تحميل اي ملف  
من [منتديات صقر الجنوب المنهاج القطبي](#)  
[صفحة اتصل بنا](#)







## قنوات تيليجرام منهاج دولة قطر الفصل الأول والثاني محدث

قناة المستوى الثالث

قناة المستوى الثاني

قناة المستوى الأول

قناة المستوى السادس

قناة المستوى الخامس

قناة المستوى الرابع

قناة المستوى التاسع

قناة المستوى الثامن

قناة المستوى السابع

قناة المستوى الثاني عشر

قناة المستوى الحادي عشر

قناة المستوى العاشر



# قنوات اليوتيوب التعليمية للمنهاج القطري من المستوى 01-10

قناة المستوى الثالث

قناة المستوى الثاني

قناة المستوى الأول

قناة المستوى السادس

قناة المستوى الخامس

قناة المستوى الرابع

قناة المستوى التاسع

قناة المستوى الثامن

قناة المستوى السابع

قناة المستوى الثاني عشر

قناة المستوى الحادي عشر

قناة المستوى العاشر



## مجموعات الفيس بوك للمنهاج القطري الفصل الاول والفصل الثاني محدث

### رياض الاطفال

مجموعة المستوى الثالث

مجموعة المستوى الثاني

مجموعة المستوى الأول

مجموعة المستوى السادس

مجموعة المستوى الخامس

مجموعة المستوى الرابع

مجموعة المستوى التاسع

مجموعة المستوى الثامن

مجموعة المستوى السابع

مجموعة المستوى الثاني عشر

مجموعة المستوى الحادي عشر

مجموعة المستوى العاشر

صفحتنا على الفيس بوك



# الهدف الرئيسي لمتدرياته صقر الجنوب

هو

منصة تعليمية مجانية

لهدفنا المنفعة ونشر العلم

نشر العلم مجاناً لكل من يطلبه العلم في جميع أنحاء العالم  
لا ن فرض أي رسوم أو نفقات على العضويات في الموقع

علماً انه مجاني بدون تسجيل عضوية

لنستمر في البقاء ان شاء الله

يمكن ان تساهم في استقرارنا والتخفيف

عنا مصاريف السيرفر والاستضافة

مهما كانت مساهمتك صغيرة أو كبيرة، لها أثر كبير في استمرار  
الموقع لتقديم خدماته المجانية من ملفات عربية ومنقولات

من خلال دعمنا على حسابنا الخاص على

[من خلال الضغط هنا PayPal](#)



واجب منزلي – الفصل الدراسي الثاني – العام الأكاديمي 2025 / 2024 م  
الوحدة الأولى – الجغرافيا (السياحة)

الصف: الثامن ( )

اسم الطالب: .....

السؤال الأول: اختر الإجابة الصحيحة:

1) دولة اسيوية تجاوزت عائداتها 60 مليار دولار امريكي سنة 2018؟

- أ - الصين.
- ب- اليابان.
- ج - ماليزيا.
- د - تايلاند.

2) أي من الدول الاتية بلغت عائداتها السياحية 214 مليار دولار أمريكي:

- أ - فرنسا.
- ب- ايطاليا.
- ج - ماليزيا.
- د - أمريكا .

3) تعتبر من مقومات السياحة التي تؤثر على الخصائص المناخية للدول:

- أ - الأمن.
- ب- الموقع.
- ج - المناخ.
- د - أشكال السطح.

2) أي الدول الأوروبية الآتية يقصدها السياح بسبب تنوع تراثها التاريخي والثقافي؟

- أ - فرنسا.
- ب- ايطاليا.
- ج - إسبانيا.
- د - الولايات المتحدة الأمريكية.



3) أكثر جهات العالم استقبالا للسياح حسب إحصائية منظمة السياحة العالمية لعام 2019 م :

- أ - أمريكا .
- ب- أوروبا .
- ج - إفريقيا .
- د - الشرق الأوسط.

4) " الاستخدام الأمثل للموارد السياحية بما يضمن الحفاظ عليها في المستقبل للأجيال القادمة" يُشير التعريف السابق إلى مفهوم:

- أ - السياحة.
- ب- النقل.
- ج - الهجرة.
- د - السياحة المستدامة.

5) تُعتبر ديزني لاند في ميامي من مناطق السياحة :

- أ - الطبيعية .
- ب- الترفيهية .
- ج - الرياضية .
- د - التاريخية .

6) من أبرز المعالم السياحية في إيطاليا التي يمكنك زيارتها .

- أ - برج إيفل .
- ب- برج بيزا .
- ج - قصر الحمراء .
- د - قمة شامونيه .

السؤال الثاني : أجب عما يلي:



## 1 ( عرف السياحة:

.....  
.....

## 2 ( أكمل مخطط مقومات السياحة ( الطبيعية و البشرية ) .

1 - .....  
2 - .....  
3 - .....

## 3 ( وضح دور السياحة في دعم الاقتصاد الوطني .

1 - .....  
2 - .....  
3 - .....

## 4 ( بين دور الفرد في المحافظة على المواقع السياحية:

1 - .....  
2 - .....  
3 - .....

## 5 ( فسر أهمية تحديد القدرة الاستيعابية للمواقع السياحية .



- 1

- 2

6 ( اقترح السبل والإجراءات المناسبة لتحقيق السياحة المستدامة .

- 1

- 2

- 3

7 ( عدد اهداف السياحة المستدامة : .

- 1

- 2

- 3

8 ( يُسهم الموقع الجغرافي المتميز برواج السياحة ، برهن على ذلك .

- 1

- 2

- 3

9 ( أسهمت المواصلات في نمو حركة السياحة . وضح ذلك؟



..... - 1  
..... - 2

10 ( عدد أنواع المناطق السياحية: .

..... - 1  
..... - 2  
..... - 3

11 ( وضح احتلال فرنسا المرتبة الأولى من حيث عدد السياح.

..... - 1  
..... - 2

12 ( عدد القوى الاستعمارية التي تنافست على منطقة الخليج العربي.

..... - 1  
..... - 2  
..... - 3

13 ( بم تفسر ، كانت البرتغال الأسبق في الوصول الى منطقة الخليج العربي .

.....  
.....



## ورقة عمل ( 1 ) السياحة

التاريخ: 2025 / 1 / 9م

الصف: الثامن / .....

الاسم: .....

السؤال الأول: اختر الإجابة الصحيحة بوضع علامة x في المربع المقابل: -

"الاستخدام الأمثل للموارد السياحية بما يضمن الحفاظ عليها في المستقبل للأجيال القادمة" يشير التعريف السابق الى :

السياحة الموقع اشكال السطح السياحة المستدامة 

" انتقال الفرد من مكان إقامته الى مكان اخر بهدف الترفيه، أو الاكتشاف، أو الاستجمام ، وتكون إقامة مؤقتة" يشير التعريف السابق الى:

المناخ السياحة البنية التحتية السياحة المستدامة 

أكثر دول العالم من حيث العائدات السياحية:

فرنسا إسبانيا تايلاند الولايات المتحدة الأمريكية 

أي من الدول التالية تتجاوز عائداتها السياحية 60 مليار دولار أمريكي:

فرنسا ألمانيا إيطاليا اليابان 

انتهت الأسئلة

بالتوفيق والسداد



أي مما يلي يعد من أهداف السياحة المستدامة:

ب

إدامة رضا السائح

مصدرا للدخل القومي

اهمال المحميات الطبيعية

التخطيط العشوائي للسياحة

تتعدد إجراءات تحقيق السياحة المستدامة ومنها:

ب

حسن معاملة السياح

إنشاء وزارة لحماية البيئة

سن القوانين لحماية البيئة

الاهتمام بالزراعة والصناعة

2- بين أهمية السياحة ودورها في دعم الاقتصاد الوطني .

- .....
- .....
- .....

3- عدد اهداف السياحة المستدامة.

- .....
- .....
- .....

4 – عدد الإجراءات والوسائل لتحقيق السياحة المستدامة.

- .....
- .....
- .....

انتهت الأسئلة

بالتوفيق والسداد



## ورقة عمل ( 2 ) السياحة

الاسم: ..... الصف: الثامن / ..... التاريخ: 2025 / 1 / 26م

السؤال الأول: اختر الإجابة الصحيحة بوضع علامة x في المربع المقابل: -

من المقومات الطبيعية للسياحة:

الأمن

النقل

الموقع

الخدمات

تتمثل المقومات البشرية للسياحة في:

تنوع السطح

اعتدال المناخ

الموقع المتميز

الأماكن التاريخية

أكثر قارات العالم استقبالا للسياح:

اسيا

أوروبا

إفريقيا

استراليا

انتهت الأسئلة

بالتوفيق والسداد



من جهود دولة قطر للنهوض بالسياحة:

اهمال المواقع الأثرية

عدم تطوير شبكة النقل

بناء الفنادق الصغيرة

الاستفادة من الفعاليات الرياضية

تعتبر مدينة ديزني في الولايات المتحدة من الأماكن:

الدينية

التاريخية

الثقافية

الترفيهية

من أدوار الفرد في المحافظة على المواقع السياحية

لمس الآثار والكتابة عليها

توسيح المناطق السياحية

خرق القوانين

إبلاغ الجهات الأمنية عن أي مخالفات

الدولة الأكثر اجتذاباً للسياح:

الصين

فرنسا

بريطانيا

المكسيك

انتهت الأسئلة

بالتوفيق والسداد

**2- عدد المقومات الطبيعية للسياحة.**

- .....
- .....
- .....

**3- عدد المقومات البشرية للسياحة.**

- .....
- .....
- .....

**4- بين جهود دولة قطر للنهوض بالسياحة.**

- .....
- .....
- .....

**5- وضح دور الفرد في المحافظة على المواقع السياحية.**

- .....
- .....
- .....

انتهت الأسئلة

بالتوفيق والسداد



## ورقة عمل 1 التنافس الأوروبي في منطقة الخليج العربي

الاسم: ..... الصف: الثامن / ..... التاريخ: 2025 / 01 / 29

## السؤال الأول: اختر الإجابة الصحيحة بوضع علامة x في المربع المقابل: -

أول دولة أوروبية استعمارية وصلت إلى منطقة الخليج العربي هي ؟

فرنسا

هولندا

البرتغال

بريطانيا

ب طرد الشيخ منها بن ناصر القاسمي من منطقة الخليج العربي:

الفرنسيين

البرتغاليين

الهولنديين

البريطانيين

3- اذكر القوى الأوروبية الدولية التي تنافست على منطقة الخليج العربي.

- .....
- .....
- .....

انتهت الأسئلة

بالتوفيق والسداد



## ورقة عمل 2 التنافس الأوروبي في منطقة الخليج العربي

الاسم: ..... الصف: الثامن/ ..... التاريخ: 2025 / 01 / 30

السؤال الأول: اختر الإجابة الصحيحة بوضع علامة x في المربع المقابل: -

وقعت بريطانيا معاهدة عام 1868م مع :

أ

قطر الكويت مسقط البحرين 

صدر أول دستور قطري عام 1970م في عهد الشيخ

ب

جاسم بن محمد آل ثاني حمد بن خليفة آل ثاني علي بن عبد الله آل ثاني أحمد بن علي آل ثاني 

3- عدد الإجراءات التي قامت بها بريطانيا للسيطرة على منطقة الخليج العربي؟

- ..... •
- ..... •
- ..... •

4- ما العوامل التي أدت إلى ضعف النفوذ البرتغالي في الخليج العربي وانهيائه.

- ..... •
- ..... •
- ..... •

انتهت الأسئلة

بالتوفيق والسداد



## ورقة عمل ( 3 ) التنافس الأوروبي في منطقة الخليج العربي

الاسم: ..... الصف: الثامن / ..... التاريخ: 2025 / 02 / 2م

السؤال الأول: اختر الإجابة الصحيحة بوضع علامة  في المربع المقابل: -

من القبائل العربية التي تصدت للاستعمار البرتغالي:

أ العتوب اليعارية القواسم الجاهلية 

قاد المقاومة العربية ضد النفوذ البرتغالي ونجح في إنهاءه عام 1650م:

ب عبدالله السالم احمد بن سعيد مهنا بن ناصر القاسمي ناصر بن مرشد اليعربي 

## السؤال الثاني : أكمل الفراغ في ما يلي :

1- أسبق الدول الاستعمارية وصولا الى منطقة الخليج العربي .....

2- حصلت قطر علي الاستقلال في عهد الشيخ .....

3- تصدت للاستعمار البرتغالي قبائل .....

4- حصلت الكويت علي الاستقلال في عهد الشيخ .....



## ورقة عمل ( 4 ) التنافس الأوروبي في منطقة الخليج العربي

الاسم: ..... الصف: الثامن / ..... التاريخ: 2025 / 02 / 3م

**1-رتب المعاهدات والاتفاقيات البريطانية مع حكام وشيوخ منطقة الخليج العربي من الأقدم إلى الأحدث:**

( اتفاقية الصداقة - معاهدة الحماية مع الكويت - المعاهدة العامة - معاهدة الحماية مع قطر )

--	--	--	--

**2- ما العوامل التي أدت إلى ضعف البرتغاليون في الخليج العربي.**

- .....
- .....
- .....

**3. وضح أسباب انسحاب بريطانيا من منطقة الخليج العربي.**

- .....
- .....
- .....

**4-رتب استقلال دول الخليج العربية التالية من الأقدم إلى الأحدث:**

( قطر - الكويت - الإمارات - البحرين )

--	--	--	--

انتهت الأسئلة

بالتوفيق والسداد



## ورقة عمل (1) السياحة

التاريخ: 2025 / 1 / 9م

الصف: الثامن / .....

الاسم: .....

السؤال الأول: اختر الإجابة الصحيحة بوضع علامة x في المربع المقابل: -

"الاستخدام الأمثل للموارد السياحية بما يضمن الحفاظ عليها في المستقبل للأجيال القادمة" يشير التعريف السابق الى :

السياحة الموقع اشكال السطح السياحة المستدامة 

" انتقال الفرد من مكان إقامته الى مكان اخر بهدف الترفيه، أو الاكتشاف، أو الاستجمام ، وتكون إقامة مؤقتة" يشير التعريف السابق الى:

المناخ السياحة البنية التحتية السياحة المستدامة 

أكثر دول العالم من حيث العائدات السياحية:

فرنسا إسبانيا تايلاند الولايات المتحدة الأمريكية 

أي من الدول التالية تتجاوز عائداتها السياحية 60 مليار دولار أمريكي:

فرنسا ألمانيا إيطاليا اليابان 

انتهت الأسئلة

بالتوفيق والسداد



أي مما يلي يعد من أهداف السياحة المستدامة:

ب

**إدامة رضا السائح**

مصدرا للدخل القومي

اهمال المحميات الطبيعية

التخطيط العشوائي للسياحة

تتعدد إجراءات تحقيق السياحة المستدامة ومنها:

ب

حسن معاملة السياح

إنشاء وزارة لحماية البيئة

**سن القوانين لحماية البيئة**

الاهتمام بالزراعة والصناعة

2- بين أهمية السياحة ودورها في دعم الاقتصاد الوطني .

• مصدر للدخل القومي

• فرص عمل للسكان

• وسيلة للتبادل الثقافي

3- عدد اهداف السياحة المستدامة.

• أ-صيانة الموارد الطبيعية

• ب-التخطيط العلمي

• ج-أدامة رضا السائح

4 – عدد الإجراءات والوسائل لتحقيق السياحة المستدامة.

• سن القوانين والتشريعات ذات العلاقة بحماية البيئة

• تنظيم حركة السياح

• تحديد القدرة الاستيعابية للمواقع السياحية

انتهت الأسئلة

بالتوفيق والسداد



## ورقة عمل ( 2 ) السياحة

التاريخ: 2025 / 1 / 26م

الصف: الثامن / .....

الاسم: .....

السؤال الأول: اختر الإجابة الصحيحة بوضع علامة x في المربع المقابل: -

من المقومات الطبيعية للسياحة:

الأمن النقل الموقع الخدمات 

تتمثل المقومات البشرية للسياحة في:

تنوع السطح اعتدال المناخ الموقع المتميز الأماكن التاريخية 

أكثر قارات العالم استقبالا للسياح:

آسيا أوروبا إفريقيا أستراليا 

انتهت الأسئلة

بالتوفيق والسداد



من جهود دولة قطر للنهوض بالسياحة:

اهمال المواقع الأثرية

عدم تطوير شبكة النقل

بناء الفنادق الصغيرة

**الاستفادة من الفعاليات الرياضية**

تعتبر مدينة ديزني في الولايات المتحدة من الأماكن:

الدينية

التاريخية

الثقافية

**الترفيهية**

من أدوار الفرد في المحافظة على المواقع السياحية

لمس الآثار والكتابة عليها

توسيح المناطق السياحية

خرق القوانين

**إبلاغ الجهات الأمنية عن أي مخالفات**

الدولة الأكثر اجتذاباً للسياح:

الصين

**فرنسا**

بريطانيا

المكسيك

انتهت الأسئلة

بالتوفيق والسداد



## 2- عدد المقومات الطبيعية للسياحة.

• أ-الموقع

• ب-المناخ

• ج-أشكال السطح

## 3- عدد المقومات البشرية للسياحة.

• أ-الأماكن الدينية والتاريخية

• ب-البنية التحتية وتوفر الخدمات

• ج-الأمن والاستقرار السياسي

## 4- بين جهود دولة قطر للنهوض بالسياحة.

• الاستفادة من الفعاليات الرياضية الكبرى.

• الاهتمام بتطوير المواقع الاثرية

• ج- بناء المتاحف المختلفة والفنادق الكبرى

## 5- وضح دور الفرد في المحافظة على المواقع السياحية.

• التقيد بالقوانين والأنظمة

• المحافظة على الآثار وعدم الكتابة عليها

• إبلاغ الأجهزة الأمنية عن أي مخالفات في المواقع السياحية



## ورقة عمل 1 التنافس الأوروبي في منطقة الخليج العربي

الاسم: ..... الصف: الثامن / ..... التاريخ: 2025 / 01 / 29

السؤال الأول: اختر الإجابة الصحيحة بوضع علامة x في المربع المقابل: -

أول دولة أوروبية استعمارية وصلت إلى منطقة الخليج العربي هي ؟

أ

فرنسا

هولندا

البرتغال

بريطانيا

ب طرد الشيخ منها بن ناصر القاسمي من منطقة الخليج العربي:

ب

الفرنسيين

البرتغاليين

الهولنديين

البريطانيين

3- اذكر القوى الأوروبية الدولية التي تنافست على منطقة الخليج العربي.

أ. بريطانيا

ب. هولندا

ج. فرنسا

د. بريطانيا



## ورقة عمل 2 التنافس الأوروبي في منطقة الخليج العربي

الاسم: ..... الصف: الثامن/ ..... التاريخ: 2025 / 01 / 30

السؤال الأول: اختر الإجابة الصحيحة بوضع علامة x في المربع المقابل: -

وقعت بريطانيا معاهدة عام 1868م مع :

- أ
- قطر
- الكويت
- مسقط
- البحرين

صدر أول دستور قطري عام 1970م في عهد الشيخ

- ب
- جاسم بن محمد آل ثاني
- حمد بن خليفة آل ثاني
- علي بن عبد الله آل ثاني
- أحمد بن علي آل ثاني

3- عدد الإجراءات التي قامت بها بريطانيا للسيطرة على منطقة الخليج العربي؟

- احتلال جزيرة بريم
- القضاء على قبيلة القواسم البحري
- احتلال جزيرة سوقطرة وميناء عدن
- عقد المعاهدات والاتفاقيات مع حكام وشيوخ الخليج العربي

4- ما العوامل التي أدت إلى ضعف النفوذ البرتغالي في الخليج العربي وانهيائه.

- المقاومة العربية
- تعاون وتحالف بعض الدول ضد البرتغال
- السياسة البرتغالية التي اتسمت بالقسوة والتعصب

انتهت الأسئلة

بالتوفيق والسداد



## ورقة عمل ( 3 ) التنافس الأوروبي في منطقة الخليج العربي

الاسم: ..... الصف: الثامن / ..... التاريخ: 2025 / 02 / 2م

## السؤال الأول: اختر الإجابة الصحيحة بوضع علامة x في المربع المقابل: -

من القبائل العربية التي تصدت للاستعمار البرتغالي:

أ

العتوب اليعاربة القواسم الجاهلية 

قاد المقاومة العربية ضد النفوذ البرتغالي ونجح في إنهاءه عام 1650م:

ب

عبدالله السالم احمد بن سعيد مهنا بن ناصر القاسمي ناصر بن مرشد اليعربي 

## السؤال الثاني : أكمل الفراغ في ما يلي :

1- أسبق الدول الاستعمارية وصولا الى منطقة الخليج العربي البرتغال

2- حصلت قطر علي الاستقلال في عهد الشيخ الشيخ احمد بن علي ال ثاني

3- تصدت للاستعمار البرتغالي قبائل اليعاربة

4- حصلت الكويت علي الاستقلال في عهد الشيخ الشيخ عبد الله السالم الصباح



## ورقة عمل ( 4 ) التنافس الأوروبي في منطقة الخليج العربي

الاسم: ..... الصف: الثامن / ..... التاريخ: 2025 / 02 / 3م

## 1- رتب المعاهدات والاتفاقيات البريطانية مع حكام وشيوخ منطقة الخليج العربي من الأقدم إلى الأحدث:

( اتفاقية الصداقة - معاهدة الحماية مع الكويت - المعاهدة العامة - معاهدة الحماية مع قطر )

4- معاهدة الحماية  
مع قطر3- معاهدة الحماية  
مع الكويت2- اتفاقية  
الصداقة1- المعاهدة  
العامة

## 2- ما العوامل التي أدت إلى ضعف البرتغاليون في الخليج العربي.

• المقاومة العربية

• تحالف القوى الدولية ضد البرتغال

• السياسة البرتغالية الظالمة مع العرب

## 3. وضح أسباب انسحاب بريطانيا من منطقة الخليج العربي.

• ظهور الولايات المتحدة.

• انتشار الأفكار المعادية للاستعمار

• تدهور قوة بريطانيا الاقتصادية بعد الحرب العالمية الثانية.

## 4- رتب استقلال دول الخليج العربية التالية من الأقدم إلى الأحدث:

( قطر - الكويت - الإمارات - البحرين )

4- الإمارات

3- قطر

2- البحرين

1- الكويت

انتهت الأسئلة

بالتوفيق والسداد

# حل أسئلة الدررس الثاني

ص 30 الى ص 31

السؤال الأول: اختر الإجابة الصحيحة من بين البدائل الآتية:

ثانياً:  
التدريبات

1- من المقومات الطبيعية للسياحة:

- أ- الأمن.
- ب- النقل.
- ج- الموقع.
- د- الخدمات.

2- تتمثل المقومات البشرية للسياحة في:

- أ- تنوع المسطح.
- ب- اعتدال المناخ.
- ج- الموقع المتميز.
- د- الأماكن التاريخية.

3- الدولة الأكثر اجتذاباً للسياح:

- أ- الصين.
- ب- فرنسا.
- ج- بريطانيا.
- د- المكسيك.

4- أكثر قارات العالم استقبالية للسياح:

- أ- آسيا.
- ب- أوروبا.
- ج- إفريقيا.
- د- استراليا.



أعلى فرنسا المرتبة الأولى بين الدول الأكثر زيارة على المستوى العالمي.

ضم 38 موقع تراث عالمي  
ضم 1200 متحف ثقافي تاريخي

عدد إسبانيا أعداد كبيرة من المساجد.

40 موقع تراث عالمي

وقال الثالث: أجب عن الأسئلة الآتية:

تبيح العلاقة بين الاستقرار الأمني وقيام السياحة.

**حل الأمن والاستقرار وجدت أنشطة الترفيه والاستجمام والاستكشاف**

دور الفرد في المحافظة على المواقع الأثرية؟

**د بالقوانين والأنظمة عند زيارة المواقع السياحية  
تزام بالمحافظة على نظافة المواقع السياحية  
حافضة على الاثار وعدم الكتابة عليها**

الرابع: تبذل دولة قطر جهودًا كبيرة لتنمية النشاط السياحي، ووضّح ذلك،

ستفادة من الفعاليات الرياضية الكبرى  
هتتمام بتطوير المواقع الاثرية من خلال الترميم والصيانة  
و المتاحف المختلفة والفنادق الكبرى والمخيمات

التاريخ:- / 1 / 2025 م  
الصف :- الثامن / .....

المادة:- الدراسات الاجتماعية ( التعلم بالأهداف – السياحة )  
اسم الطالب :- .....

أجب عما يلي: -

- اختر الإجابة الصحيحة بوضع علامة  في المربع المقابل لها: -

" انتقال الافراد من مكان الى اخر بهدف الترفيه او الاكتشاف او الاستجمام "، يشير المفهوم السابق الى:

أ

الهجرة.

السياحة .

السياحة المستدامة .

التنمية المستدامة .

"الاستخدام الأمثل للموارد السياحية بما يضمن الحفاظ عليها في المستقبل للأجيال القادمة " يشير المفهوم السابق الى:

ب

الاستدامة .

السياحة المستقبلية .

السياحة المستدامة .

السياحة العالمية .

اكثر دول العالم من حيث العائدات السياحية لعام 2018 م :

ب

فرنسا .

الصين .

إسبانيا .

الولايات المتحدة الامريكية .

رؤية الوزارة: متعلم ريادي لتنمية مستدامة

رسالة الوزارة: تُرسي بيئة تعليمية شاملة ومبتكرة لتعزيز القيم والأخلاق وتؤهل المتعلم بمهارات عالية؛ لإعداد جيلٍ واعٍ قادرٍ على بناء مجتمع متقدم واقتصاد مزدهر

التاريخ:- / 1 / 2025 م  
الصف :- الثامن / .....

المادة:- الدراسات الاجتماعية ( التعلم بالأهداف - السياحة )  
اسم الطالب :- .....

ج اي من الدول الاتيه تتجاوز عائدتها السياحة 60 مليار دولار أمريكي :

المانيا .

فرنسا .

استراليا .

الولايات المتحدة الامريكية.

د " تتبع للأمم المتحدة تهتم بشؤون الدول السياحية وتصدر الإحصاءات المتعلقة  
بالطلب والعرض السياحي على المستوى العالمي و مقرها في مدير " يشير المفهوم  
السابق الى :

منظمة السياحة العالمية .

منظمة الصحة العالمية .

منظمة الثقافة العالمية .

منظمة السلام العالمية .



1- دلل على أهمية السياحة في دعم الاقتصاد الوطني ؟ .

رؤية الوزارة: متعلم ريادي لتنمية مستدامة

رسالة الوزارة: نرسى بيئة تعليمية شاملة ومبتكرة لتعزيز القيم والأخلاق وتؤهل المتعلم بمهارات عالية؛ لإعداد جيل واعٍ قادر على بناء مجتمع متقدم واقتصاد مزدهر



التاريخ:- / 1 / 2025 م  
الصف :- الثامن / .....

المادة:- الدراسات الاجتماعية ( التعلم بالأهداف – السياحة )  
اسم الطالب :- .....

---

---

---

- 
- 
- 

## 2- اذكر أسماء ثلاثة أعلى دول من حيث العائدات السياحية .



---

---

---

- 
- 
- 

## 3- عدد اهداف السياحة المستدامة :

---

---

---

- 
- 
- 

## 4- وضع إجراءات تحقيق السياحة المستدامة :

---

---

---

- 
- 
- 
- 

## 5- فسر أهمية تحديد القدرة الاستيعابية للمواقع السياحية "



---

---

- 
- 

رؤية الوزارة: متعلم ريادي لتنمية مستدامة

رسالة الوزارة: تُرسي بيئة تعليمية شاملة ومبتكرة لتعزيز القيم والأخلاق وتؤهل المتعلم بمهارات عالية؛ لإعداد جيلٍ واعٍ قادرٍ على بناء مجتمع متقدم واقتصاد مزدهر



التاريخ	الوحدة الاولى جغرافيا ( الدرس الأول السياحة) من ص ( 12 الي 15 )	الأسبوع
1 / 9 الي 1 / 6 2025 /	الوحدة الاولى جغرافيا ( الدرس الأول السياحة) من ص ( 12 الي 15 )	1

تعليمات  
اختر الإجابة الصحيحة لكل من الأسئلة من 1 إلى 2 وذلك بوضع علامة X داخل المربع المجاور للإجابة الصحيحة.

أكثر دول العالم من حيث العائدات السياحية:

1

فرنسا

اسبانيا

تايلاند

الولايات المتحدة الامريكية

أي من الدول التالية تتجاوز عائداتها السياحية 214 مليار دولار أمريكي ؟

2

فرنسا

اسبانيا

تايلاند

الولايات المتحدة الامريكية



عند الإجابة على الأسئلة من 03 إلى 05، اكتب إجابتك في الفراغ المخصص للإجابة:

تعليمات

3

أ- ما أهمية السياحة؟

الإجابة

- ..... -1  
..... -2  
..... -3

ب - وضح الإجراءات والوسائل لتحقيق السياحة المستدامة؟

الإجابة

- ..... -1  
..... -2  
..... -3



تعليمات

عند الإجابة على الأسئلة من 3 إلى 4 اكتب إجابتك في الفراغ المخصص للإجابة:

4

أ - وضح أهداف السياحة المستدامة .

الإجابة

- 1- .....
- 2- .....
- 3- .....

ب - قارن بين مفهوم السياحة والسياحة المستدامة :

الإجابة

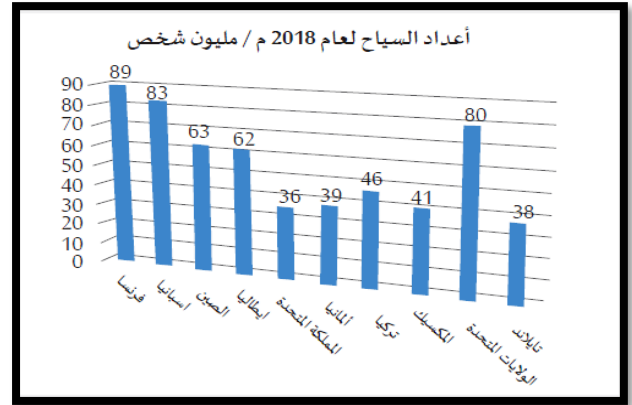
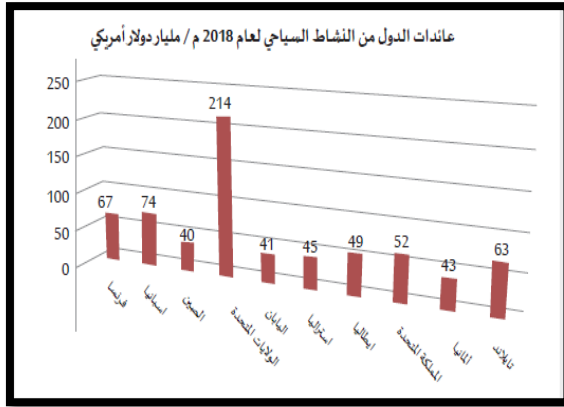
السياحة المستدامة	السياحة



5

أ حلل الاشكال البيانية التالية

- 1- اذكر ثاني دول العالم في الجذب السياحي .....
- 2- اذكر اولي دول العالم في الايرادات السياحية .....





التاريخ	الوحدة الاولى جغرافيا ( الدرس الأول السياحة) من ص ( 21 الي 28 )	الأسبوع
الأسبوع الثاني من 12 / 1 الي 16 / 2025 / 1	الوحدة الاولى جغرافيا ( الدرس الأول السياحة) من ص ( 21 الي 28 )	2

تعليمات  
اختر الإجابة الصحيحة لكل من الأسئلة من 1 إلى 3 وذلك بوضع علامة X داخل المربع  
المجاور للإجابة الصحيحة.

1 أي قارات العالم أكثر استقبلاً للسياحة؟

- أوروبا
- اسيا
- افريقيا
- أمريكا الشمالية

2 أي دول العالم الآتية أكثر اجتذاباً للسياحة؟

- فرنسا
- اسبانيا
- تايلاند
- الولايات المتحدة الامريكية

3 تقع مدينة ديزني لاند في:-

- فرنسا
- اسبانيا
- تايلاند
- الولايات المتحدة الامريكية



عند الإجابة على الأسئلة من 04 إلى 05، اكتب إجابتك في الفراغ المخصص للإجابة:

تعليمات

		4
أ- اذكر المقومات الطبيعية للسياحة.		
الإجابة		
..... -1		
..... -2		
..... -3		
ب- عدد المقومات البشرية للسياحة.		
الإجابة		
..... -1		
..... -2		
..... -3		
ج- عدد الأماكن الدينية ذات الجذب السياحي؟		
الإجابة		
..... -1		
..... -2		
..... -3		



عند الإجابة على الأسئلة من 04 إلى 05، اكتب إجابتك في الفراغ المخصص للإجابة:

تعليمات

5

أ - قارن بين أهمية المناخ وأشكال السطح في ازدهار السياحة :

الإجابة

أشكال السطح	أهمية المناخ



التاريخ	الوحدة الاولى جغرافيا ( الدرس الأول السياحة) من ص ( 21 الي 28 )	الأسبوع
الأسبوع الثالث من 1 / 19 الي 23 2025 / 1 /	الوحدة الاولى جغرافيا ( الدرس الأول السياحة) من ص ( 21 الي 28 )	3

اختر الإجابة الصحيحة لكل من الأسئلة من 1 إلى 5 وذلك بوضع علامة X داخل المربع المجاور للإجابة الصحيحة.

تعليمات

اختر الإجابة الصحيحة لكل من الأسئلة من 1 إلى 5 وذلك بوضع علامة X داخل المربع المجاور للإجابة الصحيحة.

تعليمات

يعتبر قصر الحمراء من المعالم السياحية لـ:

1

فرنسا

اسبانيا

تايلاند

الولايات المتحدة الامريكية

يوجد برج ايفل في:

2

فرنسا

اسبانيا

تايلاند

الولايات المتحدة الامريكية



3

يوجد برج بيزا المائل في:

- فرنسا
- ايطاليا
- افريقيا
- أمريكا الشمالية

4

أي الدول الآتية يوجد بها مدينة ديزني لاند؟

- فرنسا
- اسبانيا
- تايلاند
- الولايات المتحدة الأمريكية

5

الدولة التي تتميز بوجود المحميات الطبيعية والكهوف بها هي ؟

- اليونان
- ايطاليا
- النرويج
- المكسيك



تعليمات

عند الإجابة على الأسئلة من 06 إلى 07، اكتب إجابتك في الفراغ المخصص للإجابة:

		6
أ - أعط أمثلة عن اهم المناطق الترفيهية؟		
الإجابة		
	1- .....	
	2- .....	
	3- .....	
ب اذكر جهود دولة قطر للنهوض بالسياحة.		
الإجابة		
	1- .....	
	2- .....	
	3- .....	



7

أ - وضح دور الفرد في الحفاظ على المواقع السياحية؟

الإجابة

- 1- .....
- 2- .....
- 3- .....

ب - قارن بين كل من فرنسا واسبانيا من حيث المناطق التاريخية؟

الإجابة

اسبانيا	فرنسا



التاريخ	الوحدة الثانية تاريخ (الدرس الأول التنافس الأوروبي في منطقة الخليج العربي) من ص (35 الي 42)	الأسبوع
الأسبوع الرابع من 1 / 26 الي 30 2025 / 2 /	الوحدة الثانية تاريخ (الدرس الأول التنافس الأوروبي في منطقة الخليج العربي) من ص (35 الي 42)	4

تعليمات  
اختر الإجابة الصحيحة لكل من الأسئلة من 1 إلى 3 وذلك بوضع علامة X داخل المربع المجاور للإجابة الصحيحة.

1 أسبق الدول الأوروبية وصولاً إلى منطقة الخليج العربي:

- البرتغال  
 الهولنديون  
 الفرنسيين  
 البريطانيين

2 نجح فاسكو دي جاما في الوصول لطريق رأس الرجاء الصالح عام :

- 1496 م  
 1497 م  
 1498 م  
 1499 م



تم الاستيلاء على مسقط عام :

3

1507 م

1508 م

1509 م

1510 م

بدأت المقاومة العربية في عمان ضد الوجود البرتغالي على يد ؟

4

القواسم

البوسعيد

اليعاربة

الوهايين



تعليمات

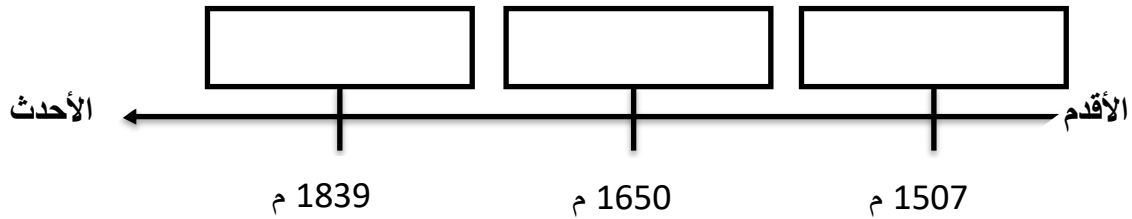
عند الإجابة على الأسئلة من 05 إلى 07، اكتب إجابتك في الفراغ المخصص للإجابة:

5

أ - عد أ - رتب الأحداث التاريخية الآتية في التنافس الأوروبي في منطقة الخليج العربي ترتيباً زمنياً صحيحاً من الأقدم إلى الأحدث على الخط الزمني التالي:

الإجابة

(احتلال عدن - الاستيلاء على مسقط - انتهاء الوجود البرتغالي)



ب - اذكر القوى التي تنافست في السيطرة على منطقة الخليج العربي؟

الإجابة

1- .....

2- .....

3- .....



6

أ - \_ بم تفسر كانت منطقة الخليج العربي محط تنافس القوى الدولية العظمى؟

الإجابة

- 1 .....
- 2 .....
- 3 .....

ب - ما العوامل التي أدت إلى ضعف النفوذ البرتغالي في منطقة الخليج العربي؟

الإجابة

- 1 .....
- 2 .....
- 3 .....

ج - وضح دور المقاومة العربية في مواجهة الوجود البرتغالي لمنطقة الخليج العربي؟

الإجابة

- 1 .....
- 2 .....
- 3 .....



		7
أ - ما النتائج التي ترتبت على اتجاه البرتغاليون بقيادة الفونسو دي البوكيرك إلى مياه بحر عُمان؟		
الإجابة		
1- .....		
2- .....		
3- .....		
ب - اذكر عملاً واحداً لكل من :		
1- فاسكو دي جاما : .....		
2- ناصر بن مرشد اليعربي : .....		



التاريخ	الوحدة الثانية تاريخ (الدرس الأول التنافس الأوروبي في منطقة الخليج العربي) من ص (35 الي 42)	الأسبوع
الأسبوع الخامس من 2 / 2 الي 6 / 2025 / 2	الوحدة الثانية تاريخ (الدرس الأول التنافس الأوروبي في منطقة الخليج العربي) من ص (35 الي 42)	5

تعليمات  
اختر الإجابة الصحيحة لكل من الأسئلة من 1 إلى 4 وذلك بوضع علامة X داخل المربع المجاور للإجابة الصحيحة.

تأسست شركة الهند الشرقية الهولندية عام :

1

1602 م

1603 م

1604 م

1605 م

أسهمت المقاومة العربية بقيادة الشيخ مهنا بن ناصر في الخليج العربي في طرد

2

البرتغاليين

الهولنديين

الفرنسيين

البريطانيين



تأسست شركة الهند الشرقية الفرنسية عام :

3

1664 م

1665 م

1666 م

1667 م

تأسست شركة الهند الشرقية البريطانية عام :

4

1600 م

1601 م

1602 م

1603 م



تعليمات

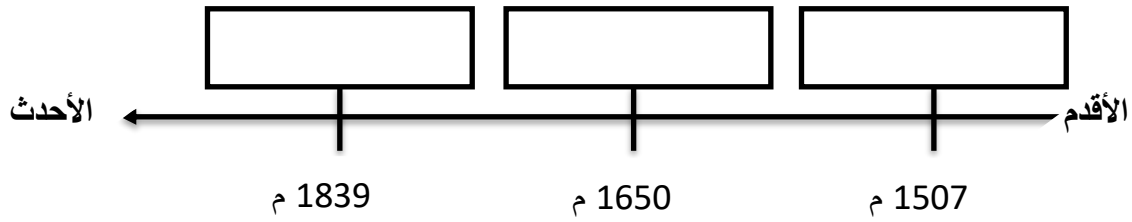
عند الإجابة على الأسئلة من 05 إلى 07، اكتب إجابتك في الفراغ المخصص للإجابة:

5

أ - عد أ - رتب الأحداث التاريخية الآتية في التنافس الأوروبي في منطقة الخليج العربي ترتيباً زمنياً صحيحاً من الأقدم إلى الأحدث على الخط الزمني التالي:

الإجابة

(احتلال عدن - الاستيلاء على مسقط - انتهاء الوجود البرتغالي)



ب - ما أسباب ضعف النفوذ الهولندي في منطقة الخليج العربي؟

الإجابة

1- .....

2- .....

3- .....



6

أ - بم تفسر لم تتمكن فرنسا من بسط سيطرتها على منطقة الخليج العربي؟

الإجابة

- 1 .....
- 2 .....
- 3 .....

ب - ما العوامل التي أدت إلى ضعف النفوذ البرتغالي في منطقة الخليج العربي؟

الإجابة

- 1 .....
- 2 .....
- 3 .....

ج - وضح الإجراءات التي اتخذتها بريطانيا لبسط نفوذها في منطقة الخليج العربي؟؟

الإجابة

- 1 .....
- 2 .....
- 3 .....



7

أ - قارن بين المعاهدة العامة واتفاقية الصداقة من حيث أطراف كل منهما وبنود كل منهما من خلال الجدول الذي امامك؟

وجه المقارنة	المعاهدة العامة	اتفاقية الصداقة
الأطراف		
البنود		



التاريخ	الوحدة الثانية تاريخ (الدرس الثاني استقلال دول الخليج العربي ونشأة حكوماتها ) من ص ( 49 الي 51 )	الأسبوع
الأسبوع السادس من 9 / 2 الي 13 / 2 / 2025	الوحدة الثانية تاريخ (الدرس الثاني استقلال دول الخليج العربي ونشأة حكوماتها ) من ص ( 49 الي 51 )	6

تعليمات  
اختر الإجابة الصحيحة لكل من الأسئلة من 1 إلى 4 وذلك بوضع علامة X داخل المربع المجاور للإجابة الصحيحة.

أعلنت بريطانيا انسحابها من منطقة الخليج العربي في موعد أقصاه عام :

1

1971 م

1972 م

1973 م

1974 م

حصلت الكويت على الاستقلال عام 1961 م في عهد الشيخ :

2

عبد الله السالم الصباح

جابر الأحمد آل صباح

احمد الجابر آل صباح

سالم مبارك آل صباح



أعلنت دولة قطر إنهاء معاهدة 1916 م مع بريطانيا عام :

3

1971 م

1972 م

1973 م

1974 م

صدر أول دستور قطري في شكل نظام أساسي عام :

4

1970 م

1971 م

1972 م

1973 م



تعليمات

عند الإجابة على الأسئلة من 05 إلى 07، اكتب إجابتك في الفراغ المخصص للإجابة:

		5
أ - ما النتائج المترتبة على تولي السلطان قابوس بن سعيد الحكم في سلطنة عُمان؟		
1-	.....	
2-	.....	
3-	.....	
ب - وضح ملامح تطور الحياة السياسية في الكويت بعد الاستقلال؟ الإجابة		
1-	.....	
2-	.....	
3-	.....	



6

أ - بم تفسر اتخاذ بريطانيا قرار الانسحاب من منطقة الخليج العربي؟

الإجابة

- 1- .....
- 2- .....
- 3- .....

ب - ما العوامل التي أدت إلى ضعف النفوذ البرتغالي في منطقة الخليج العربي؟

الإجابة

- 1- .....
- 2- .....
- 3- .....

ج - وضح الإجراءات التي اتخذتها بريطانيا لبسط نفوذها في منطقة الخليج العربي؟؟

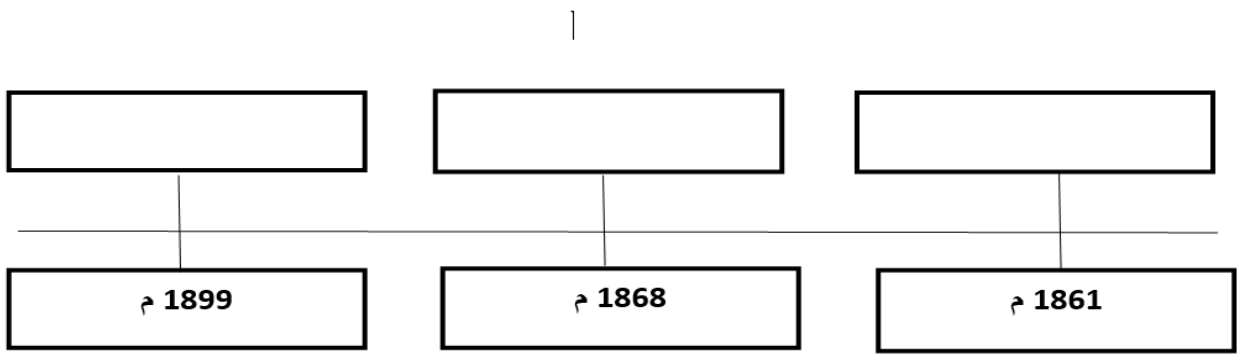
الإجابة

- 1- .....
- 2- .....
- 3- .....



7

5 -- رتب الأحداث التاريخية الآتية في معاهدات حكام وشيوخ الخليج مع بريطانيا ترتيباً زمنياً صحيحاً من الأقدم إلى الأحدث على الخط الزمني التالي:  
( معاهدة الحماية مع الكويت — معاهدة مع قطر — اتفاقية الصداقة )



الأحدث

الأقدم

ج - وضح ما تميزت به دولة قطر من تطورات إدارية في الفترة التاريخية من 1968 م الي 1971 م .

الإجابة

- 1- .....
- 2- .....
- 3- .....

مدرسة الأندلس الخاصة للبنات  
العام الأكاديمي 2025/2024  
اختبار منتصف الفصل الثاني



أوراق عمل إثرائية إجابتها  
الوحدة الأولى : الأنشطة الاقتصادية  
الوحدة الثانية : الوجود الأوروبي في الخليج العربي  
مادة الدراسات الاجتماعية  
الصف الثامن

اسم الطالبة/.....

الصف والشعبة /.....

## الوحدة الأولى (الأنشطة الاقتصادية)

السؤال الأول: الأسئلة الموضوعية:

اختر الإجابة الصحيحة:

1.1	أكثر دول العالم اجتذاباً للسياح :	
	تركيا	A
	فرنسا	B
	الصين	C
	المكسيك	D

1.2	أكثر جهات العالم استقبلاً للسياح قارة :	
	أوروبا	A
	إفريقيا	B
	أمريكا	C
	استراليا	D

1.3	أي من الآتي من أهداف السياحة المستدامة ؟	
	الوعي السياحي	A
	الاهتمام بالتجارة	B
	الاهتمام بالصناعة	C
	إدامة رضا السائح	D

1.4	أكثر دول العالم من حيث العائدات السياحية :	
	الهند	A
	روسيا	B
	تايلاند	C
	الولايات المتحدة	D

تعدد إجراءات تحقيق السياحة المستدامة ومنها :		1.5
حسن معاملة السياح	A	
إنشاء وزارة لحماية البيئة	B	
الاهتمام بالزراعة والصناعة	C	
تحديد القدرة الاستيعابية للمواقع السياحية	D	

تتمثل المقومات الطبيعية للسياحة في :		1.6
الموقع	A	
وسائل النقل	B	
البنية التحتية	C	
الأماكن التاريخية	D	

مدينة ديزني لاند في الولايات المتحدة من المناطق السياحية :		1.7
العلاجية	A	
الترفيهية	B	
الثقافية	C	
الطبيعية	D	

الأسئلة المقالية :-

اجب عن الأسئلة التالية:

السؤال الثاني

❖ ما المقصود بالسياحة ؟

.....  
.....

السؤال الثالث

❖ وضح أهمية السياحة .

1. ....
2. ....
3. ....

السؤال الرابع

❖ اذكر أهم المناطق السياحية في إسبانيا والولايات المتحدة الأمريكية.

1. ....
2. ....

السؤال الخامس

❖ اذكر المقومات الطبيعية للسياحة .

1. ....
2. ....
3. ....

السؤال السادس

❖ بم تفسر أسهمت المواصلات في نمو حركة السياحة ؟

1. ....
2. ....

السؤال السابع

❖ وضح جهود دولة قطر للنهوض بالسياحة .

1. ....
2. ....
3. ....

## الوحدة الثانية : الوجود الأوروبي في الخليج العربي

السؤال الأول: الأسئلة الموضوعية:

اختر الإجابة الصحيحة:

1.1	أسبق الدول الأوروبية التي وصلت إلى منطقة الخليج العربي:	
	A	فرنسا
	B	هولندا
	C	البرتغال
	D	بريطانيا

2.1	من القبائل العربية التي تصدت للاستعمار البرتغالي :	
	A	العمور
	B	اليعاربة
	C	عجمان
	D	بني فراس

3.1	أعلن الشيخ خليفة بن حمد آل ثاني إنهاء معاهدة 1916م مع بريطانيا عام :	
	A	1951م
	B	1970م
	C	1971م
	D	1981م

4.1	طرد الشيخ مهنا بن ناصر القاسمي من منطقة الخليج العربي :	
	A	الهولنديين
	B	البرتغاليين
	C	الفرنسيين
	D	البريطانيين

5.1		تولى السلطان قابوس بن سعيد الحكم عام :
1969م	A	
1970م	B	
1971م	C	
1973م	D	

6.1		قام باكتشاف طريق رأس الرجاء الصالح :
فرنسا	A	
اسبانيا	B	
البرتغال	C	
بريطانيا	D	

الأسئلة المقالية :-

اجب عن الأسئلة التالية:

السؤال الأول

❖ عدد القوى الدولية التي تنافست على منطقة الخليج العربي .

1. ....
2. ....
3. ....

السؤال الثاني

❖ ما أسباب ضعف النفوذ البرتغالي في الخليج العربي ؟

1. ....
2. ....
3. ....

السؤال الثالث

❖ ما القبيلة التي تصدت للاستعمار البرتغالي في منطقة الخليج العربي ؟

.....

السؤال الرابع

❖ بم تفسر انسحاب بريطانيا من منطقة الخليج العربي؟

1. ....
2. ....
3. ....

السؤال الخامس

❖ اذكر اسم الحاكم الذي تم في عهده انتهاء معاهدة 1916م بين بريطانيا وقطر.

.....

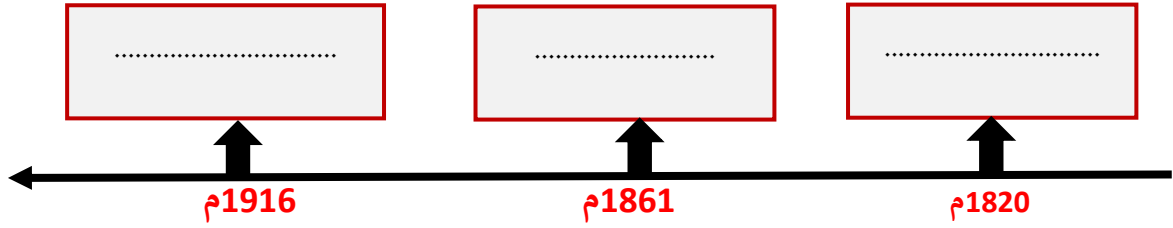
السؤال السادس

❖ قارن بين الكويت وعمان من حيث التطورات السياسية

عمان	الكويت	
.....		الشبه
.....	.....	الاختلاف

### السؤال السابع

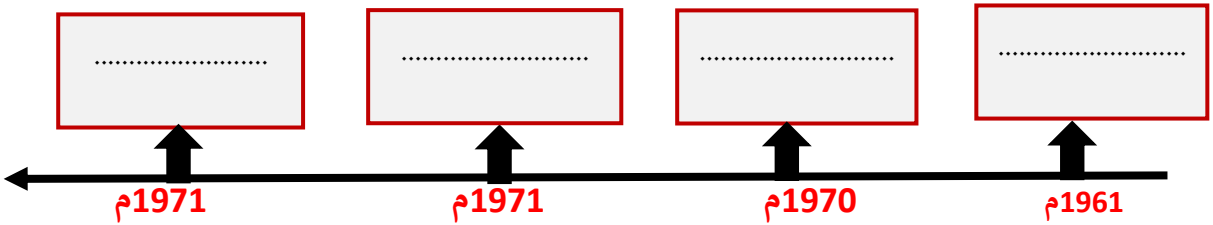
❖ رتب على الخط الزمني المعاهدات التي عقدها بريطانيا مع شيوخ الخليج العربي.  
( معاهدة الحماية مع قطر - المعاهدة العامة - اتفاقية الصداقة )



### السؤال الثامن

❖ رتب على الخط الزمني استقلال دول الخليج العربي.

( عمان - قطر - البحرين - الكويت )



المادة:- الدراسات الاجتماعية ( التعلم بالأهداف – مقومات السياحة ) التاريخ:- / 1 / 2025 م  
اسم الطالب :-..... الصف :- الثامن /.....

أجب عما يلي: -

- اختر الإجابة الصحيحة بوضع علامة  في المربع المقابل لها: -

أ) تُعد من المقومات الطبيعية للسياحة:

الأمّن.

النقل .

الموقع .

الخدمات .

ب) تتمثل المقومات البشرية للسياحة في:

اعتدال المناخ .

تنوع اشكال السطح .

الموقع المتميز .

الأماكن الدينية والتاريخية .

ج) أكثر دول العالم اجتذاباً للسياح :

فرنسا .

الصين .

إسبانيا .

الولايات المتحدة الامريكية .

رؤية الوزارة: متعلم ريادي لتنمية مستدامة

رسالة الوزارة: تُرسي بيئة تعليمية شاملة ومبتكرة لتعزيز القيم والأخلاق وتؤهل المتعلم بمهارات عالية؛ لإعداد جيلٍ واعٍ قادرٍ على بناء مجتمع متقدم واقتصاد مزدهر



التاريخ:- / 1 / 2025 م  
الصف :- الثامن / .....

المادة:- الدراسات الاجتماعية ( التعلم بالأهداف - مقومات السياحة )  
اسم الطالب :- .....

أكثر قارات العالم استقبالا للسياح :

د

آسيا.

أوروبا.

أفريقيا .

أستراليا.



رؤية الوزارة: متعلم ريادي لتنمية مستدامة

رسالة الوزارة: نُرسِي بيئة تعليمية شاملة ومبتكرة لتعزيز القيم والأخلاق وتؤهل المتعلم بمهارات عالية؛ لإعداد جيلٍ واعٍ قادرٍ على بناء مجتمع متقدم واقتصاد مزدهر



المادة:- الدراسات الاجتماعية ( التعلم بالأهداف – مقومات السياحة ) التاريخ:- / 1 / 2025 م  
اسم الطالب :-..... الصف :- الثامن /.....

1- يُسهم الموقع الجغرافي المتميز برواج السياحة ، برهن على ذلك .

---

---

---

2- أسهمت المواصلات في نمو حركة السياحة . وضح ذلك .



---

---

---

3- وضح العلاقة بين الاستقرار الأمني وقيام السياحة .

---

---

---

4- تبذل دولة قطر جهودا كبيرة لتنمية النشاط السياحي ، دلل على صحة هذه العبارة .

---

---

---

5- وضح دور الفرد بالمحافظة على الموقع السياحي .

---

---

---

رؤية الوزارة: متعلم ريادي لتنمية مستدامة

رسالة الوزارة: نُرسِي بيئة تعليمية شاملة ومبتكرة لتعزيز القيم والأخلاق وتؤهل المتعلم بمهارات عالية؛ لإعداد جيلٍ واعٍ قادرٍ على بناء مجتمع متقدم واقتصاد مزدهر



التاريخ:- / 1 / 2025 م

المادة:- الدراسات الاجتماعية

اسم الطالب :-..... الصف :- الثامن /.....

### ورقة عمل: مقومات السياحة 4

المستوى ( C ) : أعلى زوار من خارج مجلس التعاون الخليجي لدولة قطر لعام 2018 م :

أمريكا

المملكة المتحدة

الهند

المستوى ( B ) : عدد واجبات الفرد في المحافظة على المواقع السياحية :



.....-1

.....-2

.....-3

المستوى ( A ) : وضع جهود دولة قطر للنهوض بالسياحة :



.....-1

.....-2

.....-3

رؤية الوزارة: متعلم ريادي لتنمية مستدامة

رسالة الوزارة: نُرسِي بيئة تعليمية شاملة ومبتكرة لتعزيز القيم والأخلاق وتؤهل المتعلم بمهارات عالية: لإعداد جيلٍ واعٍ قادرٍ على بناء مجتمع متقدم واقتصاد مزدهر



التاريخ:- / 1 / 2025 م

المادة:- الدراسات الاجتماعية

اسم الطالب :-..... الصف :- الثامن /.....

## ورقة عمل: السياحة ج 1

المستوى ( C ) : " انتقال الفرد من مكان لآخر بهدف الترفيه والاكتشاف " يشير التعريف السابق الى مفهوم :

التنمية المستدامة

السياحة المستدامة

السياحة

المستوى ( B ) : عدد أكثر ثلاثة دول في العالم من حيث العائدات السياحية لعام 2018 م :



.....-1

.....-2

.....-3

المستوى ( A ) : دال على أهمية السياحة في دعم الاقتصاد الوطني :

.....-1

.....-2

.....-3



رؤية الوزارة: متعلم ريادي لتنمية مستدامة

رسالة الوزارة: تُرسي بيئة تعليمية شاملة ومبتكرة لتعزيز القيم والأخلاق وتؤهل المتعلم بمهارات عالية؛ لإعداد جيلٍ واعٍ قادرٍ على بناء مجتمع متقدم واقتصاد مزدهر