



الوحدة: الطلاقة في طرح الأعداد حتى 100 (الوحدة السادسة)

الأسئلة الموضوعية:

تعليمات: اختر الإجابة الصحيحة لكل من الأسئلة من 1 إلى 6، وذلك بوضع علامة × داخل المربع المجاور للإجابة الصحيحة:

السؤال (1)	رقم الصفحة: 12	المعيار: 2.2.1
أي الجمل التالية تحتاج لإعادة التجميع؟		
A	$29 - 3 = \dots\dots$	
B	$55 - 9 = \dots\dots$	
C	$76 - 1 = \dots\dots$	

السؤال (2)	رقم الصفحة: 11	المعيار: 2.2.1
أوجد ناتج طرح الجملة التالية: $66 - 9 = \dots\dots$		
A	33	
B	37	
C	57	

السؤال (3)	رقم الصفحة: 42	المعيار: 2.2.4
<p>قطفت سعاد 41 ليمونة من بستان. بقيت 33 ليمونة. ما عدد ثمار الليمون التي كانت في البستان منذ البداية؟</p>		
A	8	
B	18	
C	28	

السؤال (4)	رقم الصفحة: 17	المعيار: 2.2.1
<p>أوجد ناتج طرح الجملة التالية: $85 - 3 = \dots$</p>		
A	28	
B	82	
C	88	

السؤال (5)	رقم الصفحة: 17	المعيار: 2.2.1
<p>أوجد ناتج طرح الجملة التالية: $76 - 39 = \dots$</p>		
A	37	
B	43	
C	73	

السؤال (6)		رقم الصفحة: 36	المعيار: 2.2.1
<p>ما هي جملة الجمع المناسبة للتحقق من جملة الطرح التالية؟</p> $54 - 32 = \dots$			
A	$22 + 32 = 54$		
B	$23 + 32 = 54$		
C	$22 + 54 = 32$		

الأسئلة المقالية:

تعليمات: عند الإجابة على الأسئلة من 7 إلى 12، اكتب إجاباتك في المساحات المخصصة لذلك.

السؤال (7)	رقم الصفحة: 6	المعيار: 2.2.4
يوجد 34 فراشة في الحديقة. غادرت 6 فراشات. كم فراشة بقيت في الحديقة؟		
وضح عملك هنا		

السؤال (8)	رقم الصفحة: 13	المعيار: 2.2.1
أوجد ناتج جملة الطرح التالية. ارسم النماذج لتوضيح عملك.		
<div><div><div>عَشْرَات</div><div>آخَاذ</div><div><div></div><div>2</div></div><div><div>6</div><div>7</div></div></div><div><div></div><div></div></div></div> <div><div>عَشْرَات</div><div>آخَاذ</div><div><div></div><div></div></div><div><div></div><div></div></div></div>		

المعيار: 2.2.4	رقم الصفحة: 20	السؤال (9)				
<p>قرأ محمد 5 صفحات. يحتوي كتابه على 31 صفحة. كم صفحة بقيت لينتهي أحمد من قراءة كتابه؟</p> <div style="display: flex; align-items: center; margin-top: 20px;"> <table border="1" style="border-collapse: collapse; text-align: center;"> <tr> <th style="width: 50%; background-color: #92d050;">عَشْرَات</th> <th style="width: 50%; background-color: #92d050;">آخَاذ</th> </tr> <tr> <td style="height: 150px; vertical-align: top;"> <div style="border: 1px solid black; width: 60px; height: 40px; margin: 10px auto;"></div> </td> <td style="height: 150px; vertical-align: top;"> <div style="border: 1px solid black; width: 60px; height: 40px; margin: 10px auto;"></div> </td> </tr> </table> <div style="margin-left: 20px; align-self: center;"> <div style="border-bottom: 1px solid black; width: 100px; height: 10px;"></div> </div> </div>			عَشْرَات	آخَاذ	<div style="border: 1px solid black; width: 60px; height: 40px; margin: 10px auto;"></div>	<div style="border: 1px solid black; width: 60px; height: 40px; margin: 10px auto;"></div>
عَشْرَات	آخَاذ					
<div style="border: 1px solid black; width: 60px; height: 40px; margin: 10px auto;"></div>	<div style="border: 1px solid black; width: 60px; height: 40px; margin: 10px auto;"></div>					

المعيار: 2.2.4	رقم الصفحة: 30	السؤال (10)				
<p>لدى سعيد 58 كرة زجاجية.. ولدى أحمد 25 كرة زجاجية. كم كرة زجاجية لدى سعيد أكثر مما لدى أحمد؟</p> <div style="display: flex; align-items: center; margin-top: 20px;"> <div style="margin-right: 20px;">(</div> <table border="1" style="border-collapse: collapse; text-align: center;"> <tr> <th style="width: 50%; background-color: #92d050;">عَشْرَات</th> <th style="width: 50%; background-color: #92d050;">آخَاذ</th> </tr> <tr> <td style="height: 150px; vertical-align: top;"> <div style="border: 1px solid black; width: 60px; height: 40px; margin: 10px auto;"></div> </td> <td style="height: 150px; vertical-align: top;"> <div style="border: 1px solid black; width: 60px; height: 40px; margin: 10px auto;"></div> </td> </tr> </table> <div style="margin-left: 20px; align-self: center;"> <div style="border-bottom: 1px solid black; width: 100px; height: 10px;"></div> </div> </div>			عَشْرَات	آخَاذ	<div style="border: 1px solid black; width: 60px; height: 40px; margin: 10px auto;"></div>	<div style="border: 1px solid black; width: 60px; height: 40px; margin: 10px auto;"></div>
عَشْرَات	آخَاذ					
<div style="border: 1px solid black; width: 60px; height: 40px; margin: 10px auto;"></div>	<div style="border: 1px solid black; width: 60px; height: 40px; margin: 10px auto;"></div>					

السؤال (11)	رقم الصفحة: 37	المعيار: 2.2.4
<p>أوجد ناتج الطرح ثم تحقق من الناتج باستعمال الجمع.</p> $\begin{array}{r} 86 \\ - 9 \\ \hline \end{array} \qquad \begin{array}{r} + \\ \hline \end{array}$		

السؤال (12)	رقم الصفحة: 41	المعيار: 2.2.4
<p>عد ماجد 33 حبة برتقال في متجره. باع منها 17 حبة. ثم اشترى 16 حبة برتقال أخرى. ما عدد حبات البرتقال لدى ماجد الان؟</p>		
<p>وضح عملك هنا</p> <div style="display: flex; justify-content: space-around;"> <div style="text-align: center;"> <p>الخطوة 2</p> <p>_____ ○ _____ = _____</p> </div> <div style="text-align: center;"> <p>الخطوة 1</p> <p>_____ ○ _____ = _____</p> </div> </div>		

الوحدة: التعامل مع النقود والوقت (الوحدة السابعة)


الأسئلة الموضوعية:


تعليمات: اختر الإجابة الصحيحة لكل من الأسئلة من 1 إلى 6، وذلك بوضع علامة × داخل المربع المجاور للإجابة الصحيحة:


السؤال (1)	رقم الصفحة: 73	المعيار: 2.3.1
ما القيمة الكلية للعملات المعدنية التالية؟		
		
A	25 درهم	
B	50 درهم	
C	75 درهم	

السؤال (2)	رقم الصفحة: 79	المعيار: 2.3.1
ما القيمة الكلية للأوراق النقدية التالية؟		
		
A	QR 21	
B	QR 27	
C	QR 23	

المعيار: 2.3.1	رقم الصفحة: 86	السؤال (3)
<p>توضح الأوراق النقدية التالية المبلغ الذي ادخره عماد.</p> <div data-bbox="199 481 1404 622">  </div> <p>ما المبلغ الذي ادخره عماد؟</p>		
A	QR 56	
B	QR 65	
C	QR 66	

المعيار: 2.6.1	رقم الصفحة: 101	السؤال (4)
<div data-bbox="363 1193 778 1406">  </div> <p>ما هو الوقت الممثل في ساعة العقارب؟</p>		
A	11:02	
B	02:55	
C	11:10	

المعيار: 2.6.1	السؤال (5) رقم الصفحة: 106
<p>اختر الطريقة الصحيحة لقراءة الوقت في الساعة التالية:</p> 	
A	الساعة 5 والربع
B	الساعة 4 والربع
C	الساعة 5 إلا ربع

المعيار: 2.6.1	السؤال (6) رقم الصفحة: 113
<p>اختر الطريقة الصحيحة لقراءة الوقت في الساعة التالية:</p> <p>أستقل الحافلة من المدرسة إلى المنزل</p> 	
A	01:45 a.m.
B	12:45 a.m.
C	12:45 p.m.

الأسئلة المقالية:


تعليمات: عند الإجابة على الأسئلة من 7 إلى 13، اكتب إجاباتك في المساحات المخصصة لذلك.


السؤال (7)	رقم الصفحة: 72	المعيار: 2.3.1
<p>أعطى عبد الله ابنه النقود المبينة أدناه. ما القيمة الكلية لهذه النقود؟</p> <div></div> <p>_____ دِرْهَمًا</p>		


السؤال (8)	رقم الصفحة: 78	المعيار: 2.3.2
<p>في محفظة حمد 3 من الأوراق النقدية من فئة 10 QR و 1 من الأوراق النقدية من فئة 5 QR و 4 من الأوراق النقدية من فئة 1 QR. ما المبلغ الذي ليه؟ وضح عملك بالرسم.</p> <div><p>وضح عملك هنا</p><div></div></div>		

السؤال (9)	رقم الصفحة: 83	المعيار: 2.3.2
<p>لدى راشد QR 67 في محفظته.</p> <p>ارسم أقل عدد من الأوراق النقدية التي يمكن أن تكون لدى راشد</p> <div style="border: 1px solid black; height: 150px; width: 100%; position: relative;"> <div style="position: absolute; top: 10px; right: 10px;">وضح عملك هنا</div> </div>		

السؤال (10)	رقم الصفحة: 89	المعيار: 2.3.2
<p>يبلغ سعر حقيبة QR 79.</p> <p>لدى زينب 1 من الأوراق النقدية من فئة QR 50.</p> <p>و 2 من الأوراق النقدية من فئة QR 10.</p> <p>ما المبلغ الإضافي الذي تحتاجه زينب لشراء الحقيبة؟</p> <div style="border: 1px solid black; height: 150px; width: 100%; position: relative;"> <div style="position: absolute; top: 10px; right: 10px;">وضح عملك هنا</div> </div>		

السؤال (11)	رقم الصفحة: 102	المعيار: 2.6.2
<p>انظر إلى الوقت المبين في ساعة العقارب. كم سيصبح الوقت بعد 5 دقائق؟ اكتب الوقت على الساعة الرقمية.</p>		
		

السؤال (12)	رقم الصفحة: 107	المعيار: 2.6.2
<p>كم سيكون الوقت بعد 15 دقيقة؟ اكتب الوقت بطريقتين مختلفتين.</p>		
 <div style="margin-left: 400px;"> <hr/> <hr/> </div>		

السؤال (13)	رقم الصفحة: 113	المعيار: 2.6.2
<p>حدد الوقت بكتابته في الساعة الرقمية ثم اختار (a.m. أو p.m.) أقرأ في كتاب قبل النوم</p>		
		
<div style="display: flex; justify-content: space-around; align-items: center;"> <div style="text-align: center;"> a.m. </div> <div style="text-align: center;"> p.m. </div> </div>		