




الوحدة: السادسة اسم الوحدة: الطلاقة في طرح الأعداد حتى 100 (6)

الأسئلة الموضوعية:

تعليمات: اختر الإجابة الصحيحة لكل من الأسئلة من إلى ، وذلك بوضع علامة × داخل المربع المجاور للإجابة الصحيحة:

السؤال (1)		رقم الصفحة:5..... المعيار: 2,2,2-2,21
أي من التالي يحتاج إلى إعادة تجميع؟		
A	37-5	
B	24-7	
C	29-6	

السؤال (2)		رقم الصفحة:11..... المعيار: ..2,2,4-2,2,1
أي من الجمل العددية التالية يمثلها الرسم المجاور؟		
		
A	32-5	
B	25-2	
C	23-4	

السؤال (3)		رقم الصفحة: 16 المعيار: 1-2,2,4-2,2,1...												
أي مما يلي ناتج طرح التدريب التالي؟														
<table><tr><th>عَشْرَات</th><th>آخَاذ</th></tr><tr><td><div></div></td><td><div></div></td></tr><tr><td>2</td><td>9</td></tr><tr><td></td><td>4</td></tr><tr><td colspan="2">-</td></tr><tr><td></td><td></td></tr></table>			عَشْرَات	آخَاذ	<div></div>	<div></div>	2	9		4	-			
عَشْرَات	آخَاذ													
<div></div>	<div></div>													
2	9													
	4													
-														
A	15													
B	35													
C	25													

الأسئلة المقالية:

تعليمات: عند الإجابة على الأسئلة من إلى ، اكتب إجاباتك في المساحات المخصصة لذلك.

السؤال (4)	رقم الصفحة: 15.... المعيار: 1-2,2,4-2,2,1...
------------	--

أوجد ناتج الطرح في كل مما يلي؟

عَشْرَات	آخَاذ
<input type="text"/>	<input type="text"/>
6	6
	9
<hr/>	
<input type="text"/>	<input type="text"/>

عَشْرَات	آخَاذ
<input type="text"/>	<input type="text"/>
6	3
	2
<hr/>	
<input type="text"/>	<input type="text"/>

المعيار: ...2,2,4-2,2,1 ..

رقم الصفحة: ...27.....

السؤال (5)

(A) أوجد ناتج الطرح

عَشْرَات	آخَاذ
<input type="text"/>	<input type="text"/>
8	5
4	6
<hr/>	
<input type="text"/>	<input type="text"/>

عَشْرَات	آخَاذ
<input type="text"/>	<input type="text"/>
7	6
2	8
<hr/>	
<input type="text"/>	<input type="text"/>

(B) أوجد ناتج الطرح

$$94 - 54$$

عَشْرَات	آخَاذ
<input type="text"/>	<input type="text"/>
<hr/>	
<input type="text"/>	<input type="text"/>

$$52 - 36$$

عَشْرَات	آخَاذ
<input type="text"/>	<input type="text"/>
<hr/>	
<input type="text"/>	<input type="text"/>

السؤال (6)	رقم الصفحة: ...15... المعيار: ...2,2,4-2,2,1...
------------	---

على الرف 67 كتاباً.
أخذ عماد 5 كتب منها.
كم كتاباً بقي على الرف؟

عَشْرَات	آخَاذ
<input type="text"/>	<input type="text"/>
<input type="text"/>	<input type="text"/>

كتاباً _____

السؤال (7)	رقم الصفحة:18..... المعيار: ...2,2,4-2,2,1...
------------	---

هناك 25 دراجة في أحد متاجر بيع الدراجات.
باع صاحب المتجر 7 دراجات منها.
ما عدد الدراجات المتبقية؟

عَشْرَات	آخَاذ
<input type="text"/>	<input type="text"/>
<input type="text"/>	<input type="text"/>

دراجة _____

السؤال (8)	رقم الصفحة:33..... المعيار: ...2,2,4-2,2,1...
------------	---

اشترى عبد الله صندوقاً فيه 96 مشبك ورق.
استعمل منها 34 مشبكاً.
كم مشبكاً بقي في الصندوق؟

وضح عملك هنا



_____ مشبك ورق

السؤال (9)

رقم الصفحة: 41..... المعيار: 2,2,4.

عد ماجد 44 حبة جوز تحت الشجرة في حديقته.
أخذ منها 27 حبة، ثم سقطت 16 حبة أخرى من الشجرة.
ما عدد حبات الجوز الموجودة تحت الشجرة الآن؟

وضح عملك هنا

الخطوة الأولى _____ = _____

الخطوة الثانية _____ = _____

الوحدة: السابعة اسم الوحدة التعامل مع النقود والوقت (7)


الأسئلة الموضوعية:

تعليمات: اختر الإجابة الصحيحة لكل من الأسئلة من إلى ، وذلك بوضع علامة × داخل المربع المجاور للإجابة الصحيحة:

السؤال (1)		رقم الصفحة: 70..... المعيار: 1,3,2-3,2...2,3...
عد تصاعدياً لإيجاد القيمة الكلية للعملات المعدنية؟		
		
A	50	
B	75	

C	100
---	-----

السؤال (2)		رقم الصفحة:70.... المعيار: 2,2,4-2,2,1....
عد تصاعدياً لإيجاد القيمة الكلية للعملات المعدنية؟		
		
A	2 ريال	
B	3 ريال	
C	5 ريال	

السؤال (3)		رقم الصفحة: ...75... المعيار: 2,3,2-2,3,1....
ما القيمة الكلية للأوراق النقدية:		
		
A	20 ريال	
B	25 ريال	
C	30 ريال	

السؤال (4)		رقم الصفحة:75.... المعيار: 2,3,2-2,3,1.....
------------	--	--

ما القيمة الكلية للأوراق النقدية:



A	25 ريال
B	30 ريال
C	35 ريال

السؤال (5)		رقم الصفحة: 99 المعيار: 2,6,2-2,6,1.....
ما الوقت الذي تشير اليه الساعة؟		
A	10:20	
B	11:10	
C	11:30	

السؤال (6)		رقم الصفحة: 111.. المعيار: 2,6,2-2,6,1::
استقل الحافلة إلى المدرسة؟		
A	صباحًا	

B	مساءً
C	عصرًا

الأسئلة المقالية:

تعليمات: عند الإجابة على الأسئلة من إلى ، اكتب إجاباتك في المساحات المخصصة لذلك.

السؤال (7)	رقم الصفحة: ...70... المعيار: 2,3,3-2,3,1
<p>في حصة علياء العملات المعدنية المبينة أدناه. ما المبلغ الذي لدى علياء؟</p> <p>وضح عملك هنا</p> <div style="text-align: center;">  </div> <p style="text-align: center;">_____</p> <p style="text-align: center;">دِرْهَم</p>	

السؤال (8)	رقم الصفحة: ...75... المعيار: 1, 2, 3, 2, 3, 2, 1.....
أكتب القيمة الكلية للمبلغ أدناه.	
<div></div>	
ريال _____	

السؤال (9)	رقم الصفحة: ...85... المعيار: 1, 2, 3, 2, 3, 2, 1..
------------	---

أعد تصاعديًا لإيجاد القيمة الكلية للأوراق النقدية.



ريال _____

السؤال (10)	رقم الصفحة: 84.. المعيار: 1, 2, 3, 2, 3, 2, 1.....
<p>لدى منال 50 QR.</p> <p>أعطتها أختها ورقة نقدية من فئة 10 QR</p> <p>و 2 QR من فئة 1 QR.</p> <p>كم من المال لدى منال؟</p> <p>QR _____</p>	

السؤال (11)	رقم الصفحة: ...101... المعيار: 2,6,2-2,6,1.....
-------------	---

أحدد الوقت المناسب برسم العقارب أو كتابة الأرقام بحيث تظهر كلتا الساعتين بنفس الوقت.









السؤال (12)	رقم الصفحة: ...107... المعيار: 2,6,2-2,6,1.....
-------------	---



أحدد الوقت المناسب برسم العقارب أو كتابة الأرقام بحيث تظهر كلتا الساعتين بنفس الوقت ثم أحوط p.m أو a.m.

أَسْتَحِمُّ وَأَزْتَدِي مَلَابِيسِي
قَبْلَ تَنَاوُلِ الْإِفْطَارِ

a.m. p.m.

أَنْظِفُ أَشْنَانِي كُلَّ لَيْلَةٍ

a.m. p.m.