



الأختبار النهائي (الوحدة السادسة)



2 الصف الثاني



الدراسات الاجتماعية



للمزيد من الملفات عبر موقعنا الإلكتروني

www.jnob-jo.com





السؤال الأول (أ) : . من خلال دراستك لدرس (كوكبنا الأزرق) أضع دائرة حول رمز الإجابة الصحيحة

1- مساحة واسعة من اليابسة

أ. المحيط ب. القارة ج. كوكب الأرض د. الأردن

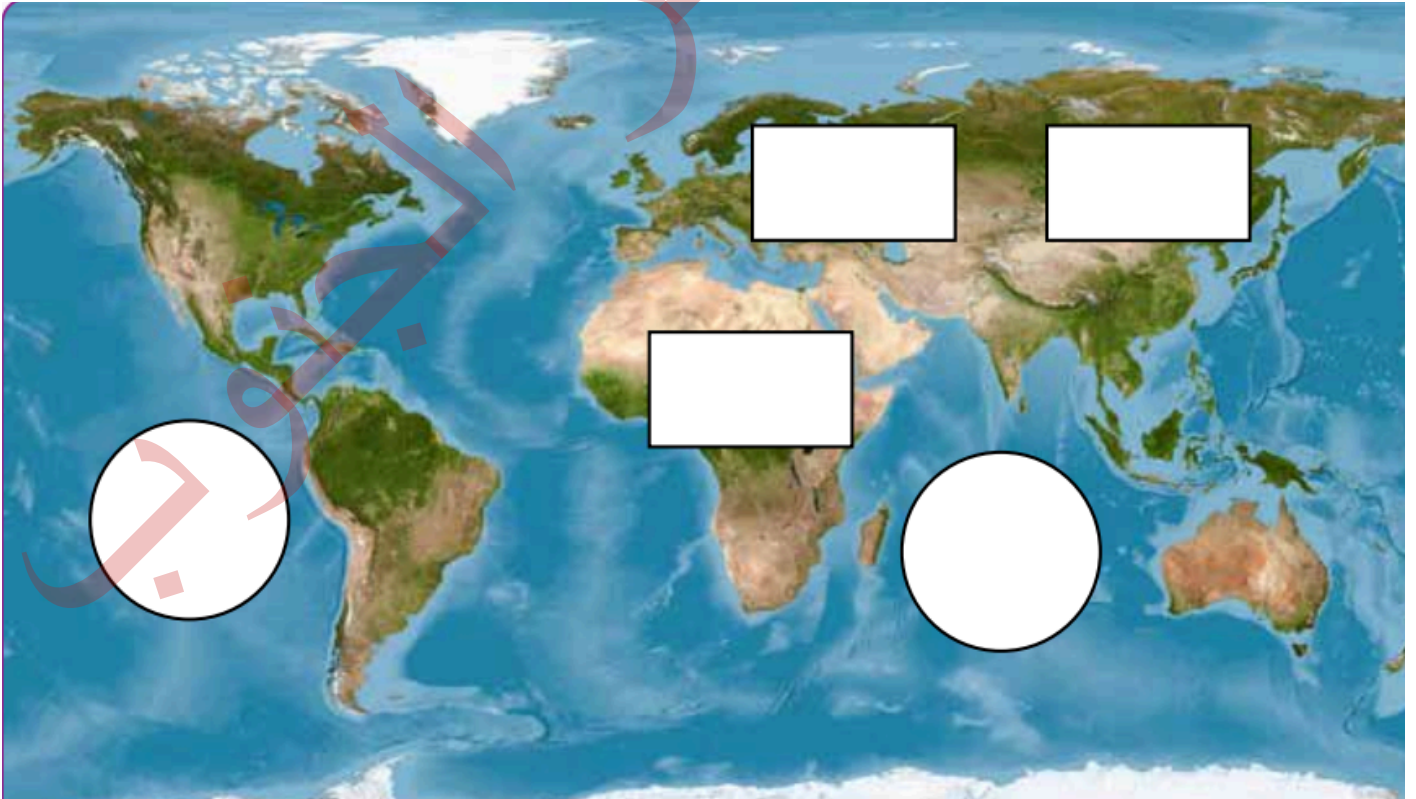
2- عدد المحيطات في الأرض

أ. ٧ ب. ٦ ج. ٥ د. ٤

3- يقع وطني الأردن في قارة:

أ. اسيا ب. أوروبا ج. إفريقيا د. استراليا

السؤال الأول (ب) : . من خلال دراستك لدرس (كوكبنا الأزرق) أكتب في المربع اسم القارة
و في الدائرة أسماء المحيطات التي تمثلها في ما يأتي





لسؤال الثاني : . من خلال دراستك لدرس (أشكال سطح الأرض) أصنف أشكال سطح الأرض في وطني إلى يابسة وماء :

خليج العقبة

سهول إربد

البحر الميت

وادي رم

حمات ماعين

جبال عجلون

الماء

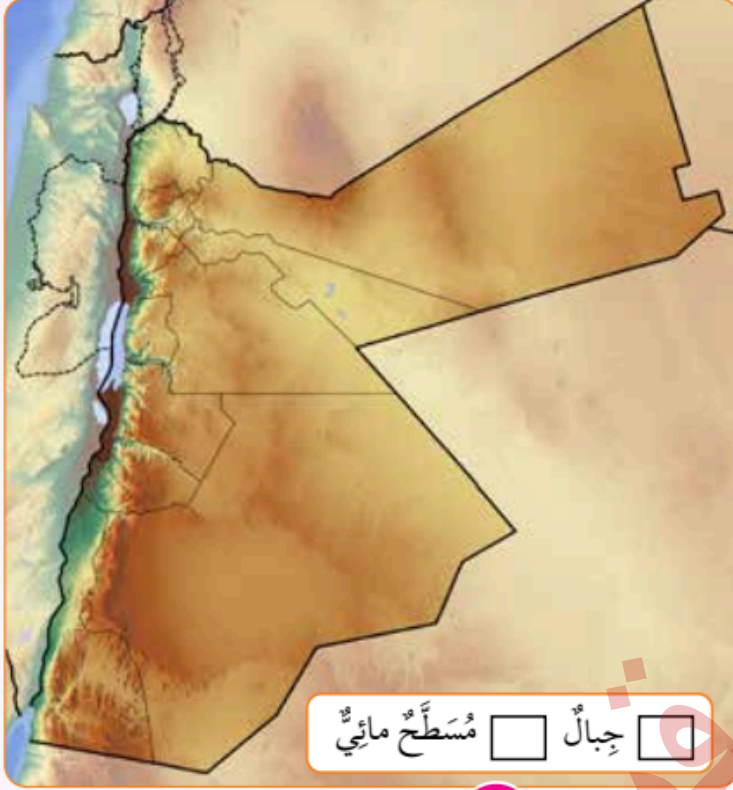
اليابسة

السؤال الثالث : . من خلال دراستك لدرس (خريطة وطني) بالرجوع الى الشكل المجاور أملأ الفراغ بالاستعانة بالكلمات الآتية :





مفتاح الخريطة - عنوان الخريطة



أ- يمثل الرقم (1)

ب- يمثل الرقم (2)

2 خريطة الأردن

انتهت الأسئلة أتمنى لكم النجاح والتوفيق

اعداد: أ. منصور السوالقة

الأجابات النموذجية



2024-2025

الاختبار النهائي لمادة الدراسات الاجتماعية
الصف الثاني الفصل الثاني
اليوم: التاريخ:



مديرية التربية والتعليم لمنطقة/.....
مدرسة.....
اسم الطالب/ة.....
مدة الامتحان : . حصة صفية

السؤال الأول (أ) : . من خلال دراستك لدرس (كوكبنا الأزرق) أضع دائرة حول رمز الإجابة الصحيحة

1- مساحة واسعة من اليابسة

أ. المحيط ج. كوكب الأرض د. الأردن

2- عدد المحيطات في الأرض

أ. ٧ ب. ٦ ج. ٥ د. ٤

3- يقع وطني الأردن في قارة:

أ. اسيا ب. أوروبا ج. إفريقيا د. استراليا

السؤال الأول (ب) : . من خلال دراستك لدرس (كوكبنا الأزرق) أكتب في المربع اسم القارة
وفي الدائرة أسماء المحيطات التي تمثلها في ما يأتي





لسؤال الثاني : . من خلال دراستك لدرس (أشكال سطح الأرض) أصنف أشكال سطح الأرض في وطني إلى يابسة وماء :

خليج العقبة

سهول إربد

البحر الميت

وادي رم

حمات ماعين

جبال عجلون

الماء

اليابسة

البحر الميت

جبال عجلون

خليج العقبة

سهول إربد

حمات ماعين

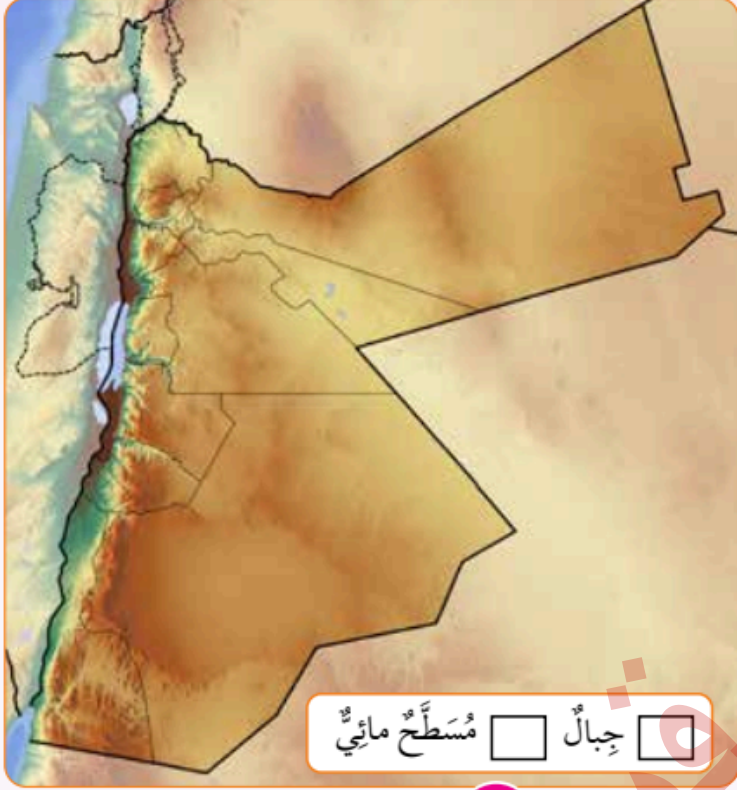
وادي رم

لسؤال الثاني : . من خلال دراستك لدرس (خريطة وطني) بالرجوع الى الشكل المجاور أملأ الفراغ بالاستعانة بالكلمات الآتية :





مفتاح الخريطة - عنوان الخريطة



أ- يمثل الرقم (1) مفتاح الخريطة

ب- يمثل الرقم (2) عنوان الخريطة

2 خريطة الأردن

لمزيد من ملفات الصف الثاني مادة الدراسات الاجتماعية

انقر هنا



جميع الحقوق محفوظة © منتديات صقر الجنوب

